

# تلوث التربة

من أبرز مشكلات البيئة وأكثرها تعقيدا وأصعبها حلا مشكلة تلوث التربة ومياه البحار والأنهار والبحيرات والمياه الجوفية ، وينتج هذا التلوث من نفايات ومخلفات المصانع ، وعن استعمال المواد الكيميائية ، مثل مبيدات الآفات والأسمدة الصناعية في الزراعة ، كما ينتج عن نفايات مخلفات المنازل والمباني والمنشآت الأخرى.

وتزداد مشكلة هذا التلوث بزيادة إنتاج المواد الكيميائية واستخدامها في الصناعة ، حيث يؤدي التخلص من هذه المواد إلى تلوث التربة والماء ، ويزداد حجم مشكلة التلوث من الصناعة حينما يكون هناك إهمال أو عدم اهتمام بالتخلص من مخلفات المصانع الكيميائية بالوسائل التي تحافظ على التربة والماء من التلوث ، ففي عمليات صهر النحاس الخام مثلا ، يتسرب عنصر الزرنيخ السام والمختلط بالمعدن الخام إلى التربة والماء ، إذا لم يكن هناك إجراءات دقيقة لمنع تسرب الزرنيخ إلى التربة والماء . وتزداد نسبة الرصاص في التربة ومصادر الماء القريبة من طرق النقل السريع ، وذلك بسبب وجود مركبات الرصاص في جازولين السيارات ، حيث تخرج هذه المركبات مع عوادم السيارات لتلوث التربة والمياه القريبة من الطرق.

**وهو التلوث الذي يصيب الغلاف الصخري والقشرة العلوية للكرة الأرضية والذي يعتبر الحلقة الأولى والأساسية من حلقات النظام البيئي، وتعتبر أساس الحياة وسر ديمومتها. ولا شك أن الزيادة السكانية الهائلة التي حدثت في السنوات القليلة الماضية أدت إلى ضغط شديد على العناصر البيئية. تعتبر التربة ملوثة باحتوائها على مادة أو مواد بكميات أو تركيزات على غير العادة فتسبب خطر على صحة الإنسان والحيوان والنبات أو المنشآت الهندسية على حساب الاراضي الزراعية أو المياه السطحية والجوفية ويعتبر من أبرز مشكلات البيئة وأكثرها تعقيدا وأصعبها حلا**

**تلوث التربة:** تعتبر التربة ملوثة بإحتوائها على مادة أو مواد بكميات أو تركيزات على غير العادة فتسبب خطر على صحة الإنسان والحيوان والنبات أو المنشآت الهندسية أو المياه السطحية والجوفية.



**الحفر يبين تلوث التربة في مصنع غازات صناعية مهجور**

**تلوث التربة:** تغيير خصائص التربة الطبيعية والكيميائية والبيولوجية عن طريق إضافة مواد إليها أو نزع مواد منها

إن التلوث هو تواجد أى مادة من المواد الملوثة فى البيئة بكميات تؤدى بطريق مباشر أو غير مباشر وبمفردها أو بالتفاعل مع غيرها إلى الإضرار بالصحة ، أو تسبب فى تعطيل الأنظمة البيئية حيث قد تتوقف تلك الأنظمة عن أداء دورها الطبيعي على سطح الكرة الأرضية. وتعتبر التربة ملوثة بإحتوائها على مادة أو مواد بكميات أو تركيزات مسببة خطر على صحة الإنسان أو الحيوان أو على النبات، أو المنشآت الهندسية أو المياه السطحية أو الجوفية.

قد ساهم الإنسان فى تلوث محيطه منذ القدم ولم يهتم بهذه المشكلة فى تلك الآونة وذلك بسبب التعداد السكاني البسيط ، ولكن مع زيادة تعداد السكان وتناقص إنتاجية الأرض بسبب تلوث التربة مما ساهم فى تدني مستوى المعيشة

فالتربة التي تعتبر مصدر اللّخير والثمارهى من أكثرالعناصر التي يسئ الإنسان استخدامها فى هذه البيئة. فهو قاسمعليها لا يدرك مدى أهميتها

فهي مصدر الغذاء الأساسيله ولعائلته، وينتج عن عدم الوعي والإدراك لهذه الحقيقة إهماله لها.

## من أسباب تدهور التربة نذكر:

- ملوحة التربة والتشبع بالمياه، فالاستخدام المفرط لمياه الري مع سوء الصرف الصحي يؤدي إلى الإضرار بالتربة.
- وجود ظاهرة التصحر، ويساعد في هذه العملية عدم سقوط الأمطار والرياح النشطة التي تعمل على زحف الرمال إلى الأراضي الزراعية.
- انجراف الطبقة السطحية من الترب بفعل السيول أو الإنسان.
- استخدام المبيدات والكيماويات على نحو مفرط.
- التوسع العمراني الذي أدى إلى تجريف وتبوير الأراضي الزراعية.
- التلوث بواسطة المواد المرسبة من الهواء الجوي في المناطق الصناعية.
- التلوث بواسطة المواد المشعة.
- التلوث بالمعادن الثقيلة.
- التلوث بواسطة الكائنات الحية.
- التلوث بواسطة مواد مسرطنة كالأسبستوس وبعض المركبات العضوية
- التسرب من الخزانات والأنابيب مثل أنابيب الصرف وغيرها ؛
- استعمال بعض المواد الكيميائية الخطرة
- إن التلوث هو تواجد أى مادة من المواد الملوثة فى البيئة بكميات تؤدى بطريقة

مباشرة أو غير مباشرة وبمفردها أو بالتفاعل مع غيرها إلى الإضرار بالصحة ،

أو تسبب فى تعطيل الأنظمة البيئية حيث قد تتوقف تلك الأنظمة عن أداء دورها

الطبيعي على سطح الكرة الأرضية. وتعتبر التربة ملوثة باحتوائها على مادة

أو مواد بكميات أو تركيزات مسببة خطر على صحة الإنسان أو  
الحيوان

.أو على النبات، أو المنشآت الهندسية أو المياه السطحية أو الجوفية

قد ساهم الإنسان في تلوث محيطه منذ القدم ولم يهتم بهذه المشكلة  
في تلك

الآونة وذلك بسبب التعداد السكاني البسيط ، ولكن مع زيادة تعداد  
السكان

وتناقص إنتاجية الأرض بسبب تلوث التربة مما ساهم في تدني  
مستوى المعيشة ،

وفي هذا المقال سوف أسلط الضوء على تلوث التربة وأسبابه  
وطرق معالجته

وإن موضوع التلوث قد إكتسب أهمية بظهور أنواع جديدة من  
الملوثات الغير

معروفة في السابق مثل العديد من المواد الغير قابلة للتحلل إضافة  
إلى النفايات

النوية وغيرها من المواد . **ومن أهم مصادر تلوث التربة**  
**(...صناعية ، زراعية ، )**

نذكر منها: الطرق والمطارات، نواتج المجازر ومصانع الألبان،

## مصانع

الأسبيستوس، مصانع الاسمنت، المصانع الكيميائية والمستشفيات،  
الأعمال

الهندسية، مصانع الزجاج، مصانع الألياف الزجاجية، مصانع  
المعادن، مصانع

تكرير الزيوت النفطية، معامل التصوير، محطات الكهرباء، المطابع،  
مصانع

الورق، محطات الوقود والورش، مصانع النسيج، مخلفات حفر آبار  
النفط،

الأسمدة الكيميائية والمبيدات، الري بمياه رديئة، مياه الصرف  
الصحي والقمامة

## أهم المركبات الملوثة

المعادن السامة للنبات : الرصاص والكاديوم والزنك والزرنيق  
والزرنيخ

الملوثات العضوية : الزيوت والمذيبات والأسفلت والمركبات  
الفينولية

. الكبريتات والأحماض

. غازات سامة : الميثان وثاني أكسيد الكربون وكبريتيد الهيدروجين

مواد مسرطنة: الأسبيستوس وبعض المركبات العضوية والعناصر الثقيلة.

## أسباب تلوث التربة

. التسرب من الخزانات والأنابيب مثل أنابيب النفط ومنتجاته

. تخزين ونقل المواد الخام والنفايات

. انبعاث الملوثات من أماكن تجميعها إلى البيئة المحيطة بها

. انتقال المواد الملوثة مع مياه السيول أو المياه الجوفية

. انتقال الغازات الخطرة من المناطق المجاورة

:الأضرار الناجمة عن التربة الملوثة

**من أهم التأثيرات التي تنجم عن التربة الملوثة ما يلي**

التأثيرات الصحية وذلك من خلال ملامسة التربة الملوثة للجلد  
أو ابتلاع التربة

الملوثة أو شرب المياه التي قد يكون تسربت إليها الملوثات من  
التربة أو استنشاق

الغازات السامة والغبار الذي يحتوي على مواد ضارة أو تناول  
المنتجات الزراعية

. من المناطق الملوثة

**التأثيرات البيئية :** قد تسبب الملوثات فى تسمم النباتات والحيوانات والنظام البيئي ككل.

**التأثيرات الإقتصادية :** من أهم نتائج الأراضى الملوثة فقدان قيمتها وقد تتوقف

. عن الإنتاج الزراعي

## **التعامل مع الأراضى الملوثة**

يجب أن يكون ذلك وفق طرق معينة مثل نظم البيانات عن الأراضى الملوثة

إن توفر البيانات الجيدة هو أحد المتطلبات لأخذ القرار المناسب في تخطيط

إستعمال الأراضى الملوثة ، وإن تجميع البيانات يكون ذا أهمية حيث يشمل

## **النقاط التالية**

. التعرف على التأثيرات الصحية والبيئية وتقييمها

. تحديد أولويات العمل بالمناطق المتضررة

. تخطيط الإستعمال المستقبلي للأرض

. وضع خطة عمل للإستصلاح

. المساعدة فى تقييم الأراضي

ويجب أن تشمل تلك المعلومات الآتي: وصف الموقع، جيولوجية الموقع،

نوعية التربة، هيدرولوجية وهيدروجيولوجية الموقع. تاريخ الموقع والدراسات

السابقة والأعمال السابقة لمحاولة إستصلاح الموقع التعرف على نوعية الملوثات

وفي هذا الصدد يمكن الإستفادة من نظام البيانات الجغرافية بواسطة الحاسب الآلي

**تقييم الموقع :** إن تقييم مقدار التلوث ضروري لإتخاذ القرار السليم بشأن

الموقع الملوث، وعليه يجب أن تتوفر فيمن يقوم بعملية التقييم الخبرة الكافية ،

وإستخدام الإستراتيجيات المناسبة للمعالجة ، وإن خلاصة عمله وتوصياته



. تكون مدعمة بالبيانات التي يتم تجميعها أثناء الدراسة

**تطبيق المعايير:** يوجد العديد من المعايير لتلوث التربة  
بالمواد الملوثة حيث

يتم الإستناد إلى أحد تلك المعايير وتحديد التركيزات المسموح بها  
والتركيزات

.التي تشكل خطراً على البيئة

**استراتيجيات تقييم الموقع:** إن عملية تقييم الموقع يجب أن  
تأخذ في الحسبان

الخطر على الصحة والخطر على البيئة وإختيار نهج معين من خلال

. تحديد الخواص الطبيعية للتربة

. تحديد الملوثات وتوزيعها بالموقع

. تحديد مخاطر الملوثات على الصحة

وحتى يتم هذا العمل يجب أن يتضمن عمل مكتبي وإستكشافي  
للموقع ودراسة

. طبيعة الموقع وتقييم الخطر الناتج عن الملوثات

## إختيار برنامج إدارة الأراضي الملوثة

: ينتج عن تقييم الموقع فى العادة أحد القرارات الآتية

. أن الموقع مناسب للإستعمال الحالي والمقترح

أن الموقع غير مناسب للإستعمال الحالي أوالمقترح إلا بعد إجراء عمليات

.الإستصلاح المناسبة

. أن الموقع غير مناسب للإستعمال الحالي أو المقترح

## الإستصلاح

تتم عملية إستصلاح المواقع المتضررة بطرق عديدة مثل الطرق الهندسية والتي

تشملعلى جمع ودفن الملوثات بموقع آخر مناسب. التخلص من الملوثات فى

موضع يتم إعداده بالموقع وفق مواصفات معينة. عزل الموقع وذلك إما بعمل

. سياج حوله أو بعمل غطاء مناسب لمنع إنتقال الملوثات

## طرق الإستصلاح

**المعالجة الطبيعية :** غسيل التربة ، تبخير المواد الكيميائية المتطايرة ، الفصل بالجاذبية .

.المعالجة الحرارية: التبخر والحرق

**المعالجة الكيميائية :** تعديل درجة التفاعل ، الإختزال/الأكسدة ، التميؤ. التثبيت

بواسطة المعالجة الكيميائية، تكوين مركبات غير قابلة للذوبان.  
المعالجة الحيوية

ويستخدم لهذا الغرض البكتريا والفطريات. إن إختيار عملية الإستصلاح تعتمد

.على نوعية الملوثات وكمياتها

منع حدوث أي تلوث جديد :يجب على السلطات المحلية تنظيف الملوثات الموجودة

ومنع حدوث أي تلوث جديد وذلك من خلال

.التحكم في إدارة النفايات

السيطرة على العمليات الصناعية والتجارية ليس الحد من عمليات  
تصريف

المواد الصلبة والسائلة فقط ولكن القيام برصد والسيطرة على  
حوادث التصرف

مثل حدوث تسرب من خطوط وخزانات الوقود إلى المياه الجوفية (   
والتربة).

منع حدوث أي تلوث بالقرب من التجمعات السكانية وموارد مياه  
الشرب وذلك

بإختيار الأماكن المناسبة للتخلص من النفايات الصلبة والسائلة



**الآثار المترتبة عن تدهور التربة**

- التأثيرات الصحية وذلك من خلال ملامسة التربة الملوثة للجلد أو ابتلاع التربة الملوثة أو شرب المياه التي قد يكون تسربت إليها الملوثات من التربة أو إستنشاق الغازات السامة والغبار الذى يحتوي على مواد ضارة أو تناول المنتجات الزراعية من المناطق الملوثة.
- نقص المواد الغذائية اللازمة لبناء الإنسان ونموه، وعلى نحو أهم انها مسؤلة عن حياته على سطح الأرض.
- اختفاء مجموعات نباتية وحيوانية أو بمعنى آخر انقراضها.
- **مفهوم تلوث التربة الزراعية :**
- يتوقف التلوث بالتربة الزراعية على نوع التلوث ، صفات الأرض ، الظروف المناخية والعوامل الطبيعية. وقد يكون بصورة فورية مثل الزلازل والبراكين أو بصورة تدريجية مثل استخدام المبيدات والأسمدة المعدنية وإعادة استخدام المياه العادمة فى رى الأراضى.
- - الملوثات التى تختلط بالتربة الزراعية تفقدها خصوبتها حيث تسبب قتل البكتريا المسؤلة عن تحليل المواد العضوية الموجودة بالتربة وتثبيت عنصر النتروجين بها. بل قد تحتوى التربة على مكونات بيولوجية قد تكون مسببات أمراض من كائنات دقيقة بكترية وفطرية وبروتوزويه وفيروسيه.
- - وقد تحتوى التربة على مصادر العدوى بديدان الأمعاء من بيض ويرقات والتى قد تصل إلى التربة مباشرة عن طريق الإنسان أو عن طريق مياه الرى الملوثة بمياه الصرف الصحى وبعض تلك الديدان تسبب أمراض خطيرة مثل الأنيميا وأمراض الكبد والكلى والأمعاء.
- - المحافظة على التربة من التلوث والتدهور ضرورة حتميه من ضروريات العصر لارتباطها بصحة وجود الانسان.
- - ويعتبر الوعى البيئى هو أهم الطرق للحفاظ على التربة من التلوث ويتحقق ذلك عن طريق رفع المستوى التعليمى والثقافى وتعليم الافراد كيفية التعامل مع التربة بحيث يصبح جزء من سلوك الفرد حيث ان المحافظة على التربة من التلوث هى

مسئولية جماعية تتطلب الاقتناع التام بمسئولية الافراد تجاه التربة بحيث يصبح الحفاظ عليها أمرا واقعيا.

**تلوث التربة الزراعية يعرف بأنه** الفساد الذى يصيب التربة الزراعية فيغير من صفاتها وخواصها الطبيعية أو الكيميائية أو الحيوية بشكل يجعلها تؤثر سلباً بصورة مباشرة أو غير مباشرة على من يعيش فوق سطحها من انسان وحيوان ونبات.

### مصادر تلوث التربة الزراعية

وتختلف مصادر تلوث التربة حيث يمكن تقسيمها الى:

#### مصدر مباشر:

يقصد به مصدر محدد ومعلوم يمكن قياس كمية الملوثات الصادرة منه مثل انابيب الصرف الصناعى والصرف الصحى.

#### مصدر غير مباشر:

هى المصادر التى من الصعب قياس كمية الملوثات الناتجة عنها وذلك لانتشارها على مساحات كبيرة.. مثل التلوث الناجم من الاسمدة الكيماوية والمبيدات التى تحملها المياه السطحية إلى الاراضى الزراعية . وتلوث الهواء الجوى الناتج من عوادم السيارات والمصانع.

- وتعتمد حركة الملوثات فى التربة على الخواص الكيميائية والفيزيائية للتربة ويتوقف معدل انتقال الملوثات على خواص التربة الفيزيائية وبالتحديد التوزيع الحجمى للحبيبات والكثافة الظاهرية ولأنهما يؤثران على حركة الماء والهواء خلال التربة. رقم pH يودى الى ترسب العناصر الثقيلة.. فالزرنيخ والسلينيوم يكونا اكثر حركة فى الظروف القاعدية بينما الرصاص والزنك والكادميوم فى الظروف الحامضية.

□ تصبح العناصر اقل حركة فى الاراضى الخفيفة عنه فى الاراضى الطينية.

## تقسيم الملوثات

يمكن تقسيم الملوثات تبعا للتركيب الكيميائى لها أو استخدامها الى:

### أولا: ملوثات عضوية Pollutants Organic .

وتشمل:

١- هيدروكربونات عطرية حلقيه Polycyclic aromatic hydrocarbons ومصادره:

□ احتراق الفحم والبتروول والخشب.

□ اسفلت.

□ قطران الفحم.

□ انبعاث عوادم السيارات - الشحوم.

٢. النيتروالعطرية Nitroaromatic .. ومصادره (القتابل - المبيد الحشرى - المبيد البكتيرى).

٣. الفينولات وانيلينات Phenoles, anilines .. ومصادره (المبيدات البكتيرية - مياه صرف مصانع - مواد الصباغة - مبيدات الحشائش).

٤. الهالوجينات العطرية Halogenated aromatic مصادره (مبيدات الحشائش - حرق المخلفات الطبية والمخلفات الصلبة)

والمخلفات الخطرة - احتراق البترول والفحم والاطارات - مناجم الرصاص).

٥. الهالوجينات الاليفاتية **Halogenated aliphatic** .. ومصادره (صناعة البلاستيك).

٦. المبيدات **Pesticides** .. ومصادره (الزراعة - صناعة المبيدات).

٧. منتجات البترول .. ومصادره (صناعة تكرير البترول - السيارات ووسائل النقل - الصناعة).

## ثانيا: ملوثات غير عضوية **Pollutants Inorganic**

وتشمل:

أ. العناصر الثقيلة والنادرة.

ب. النتروجين.

ج. النظائر الشعة.

### أ. العناصر الثقيلة والنادرة

.. مصادرها في التربة تنقسم الى:

□ **مصادر طبيعية..** حيث التربة خليط من معادن نتجت من ملوثات التجوية الفيزيائية والكيميائية والحيوية لصخور القشرة الارضية مكونة مادة الاصل ومن ثم فإنها تتواجد طبيعيا في التربة لانها جزء من مكوناتها.. ويبين الجدول التالي محتوى بعض المعادن الخام من العناصر الثقيلة والنادرة.

العناصر الثقيلة به	المعدن الخام	العنصر
Cu,Sb,Zn,Pb,S	Ag <sub>2</sub> S, PbS	الفضة (Ag)



e Ag,Hg,Bi,Mo,S	Fe As S,As S	الزرنيخ (As)
n Pb,Zn	Ba SO <sub>4</sub>	باريوم (Ba)
Zn,Pb,Cu	Zn S	كادميوم (Cd)
Ni,Co	Fe Cr <sub>2</sub> O <sub>4</sub>	كروم (Cr)
Zn,Cd,Pb,As,Ni	Cu Fe S <sub>2</sub> ,Cu <sub>2</sub>	نحاس (Cu)
,Mo	S,Cu <sub>3</sub> As S <sub>4</sub>	
Co,Cr,As,Se	(Ni,Fe) <sub>9</sub> ,S <sub>8</sub> ,Ni	نيكل (Ni)
	As	
Ag,Zn,Cu,Cd,S	Pb S	رصاص (Pb)
a		
Cd,Cu,Pb,As,S	Zn S	زنك (Zn)
a		

Rose et al. (1979).

## □ مصادر ناتجة عن النشاط الانسانى Anthropogenic Sources :

وتشمل

١. **استخراج المعادن من المناجم ..** وماينتج عنها من مخلفات تصبح مصدر للتلوث فى الاراضى المحيطة.

٢. **مخلفات الصرف الصحى والصناعى ...** ان جميع انواع الحمأه تحتوى على تركيزات عالية من العناصر السامة الا ان الحمأه الناتجة من الصرف الصناعى تحتوى على ملوثات غير عضوية

بتركيزات اعلى بكثير من الحمأه الناتجة من الصرف الصحى. وتعتبر عناصر Cd,Cu,Ni,Zn من اهم العناصر التى تسبب مشاكل فى الانتاج الزراعى عند اضافة الحمأه الى التربة.

### ٣. التخلص من المخلفات الصلبة والسامة.. مخلفات المنازل

والمصانع والمستشفيات يمكن ان تؤدى الى تلوث التربة بالعناصر الصغرى والثقيلة فالتخلص منها سواء بالقاءها او دفنها فى التربة يؤدى الى تلوث التربة وانتقالها الى المياه الجوفية.

٤. احتراق الوقود (فحم - بترول).. ينتج عنه عدد كبير من العناصر الثقيلة والصغرى تشمل Mn,Cu,Ba,Se,Sb,As,Zn,Cr,Cd,Pb,V,U والتى تترسب على الاراضى المحيطة كما ان احتراق البترول الذى يحتوى على اضافات من الرصاص يعتبر من اهم مصادر تلوث التربة.

### ٥. الصناعات التعدينية.. وذلك بعدة طرق منها:

انبعاث الايروسولات والغبار المحتوى على هذه العناصر ويطرسب على التربة والنبات.

المخلفات السائلة.

وتستخدم العديد من العناصر فى صناعة السبائك والصلب والتى ينتج منها مخلفات تؤدى الى تلوث التربة.

٦- المواد والكيماويات المستخدمة فى الزراعة بالممارسات الزراعية الغير رشيدة.

## والمصادر الرئيسية لهذه الممارسات تشمل:

الشوائب والعناصر الثقيلة السامة الموجودة في الاسمدة الكيماوية.

اسمدة طبيعية من مخلفات المجازر والخنازير والدواجن والتي تحتوى على تركيزات عالية من الزنك والنحاس وتسبب سمية النبات.

المبيدات الكيماوية.

الاسمدة الطبيعية المصنعة من المخلفات.

- ويوضح الجدول التالى ان الاسمدة المعدنية والاسمدة المصنعة من المخلفات تعتبر من اهم مصادر التلوث التربة بالعناصر السامة.

العنصر	الاسمدة الفوسفاتية	الاسمدة النيتروجينية	الاسمدة العضوية	الاسمدة المصنعة من المخلفات
	ملجم/كجم سماد			
الزرنبيخ	١٢٠٠-٢	١٢٠-٢,٣	٢٥-٣	٥٢-٢
البورو	١١٥-٢	-	٠,٦-٠,٣	-
ن				
الكاميد	-٠,١	-٠,٠٥	٠,٨-٠,١	١٠٠-٠,٠١
وم	١٧٠	٨,٥		
الكوبلت	١٢-١	١٢-٥,٤	٢٤-٠,٣	-
الكروم	٢٤٥-٦٦	١٩-٣,١	-٠,٠١	٢١-٠,٠٩
يوم			٠,٣٦	
النحاس	٣٠٠-١	-	١٧٢-٢	٣٥٨٠-١٣
الزئبق	-٠,٠١	٢,٩-٠,٣	-٠,٠١	٢١-٠,٠٩
			٠,٣٦	
المنجنيد	٤٠,٢٠٠	-	٩٦٩-٣٠	-
ز				
الموليبيد	٦٠-٠,١	٧-١	٣-٠,٠٥	-

يوم النكل	٣٨-٧	٣٤-٧	٣٠-٢,١	٢٧٩-٠,٩
الرصاص	٢٢٥-٧	٢٧-٢	٢٧-١,١	٢٢٤٠-١,٣
ص القصدير	١٠٠<	-	-	-
ير السيينيوم	٠,٥	-	٢,٤	-
وم يورانيوم	٣٠٠-٣٠	-	-	-
م الفانديوم	١٦٠٠-٢	-	-	-
م الزنك	-٥٠ ١٤٥٠	١,٤٢	٥٦٦-١٥	٥٨٩٤-٨٢

Kabata-Pendias, and Adriano (1992).

**٧. الحروب والتدريبات العسكرية...** تتلوث الاراضى التى حدثت بها المواقع الحربية بعنصر الرصاص الناتج من الذخيرة وعنصرى النحاس والزنك الناتجين من فوارغ الذخيرة وايضا بالعديد من الملوثات العضوية الناتجة من زيوت المدرعات والشحوم.

## ب. النتروجين Nitrogen

- المصدر الرئيسى للنتروجين فى التربة هو الأسمدة النيتروجينية وتشمل الأسمدة النتراتية واليوريا والاسمدة الامونيومية والاسمدة المخلوطة.

- النتروجين الموجود فى التربة معظمه فى صورة عضوية وبالتالي يكون غير صالح للنبات ولذلك تحدث عمليات بيولوجية فى التربة يتم فيها تحويل النتروجين من صورة عضوية الى صورة غير عضوية (NO<sub>3</sub>-N ، N-NH<sub>4</sub>) صالحة للامتصاص بواسطة النبات أو يفقد

بالتطير أو الغسيل أو يتحول الى مكونات عضوية فى أجسام  
ميكروبات التربة.

- ونتيجة الاستخدام المتزايد للأسمدة النيتروجينية يودى فقد جزء كبير  
منها عن طريق الغسيل والنترات المفقودة من التربة عن طريق  
الغسيل سوف تؤدى إلى تلوث المياه الجوفية ومياه الصرف الزراعى.
- وتتوقف كمية النترات المغسولة من قطاع التربة على عدة  
عوامل أهمها :-

(i) كمية المياه المتخللة التربة.

(ii) كمية النترات فى التربة.

(iii) نوع التربة.

(iv) نظام الزراعة.

- ويكون الفقد أكبر مايمكن فى الأراضى الرملية وقليل فى الأراضى  
المزروعة بالأعلاف(حشائش) وكبيراً عند زراعة محاصيل ذات نمو  
قصير . وعموماً توجد علاقة قوية بين كمية النترات القابلة للغسيل فى  
التربة ونظم إضافتها لسماذ.

## ج. النظائر المشعة Radionuclides

- تشمل مصادر النظائر المشعة المصنعة اختبارات الأسلحة النووية  
السائلة للمفاعلات النووية ومحطات الطاقة - حوادث نقل الوقود  
الذرى والمخلفات السائلة للمفاعلات النووية.

- **تلوث التربة بالنظائر المشعة** عند إجراء أول اختبار نووى عام ١٩٥٠ حيث تسربت كميات هائلة من عنصرى **Cesium** ( $^{137}\text{Cs}$ ) و **Strantium** ( $^{90}\text{Sr}$ ) الى البيئة وما يتبع ذلك من دخول ( $^{137}\text{Cs}$ ) فى السلسلة الغذائية.

- **العنصر المشع  $^{90}\text{Sr}$**  له فترة نصف عمر ٢٨ سنة ويتسرب الى البيئة ويلوثها نتيجة لاختبارات الاسلحة النووية وحوادث محطات الطاقة النووية ولذلك يلقي تلوث التربة بالسترنشيوم كثير من الاهتمام لان سلوكه يشابه سلوك الكالسيوم فى السلسلة الغذائية وبالتالي يمكن أن يترسب فى العظام نتيجة لوجوده فى منتجات الالبان والاعذية الاخرى.

- **التخلص من النفايات النووية الناتجة** من مصانع الاسلحة النووية ومحطات الطاقة النووية بالقائها فى التربة أدى الى تلوث التربة بالنظائر المشعة الناتجة من تحلل اليورانيوم والبلوتونيوم مثل  $^{239}\text{Pu}$  ،  $^{241}\text{Am}$  حيث يمكن أن تدمص هذه النظائر المشعة على سطوح حبيبات التربة وترتبط بالمادة العضوية فى التربة.

- **تسرب الاشعاعات النووية من المفاعل النووى** فى تشرنوبيل عام (١٩٨٦) أدت إلى تلوث المناطق الزراعية فى روسيا وأوكرانيا. وتعدى التركيز الاشعاعى فى هذه الاراضى الحد المسموح به عالميا وادى الى خروج هذه الاراضى من الانتاج الزراعى كله.

## مصادر تلوث التربة الزراعيه

### أولاً: الهواء الجوى

- يعتبر تلوث الهواء من أخطر أنواع التلوث البيئى وأكثرها شيوعاً فى المدن الصناعية حيث يترسب التراب نتيجة للجاذبية كنواتج حرق الوقود من دخان ثانى أكسيد الكربون ويجعل المناطق التى يتراكم

عليها سوداء وقذره كما يضر بالنباتات. كما أن حرق الوقود يؤدي إلى تكوين مركبات سامة مثل المركبات النتروجينية والمركبات الأوكسجينية والهالوجينات المشعة.

## ثانيا : التلوث بالكيماويات الزراعية من أسمدة ومبيدات

### ١- التلوث بالأسمدة الكيماوية :

- مع إتباع أسلوب الزراعة المكثفة أصبح هناك استنزاف مستمر للعناصر الغذائية الموجودة بالتربة وخاصة النتروجين ومع محدودية استخدام الأسمدة العضوية والاتجاه نحو استخدام الأسمدة الكيماوية وخاصة النتروجينية قد أدى إلى التلوث بالنترات. بالإضافة إلى أن مركبات الفوسفور تؤدي إلى ترسيب بعض العناصر النادرة الموجودة في التربة الزراعية والتي يحتاجها النبات في نموه وتحويلها إلى مركبات عديمة الذوبان في الماء (راجع التلوث المائي).

- فالبكتريا والكائنات الدقيقة الأخرى بالتربة تقوم بتحويل المواد النتروجينية في هذه الأسمدة إلى نترات وهذا يزيد من خطر تلوث التربة بالنترات. وفي نفس الوقت يمتص النبات جزء منها ويتبقى الجزء الأكبر في التربة وماءها . ويكون هناك عدم إتران بين العناصر الغذائية داخل النبات مما يؤدي إلى تراكم كميات كبيرة من النترات في الأوراق والجذور وينتج عنه تغير في طعم الخضروات والفواكه وتغير ألوانها ورائحتها.

- ومن أمثلة النباتات التي تخزن في أجسامها وأنسجتها نسبة عالية من النترات وقدر صغير من أيون النتريت الذي ينتج من اختزال النترات في بعض أنواع البقول والفجل والجزر كما يوضحه الجدول التالي :

م	نوع النبات	النترات (ملجم /	النتريت (ملجم /
---	------------	-----------------	-----------------

	(كجم)	(كجم)	
١	البنجر	٢١٣٤	٣,٣
٢	الجزر	١٨٣	١,٥
٣	الكرنب	٣٣٠	٢,٣
٤	الفجل	٢٦٠٠	٧,٣
٥	الكرفس	١٣٢١	٠,٧
٦	الخس	١٣٦١	٨,٧
٧	السبانخ	٤٤٢	٣,٢
٨	الخيار	١٥٦	٨,٠
٩	الفاصوليا الخضراء	١٥٣	٥,٣

\* د. أحمد مدحت اسلام (١٩٩٠).

- ويتوقف الحد الحرج الذي يموت عنده النبات على :

- عمره.

- أجزاءه (الساق أو الجذر)

- تأثير العناصر الأخرى السامة.

## من أهم عوامل وأسباب التلوث بالاسمدة الكيماوية هي:

(أ) التكثيف المحصولي: يؤدي إلى إستنزاف مستمر للعناصر

الغذائية الموجودة في التربة وخاصة النيتروجين مما استدعى استخدام الأسمدة الكيماوية بغزارة.

(ب) معدل سقوط الامطار والري: تؤدي إلى فقدان هذه الاسمدة

النيتروجينية إلى المياه الجوفية في باطن الأرض الامر الذي يؤدي إلى تلوثها أو تشارك مع مياه الصرف الزراعي في نقلها إلى المجارى



المائية ومن ثم تضر الكائنات الحية والنباتات عند اعادة استخدامها فى الرى. أما الاسمدة الفوسفاتية فهى لاتذوب فى الماء والاسراف فيها يؤدى إلى ترسيب بعض العناصر النادرة فى التربة والتي يحتاجها النبات فى نموه وتحويلها إلى مواد عديمة الذوبان فى الماء حيث تكون هذه العناصر بعيدة عن جذور النباتات ولا تستطيع امتصاصها.

**(ج) البكتريا والكائنات الدقيقة الحية:** تقوم بتحويل المواد النتروجينية فى هذه الاسمدة إلى نترات وهذا يزيد من خطر تلوث التربة بالنترات.

## ٢- التلوث بالمبيدات :

المبيدات اصطلاح يطلق على كل مادة كيميائية تستعمل لمقاومة الآفات الحشرية أو الفطرية أو العشبية وآيه آفه أخرى تلتهم المزروعات اللازمة للإنسان فى غذائه وكسائه.

و ترش المحاصيل بالمبيدات للقضاء على الآفات والحشرات بل قد يصل الأمر فى بعض الحالات إلى رش التربة نفسها.

وتؤثر المبيدات على الأحياء الدقيقة التى تعيش فى التربة فتهلك بعضها مثل النمل والديدان وبعض الحشرات والأحياء التى تعد أعداء طبيعية للعديد من الافات التى تصيب المزروعات.

**ومن الناحية الكيميائية نجد أن المبيدات تنتمى إلى مجاميع مختلفة تذكر أهمها وأخطرها:**

**١-المبيدات الفوسفورية العضوية** ومنها الباراثيون والمالاتيون ودايكلوروفوس وديازيفون وهى مبيدات شديدة متوسطة الثبات فى الطبيعة وهى تؤدى إلى تسمم الإنسان.

**٢-المبيدات الهيدروكربونية الكلورة** وتشتمل على مبيدات الحشرات مثل الدرين وأندرين ومركب DDT وديلدرين وكيبون وهبتاكلور وكلوردين وجامسكان وجميعها مبيدات سامه شديدة الثبات تذوب فى الدهون وحافزه لأمراض السرطان.

**٣-المبيدات الكرباماتيه** ومنها السيفين والتميك والبايجون وتشبه هذه المبيدات فى مفعولها عمل المبيدات الفسفورية العضوية.

**٤-مبيدات القوارض** وتشمل فوسفيد الزنك وماتعات التجلط وتحدث إتهاب فى الجهاز التنفسى للأنسان وحدوث بول دموى واورام دموية.

**٥-مبيدات أخرى متنوعة** وتشمل زرنبيخات الرصاص وزرنبيخات الكالسيوم وأكاسيد النحاس ومبيدات زنبقية وجميعها مركبات شديدة السمية.

كذلك يأتى الضرر البيئى لهذه المبيدات من أن أغلبها مركبات حلقيه بطينه التحلل ولاحتواء بعضها على العناصر الثقيلة ذات درجة سمية عالية للنبات كما أن زيادة نواتج تكسرها يزيد من تركيز وتراكم كميات من عناصر الكلور والفوسفور والنترات عن الحد المسموح به فى البيئة الزراعيه ويتأثر بها الحيوانات أو الأنسان (راجع التلوث المائى).

وتزداد فرص التلوث بالمبيدات فى الزراعات المحميّه: وذلك أن النباتات المنزرعة داخل الصوب تكون محاطة ببيئة حرارة مرتفعة ورطوبة جوية عالية. فالبيئة بالصوب تشجع على النمو السريع للنباتات و فى نفس الوقت تشجع على نمو وتكاثر الآفات مما يضطر معه المزارع إلى رش النباتات بمبيد الآفات على فترات قصيرة. وأن فرص تلوث التربة والنباتات بالمبيدات فى جو الصوب المغلق يزداد عنه فى الجو المفتوح. ونظراً لأن المحاصيل التى داخل الصوب مثل الخيار والطماطم والكوسة والفراولة والكانتلوب تجمع على فترات

متقاربة وترش في نفس الوقت على فترات متقاربة فإنها تجمع بعد مرور فترات قصيرة على رشها وتكون حينئذ ملوثة بشدة بالمبيد المرشوش وغالباً فإن غسيل الثمار لا يتخلص من المبيد بل يكون جزء من المبيد أمتص بالأنسجة الخارجية للمحصول. **ومن أهم**

## **عوامل واسباب التلوث بالمبيدات**

(١) **نوع المبيد** : يختلف تأثير المبيد الملوث للتربة باختلاف نوع المبيد ذاته كما تختلف فترة بقاء المبيد في التربة حسب نوع المبيد وتركيبه. والجدول التالي يوضح بعض أنواع المبيدات الشائعة الاستخدام وفترات بقائها في التربة.

المبيد	نوعه	الوقت اللازم لاختفاء نصف كمية المبيد
الدرين	هيدروكربون مكلور	شهران
كارباريل (سيفين ي)	كربانات	شهر
فورات (ثيمبت)	فسفورى عضوى	شهر
بارانيون	فسفورى عضوى	٢٠ يوم
مثيل باراسيون	فسفورى عضوى	٢٠ يوم
مالاثيون	فسفورى عضوى	٢٠ يوم

(٢) **درجة ذوبان المبيد** :

تميل المبيدات قليلة الذوبان في الماء إلى البقاء في التربة فترة أطول من المبيدات كثيرة الذوبان.

فعلى سبيل المثال يمكن لمبيد D.D.T يبقى في الأرض ٣٠ سنة بسبب قلته درجة ذوبانه على العكس يمكن مبيد الكاربو فوران في الأرض لمدة أسبوع لان درجة ذوبانه في الماء عالية.

### (٣) كمية المبيد وأسلوب استخدامه :

كلما زادت كمية المبيد المضافة إلى التربة الزراعية كلما زادت درجة تلوثها للتربة والنبات.

كما أن طريقة إضافة المبيد في حالة سائلة أم صلبة تلعب دور كبير في تحديد مدة بقاءه في الأرض.

كذلك فإن طريقة إضافته سواء أكانت مباشرة للأرض أو عن طريق رش النبات تؤثر على درجة تلويث المبيد للتربة والنبات.

تأثير أسلوب الاستخدام ونوع تركيبة المبيد على بقاءها للتربة

% الكمية المتبقية من المبيد بعد مرور عام		تركيب المبيد
عند إدخال المبيد في	عند استخدام المبيد على	
%٤٤	%٦,٥	مركز قابل للاستحلاب
%٦٢	%١٣	حبيبي

(٤) حرث التربة : يؤدي حرث التربة إلى زيادة سرعة اختفاء المبيدات منها.

المبيد	الأرض محروثة	غير محروثة
--------	--------------	------------

	٧٤,٢ %	٥٥,٩ %	D . D . T
	٤٦,٩ %	٢٩,٣ %	الدرين

**(٥) رطوبة التربة :** لمقدار الرطوبة فى التربة تأثير على مكث المبيدات فيها فقد أتضح أن الماء يزيح الالدرين من حبيبات التربة مما يؤدى إلى تبخير مقدار كبير منه وبالتالي سرعة هروبه وهكذا يعتبر التبخر أحد منافذ الهروب الرئيسية لكل من الالدرين والهبتاكلور.

**(٦) العوامل الجوية :** يتأثر تراكم المبيد وبقائه فى التربة بحالة الجو مثل الضوء ودرجة الحرارة ودرجة الرطوبة والرياح حيث يعتمد تحلل المبيد على كمية الضوء والحرارة اللذان يؤثران على تفاعلات الأكسدة والاختزال والتحلل المائى. كما أن درجة رطوبة الجو والرياح تعملان على تعجيل أو إبطاء سرعة تحلل المبيد حسب نوع المبيد ونوع التربة.

- ويحتوى الجدول التالى على بيانات مقارنة صادرة من المنظمة العالمية للأغذية والزراعة حول استخدام الأسمدة والمبيدات فى مصر وبعض الأقطار الأخرى. ويوضح الجدول الارتفاع النسبى لاستخدام الأسمدة والمبيدات فى مصر.

استخدام المبيدات كجم/هكتار		استخدام الأسمدة كجم/هكتار		المساحة المنزرعة الف هكتار	القطر
٨٢ /	٧٥ /	٨٥ /	٧٥ /		
١٩٨٤	١٩٧٧	١٩٨٧	١٩٧٧		
٧,٦	١٠,٥	٣٤٧	١٨٨	٢٥٦٠	مصر
٢,٨	٢,٢	٣٧	١٩	٧٥٤٠	الجزائر
٠,٤	٠,٣	٣٦	٢٣	٨٤٦٢	المغرب
-	-	٤	٦	١٢٤٨٧	السودان
-	-	٣٦	٨	٥٤٥٠	العراق

٥,١	٤,٣	٣٠,١	٢٦٦	١٩٤٥٩	فرنسا
٤,٠	٣,٢	٤٢٥	٤٣٦	٧٤٧٦	ألمانيا
١,٥	٧,١	٧٤٨	٧٥١	٩٢٤	هولندا
٤,٩	٣,٦	٣٦٤	٢٧٥	٦٩٨٨	المملكة المتحدة
٢,٠	٢,٤	٩٣	١٠٢	١٨٩٩١٥	الولايات المتحدة

### ثالثاً: الري الغير المرشد بمياه تقليدية أو غير تقليدية

- تمثل مياه الري مصدر غير مباشر لتلوث التربة الزراعية ويأتى هذا من إعادة استخدام مياه الصرف الزراعى أو صرف مياه الصرف الصحى والصناعى على المسطحات والمجارى المائية المستخدمة فى ري الأراضى الزراعية والتي بدورها تحوى على عناصر ثقيلة سامة ومبيدات وأسمدة كيماوية لها الأثر فى تلوث التربة الزراعية (راجع التلوث المائى).

- وأهم أسباب وعوامل التلوث الناتج عن الري الغير مرشد بمياه تقليدية أو غير تقليدية هي:

- الصرف الصحى
- الصرف الزراعى
- المياه الجوفية
- الصرف الصناعى

### \* الصرف الصحى

- نظراً لقلّة الموارد المائية تتجه أساليب الزراعة الحديثة إلى استخدام مياه الصرف الصحى المعالج لرى الأراضى الزراعية بأنواع مختلفة من المحاصيل.

- تعتبر من المصادر الحديثة لاستغلال المياه فى الري وقد بدء استخدامها فى مصر عام ١٩١١ حيث تمت زراعة ٢٥٠٠ فدان بمنطقة الجبل الأصفر وبزيادة عدد محطات المعالجة بمصر يتم استخدام هذه النوعية فى كثير من المناطق بالوادي والدلتا وأسيوط والتبين وحلوان وزنين وبحر البقر.

- وتوجد بالقاهرة الكبرى ٦ محطات للصرف الصحى (الجبل الأصفر - البركة - بلقس - زنين - أبو رواش - حلوان) ... تستقبل محطات بلقس وحلوان صرف صناعى لكونها مناطق صناعية وتستخدم محطات الجبل الأصفر وأبو رواش وحلوان فى الزراعة بعد تنقيتها مرحلة أولى وثانية.

- وقد درست أكاديمية البحث العلمى الآثار السلبية والإيجابية للرى بمياه الصرف الصحى الغير معالجة لمدة ٤ سنوات بمنطقة أبو رواش :  
الآثار الإيجابية : تتمثل فى

زيادة إنتاجية الأراضى من المحاصيل حيث ارتفعت إنتاجية الذرة من ٧٠٠ كجم / فدان فى السنة الأولى الى ٢ طن بعد أربع سنوات.

زادت نسبة المادة العضوية فى الطبقة السطحية للتربة من ٠,١ - ٠,٥% مما أدى الى إثراء التربة بالمادة العضوية وتحسين خواصها وزيادة قدرتها على الاحتفاظ بالماء والعناصر الغذائية وزادت السعة المائية للأرض من ١٨,٩ - ١٣٠,٤.

انخفض pH من ٨,٥ الى ٦,٥ مما أدى الى تيسير بعض العناصر الغذائية فى التربة مثل الفوسفور والحديد والمنجنيز والزنك مما أدى الى زيادة المحصول.

**وتمثلت الآثار السلبية فى :**

□ تراكم العناصر الثقيلة أو العناصر الصغرى بتركيزات عالية فى أنسجة النبات وهذه العناصر تسبب أضرار للإنسان. ويجب اختيار طريقة الري عند استخدامها. فمثلاً استخدام الري بالرش يؤدي الى انتشار الرزاز بنسبة تصل الى ٣% من المياه المستخدمة (حسب درجة الحرارة والرطوبة بمصر) وهذا الرزاز يحمل كثير من الأمراض الفيروسية أما الري السطحي فيؤدي الى اهدار المياه عن الاحتياج الفعلى للمحاصيل لذا يرى أن الري بالتنقيط أنسب هذه الأنواع.

- من أهم الدراسات التي تمت بمصر تلك التي أجريت بمزرعة الجبل الأصفر التي تروى بمياه الصرف الصحى لمدينة القاهرة منذ عام ١٩١١ وذلك بعد اجراء عمليات التنقية الأولية بأحواض الترسيب. ويوضح الجدول التالى أثر الري بمياه الصرف الصحى المعالج أولياً على العناصر الميسرة فى التربة (الطبقة السطحية - ٣٠سم) على فترات مختلفة بمزرعة الجبل الأصفر.

سنوات الاستزراع				العنصر ملجم / كجم
٦٠ سنة	٣٠ سنة	٨ سنوات	أرض	
١٣٥	٨٨	٣٨	١٦	نتروجين
١١٤	٨٠	٥٢	٦	فوسفور
٣٣٤	٧٨	٥٤	٣٩	بوتاسيوم
٣٣٤	٢٢٠	١١٨	٣٦	حديد
١٤٨	٦٧	٢٩	١٠	منجنيز
٤١	٢٧	١١	٠,٤٠	نحاس
٣٢٣	١٢٠	٣٤	٠,١	زنك
٠,٦٨	٠,٢٧	٠,١٥	٠,٠٥	كادميوم
٤٢,٢	٩,٧	٨,٣	٠,٧	رصاص
٤,١	٢,٥	٠,٩	٠,١٢	نيكل
٠,٧٥	٠,٢٦	٠,٣٦	٠,١٧	كوبلت

**\* تقرير معهد بحوث الأراضى والمياه والبيئة فى مصر**



- وتعتبر مزرعة أبو رواش ثانى أهم موقع بعد الجبل الأصفر فى استخدام مياه الصرف الصحى فى الزراعة. والجدول التالى يبين مستوى العناصر الثقيلة للتربة الرملية بأبو رواش والتي رويت بمياه الصرف الصحى المعالج ابتدائى لمدة ثلاث مواسم زراعية.
- إلا أن قرار نائب رئيس الوزراء ووزير الزراعة رقم ٦٠٣ لسنة ٢٠٠٢ فى منع إستخدام مياه الصرف الصحى المعالج وغير المعالج فى رى الزراعات التقليدية وقصر إستخدامها فى رى الأشجار الخشبية وأشجار الزينة وكذا مراعاة التدابير الوقائية لعمال الزراعة عند إستخدام مثل هذه النوعية من المياه. كان له الأثر فى تجنب الأضرار الناجمة من إستخدام مثل هذه النوعية فى مجال الزراعة فى مصر.

## \* الصرف الصناعى

- تحتوى مخلفات الصناعة على العناصر الثقيلة وهى من أخطر الملوثات التى تصيب التربة الزراعية والتي يتم صرفها فى المجارى المائية ويعاد استخدامها فى الرى مرة أخرى. وأهم هذه العناصر الكاديوم والرصاص والزنبق والنيكل والخاصين والزرنيخ والنحاس
- وتلعب صفات التربة الطبيعية والكيميائية دور هام فى إدمصاص هذه العناصر فنجد أن التربة الطينية تميل إلى إدمصاص كمية أكبر من تلك العناصر مقارنة بالتربة الرملية وأن العناصر الثقيلة تميل إلى الذوبان فى التربة الحمضية أكثر من ذوبانها فىالتربة القاعدية.

## \* مياه الصرف الزراعى

- وتقدر كمية مياه الصرف الزراعى التى يمكن إعادة استخدامها فى مصر حتى عام ٢٠١٧ بحوالى ٧ مليار م<sup>٣</sup>.

- تسبب مياه الصرف الزراعى مشاكل ملوحة وقلوية للتربة مما له انعكاس فى تدهور وأنخفاض الانتاجية المحصولية. وظهور مشاكل للتربة من أهمها مشاكل ملوحة وسمية لترسيب بعض الأيونات مثل الصوديوم والكلوريد والبورون وإنخفاض معدل التشرب وبعض التأثيرات الأخرى مثل زيادة أيون النترات وتقليل درجة حموضة التربة يؤثر على جوده المحاصيل.

- وتعود أسباب تملح التربة الى الأساليب الزراعية الخاطئة باضافة مياه رى تفوق حاجة المحاصيل والتي تؤدى الى رفع مستوى الماء الأرضى وبسبب نظام الصرف وغيابه فتصعد الأملاح بالخاصة الشعرية الى سطح التربة مما يسبب تملحها وبالتالي انخفاض انتاجية المحاصيل المنزرعة.

## المياه الجوفية

- تقدر المياه الجوفية فى مصر بحوالى ٤,٩ مليار م<sup>٣</sup>/عام ٢٠١٧

- وتختلف مصادر المياه الجوفية بوادى النيل والدلتا حيث مصدرها النيل نفسه أما المياه بالصحراء الشرقية وشبه جزيرة سيناء والمنطقة الساحلية مصدرها الأمطار وعلى العكس فإن المياه بالصحراء الغربية فإن مصدرها المياه الارتوازية حيث تستمد مياهها من طبقات الحجر الرملى.

- وعوامل تلوث المياه الجوفية ... هى العمليات الزراعية مثل إضافة الأسمدة والمبيدات الكيماوية وتسرب المواد العضوية أو الكيماوية من مياه المجارى وتداخل المياه المالحة وآبار الحقن التى تستخدم فى التخلص من النفايات الصناعية والأشعاعية وكذا التخلص السطحى من النفايات مما يعكس أثر سلبى على تلوث التربة عند إعادة استخدامها فى الرى.

## خامساً: التلوث بالنفايات الصلبة

- إن الزيادة المطردة فى أعداد سكان الأرض مع التقدم التكنولوجى الكبير والتحسين فى مستويات المعيشة أدى الى زيادة فى الاستهلاك اليومى مما وجب التخلص من المخلفات الصلبة.
- ويعد تجميع النفايات الصلبة مشكلة حيث أنها تحتوى على القمامة والورق والبلاستيك والزجاج والعب الفارغة وبقايا المأكولات وعندما تتعرض للأمطار أو أى مصدر رطوبى تتحلل وتتسرب الى التربة أو الى المياه السطحية أو الجوفية ومن ثم تعمل على تلوث الماء الجوفى والتربة بالإضافة الى الغازات المتخلفة الناتجة عن تحللها والتي تلوث الهواء كما أنها تسبب كثير من الأمراض.

### ومن أهم عوامل وأسباب التلوث الناتج من النفايات المختلفة:

- ( ١ ) النفايات البلدية من المناطق الحضرية والشبه حضرية أو الريفية.
- ( ٢ ) النفايات الضارة من المستشفيات.
- ( ٣ ) النفايات الصناعية الغير الضارة.
- ( ٤ ) النفايات الصناعية الضارة.
- ( ٥ ) النفايات الزراعية.

- وتقدر كمية النفايات البلدية الصلبة بمصر والتي يتم جمعها والتخلص منها بالمناطق الحضرية بنحو ٦٠ مليون طن سنوياً - موزعة كالاتى على النسب التالية :

- (أ) قمامة مدن وقرى ( ٢٥ % ) .
- (ب) مخلفات زراعية ( ٥,٨ % ) .
- (ج) مخلفات صناعية ( ١٠,٣ % ) .
- (د) مخلفات رعاية صحية ( ٠,٠٣ % ) .
- (هـ) هدم وبناء ( ٦,٧ % ) .
- (و) تطهير ترع ومصارف ( ٤٨,٨ % ) .
- (ز) حمأة ( ٣,٣٠ % ) .

(أ) وتبلغ الكمية الكلية من مخلفات القمامة بالمدن ما يقرب من ١٤,٩ مليون طن سنوياً (٩,٣ مليون طن سنوياً للمدن الرئيسية ، ٥,٦٢ مليون طن / سنة مدن صغيرة وقرى).

وتقدر نسبة تولد المخلفات الصلبة من الأنشطة المختلفة كما يلي :

- نفايات منزلية (٦٨%) .
- تسرب الشوارع ومخلفات خضراء (١٢%) .
- نفايات القطاع التجارى (١١%) .

□ الأنشطة الصناعية (٥%).

□ نفايات الفنادق والمستشفيات (٤%) وتحتوى على ٢٠% من المكونات المعدية والمسببة للأمراض .

**(ب)** وتقدر المخلفات الزراعية بحوالى ١٦,٥ مليون طن / سنوياً يستخدم غالبيتها كأعلاف وأسمدة عضوية و أنشطة حقلية ومنزلية ويتبقى حوالى ٣,٥ مليون طن سنوى يتم حرثها عشوائياً. وتعمل وزارة الزراعة جاهدة مع المواطنين للاستفادة بحوالى مليون طن سنوياً من هذه المخلفات وخاصة قش الأرز من خلال نشر أساليب تدوير المخلفات لإنتاج أسمدة عضوية وأعلاف.

**(ج)** وتقدر المخلفات الصناعية الصلبة بحوالى ٦,٢ مليون طن سنوياً منها ٥,٩ مليون طن غير خطرة يعاد تدوير معظمها وتشمل الأنشطة الصناعية التالية :

١) صناعة التعدين. (٢) صناعة الأسمنت.

٣) صناعة المعادن والصلب. (٤) الصناعات الكيماوية.

٥) صناعة التكرير والصناعات البتروكيميائية. (٦) صناعة البضائع العامة.

٧) صناعة النسيج. (٨) صناعة المواد الغذائية.

**(٤)** مخلفات الرعاية الصحية : وتقدر كمياتها بحوالى ٢٥-١٠٠ ألف طن سنوياً من المخلفات الصلبة العادية.

(هـ) مخلفات الهدم ومواد البناء : وتقدر بحوالى ٤ مليون طن سنوياً.

(و) مخلفات تطهير الترع والمصارف : وتقدر بحوالى ٤٩,٤ مليون طن سنوياً .

(ز) مخلفات الحمأة : وتقدر بحوالى مليون طن سنوى يمكن الاستفادة بها كسماد عضوى.

- ويقدر إجمالي النفايات البلدية خارج المناطق الحضرية لعام ١٩٩٠ بنحو ١,٥ مليون طن حيث تعداد سكان المناطق الريفية ٢٢ مليون نسمة (٠,٦ كجم/فرد يومياً) وتعداد سكان الضواحي المدن ١٠ مليون نسمة (٠,٣ كجم/فرد يومياً).

- ويوضح الجدول التالى التقديرات المختلفة لمعدل تولد النفايات فى مصر على أساس التعداد السكانى لعام ١٩٩٠ .

معدل تولد النفايات		السكان (مليون)	التصنيف السكانى	المنطقة
إجمالى (طن يومية)	كجم للفرد يومية			
٩٤١٦	٠,٨	١١,٧٧	أكثر من ٥٠٠ ألف	المدن الكبرى  ( القاهرة - الأسكندرية - الجيزة )
٢٢٠٥	٠,٧	٣,١٥	١٥٠-٥٠٠ ألف	المدن المتوسطة
٣٦١٨	٠,٦	٦,٠٣	أقل من ١٥٠ ألف	المدن الصغرى
١٦٨٠	٠,٧	٢,٤		التعديل الإحصائى

الإجمالي	-	٢٣,٣٥	-	١٦٩١٩
----------	---	-------	---	-------

\* خطة العمل البيئي فى مصر - جهاز شئون البيئة (١٩٩٢).

## النفايات الخطرة :

- هى النفايات غير النفايات المشعة ولها خصائص كىماوية نشطة أو سامة أو قابلة للانفجار وقد تكون على هيئة غازات سائلة أو صلبة تؤدى الى احتمال الخطر على الانسان والبيئة.
- وتشتمل مكوناتها على مركبات معينة أو مذيبيات عضوية مهجنة أو مركبات عضوية مهجنة أو أحماض أو أسبستوس أو مركبات فسفورية عضوية أو مركبات السيانيد أو الفينول وغيرها.
- وطبقاً للتقديرات المحلية تبلغ كمية النفايات الخطرة فى مصر حوالى ٥٠,٠٠٠ طن سنوياً وطبقاً لمعدلات الناتج القومى قد تصل هذه الكمية الى ٢٠٠,٠٠٠ طن سنوياً.

## **- وأهم مصادر النفايات الخطرة**

\* الصناعات التعدينية الكبيرة. \* المستشفيات  
والمعامل الطبية.

\* بعض الأنشطة التجارية  
والخدمية. \* الأنشطة الزراعية.



تتبع خطورة تلوث التربة من حيث كونها المصدر الأساسي لغذاء الإنسان والحيوان وبالرغم من أن مساحة القسم الصالح للزراعة من الأرض لا يتجاوز ١١٪ من مساحتها الإجمالية فإن الأبحاث قد دلت على أن الأرض بوسعها أن تلبى كل حاجات بني البشر من الغذاء ولكن بشرط البعد عن الإسراف والهدر والتلويث والتوسع السكاني غير المدروس.

ومن هذا القبيل يمكننا أن نشير إلى أن زيادة عدد السكان التدريجية في العالم وزيادة نسبة الرفاهية ولو على حساب المصلحة العامة فتحت الباب أمام تراجع مساحة الأراضي الزراعية المحيطة بالمدن والبلدان.

إن زيادة السكان في العالم والتقدم في مستوى المعيشة لدى الجزء الأكبر من هؤلاء السكان خلقا حاجة متنامية للحصول على الغذاء وللحصول على هذه المقادير الإضافية من الغذاء عمل الإنسان على استنزاف طاقة الأرض بزراعتها عدة دورات زراعية في العام واستعان على ذلك بالمخصبات الزراعية من فوسفات وسماد كيماوي وغير ذلك.



ولمكافحة الآفات الزراعية استخدمت المبيدات الحشرية والتي أغلبها تتكون من مواد كيميائية شديدة الخطورة على الإنسان والحيوان وتلوث البيئة عموماً.

## تركيب التربة Soil Structure

التربة والتي تمثل الغلاف البيئي الأرضي تتألف من ثلاث طبقات متتالية عبارة عن:

### أ/ الطبقة السطحية Surface Soil :

وهي الطبقة التي تغلف الأرض وعمقها لا يتجاوز العدة سنتمات وتشتمل على بقايا الحيوانات والنباتات التي تعتبر مصدراً للمادة العضوية وتسمى هذه المواد والتي تختلف في درجة تحللها بالدبال Humus وفي هذه الطبقة تعيش معظم الكائنات الحية الدقيقة كالديدان والحشرات وغيرها وتلعب المادة العضوية هذه دوراً هاماً في خواص التربة الكيميائية والفيزيائية وبالتالي تحدد خصوبة التربة وهذه الطبقة تتأثر كثيراً بالعوامل فمثلاً تكون عرضة للإنجراف أكثر من غيرها بالإضافة إلى ذلك تتألف القشرة الأرضية أو السطحية على كثير من العناصر الرئيسية المكونة لها كما يظهر ذلك من الجدول رقم (١)

## جدول رقم (١) النسب المئوية الوزنية والحجمية للعناصر المكونة للقشرة الأرضية

العنصر والرمز	النسبة المئوية الوزنية (%W/W)	النسبة المئوية الحجمية (%V/V)
الأكسجين	٤٦,٦٠	٩٣,٧٧
السليكون	٢٧,٧٢	٠,٨٦
الألمونيوم	٨,١٣	٠,٤٧
الحديد	٥,٠٠	٠,٤٣
الكالسيوم	٢,٦٣	١,٠٣
الصوديوم	٢,٨٣	١,٣٢
البوتاسيوم	٢,٥٩	١,٨٣
المغنسيوم	٢,٠٩	٠,٢٩

**ب/ طبقة تحت التربة Subsoil Layer:** وهي تقع تحت الطبقة السطحية مباشرة وبها قليل من بقايا الكائنات الحية أي الحيوانات والنباتات عند مقارنتها بالطبقة السطحية.

**ج/ طبقة الصخر الأم Solid Layer:** وهي عبارة عن الطبقة الثابتة الأصلية الصلبة والتي تكونت منها التربة وهي أقل عرضة لعوامل تكون التربة مثل الحرارة والرطوبة والرياح بسبب تكوينها الصخري وتختلف حسب نوعية الصخر وتكوينه الجيولوجي.

يقوم الإنسان بعمليات متعددة يؤثر بذلك على نظام التربة الطبقي مثل قيامه بعمليات الري والصرف والتسميد وغيرها من المعاملات الزراعية ويؤدي ذلك إلى تحويل كثير من الأراضي الخصبة إلى أراضي فقيرة جرداء تفقد خصوبة الطبقة السطحية كذلك عمليات إزالة الغطاء النباتي وحرث التربة غير المناسب يؤدي إلى تدهور التربة الخصبة إضافة إلى

أن تلوث التربة بالمبيدات الكيميائية والمخلفات الصناعية يؤدي إلى  
تحويل التربة الخصبة إلى أراضي مالحة غير منتجة.

## تلوث التربة

ينظر العالم بأسره بقلق واهتمام إلى الكميات الكبيرة والمتزايدة من المواد السامة التي تستقبلها التربة لما لهذه المواد من خطورة على صحة الإنسان فتبعاً لتقرير هيئة حماية البيئة الأمريكية (USEPA) أكثر من مليون طن من الكيماويات السامة الناتجة من المصانع سنوياً تلوث التربة والماء والهواء.

### ويعرف تلوث التربة بأنه :

"وجود بعض المكونات الناتجة عن النشاط الإنساني في التربة بتركيزات يمكن أن تؤدي إلى أضرار لمستخدمي هذه الأتربة أو تفرض قيود على الاستخدام الحر لهذه الأتربة.

وأضرار تلوث التربة تشمل التأثير السيئ على صحة الإنسان والحيوان والنبات والإضرار بالمباني المقامة عليها وتلوث المياه الجوفية والمياه الحرة. ويحدث التلوث فقط عندما يصبح تركيز الملوثات في التربة نتيجة النشاط الإنساني أكبر من التركيز الطبيعي لهذه المواد في التربة ويكون لهذا التركيز تأثير سيء على البيئة وعناصرها. ومن وجهة نظر صحة الإنسان والحيوان والنبات فإن التربة لا تعتبر ملوثة إلا إذا وصل تركيز الملوثات بها إلى الحد الحرج الذي تتأثر عنده العمليات البيولوجية.

وتشخيص التلوث يحتاج على تقويم الملوثات عند مواقع التلوث شاملاً حجم الملوثات بالنسبة إلى حجم التربة وكذلك توزيع هذه الملوثات في التربة والخواص الكيميائية والطبيعية لكل ملوث من الملوثات وتفاعل هذه الملوثات مع التربة.



## مصادر تلوث التربة

يمكن تقسيم مصادر تلوث التربة بصفة عامة إلى:

### مصدر مباشر Point source

ويقصد به مصدر محدد ومعلوم يمكن قياس كمية الملوثات الصادرة منه. ومثال ذلك: أنابيب الصرف الصناعي والصرف الصحي.

### مصدر منتشر Non point (diffuse) source

وهي المصادر التي من الصعب قياس كمية الملوثات الناتجة عنها وذلك لانتشارها على مساحات كبيرة وغالباً ما تكون عبارة عن عدة مصادر مع بعضها.

**ومن أهم مصادر تلوث التربة :**

١ - استخدام المبيدات

٢ - استخدام الأسمدة الكيميائية

٣ - التلوث الحيوي للتربة

٤ - التلوث الإشعاعي للتربة

٥ - مصادر أخرى

**ويمكن تقسيم ملوثات التربة إلى:**

١. ملوثات عضوية **Organic Contaminants**

مثل المركبات الهيدروكربونية العطرية والمبيدات ومنتجات البترول.

٢. ملوثات غير عضوية **Inorganic Contaminants**

أ. العناصر الصغرى والسامة مثل الزرنيخ - الكاديوم -  
الزئبق وغيرها.

ب. النيتروجين.

ج. النظائر المشعة.

**المبيدات**

تعرف المبيدات عموماً ، بأنها :

أي مادة أو خليط من مواد تستعمل في مكافحة أو منع أو إهلاك أو طرد أو استبعاد أي كائن حي يعرف على أنه آفة .

أو أي مادة أو خليط من مواد يوصى باستعماله كمادة منضمة للنمو الحشري أو للنمو النباتي ويستعمل في مكافحة الآفات .

### أقسام المبيدات الحشرية ومدى استمراريتها في البيئة ودرجة سميتها:

١- **مبيدات غير عضوية:** مركبات تبقى في البيئة وتتسم بأنها عالية أو شديدة السمية مثل زرنیخات الرصاص وزرنیخات الكالسيوم وفوسفيد الزنك ومركبات الكبريت.

٢- **المبيدات النباتية :** مركبات تتحلل مباشرة في البيئة وسميتها منخفضة للثدييات مثل النيكوتين والبيرثرنز والروتينون.

٣- **المبيدات الهيدروكربونية الكلورينية :** وهي مركبات تبقى في البيئة وتتراكم فيها وفي الأنسجة الدهنية للحيوانات وسميتها معتدلة مثل DDT والجامسكان والكوردان والتوكسافين.

٤- **المبيدات الفسفورية العضوية:** وهي مركبات تتميز بعدم تراكمها وعدم ثباتها وتختلف سميتها من شديدة إلى منخفضة مثل الباراثيون والدايمثويت والدورسبان.

٥- **المبيدات الكرباماتية:** وهي مركبات قليلة السمية للكائنات غير المستهدفة وتتميز بعدم تراكمها في البيئة وتختلف في سميتها من شديدة إلى معتدلة مثل الكارباميل والميثوميل.

٦- **المبيدات البيروثرويدية:** ولها درجة من الثبات النسبي للاستعمال في الحقل وتختلف في سميتها من عالية إلى منخفضة مثل الدلتامثرين، السبيرمثرين.

٧- **المبيدات الآمنة بيئياً :** مشابهات الهرمونات ومنظمات النمو الطبيعية وهي أكثر تخصصاً للآفة وأسرع تحللاً مثل هرمونات الشباب الطبيعية ومثبطات تطور الحشرات مثل IDI مثل الداى فلوبنزيورون (الديميلين) والمبيدات الحيوية مثل البيوفلاي وهو عبارة عن فطر *Baecuveria bassiana* الذي يتم إكثاره وتحضيره معملياً ويستعمل لمكافحة الذبابة البيضاء والمن وبعض الأكاروسات والمبيدات النباتية ومن أمثلتها المركبات المستخلصة من نبات النيم والزرنخت وغيرها من النباتات.

## تلوث التربة بالمبيدات:

تتلوث التربة بمبيدات الآفات أيا كانت طريقة استخدامها رشاً أو تعفيراً على المحاصيل الزراعية أو نتيجة معاملة التربة أو البذور بطرق مباشرة (رش التربة *Soil spraying*، تدخين التربة *Soil fumigation*، تعفير التربة *Soil dusting*، الرش الموجه *Direct spray*) أو بطرق غير مباشرة (تساقط المبيد *Dripping* أثناء الرش الأرضي أو بالطائرات، أو زراعة تقاوي سبق معاملةتها بالمبيدات أو مخلفات النباتات المرشوشة بالمبيدات).

وعامة تصل إلى التربة كميات غير قليلة من المبيدات المستخدمة تقدر عادة بأكثر من ٥٠% من الكميات التي تستعمل رشاً على النباتات، وتتعرض هذه المبيدات في التربة للعديد من العوامل التي تؤثر على سلوكها وثباتها وفعاليتها ضد الآفات المستهدفة كما هو موضح بالشكل (١)، من هذه العوامل التحلل الميكروبي، والكيمائي والتحلل المائي



والحراري والامتصاص على حبيبات التربة والتحرك خلال التربة مع المياه الأرضية إلى المياه الجوفية والسطحية والامتصاص بواسطة النباتات المزروعة، التطاير والانهايار الضوئي، وتؤثر هذه العوامل على كمية المبيدات والمتبقيات التي تبقى في التربة ولقد وجد أن أكثر المبيدات تراكماً في التربة هي المبيدات الهيدروكربونية الكلورينية مثل: D.D.T، الألدرين، الديلدرن. والتي تتميز بصمودها الطويل في البيئة كما هو موضح بالجدول (٢).

شكل (١): العوامل المؤثرة على سلوك المبيدات في التربة .

## جدول (٢) : معدل ثبات بعض المبيدات الهيدروكربونية الكلورينية في التربة:

المبيد	عدد السنوات منذ استخدامه	% للمتبقي
DDT	١٧	٣٩
الألدرين	١٤	٤٠
الدیلدرن	١٥	٣١
الأندرين	١٤	٤١
التوكسافين	١٥	٤٥

وعامة فإن خطر المبيدات على التربة يتوقف على عدة عوامل هي: نوع المبيد، ومدة بقائه في التربة من حيث مقاومته لعوامل التحلل، ودرجة سميته بالنسبة للكائنات الحية النافعة التي تسكن التربة كديدان الأرض والبكتريا المثبتة للنيتروجين، وتأثيره على انخفاض نسبة إنبات البذور أو إحداث تشوهات في النبات.

## مشكلات التلوث بالمبيدات

### ١- شوارد المبيدات Pesticide Drift

تتولد الشوارد عندما تتجرف قطرات أو حبيبات الرش (التعفير) بعيداً عن الهدف المراد سقوطها عليه عند رش المبيدات باستعمال الطائرات أو الرشاشات الأرضية.

ويعتمد مقدار هذا الانحراف على عدد من العوامل منها الشكل الفيزيقي للمادة التي يتم تطبيقها وكيفية تطبيقها و الحجم من محلول الرش المخفف الذي يستعمل وأيضا على ظروف الطقس مثل حركة الرياح أثناء عملية التطبيق وغير ذلك من العوامل.

**ويلزم تحاشي حدوث أي انجراف لسوائل الرش حتى لا ينتج من ذلك شوارد ضارة من المبيدات وذلك للأسباب التالية :**

**أ- تبديد لمادة كيميائية غالية الثمن.**

**ب - انتشارها على البيئة المجاورة مما قد يسبب تواجدها في مناطق أو محاصيل يحرم القانون وجودها عليها ، أو قد يسبب أضرارا صحية أو هلاك للحياة البرية وغيرها من التأثيرات الضارة.**

**ج- إتلافها للمحاصيل الحساسة.**

**د- إفسادها لإنتاجية الكثير من المحاصيل.**

### ٢- التسمم النباتي من المبيدات:

التسمم النباتي يعني الضرر الذي يصل إلى حد الإتلاف للنباتات، بسبب تعرضها لتأثير بعض الكيماويات ومنها المبيدات. فقد يحدث هذا الضرر عندما تتعرض النباتات لشوارد المبيدات (خاصة مبيدات الحشائش) أو للأملاح أو للمخصبات أو غيرها من الكيماويات الأخرى. وأحياناً يكون الضرر على النباتات شديداً جداً يصل لحد التدمير الكامل للنباتات، مثل ما يحدث من مبيدات الحشائش. وفي أحيان أخرى يكون أقل من ذلك، كأن يكون نتيجة لتأثير جانبي أو نتيجة حادثة نتجت عن استعمال خاطئ للمبيد، كمبيدات الفطريات أو الحشرات. ويمكن أن تظهر أعراض التسمم النباتي من المبيدات على أي جزء من النباتات مثل الجذور أو السيقان أو الأوراق أو الثمار، كما قد تظهر على النبات بكامله.

### ٣ - تدمير الحشرات النافعة:

يتعرض الكثير من الحشرات النافعة للهلاك بسبب المبيدات التي قد تتعرض لها، ومن هذه الحشرات النحل بالإضافة إلى الحشرات الأخرى التي تساعد في عمليات التلقيح في أزهار النباتات، لأنه من المعروف أن قيام الحشرات في المساعدة في عمليات التلقيح في بعض أنواع الخضروات والفاكهة، أمر أساسي للحصول على إنتاج جيد من هذه المحاصيل.

كما تقوم المبيدات كذلك بالقضاء على الكثير من الحشرات النافعة الأخرى مثل المفترسات والمتطفلات التي تتغذى على الآفات الحشرية، مما يتسبب عنه إحداث عدم توازن حيوي بين هذه المفترسات والمتطفلات وعوائلها من الآفات.

### ٤ - تنامي المقاومة لفعل المبيدات:

من التأثيرات الجانبية الأكثر خطورة للمبيدات هو تنامي صفة المقاومة لفعل المبيدات في الآفات المختلفة. فقد وجد أن تكرار استعمال مبيد معين مرات عديدة متتالية على مجموعة محددة من الآفات، من

شأنه أن يؤدي إلى القضاء على أكثر أفراد هذه المجموعة حساسية لفعل المبيد، مما يترتب عنه ظهور أجيال من هذه الآفات أقل استجابة لتأثير هذا المبيد، أو بمعنى آخر تقل حساسيتها لتأثير هذا المبيد أي تصبح مقاومة له. وهذا من شأنه أن يترتب عنه فشل مكافحة هذا النوع من الآفات بهذا النوع من المبيدات.

## **التلوث البيئي بالمبيدات:**

التلوث البيئي بالمبيدات من أشد أنواع التلوث البيئي خطورة.

حيث تدخل المبيدات إلى البيئة من عدة مسالك، فقد يتم ذلك من خلال الهواء أو من خلال الماء أو الغذاء أو التربة، كما ينتج التلوث البيئي بالمبيدات غالباً من الاستعمال غير المنضبط لها، وأيضاً نتيجة الحوادث قد تكون المبيدات داخلة فيها.

وما يهمنا في هذا البحث هو مسلك المبيدات إلى التربة.

فقد تصل المبيدات إلى التربة إما بالرش المباشر أو الحقن فيها، أو قد تصل إليها مع مياه الري الملوثة بها أو مع مياه المطر التي تغسلها من الجو، أو تصل إليها عن طريق متبقيات النباتات التي عولجت بالمبيدات أو عن غيرها من المسالك.

ومن الواضح أن تلوث التربة الزراعية بالمبيدات قد يؤدي إلى تلوث الهواء حولها، وذلك عن طريق تناثر حبيبات التربة أو عن طريق التبادل الغازي بين التربة والهواء، كما قد يتسبب كذلك في تلوث تجمعات المياه السطحية أو الجوفية بسبب انسياب المياه على سطح التربة إلى هذه التجمعات. ولتحاشي ذلك يلزم أن تكون الكيماويات التي تستعمل على التربة قليلة الخطورة على الإنسان وعلى البيئة وأن تتحطم سريعاً داخل التربة إلى نواتج غير ضارة. ويجب كذلك تحاشي استخدام الكيماويات الضارة التي تمتصها النباتات من التربة أو تلك الضارة بالإنسان تقليلاً لانتقال التلوث بين الأوساط البيئية المختلفة.

## الأسمدة الكيميائية Fertilizers

لقد بدأ الإنسان منذ القدم في استخدام الأسمدة في الزراعة لما لاحظته من تأثيرها الحسن على خصوبة التربة وبالتالي زيادة المحصول.

وكانت الأسمدة قديماً من النوع العضوي أي مخلفات الحيوان و بقايا النبات ( السماد البلدي ) حيث تتحلل المادة العضوية في التربة ببطء بفعل الأحياء الدقيقة الموجودة فيها و ينتج عن ذلك مواد ذائبة سهلة الامتصاص وبكميات تفي فقط باحتياجات النبات.

وبزيادة عدد السكان وبالتالي توسع الرقعة الزراعية اتجه المزارعون إلى استخدام الأسمدة الكيميائية للتعويض عن العناصر الغذائية التي تستهلكها النباتات المزروعة.

وتحتوي الأسمدة الكيميائية بالإضافة إلى النيتروجين على الفسفور و البوتاسيوم كمكونات رئيسة كما قد تحتوي على بعض العناصر التي يحتاجها النبات بكميات قليلة وأحياناً على المغنيسيوم و الكبريتات.

ولقد أفرط البعض في استخدام الأسمدة بكميات تزيد عن الحاجة الفعلية للنبات من أجل الحصول على محصول أوفر علماً إن المحصول يزداد بزيادة كمية الأسمدة إلى حد معين بعده تظل كمية المحصول ثابتة مهما زادت كمية الأسمدة. وتؤدي الزيادة في هذه الحالة (وخاصة زيادة الأسمدة النيتروجينية) إلى إضرار عديدة نتيجة لتسرب النترات إلى المياه السطحية و الجوفية ومنها:

١- اضطراب في وظائف المزروعات حال انتقال النترات لها مما يقلل من إنتاجها.

- ٢- تسمم الحيوانات التي تتغذى على النباتات المحتوية على كمية زائدة من النيتروجين.
- ٣- عند حفظ النباتات في الصوامع يؤدي إلى تصاعد غاز NO2 نتيجة لتخمرها ، والذي بدوره يؤثر على العاملين.
- ٤- تزايد أعداد البكتيريا الضارة في التربة نتيجة لزيادة النيتروجين والتي بدورها تحول المواد النيتروجينية الموجودة في الأسمدة إلى نترات مما يزيد من خطر التلوث بالنترات.
- ٥- يعد الماء الذي يزيد محتواه من النترات ppm10 غير صالح للشرب، وفي حال تناول الإنسان وخصوصاً الأطفال لذلك فإن البكتيريا الموجودة في الجهاز الهضمي تقوم باختزال النترات إلى نترات و الذي بدوره ينتقل إلى الدم و يتحد مع الهيموجلوبين مقللاً قدرة الدم على حمل الأكسجين مما يؤدي إلى وفاة الأطفال الرضع و موت الحيوانات الصغيرة.



## التلوث الحيوي للتربة

ولهذا النوع من التلوث آثاره الكبيرة على صحة الإنسان و الحيوان.  
فالتربة تتلوث بكائنات حية دقيقة ناتجة عن إفرازات الإنسان عن طريق ري المحاصيل بمياه المجاري.

وتصل إلى الإنسان أما مباشرة عن طريق التربة أو بطريقة غير مباشرة من خلال الفواكه و الخضراوات المزروعة في التربة الملوثة.  
هذه الكائنات الحية تسبب للإنسان العديد من الأمراض مثل الإسهال و التيفوئيد.

كما أن بعض أمراض الحيوانات تنتقل إلى الإنسان عن طريق التربة مثل مرض الكزاز.

## التلوث الإشعاعي للتربة

تعرف ظاهرة النشاط الإشعاعي بأنها عبارة عن انطلاق لأنواع مختلفة من الإشعاعات (مثل أشعة ألفا و بيتا وجاما) من انويه بعض النظائر أما بشكل طبيعي (النشاط الإشعاعي الطبيعي) أو عن طريق استحثاث هذه الأنوية صناعياً (النشاط الإشعاعي الصناعي).

و تحتوي التربة على العديد من النظائر المشعة بشكل طبيعي مثل اليورانيوم ، الثوريوم ، الراديوم ، البوتاسيوم و غيرها.

كما أنها أصبحت تحتوي على العديد من النظائر المشعة الصناعية و المنتجة من قبل الإنسان ، وبكميات تفوق تلك الطبيعية في العديد من مناطق العالم .

وذلك لتوسع التطبيقات التي تستخدم فيها هذه المواد المشعة ، فمنها التطبيقات العسكرية ، الصناعية ، الطبية ، الزراعية و البحثية و غيرها من التطبيقات .

هذا بالإضافة لما تفرزه تلك التطبيقات المختلفة من ملوثات تمتلك خاصية الإشعاع ( ملوثات مشعة ) تتطلب معاملة خاصة للتخلص منها بشكل آمن .

وتذوب المواد المشعة في محلول التربة ويمتصها النبات وتتراكم في الفروع و الجذوع و الثمار أو قد تسقط المواد المشعة الموجودة في الغبار مباشرة على أوراق النبات و ثماره فيمتص النبات جزءاً منها و يبقى جزء عالقاً به.

ويتأثر الإنسان بنسبة ٢٠% عن طريق امتصاص التربة للمواد المشعة و ٨٠% عن طريق التلوث المباشر للنبات.



## ملوثات متنوعة

وهذه تشمل :

**أ -** مخلفات المصانع المختلفة مثل مصانع تكرير النفط أو مصانع صهر و سباكة المعادن التي تحتوي فضلاتها على معادن سامة مثل الزئبق و الرصاص و والزرنيخ و والكاميوم و غيرها .

**ب -** مخلفات المنازل الصلبة منها و السائلة ( مياه الصرف الصحي) بما تحتويه من أوراق و مواد تغليف و علب معدنية و مواد بلاستيكية و السيارات التالفة ... الخ، وإلقاء هذه المخلفات بدون معالجة في التربة أو تصريفها في المياه التي تستعمل في ري المزروعات لا شك سيؤدي إلى مشاكل صحية و بيئية كبيرة خاصة المواد البلاستيكية نظراً لصعوبة إعادة استخدامها و صعوبة تحللها إلى مكونات أبسط و أقل ضرراً على البيئة.

**ج -** تسرب أو سقوط الأمطار الحمضية على التربة سيؤثر على اتزان التربة و على الأحياء الدقيقة فيها كما سيؤدي إلى فقدان بعض العناصر و الأملاح الهامة في التربة نتيجة لذوبانها في هذه المياه الحمضية وبالتالي هجرتها من التربة إلى المياه الجوفية أو السطحية.

## إزالة ملوثات التربة

يوجد العديد من المحاولات لإزالة الملوثات من التربة وذلك باستخدام تقنيات مختلفة جدول (٣). وللأسف فإن هذه التقنيات غير كافية لإزالة

الملوثات وغالباً ما يستخدم أكثر من تقنية لتنظيف التربة حيث أن التركيب المعقد للتربة ووجود العديد من الملوثات يجعل إزالة الملوثات من التربة أمراً صعباً ومكلفاً.

## تقنيات إزالة الملوثات من التربة:

### أ. الطرق المستخدمة في موقع التلوث In Situ Methods

وتستخدم هذه الطرق في موقع التلوث ولا يتم في هذه الطرق نقل التربة من موقعها مما يخفض من احتمالات تلوث مناطق أخرى.

#### ١. التطاير Volatilization

وتتم هذه التقنية في الموقع وذلك عن طريق إمرار تيار من الهواء خلال أنابيب شبكية تسمح بسريان الهواء في التربة. وفي هذه الحالة تستخدم بعض المعاملات مثل الكربون النشط **activated carbon** لإدمصاص الملوثات المتطايرة وهذه التقنية محدودة فقط للمركبات العضوية الكربونية المتطايرة.

#### ٢. التحلل البيولوجي Biolegradation

وفي هذه الطريقة يتم زيادة قدرة الكائنات الحية الدقيقة على تحلل الملوثات طبيعياً وذلك عن طريق زيادة أعدادها ونشاطها. وتتأثر عملية التحلل البيولوجي للملوثات بالصفات البيئية والكيميائية للتربة مثل الرطوبة ودرجة الحموضة **Ph**، درجة الحرارة والميكروبات الموجودة وصلاحية العناصر. وتتم عملية التحلل البيولوجي في التربة تحت الظروف الهوائية وفي مدى **Ph** تتراوح بين 5.5-8 (المثلى **Ph=7**)

ودرجة حرارة تتراوح بين 293-313k. ويجب أن تأخذ في الاعتبار أن الميكروبات قد تكون فعالة في تحلل ملوث ما دون الآخر.

### ٣. الغسيل Leaching

وفي هذه الطريقة يتم غسيل التربة بالماء وغالباً ما يستخدم أيضاً **Surfactants** (مادة نشطة سطحياً تتكون من مناطق محبة للماء وأخرى كارهة للماء وتعمل على تخفيض التوتر السطحي) لإزالة الملوثات. ويتم تجميع الماء بعد الغسيل باستخدام نظام تجميع ثم التخلص منه. واستخدام هذه الطريقة محدودة للغاية لأنه يتطلب استخدام كميات كبيرة من الماء لإزالة الملوثات بالإضافة إلى أن التخلص من الماء وما يحتويه من ملوثات يكون مكلفاً للغاية.

وكفاءة عملية الغسيل تعتمد على نفاذية ومسامية وقوام التربة والتركيب المعدني للتربة ودرجة تجانس التربة. حيث أن كل هذه العوامل تؤثر على درجة تحرر وانطلاق **desorption (release)** الملوثات من التربة ومعدل غسيل الملوثات خلال التربة.

### ٤. العزل Isolation / Containment :

وفي هذه الطريقة يتم عزل الملوثات في مكانها ومنها من الانتشار وذلك باستخدام عازل طبيعي **physical barrier** مثل الطين وذلك لتقليل الهجرة الأفقية. وحديثاً فإن العلماء يدرسون استخدام **Surfactants** مع الطين وذلك لزيادة امتصاص الملوثات العضوية على سطوح هذه المواد وبالتالي تقلل من حركة الملوثات **mobility of pollutants**.

### ب. الطرق المستخدمة بعيداً عن موقع التلوث Non- in Situ Methods

وفي هذه الطرق يتم إزالة التربة الملوثة ومعالجتها في نفس المكان أو نقلها إلى مكان آخر ثم معالجتها. ويعيب هذه الطرق احتمالات نقل التلوث إلى مناطق أخرى خلال عمليات النقل والمعالجة.

## ١. معالجة الأرض Land Treatment

وفي هذه التقنية يتم إزالة التربة ونشرها على مساحة من الأرض حتى يمكن للعمليات الطبيعية مثل التحلل البيولوجي والتحلل الضوئي أن تأخذ مجراها للتخلص من الملوثات. وفي هذه الطريقة يتم ضبط درجة حموضة التربة إلى  $Ph=7$  لخفض حركة العناصر الثقيلة ولزيادة نشاط وفعالية ميكروبات التربة كما يتم أيضا إضافة المغذيات لتنشيط الميكروبات وبعد ذلك تخلط التربة الملوثة مع تربة أخرى وذلك لزيادة التلامس بين الملوثات والميكروبات وخلق ظروف هوائية.

## ٢. المعالجة الحرارية Thermal Treatment

وفي هذه الطريقة يتم تعريض التربة لدرجة حرارة عالية باستخدام فرن حراري. وتعمل درجة الحرارة العالية على تكسير الملوثات وتنتقل غازات ويتم تجميع الغازات وحرقتها أو استخلاصها بواسطة مذيبات.

## ٣. استخدام الأسفلت Asphalt Incorporation

وفي هذه الطريقة يتم إضافة الأسفلت الساخن إلى التربة وخلطها واستخدام المخلوط في رصف الطرق. وهذه الطريقة تعمل على إزالة بعض الملوثات من التربة بالتطاير والجزء الباقي يصبح غير متحرك لخلطه بالأسفلت.

## ٤. التصلب Solidification/ Stabilization

وفي هذه التقنية يتم إضافة بعض المواد إلى التربة المزالة وذلك لتغطيتها بمادة صلبة أي أن التربة تتحول إلى ما يشبه الكبسولة **encapsulated**. وبعد ذلك يستخدم المخلوط في **Landfill**. وبذلك تصبح الملوثات غير قادرة على الحركة ويعيب هذه الطريقة أن الملوثات

لم يتم التخلص منها. وغالباً ما تستخدم هذه الطريقة لتقليل التلوث بالملوثات غير العضوية.

## ٥. الاستخلاص الكيميائي Chemical Extraction

وفي هذه التقنية يتم خلط التربة المزالة بمذيب أو Surfactant أو مخلوط منهما. وذلك لفصل الملوثات واستخلاصها من التربة. وبعد ذلك يتم غسل التربة للتخلص من المذيب وما يحمله من ملوثات ثم يتم ترشيح المذيب بعد ذلك ومعالجته لإزالة الملوثات وهذه التقنية عالية التكاليف ونادراً ما تستخدم.

## ٦. إزالة التربة Excavation

وفي هذه الطريقة يتم نقل التربة الملوثة إلى مكان آخر وغالباً ما يكون Landfills التي تحتوي على حواجز طبيعية تمنع حركة الملوثات. وعمليات إزالة ونقل تكلفتها عالية بالإضافة إلى أن نقل التربة إلى مكان آخر قد يؤدي إلى تلوث الماء الأرضي.

يتضح مما سبق أن التكنولوجيات المستخدمة لإزالة الملوثات من التربة هي في الأعم الأغلب مضيعة للوقت ومكلفة للغاية بالإضافة إلى إمكانية خلق مخاطر إضافية للعاملين وإنتاج مخلفات ثانوية. لذلك فإنه من البديهي أن نتطلع إلى تكنولوجيا جديدة يتم تطويرها بحيث تصبح قادرة على إزالة الملوثات من مواقع التلوث بكفاءة عالية وتكلفة معقولة. وتعتبر التكنولوجيا الحيوية أحد البدائل الواعدة لإزالة الملوثات من التربة عن طريق تنشيط العمليات الطبيعية في التربة ويمكن للنباتات أن تلعب دوراً هاماً في هذا الشأن وبتكلفة بسيطة بالمقارنة إلى الخيارات الأخرى.

## معالجة الأراضي الملوثة باستخدام النباتات (phytoremediation)

يستخدم **phytoremediation** أساساً للتعبير عن إمكانية استخدام أنواع النباتات ذات القدرة العالية على امتصاص وتجميع وتركيز مستويات عالية من العناصر في أنسجتها وذلك لمعالجة الأراضي الملوثة. وأغلب هذه النباتات تكون عشبية محدودة النمو وتنمو في مواقع المناجم القديمة الغنية بالعناصر. ولذلك تتركز الجهود الآن على تحسين نمو النباتات المجمععة للعناصر **hyperaccumulation** لاستخدامها في معالجة الأراضي الملوثة. ومن الناحية الأخرى ولمحدودية المجموع الخضري للنباتات المجمععة للعناصر فإنه يجري دراسة استخدام وتقييم بدائل من النباتات ذات المجموع الخضري الكبير مثل الأشجار والحشائش لاستخدامها في المعالجة على الرغم من ضعف مقدرة هذه النباتات نسبياً على تجميع العناصر بالمقارنة بالنباتات العشبية الأخرى.

مجال استخدام النباتات في معالجة الأراضي الملوثة في الوقت الحاضر أصبح أكثر اتساعاً ليشمل جميع العمليات التي تستخدم فيها النباتات بهدف احتواء (عزل) أو إزالة الملوثات مثل خفض حركة وتحلل وتطاير الملوثات غير العضوية مثل العناصر الثقيلة والنظائر المشعة والملوثات العضوية.

وسوف يتم التركيز على استخدام النباتات بجميع أنواعها بما في ذلك المحاصيل الحقلية في معالجة الأراضي الملوثة بالمواد العضوية وغير العضوية. ولما كانت المعالجة النباتية للأراضي الملوثة تعتبر تقنية جديدة فإن معظم الدراسات التي أجريت عليها هي عبارة عن تجارب معملية أو تجارب صوبه أو تجارب حقلية على نطاق ضيق كان الغرض منها اختبار وتطوير هذه التقنية الجديدة.

## العمليات الأساسية في معالجة الأراضي الملوثة باستخدام النباتات phytoremediation

تعرف **phytoremediation** بأنها التقنية التي تستخدم النباتات الخضراء لمعالجة الأراضي الملوثة بالكيمياويات والمواد المشعة. وتوجد خمس عمليات أساسية يمكن عن طريقها استخدام النباتات لمعالجة الأراضي والرسوبيات والمياه الملوثة. وهذه العمليات ينتج عنها إزالة الملوثات من التربة أو احتوائها وذلك تبعاً لاستراتيجية المعالجة شكل (٢).



عمليات المعالجة النباتية phytoremediation Processes

## أ. عمليات عزل الملوثات Containment processes

وهذه تنقسم إلى :

### (أ) تثبيت بواسطة النباتات Phytostabilization

وتعرف بأنها استخدام النباتات المقاومة للملوثات بغرض التثبيت الميكانيكي للتربة الملوثة وذلك لمنع انتقال حبيبات التربة الملوثة بواسطة عوامل التعرية والهواء إلى البيئات الأخرى. بالإضافة إلى أن غسيل الملوثات يقل بشدة نتيجة لارتفاع معدل البخر - نتج من التربة المنزرعة بالمقارنة بالتربة غير المزروعة.

### (ب) تقييد الحركة بواسطة النباتات

### Phytoimmobilization

وهي استخدام النباتات لتقييد حركة وانتقال الملوثات الذائبة في التربة. ويعتبر هذا التعريف هو تعديل لتعريف phytostabilization والذي نعتقد أنه يعبر تعبيراً صحيحاً عما يحدث في الواقع.

## ب. عمليات إزالة الملوثات Removal Processes

وهي عمليات استخلاص المكونات العضوية والمعدنية من التربة عن طريق الامتصاص بواسطة النباتات وانتقالها إلى المجموع الخضري الموجود فوق سطح التربة (Salt et al., 1995a).

### (ii) عمليات التحلل بواسطة النباتات

### Phytodegradation



وهي عمليات الامتصاص والتحلل داخل النبات أو تحلل المواد العضوية بواسطة النباتات بمساعدة الميكروبات في منطقة الجذور  
.Rhizosphere (Cunningham, 1995)

### (iii) عمليات التطاير بواسطة النباتات Phtovolatilization

وتتم عن طريق إنزيمات متخصصة يمكنها تحويل وتحلل في النهاية تطاير الملوثات في نظام التربة – النبات والميكروبات ( Meagher & (Rugh, 1996).

وعن طريق الثلاث عمليات السابقة (الاستخلاص والتحلل والتطاير بواسطة النباتات) يمكن التخلص من ملوثات التربة وتتوقف درجة إزالة الملوثات من التربة على نوع الملوثات والخواص الجيوكيميائية للتربة. ونتيجة لأن البكتريا والفطريات في التربة مع الجذور تلعب دوراً هاماً في هذه العمليات فإننا سوف نشير إلى المعالجة النباتية بأنها نظام المعالجة النباتية والميكروبية.

**شكل (٢) :** رسم تخطيطي مبسط يوضح العمليات التي تجري عند استخدام النباتات لمعالجة الأراضي الملوثة (للعمليات الرئيسية توجد في الأشكال البيضاوية).

### النباتات المتحملة للملوثات Plant tolerance to pollutants

تكنولوجيا استخدام النباتات في معالجة الأراضي الملوثة تعتمد أساساً على مقاومة النباتات للملوثات والتي تعني مقدرة النباتات على تجميع تركيزات عالية من المواد السامة في أنسجتها دون أن تتأثر دورة حياتها. ولكي يتم تطوير النباتات المتحملة للملوثات يجب أولاً فهم مقاومة النباتات للأثر السام والضار للملوثات العضوية وغير العضوية.

## أ. تحمل النباتات للعناصر الثقيلة:

يوضح الشكل (2-3) الميكانيكيات المقترحة لكيفية تحمل النباتات للعناصر الثقيلة. فيعزى مقاومة النباتات للعناصر الثقيلة إلى ما يلي:

- (i) ارتباط العنصر بجدران الخلايا.
- (ii) وجود غشاء مقاوم للعناصر الثقيلة.
- (iii) النشاط الزائد للخلايا للتخلص من العناصر الثقيلة.
- (iv) وجود إنزيمات مقاومة للعناصر الثقيلة.
- (v) حصر العناصر الثقيلة في مكان واحد مثل تجمع العناصر في فجوات الخلايا vacuoles.
- (vi) خلب العناصر بواسطة الروابط العضوية أو غير العضوية.
- (vii) تركيب مركبات العنصر قليلة الذوبان.

ولقد أوضح العلماء (Obata et al., 1996, Thurman, 1981) حدوث عمليات بيوكيميائية تساعد على مقاومة النباتات للعناصر الثقيلة فحمض الفوسفاتير في جدران الخلايا و **Atpase** في غشاء بلازما خلايا الجذور يلعبان دوراً هاماً في التحولات التي تحدث للعناصر الثقيلة والتي تؤدي إلى إزالة الأثر السام للملوثات في النبات.

توجد الآن بعض النظريات تعزى مقاومة النباتات للعناصر الثقيلة إلى وجود جين معين متخصص فلقد أثبتت (Ortiz 1995) وجود جين مقاوم للعناصر الثقيلة داخل بعض النباتات يعمل على التحكم في انتقال الـ **Cd** المخلوب عبر غشاء النواة إلى مكان التخزين في خلايا الخميرة المقاومة للكادميوم. وعموماً حتى الآن لم يثبت بالدليل القاطع أن مقاومة

النباتات للعناصر الثقيلة يرجع إلى حين واحد فقط أم إلى مجموعة من الجينات داخل النبات.

ويعتبر حصر التركيزات الزائدة من العناصر في الفجوات العصارية (vacuoles) للخلايا أو في الأوراق استراتيجية فعالة يتبعها النبات لتفادي التأثير السام لهذه العناصر. ولقد ثبت بالفعل تجمع عنصري الكاديوم والزنك في فجوات خلايا النباتات المقاومة للعناصر (Brune- Vdzquez 1994).

كما أن تجمع العناصر في الأوراق وسقوط الأوراق فيما بعد تعتبر ميكانيكية محتملة يتبعها النبات لمقاومة العناصر الثقيلة. فإذا كانت النباتات المقاومة تتبع هذه الإستراتيجية لتحمل العناصر الثقيلة وكان كمية الأوراق المتساقطة كبيرة فهذا يعني أن هذه النباتات يجب ألا تستخدم في المعالجة النباتية للأراضي الملوثة.

## أجهزة وطرق تحليل التربة

### أهمية عينة التربة :

عينة التربة هي الجزء الممثل لها والذي يعكس تركيبها و خواصها. وتعتبر طريقة اخذ عينة التربة من الأهمية بمكان ، حيث يتوقف عليها مدى مطابقة نتائج التحليل المعملية للأمر الواقع على الطبيعة. ونظراً لأن التحاليل المعملية تعطينا فقط خواص العينة التي أرسلت للمختبر ، لذا فإنه في حالة عدم تمثيل العينة للمنطقة فإن النتائج تصبح عديمة القيمة و بالتالي فإن أي توصيات مبنية على هذه النتائج تصبح محدودة النفع و قد يؤدي تطبيقها إلى الإضرار بالتربة و هنا تظهر المسؤولية

الكبيرة التي تقع على عاتق الشخص القائم بأخذ العينة في وجوب تمثيلها لجزء متجانس من منطقة الدراسة أو للمشكلة المراد حلها.

## قواعد اخذ عينات التربة

- ١- عند اخذ عينات التربة يجب أن نضع نصب أعيننا الهدف من اخذ العينة لذا يجب أن يتم تحديد الموقع بما يتماشى مع الغرض من الدراسة أو يظهر المشكلة بوضعها الفعلي دون تحيز.
- ٢- في حالة دراسات التوسع الرأسي يجب الاستعانة بخريطة طبوغرافية أو خريطة تربة حديثة حيث أن توافرها يساعد كثيراً في تحديد مواقع اخذ العينات.
- ٣- تقسيم الحقل أو منطقة الدراسة إلى أجزاء يفيد كثيراً في تحقيق التماثل و التجانس داخل كل جزء حيث تؤخذ عينات من كل جزء على حدة .
- ٤- مساحة الجزء الممثلة له العينة يستحسن ألا تزيد عن ٢,٥ هكتار في دراسات الخصوبة و تحسين التربة ويفضل أن تقل عن ذلك ، كما يراعى أن تكون مساحة كل جزء متجانسة قدر الإمكان.
- ٥- يجب تجنب المناطق ذات الظروف الخاصة مثل مناطق أكوام الأسمدة أو تجمعات الماشية أو بالقرب من الحظائر و الطرق و الأسوار أو المنخفضات الصغيرة داخل الحقل.
- ٦- يختلف العمق الذي تؤخذ منه العينات حسب الهدف من الدراسة.

٧- عادة ما يفضل اخذ العينات من التربة عند سعتها الحقلية إلا أننا قد نضطر لأخذها مبتلة أو جافة فتؤخذ في أكياس بلاستيك و يجري تجهيزها بسرعة.

## أجهزة تحليل التربة

### الكروماتوجرافي الغازي والغازي السائل

#### Gas Chromatography: GC & liquid (Chromatography)

يعد الكروماتوجرافي الغازي من أدق وأسرع وأبسط وأهم طرق التحليل الأساسية لفصل ( Separation ) مكونات أي مخلوط من المركبات ثم تعريفها ( identification ) وهو ما يسمى بالتحليل الوصفي : النوعي ( Qualitative Analysis ) ثم تقدير كل مكون ( مركب ) على حده كميًا وهو ما يعرف بالتحليل الكمي ( Qualitative Analysis ) وبدرجة عالية من الحساسية والدقة والتي قد تصل على جزء في التريليون ( Part per trillion ) أي لمستوى البيكوجرام ( pictogram ) وذلك علاوة على السرعة في الفصل والتعريف والتقدير ( بما في ذلك المركبات المتطايرة ذات نقطة الغليان حتى ٣٥٠ م ).

ويرجع انتشار نطاق استخدامه إلى تنوع الأعمدة والكاشفات المستخدمة معه ( Detectors )

وتعد الفكرة الأساسية والمنبثقة منها فكرة عمل الجهاز هي عملية التجزيئي ( partitioning ) لمكونات مخلوط العينة الموجودة بين طورين هما :

## ١- الطور المتحرك : ( Un- stationary (Mobile )

يتمثل في الغاز النقي الحامل الخامل ( pure inert carrier Gas ) والمنساب داخل العمود ( Column ) بضغط معين ومعدل سريران معين ثابت يختلف تبعا للطريقة المستخدمة على نوعية التركيب الكيميائي لمخلوط العينة ودرجة قطبيته ( polarity ) .

وهنا يتوقف اختيار نوع الغاز الحامل على نوع الكاشف المستخدم ( Detector ) والذي بدوره يتوقف على طبيعة التركيب الكيميائي للمركب المستخدم ومن أمثلة هذه الغازات النيتروجين والهليوم والأرجون والهيدروجين .

## ٢- الطور الثابت : ( Stationary (Immobile) ) ( Phase

ويتمثل في طور سائل غير متطاير وغير متبخر - Non- Volatile & Non ( يغلف حبيبات المادة المدعمة المدعمة المعبأ بها العمود المادة المدعمة حيث يثبت العمود (قلب الجهاز) في فرن كهربائي ذو درجة حرارة متغيرة يتحكم فيها بالدرجة الواحدة وبالتالي يمكن التحكم في توزيع العينة وبدوره يتحكم في معدا ازاحتها حيث تتأثر مقدرة العمود على الفصل بتفاوت درجة الحرارة .

## كروماتوجرافي السائل عالي الأداء

High Performance Liquid Chromatography :  
(HPLC )

يعتبر كروماتوجرافي السائل عالي الأداء أحدي الطرق الأساسية لتحليل مخلفات السموم في بعض مكونات الأنظمة البيئية حيث يمتاز بالدقة والحساسية العالية شأنه شأن الكروماتوجرافي الغازي ( GC ) الكروماتوجرافي الغازي السائل ( GLC ) كما تظهر مميزات استخدامه في عدم الاعتماد على تطاير العينة أو تأثرها بالحرارة كما هو الحال في الكروماتوجرافي الغازي والغازي السائل هذا بالإضافة إلى كفاءة الفصل العالية جداً لفصل العديد من المركبات المختلفة .

ويقوم الجهاز بفصل مكونات العينة ثم التعرف عليها وتقديرها كميًا ويتم الفصل عن طريق توزيع العينة ما بين طورين :

□ أحدهما طور متحرك سائل :

□ والآخر طور ثابت سائل أو صلب والذي عادة يكون في عمود طوله حوالي ٢٥ سم وقطره الداخلي ٤ مم وتعتمد كفاءة الفصل على مواصفات العمود وبصفة خاصة على قطر جزيئات المادة المعبأة ويلاحظ أن خفض قطر الجزيئات يؤدي إلى تحسين أداء العمود ومن ناحية أخرى يرفع الضغط للحصول على معدل سريان مناسب للطور المتحرك خلال العمود ولهذا السبب فإنه يعبر عنها بالضغط العالي للكروماتوجرافي السائل.

## انتشار مبيدات الآفات في البيئة

تتعرض المناطق المختلفة للتلوث عندما تتسرب مبيدات الآفات من المخازن إلى البيئة المحيطة ويمكن أن يتم ذلك بطرق مختلفة منها:

ترشح المبيدات لداخل التربة .

- أو تنقل عن طريق الرياح .
  - ويمكن أن تنتشر عن طريق الجريان السطحي للمياه .
  - أو تنتقل بالصرف لتصل إلى المياه الجوفية وتنتشر .
- بالتالي في باطن الأرض بحيث تصل في النهاية إلى الأنهار أو البحيرات

وأهم الطرق السابقة للانتشار هي الرشح (لباطن التربة أو للمياه الجوفية)، ثم الانتشار بالرياح. أما الانتقال عن طريق الجريان السطحي للمياه فيمكن اعتباره صورة من صور الرشح. (ويمكن أخذ الجريان السطحي للمياه بالحسبان وذلك بتقدير المواقع التي تتجمع بها ومن ثم مواقع تسرب المبيدات، وبالتالي اعتبار هذه المواقع بمثابة المنطقة التي (حدث فيها الرشح).

أما الانتشار .والانتشار بالرياح يلوث سطح المنطقة المحيطة بالموقع عن طريق الرشح فيلوث التربة تحت موقع التخزين ويمكن أن يؤدي لتلوث المياه الجوفية، مما يترتب عليه بالتالي، لدى زيادة الانتشار، أن (يؤدي إلى تلويث المياه السطحية (كالأنهار والبحيرات).

والشكل التالي يلخص طرق الانتشار الممكنة. وتبين الخطوة ٢ أهم طريقتين من طرائق الانتشار، وتوضح كيفية حساب حجم المنطقة المتأثرة بالتلوث، كما توضح طريقة تقدير تركيزات المبيدات المتوقعة في المنطقة الملوثة. وهناك أربع خطوات يلزم إجراؤها بالترتيب لتقدير المنطقة الملوثة:

- الخطوة ١ تحديد أي من المبيدات المتسربة الجديرة .
- بالمتابعة أي تلك التي يمكن أن تحدث تلوثا .
- الخطوة ٢ تحديد ما إذا كان المبيد المحدث للتلوث قد .
- رشح في التربة والعمق الذي وصل إليه .
- الخطوة ٣ تحديد ما إذا كانت المبيدات المحدث للتلوث .
- قد تسربت إلى المياه الجوفية وفيما لو تم ذلك فأي .
- الأماكن حول المخزن يمكن أن تكون مياهها ملوثة .





ملحوظة. إذا كانت المبيدات المتسربة معروفة فيمكن الرجوع الى التذييل شائعا" (بطل "رقم ٣ والذي يحتوي على وصف لنحو ٤٠ مبيدا استخدامها) ويعطي معلومات متعلقة بأجزاء لاحقة في هذا الدليل أما المبيدات غير المدرجة في هذا الملحق، فيمكن إيجادها من المراجع المدرجة في التذييل رقم ٩ وعندما يتعذر التعرف على أي مبيد، فيمكن أخذ عينة بالطريقة الموضحة في الجزء الثالث (طرق الفحص)، وإرسالها إلى أحد المختبرات الكيميائية للتحليل

ثانيا، يستخدم الجدول ١-٢، تحديد المبيدات المتسربة والمحدثة للتلوث حيث أن المبيدات، التي قد تدخل عرضا" إلى البيئة، (Relevant) ليست كلها ضارة بالقدر الذي يمكن أن يحدث تلوثا" ويؤثر بالتالي على صحة الإنسان. لذا يجب التمييز بين المبيدات التي يرجح أن ينجم عنها (تلوث والمبيدات غير المحدثة للتلوث (غير المهمة

وعليه، فإن المبيدات المحدثة للتلوث هي تلك التي تكون قد تسربت بكميات كبيرة، والتي لا تتحلل بسهولة. ويعبر عن معدل تحلل المبيد في التربة. ( يتضمن DT50 أو (Half-Life عادة بفترة عمر النصف التذييل ٥ تعريفا وشرحا لتعبير عمر النصف ( . وعموما، إذا كانت فترة أقل من ستة أشهر، أعتبر ( DT50 عمر النصف لمبيد معين ) قيمة المبيد سريع التحلل ومن ثم غير محدث للتلوث وتكون إمكانية حدوث مخاطر صحية ناجمة عن تسرب مثل هذا المبيد ضئيلة. وإلى جانب معدل تحلل المبيد، فإن الكمية المتسربة أيضا" مهمة. وتسرب كميات أقل من ١٠٠ لتر أو ١٠٠ كيلوغرام من المبيد تعتبر قليلة إلى الحد الذي لا يتوقع معه حدوث تلوث يؤدي إلى مخاطر صحية

الجدول ١-٢

أ	ب	ج	د	هـ
المبيدات المتسربة	الكمية < ١٠٠ كغم أو ١٠٠ لتر؟ (نعم/لا)	فترة عمر النصف DT <sub>50</sub> (راجع التذييل ٣)	عمر النصف DT <sub>50</sub> < ١ / ٢ سنة؟ (نعم/لا)	هل المبيد محدث للتلوث؟ (نعم: إذا كان الجواب في عمود ب، هو نعم، وإلا فالجواب هو لا)

## الخلاصة

هل يمكن اعتبار المبيدات المتسربة مبيدات ملوثة؟

نعم/لا

إذا كان الجواب (لا) نقف أو تنتهي العملية، وإذا كان الجواب (نعم)، فيتم تسجيل المبيدات المحدثة للتلوث في الجدول ٣-١ ونتابع الخطوات من ٢ إلى ٦ لكل مبيد على حدة، من تلك التي شخّصت بأنها محدثة للتلوث.

المبيد المحدث للتلوث	الكمية المتسربة

## الخطوة ٢

### تقييم التلوث الناجم عن الرش

يجب التمييز أولاً " بين المبيدات المخزونة في العراء (تخزين مكشوف) والمبيدات المحفوظة في مخزن مسقوف.

### في حالة التخزين المكشوف

- في حالة المبيدات العالية الانتشار (ذات الحركية العالية) فإن التربة دون السطحية تكون ملوثة لمستوى المياه الجوفية أو إلى عمق يصل إلى أي طبقة منخفضة المسامية وفي المبيدات المتوسطة الانتشار، فإن التربة دون السطحية تكون ملوثة حتى مستوى المياه الجوفية، أو إلى عمق يصل إلى أي طبقة ذات مسامية متوسطة أو منخفضة.
- أما في المبيدات قليلة الانتشار، فإن طبقة التربة السطحية (تتعرض للتلوث حتى عمق ٠,٥ متر).

## في حالة التخزين في مخزن مسقوف

- إذا حدث تسرب لكميات كبيرة من مبيدات سائلة (أكثر من ١٠٠ م ٣ = ١٠٠ لتر)، وكان المبيد ذا سرعة انتشار عالية جدا" وكانت مسامية التربة عالية، فإن التلوث قد يصل لأعماق كبيرة تحت سطح التربة.
- وإذا حدث تسرب لكميات كبيرة من مبيدات سائلة (أكثر من ١٠٠ م ٣ = ١٠٠ لتر) وكان المبيد ذا سرعة انتشار عالية وكانت مسامية التربة متوسطة أو عالية، فإن التلوث قد يصل لعمق بضعة أمتار تحت سطح التربة.
- وفي جميع الحالات الأخرى، فإن التلوث لا يتجاوز التربة (السطحية (٠-٠,٥ متر).

## تقييم تركيز المبيد في التربة

ينطبق تعبير رشح المبيدات وارتشاح المبيدات في التربة على السوائل والمواد الصلبة (يلاحظ هنا أن الرشح قد يحدث في بعض المواقع التي تكون فيها المبيدات قد تجمعت بفعل المياه السطحية مثلا"، أو أثناء تحميل المبيد أو تفريغه). وتنساب المبيدات السائلة إلى التربة وتذوب في مياهها. أما المبيدات الصلبة فتنتشر عادة في مكان تخزينها على سطح بالرياح أو بالمياه السطحية) وقد ترشح إلى داخل التربة بعد أن (التربة تذوب في مياه الأمطار. وفي كلتا الحالتين، يقل تركيز المبيدات دائما" نتيجة ذوبانها في المياه الجوفية. وعليه فإن تركيز المبيدات في التربة يكون هو تركيز المبيد في مياه التربة. أما الحد الأعلى لتركيز المبيد في (التربة فيعتمد على ذوبانية المبيد في الماء (أنظر التذييل ٢

يستخدم الجدولان ٢-١ و ٢-٢ لحساب تركيز المبيد في التربة. ويرمز **C0** إلى تركيز المبيد بالرمز

$$\begin{cases} \text{if } \frac{L}{R \times A} \leq S \text{ then } C_0 = \frac{L}{R \times A} \\ \text{if } \frac{L}{R \times A} > S \text{ then } C_0 = S \end{cases}$$

جدول ١-٢

بيانات المحدثة للتلوث	M = كمية المبيد المتسرب (كغم أو لتر)	T = فترة التسرب (مقدرة بالسنوات)	L = الكمية السنوية المتسربة بالرشح (L=M/T) (كغم /سنة)

جدول ٢-٢

بيانات المحدثة للتلوث	L = كمية التحميل في السنة (كغم /سنة)	R = كمية المطر السنوي (م /سنة)	A = تقدر المساحة المعرضة للتسرب (م <sup>٢</sup> )	S = الذوبانية بالماء (كغم /م <sup>٣</sup> ) (راجع التذييل ٣)	تحتسب L/RXA (كغم /م <sup>٣</sup> )

## الخطوة ٣

### تقييم التلوث في المياه الجوفية

#### تقييم احتمال وصول التسرب إلى المياه الجوفية

يمكن للمرء أن يفترض عموماً أن المبيدات المتسربة التي ترشح في التربة ستصل في نهاية المطاف إلى المياه الجوفية، ما لم تجعل خواص المبيدات نفسها أو ظروف الموقع ذلك أمراً "مستبعداً". وتشمل الظروف المؤثرة على نض المبيدات إلى المياه الجوفية: كمية الأمطار، وحالة الصرف خلال التربة وعمق المياه الجوفية، وظروف تخزين المبيد ومدى تحركه وقابليته للتحلل.

ويمكن استخدام الجدول ٣- ١ للتنبؤ بانتقال المبيدات وتحركها نحو المياه الجوفية.

ويؤدي الجدول ٣- ١ إلى إحدى نتيجتين: إما أن المبيدات المتسربة ستصل إلى المياه الجوفية وإما أنها لن تصل. فإذا كان الاستنتاج أنها لن تصل، فإن ذلك يعني أن التسرب لن يؤدي إلى تلوث المياه الجوفية. ورغم هذا، فإن الحكمة تقتضي أخذ عينة أو اثنتين من المياه الجوفية للتحقق من صحة التنبؤ (راجع الجزء الثالث/ طرق الفحص). أما إذا كان

الاستنتاج الذي تم التوصل إليه من الجدول ٣-١ هو أن المبيدات المتسربة ستصل إلى المياه الجوفية، فتكون الخطوة التالية هي تقدير المدى الذي وصل إليه التلوث، وهذا ما توضحه الفقرة التالية.

## تعيين تركيز المبيد في المياه الجوفية

يؤدي انتشار المبيدات إلى المكامن الصخرية للمياه الجوفية إلى تلوث المياه الجوفية في بعض المواقع. وإذا كانت ( aquifers ) هذه المياه الجوفية تستخدم للشرب أو للري، أو كانت المياه تصب في نهر أو بحيرة يستخدم ماؤها لمثل هذه الأغراض، فإنه يتعين معرفة تركيز الملوثات في هذه المياه. ويمكن تقدير ذلك بحساب درجة تركيز المبيد ولإكمال هذه (C1) عند نقطة دخوله إلى مكامن المياه الجوفية الحسابات، يلزم معرفة بعض البيانات الهيدرولوجية عن موقع تخزين المبيدات. وتتوفر هذه البيانات عادة لدى وزارة الزراعة أو دوائر الموارد المائية.

ويمكن تعيين تركيز المبيد في المياه الجوفية تحت نقطة حدوث التسرب من المعادلات الآتية

$$\left\{ \begin{array}{l} \text{if } \frac{R \times \sqrt{A}}{q \times b} \leq 1 \text{ then } C_1 = C_0 \times \frac{R \times \sqrt{A}}{q \times b} \\ \text{if } \frac{R \times \sqrt{A}}{q \times b} > 1 \text{ then } C_1 = C_0 \end{array} \right.$$

جدول ١-٣

خطوة	البيانات (المدخلات)	القيمة	الاستنتاج حول حدوث التلوث
	عمق المياه الجوفية	$> ٢$ م	سيصل التلوث للمياه الجوفية دائماً
		$> ٥$ م	انتقل إلى الخطوة ٢
		$< ٥$ م	انتقل إلى الخطوة ٢
	كمية المبيد المتسربة	$< ١٠٠$ لتر أو $١٠٠$ كغم	انتقل إلى الخطوة ٣
		$> ١٠٠$ لتر أو $١٠٠$ كغم	لن تصل للمياه الجوفية ما لم تكن المياه قريبة من السطح (العمق أقل من ٢ م)
	المبيدات محفوظة بمخزن مقل أو نصف مفتوح (راجع الجدول ١ ملحق ١)	نعم	لن تصل للمياه الجوفية ما لم تكن المياه قريبة من السطح (العمق أقل من ٥ م)
		لا	انتقل إلى الخطوة ٤
	الفترة الزمنية منذ بداية التسرب	$>$ سنة	لن تصل للمياه الجوفية ما لم يكن المبيد عالي التحرك والانتشار
		$<$ سنة	انتقل إلى الخطوة ٥
	كمية المطر السنوية	$< ٢٠٠٠$ ملم	ستصل دوماً للمياه الجوفية
		$> = ٢٠٠٠$ ملم	انتقل إلى الخطوة ٦
	مدى تحرك المبيد (راجع الملحق ٢)	عال	ستصل دوماً للمياه الجوفية
		منخفض	انتقل إلى الخطوة ٧
	درجة التحلل (راجع الملحق ٣)	فترة عمر نصفي "عالية" (في التربة $> ١٠$ أيام)	لن يصل التلوث للمياه الجوفية
		فترة عمر نصفي "منخفضة" (في التربة $< ١٠$ أيام)	سيصل التلوث دوماً للمياه الجوفية

الجدول ٢-٣

البيانات / المدخلات	الوحدات	القيمة
يعين التدرج الهيدروليكي (الفضائية (ii)) -تستخدم قياسات منسوب المياه الجوفية أو خرائط مناسيب المياه الجوفية. تحسب (K)درجة التوصيل الهيدروليكي - استخدام جدول ٢-٣	بدون	
تحسب (q)وهي التصرف النوعي للمياه الجوفية $q = k \times i \times 365$	م / سنة m/year	
تقدر (A)وهي مساحة الموقع الذي حدث به التسرب (المساحة = (A)الطول × العرض)	م <sup>٢</sup>	
تحسب (R)وهي كمية الأمطار السنوية تحسب $R \times \sqrt{A}/q \times b$ (ياعتبار $b = 1$ م)	م / سنة m/year	
تحسب درجة التركيز $C_0$ (والمحسوبة بالخطوة ٢ هي التذييل ١)	كغم/م <sup>٣</sup>	

### الجدول ٣-٣

القيم القياسية لدرجة التوصيل الهيدروليكي (نفاذية التربة) للصخور والرواسب غير المتماسكة

نوعية المواد	قيمة K م / يوم (m/day)
الرواسب غير المتماسكة	
الحصى	١٠٠٠
الرمل المغسول	١٠٠
الطمي الرملي	١٠
الرواسب السلتية	١
رواسب التعرية الثلجية	٠.١
الرواسب الطينية البحرية	٠.٠٠١
الطفل	٠.٠٠٠١
الصخور	
الحجر الجيري منخبط	١٠٠٠
البازلت المسامي	١٠٠
الصخور التارية والمتحولة المتصدعة	١٠٠
الحجر الجيري وصخر الدولوميت بدون منخبط	١٠
الصخر الرملي غير المتصدع	١٠
الصخور التارية أو المتحولة غير المتصدعة	٠.٠٠٠٠١

ملحوظة: لدى وصول المبيد إلى مستوى المياه الجوفية، فإنه من المفترض أن يتم امتزاج المبيد مباشرة مع الطبقة العلوية من المنطقة المشبعة. ومنطقة الامتزاج هذه والقربة لمستوى الماء ذات سمك غير معلوم وليكن  $b$ . وفي التطبيق العملي يفترض أن سمك هذه الطبقة هو متر (أي  $b = 1m$ ) كما يفترض أيضاً أن الخزان الجوي ملوث ويعرض مساحة التخزين، وهذه المساحة هي المعبر عنها بأنها  $\sqrt{A}$ .

## الخطوة ٤

### تقدير الانتشار بواسطة الرياح

#### تقدير معدل انبعاث المبيدات من المخازن

غالباً ما يحدث الانتشار بواسطة الرياح لمسافات قصيرة نسبياً لا تتعدى عشرات الأمتار. وقد ينتشر الغبار في مساحات كبيرة بفعل الرياح القوية. غير أن كميات المبيد المنقولة بعيداً تكون صغيرة في هذه الحالة.

ولتقدير انتشار المبيدات عن طريق الرياح يلزم بداية معرفة ما إذا كانت ولا تنتشر المبيدات. المبيدات المحدثثة للتلوث قابلة للانتقال بالرياح أم لا بواسطة الرياح إلا إذا كانت في صورة مساحيق.

وثانياً، ينبغي معرفة صفات المخزن التالية

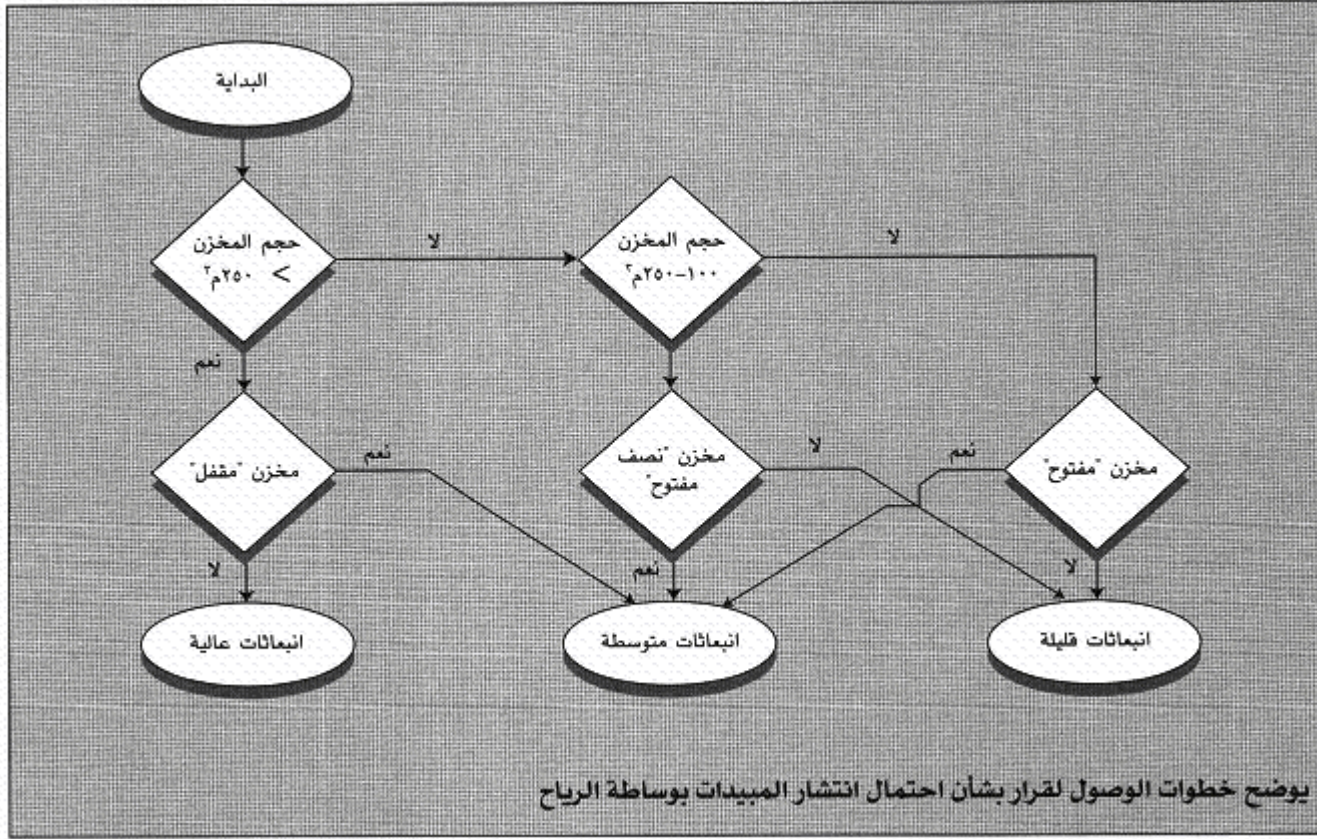


- (الارتفاع  $\times$  العرض  $\times$  حجم المخزن (الطول
- مدى "انكشاف انفتاح " المخزن (عند اتصال جدران المخزن بالسقف، يعتبر المخزن مقفلاً، أما إذا كانت الجدران غير موجودة فالمخزن يعتبر مفتوحاً وفي حالة وجود فتحات تهوية كبيرة بالمخزن أو كانت نوافذه مكسورة فالمخزن عندها يكون شبه (مفتوح).

الجدول ٤-١	
المبيد المحدت للتلوث	مسحوق ؟ (نعم/لا)

بعد ذلك يتعين معرفة خصائص موقع تخزين المبيدات، ويستلزم ذلك دراسة العناصر التالية:

يتم بعد ذلك تقدير مدى ارتفاع الانبعاثات الصادرة من المبيد (على النحو المبين في الشكل التوضيحي أدناه). ويمكن استخدام هذا الشكل في إجراء الخطوة ٦ المتعلقة بقياس درجة تركيز المبيد المنقول بالرياح وال المترسب في منطقة معينة وصلها التلوث.



## التعرف على المخاطر الصحية التي يمكن أن

### يسببها التلوث للإنسان

#### المقدمة

تم في الجزء الأول مناقشة وتقييم تسرب المبيدات واحتمال تلوث التربة والمياه الجوفية نتيجة لذلك. ويتناول هذا الجزء ما إذا كان هذا التلوث يشكل تهديدا لصحة الإنسان. فإن كانت هناك مخاطر، وجب القيام بالإجراءات الضرورية للحد من تلك المخاطر. وسيجري تناول هذه الإجراءات والاحتياطات في الجزء الثالث. وعندما لا يكون هناك مخاطر فإنه يمكن التغاضي عن التلوث ما دام لا يؤثر على صحة الإنسان. وفي كل الاحوال، فإن الحكمة تقتضي أن تؤخذ عينة أو أكثر ويتم فحصها من أجل التأكد من أن النتائج التي تم الحصول عليها باستخدام هذا الدليل تتفق مع التركيزات الفعلية في التربة أو المياه الجوفية بالموقع. أما كيفية إجراء طرق الفحص فهي موضحة في الجزء الثالث.

وعلى غرار الجزء الاول، يتضمن الجزء الثاني عدة خطوات يجب اتباعها لتحديد ما إذا كان التلوث يشكل مخاطر صحية للإنسان. فالخطوة ٥ مثلا تحدد إن كانت هناك نقاط مجاورة لموقع تخزين المبيدات يكون الإنسان فيها معرضا للتلوث. وهذه النقاط قد تكون منزلا أو بئرا" للمياه، أي أماكن يتردد عليها الناس كثيرا". والخطوة ٦ تحدد تركيزات المبيدات الممكن توقعها في المواقع المعرضة للتلوث. وتتناول الخطوة ٧ كيفية تعرض الناس، أي أنها تبين طرائق تعرضهم للتلوث. وأخيرا تبين الخطوة ٨ ما إذا كانت التركيزات قد تجاوزت "مستويات التعرض مستوى التلوث) المسموح بها"، وهي المستويات التي يعتبر التركيز الأقل منها مأمونا" بالنسبة للإنسان.

## الخطوة ٥

### تحديد نقاط التعرض للتلوث

#### نقاط التعرض في منطقة بها مياه جوفية ملوثة

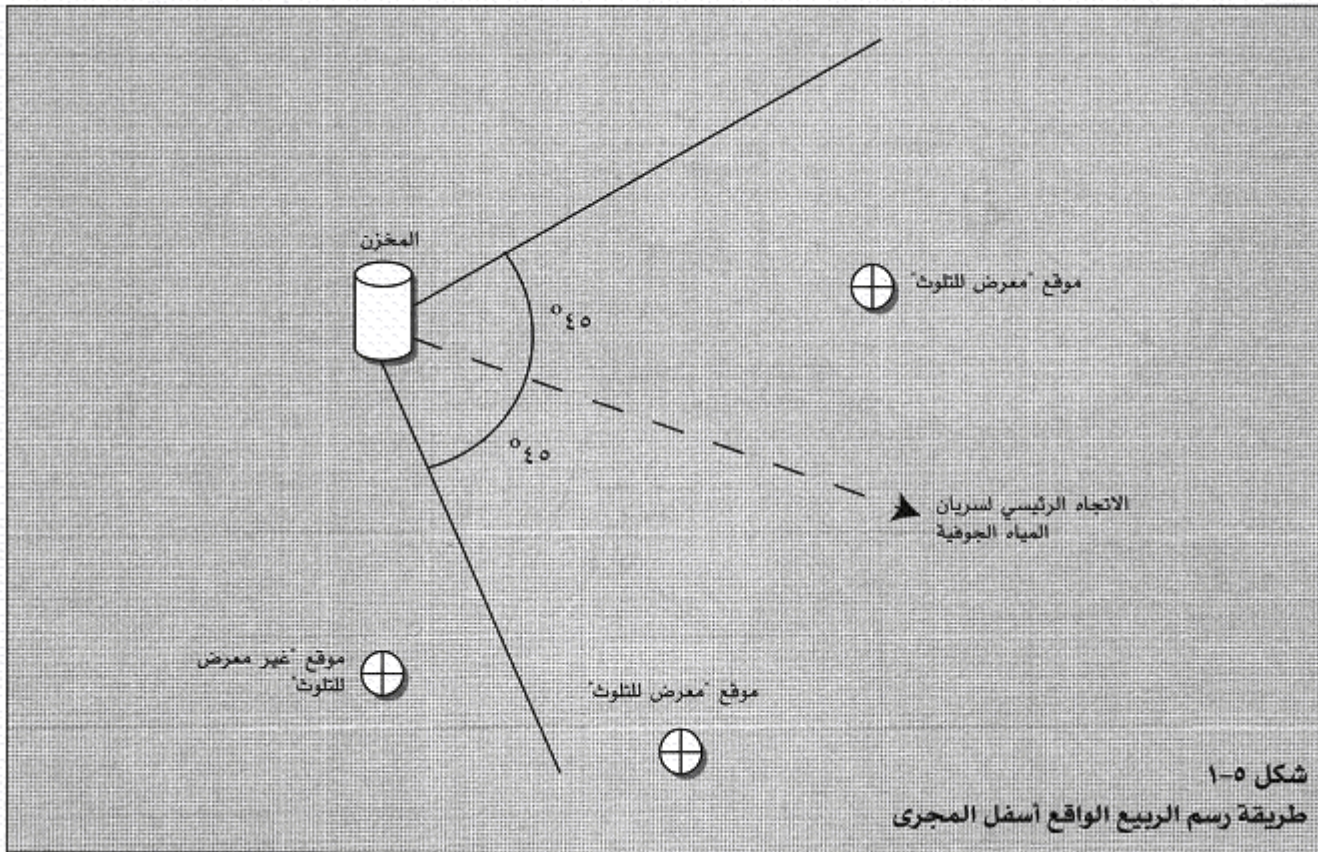
تشمل المواقع المعرضة للتلوث بالمبيدات، عن طريق المياه الجوفية، الآبار والينابيع والأنهار والبحيرات والخزانات المائية والبرك. ويلزم إعداد بيان بجميع المواقع المعرضة للتلوث في المنطقة المجاورة للمخزن مباشرة، وذلك ضمن دائرة نصف قطرها ٣٠٠ متر.

المسافة عن المخزن(م)	نقاط التعرض للتلوث (المياه الجوفية)

وهنا ننوه بأن نقاط التعرض المحتملة ليست كلها معرضة لخطر التلوث. ولتحديد درجة الخطر يمكن اتباع الخطوات الآتية:

- يحدد الاتجاه الرئيسي لسريان المياه الجوفية. وفي حالة عدم وجود قياسات لمناسيب المياه الجوفية يمكن استخدام الاتجاه الأكثر انحدارا ضمن طبوغرافية المنطقة.
- **quadrant** يحدد الربع الواقع أسفل المجرى **Downstream** ( برسم خطين تكون الزاوية بين كل منهما **545** وبين اتجاه الخط الرئيسي لسريان المياه الجوفية كما هو **545** وبين اتجاه الخط الرئيسي لسريان المياه الجوفية (موضح في الشكل (٥- ١)).
- يتم الكشف عن نقاط التعرض والأجسام المعرضة الواقعة ضمن ربع أسفل المجرى في الشكل ٥- ١، وتوسم هذه المواقع بأنها **at risk** معرضة للخطر .

وتكون نقاط **Point sinks** . وتعتبر آبار المياه والينابيع نقاط تجميع التجميع عادة معرضة للتلوث حتى لو وقعت خارج الربع المشار إليه.



يحسب نصف قطر التأثير (٣) لنقاط التجميع باستخدام المعادلة التالية

$$r = \frac{Q}{2 \times q \times D}$$

ولكل نقطة تجميع، يتم التحقق من أن نصف قطر التأثير للنقطة يتداخل مع ربع أسفل المجرى كما هو موضح بالشكل ٢-٥. وفي حالة وجود تداخل، توسم نقطة التجمع بأنها "نقطة معرضة للخطر".

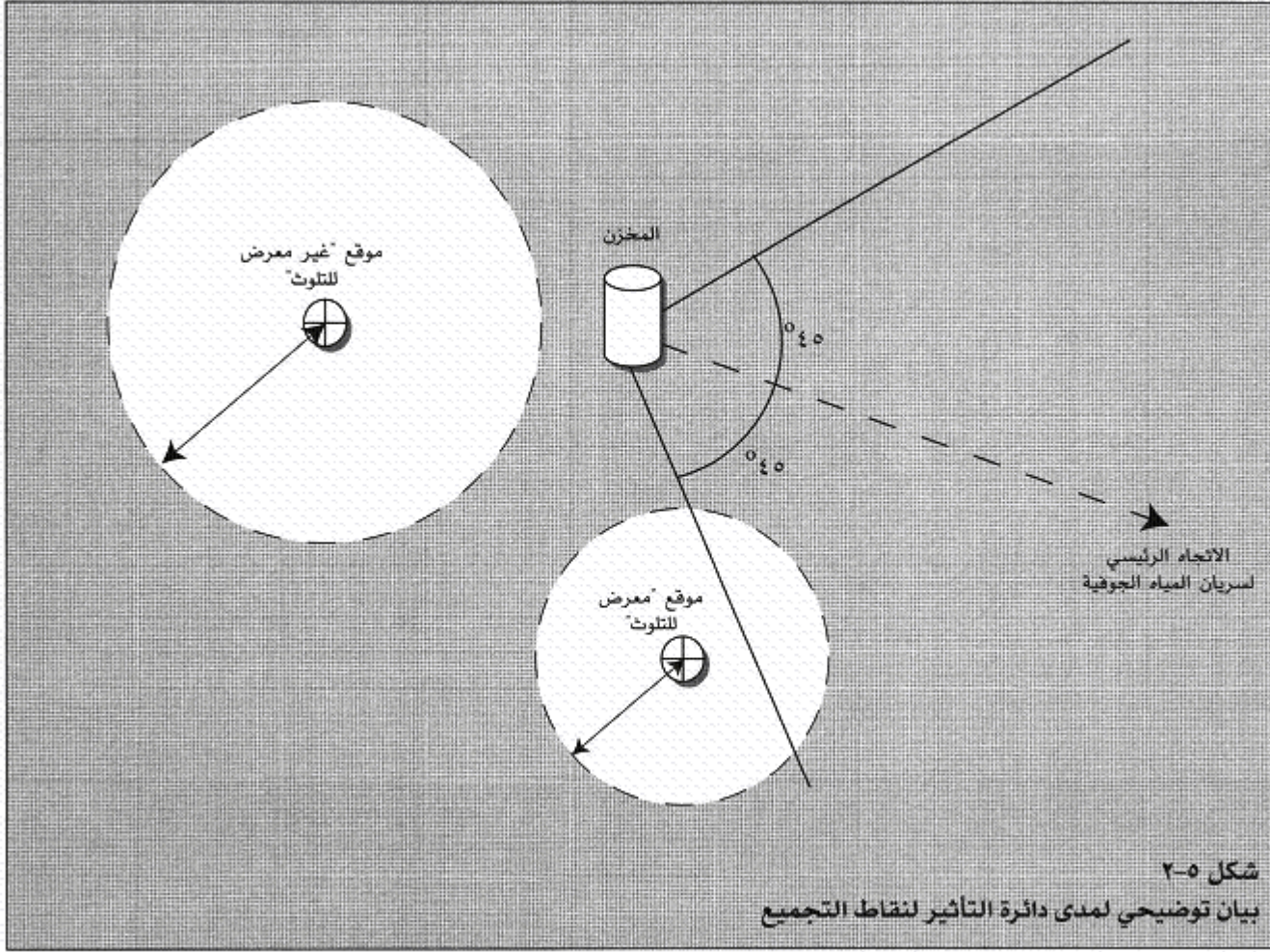
تعاد نفس الخطوات لكل النقاط والمواقع التي وسمت بأنها معرضة للخطر وتدرج بالجدول ٢-٥.

الجدول ٢-٥	
النقاط المعرضة للتلوث (المياه الجوفية)	المسافة من المخزن (م)

## نقاط التعرض في منطقة تعرضت فيها التربة السطحية للتلوث بواسطة الرياح

النقاط والمواقع المعرضة للتلوث عن طريق الرياح هي تلك المواقع التي يمكث فيها الناس لفترات طويلة من الزمن، مثل المساكن والمدارس وأماكن التجمعات وأماكن العمل. ويجب ... باستهلاكها في طعامه وتدرج كل النقاط المعرضة للخطر في المنطقة المحيطة بالمخزن مباشرة، في حدود دائرة نصف قطرها ٣٠٠ م.

الجدول ٣-٥	
النقاط المحتملة لتعرضها للتلوث (بواسطة المياه الجوفية)	المسافة من المخزن (م)



## الخطوة رقم ٦

التنبؤ بتركيزات المبيدات عند النقاط المعرضة

النقاط المعرضة لتلوث المياه الجوفية

طريقة حساب التركيزات عند النقاط المعرضة لتلوث مبيدة فيما يلي.  
 ((أنظر التذييل ٧)).

تحسب المسافة النسبية (٤) بين موقع المخزن وكل نقطة معرضة  
 للتلوث.

ويلاحظ هنا أنه بمجرد وصول المبيد الذائب إلى المياه الجوفية يفترض إذ يتحرك . أنه انتقل أفقيا وفي خط مستقيم باتجاه النقطة المعرضة للخطر . المبيد الذائب مع المياه الجوفية فيما يعرف باسم جبهة الانتشار .

الجدول ٦-١		
البيانات/المدخلات	الوحدات	القيمة
Log Koc من أخصائي الهيدرولوجيا	Log (ml/g)	
يحسب الثابت (a) من المعادلة $a = \log Koc - 3$	بدون	
يحسب التثبيط (R) من المعادلة $R = 0.3 + 2 \times 10^a$	بدون	
أحصل على (تصرف المياه الجوفية) - يراجع الجدول ٢-٣	م/سنة	
يحسب الوقت T (المدة منذ بداية التسرب)	سنة	
تحسب (s) المسافة الأفقية التي يقطعها مركز الكتلة لجبهة الانتشار وذلك من المعادلة: $s = q/R \times t$	م (متر)	
تقاس المسافة بين المخزن ونقطة التعرض (x)	م (متر)	
تحسب المسافة النسبية (d) من المعادلة: $d = x/s$	م (متر)	

ملحوظة. يعتمد حساب معامل التثبيط  $R$  على وحوود تكوين صخري معين يكون مساميا" لدرجة كافية (حوالي ٠،٣) ومحتويا" على نسبة ضئيلة للغاية من المادة العضوية (أقل من ٠،١ بالمائة). وهذه الأنواع من التكوينات الصخرية هي التكوينات الأكثر عرضه للتلوث

تعاد الخطوات الواردة في الجدول ٦-١ لكل نقاط التعرض وتدرج . النتائج في الجدول ٦-٢، على أن يتم التمييز بين الآبار والينابيع والأنهار من جهة والبحيرات والخزانات من جهة أخرى (في حدود متر). تحسب التركيزات عند نقاط التعرض (مثل الآبار 300 مسافة والينابيع والأنهار والبرك). وسوف يتناقص تلوث المياه الجوفية الناتج عن نفس المبيد تدريجيا" مع اختلاط المياه الملوثة بالمياه النظيفة .الموجودة في المكنن المائي الصخري .

الجدول ٦-٢	
المواقع المعرضة (الآبار والينابيع والأنهار)	المسافة النسبية (d)
المواقع المعرضة (البحيرات والخزانات)	

إن تلوث المياه الجوفية بالمبيدات الراشحة إليها سوف يتناقص تدريجياً كلما اختلط هذا الماء الملوث مع الماء النقي الموجود بالخرزان الجوفي ويلزم أولاً حساب نسبة الاختلاط ثم يحسب التركيز عند (aquifer) النقطة المعرضة للتلوث بضرب معامل الاختلاط في التركيز الأصلي وذلك تحت موقع المخزن ويعدل باستعمال معامل التصحيح المناسب. أنظر الجدول ٦-٣ والشكل ٦-١.

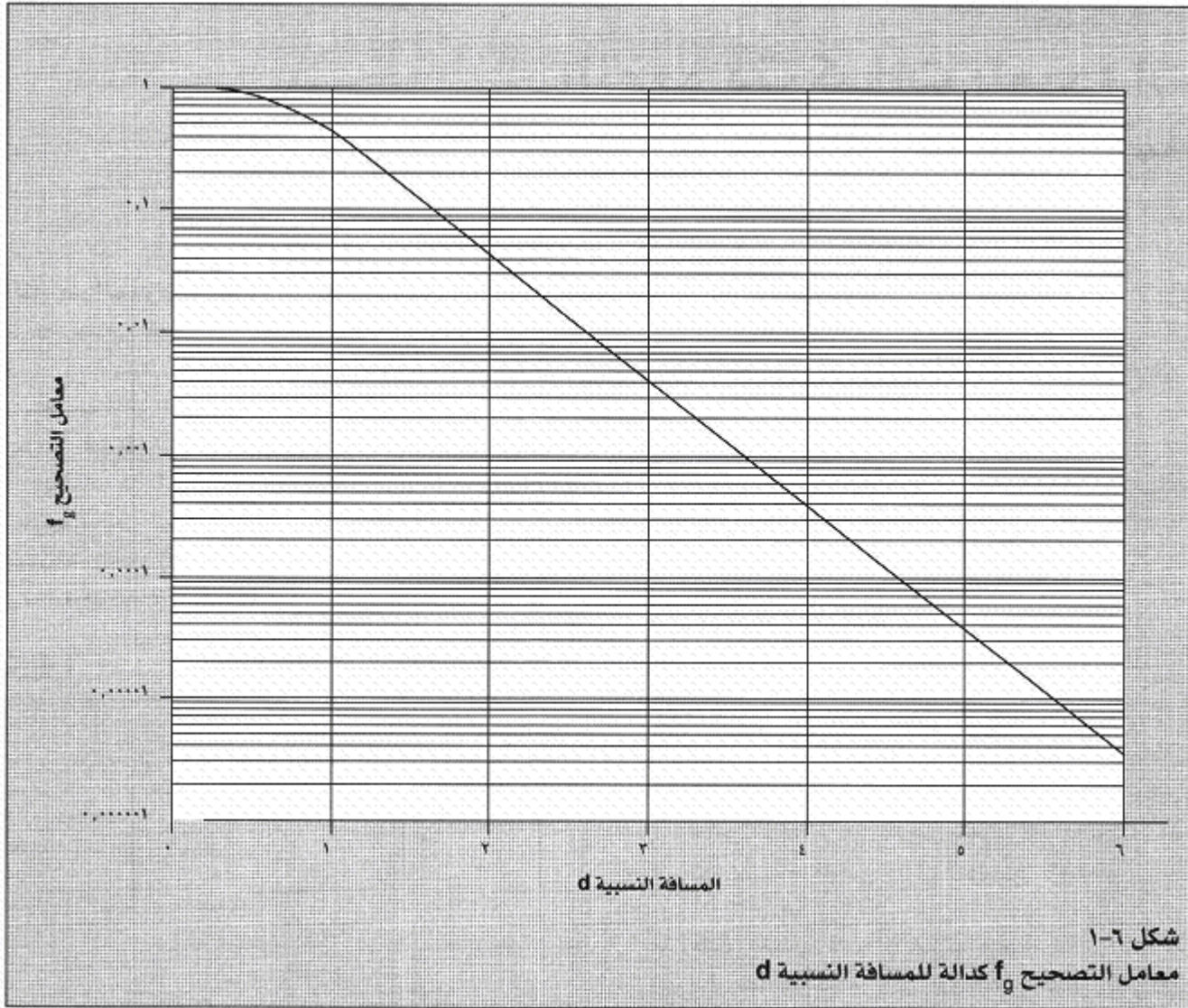
بالنسبة لأي بئر أو ينبوع أو نهر (mg) بعد ذلك تحسب نسبة الاختلاط، له كمية تدفق (٤)، على النحو التالي:

$$\begin{cases} \text{if } \frac{R \times A}{Q} \leq 1 \text{ then } m_g = \frac{R \times A}{Q} \\ \text{if } \frac{R \times A}{Q} > 1 \text{ then } m_g = 1 \end{cases}$$

وكلما بعدت المسافة عن مصدر التلوث، زاد انتشار المبيد خلال المكنن المائي الصخري نتيجة لما يسمى ديناميكية الانتشار الهيدروليكي ويمكن إغفال أي انتشار (hydrodynamic dispersion). للمبيد يكون عمودياً على المسار الرئيسي لحركة المياه الجوفية حيث أنه غالباً ما يكون ضئيلاً. كما يمكن أن يفترض أيضاً أن الانتشار يعادل ١٠٪ إلى الموقع المعرض للتلوث (x) من المسافة.

والذي (fg) وباستخدام هذه الافتراضات يمكن حساب معامل التصحيح يأخذ ديناميكية الانتشار الهيدروليكي بعين الاعتبار. وقد رسم معامل التي يقطعها مركز (d) التصحيح في الشكل ٦-١ كدالة للمسافة النسبية (fg) الكتلة لجبهة انتشار المبيد. ويستخدم الشكل ٦-١ لتعيين قيمة (d) المقابلة للمسافة النسبية





وتستخدم المعادلة المدرجة أدناه، لحساب تركيز المبيد في مياه بئر أو نهر أو ينبوع:

$$x \text{ fg} \times \text{mg} \text{ Cg} = \text{C1}$$

وعندما يكون مخزن المبيدات واقعا" على طرف بحيرة أو خزان مائي للبحيرة أو (ms) كبير، يحسب تركيز المبيد بإيجاد نسبة الأختلاط وذلك بتطبيق المعادلات (v) الخزان أو البركة باعتبار حجم الماء

$$\begin{cases} \text{if } \frac{R \times A \times T}{V} \leq 1 \text{ then } m_s = \frac{R \times A \times T}{V} \\ \text{if } \frac{R \times A \times T}{V} > 1 \text{ then } m_s = 1 \end{cases}$$

وهنا أيضا نجد أنه كلما بعدت المسافة عن مصدر التلوث ازداد انتشار نتيجة للانتشار (aquifer) المبيد خلال المكمن المائي الأرضي الهيدروليكي. ويفترض في هذه الحالة أن

المبيد سيتركز في كتلة المياه السطحية حتى يصل إلى درجة التركيز (C1) القصوى

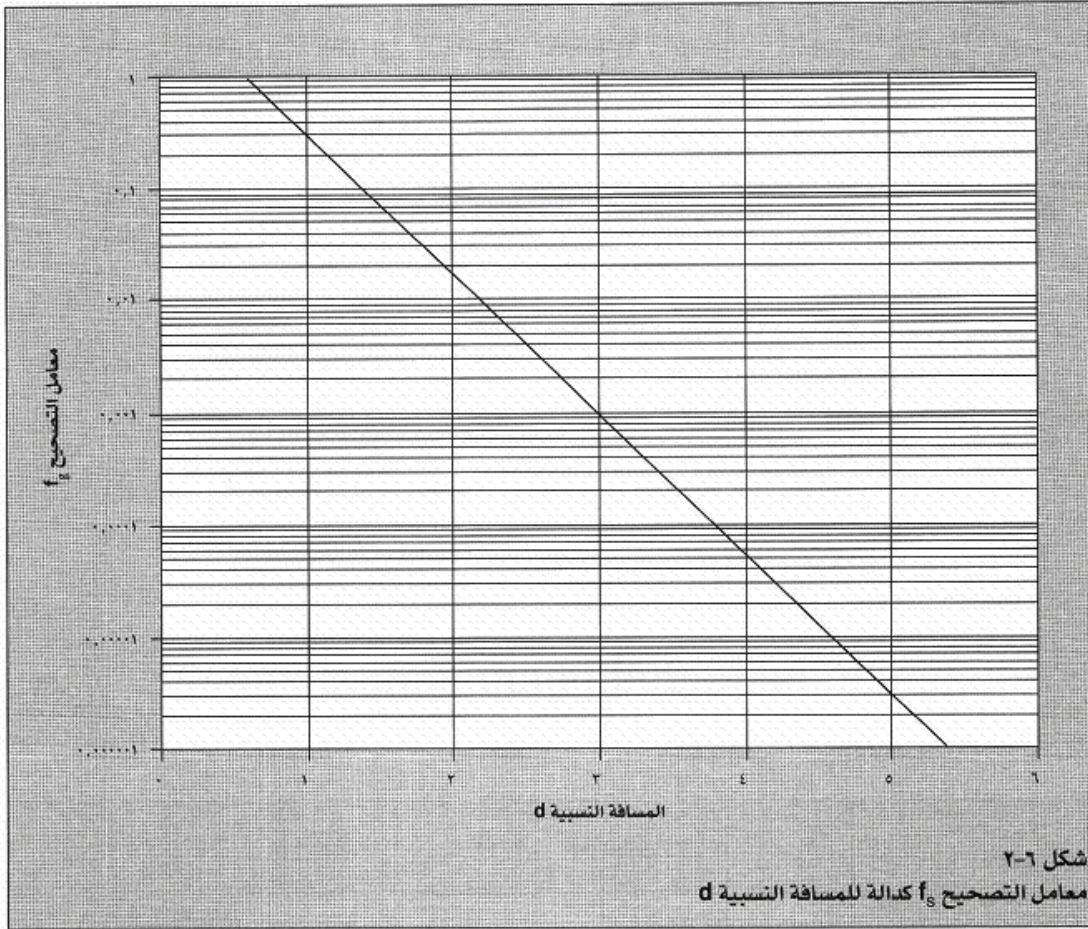
للمياه (fs) وباستخدام هذه الافتراضات، يمكن حساب معامل التصحيح ويبين الشكل. السطحية آخذين بالاعتبار ديناميكية الانتشار الهيدروليكي ٢-٦ معامل التصحيح كدالة للمسافة النسبية وهي المسافة التي يقطعها مركز الكتلة لجبهة الأنتشار.

(d) المقابلة للمسافة النسبية (fs) ويستخدم الشكل ٢-٦ لإيجاد قيمة

فيمكن حسابه من (c8) أما تركيز المبيد في بحيرة أو خزان مائي مثلا:  
المعادلة:

$$1x Fs x ms = C Cs$$

ولعد حساب التركيز في كل نقطة من النقاط المعرضة للتلوث يمكن تدوينه في الجدول ٢-٣



الجدول ٣-٦

الموقع المعرض للتلوث	درجة التركيز

الجدول ٤-٦

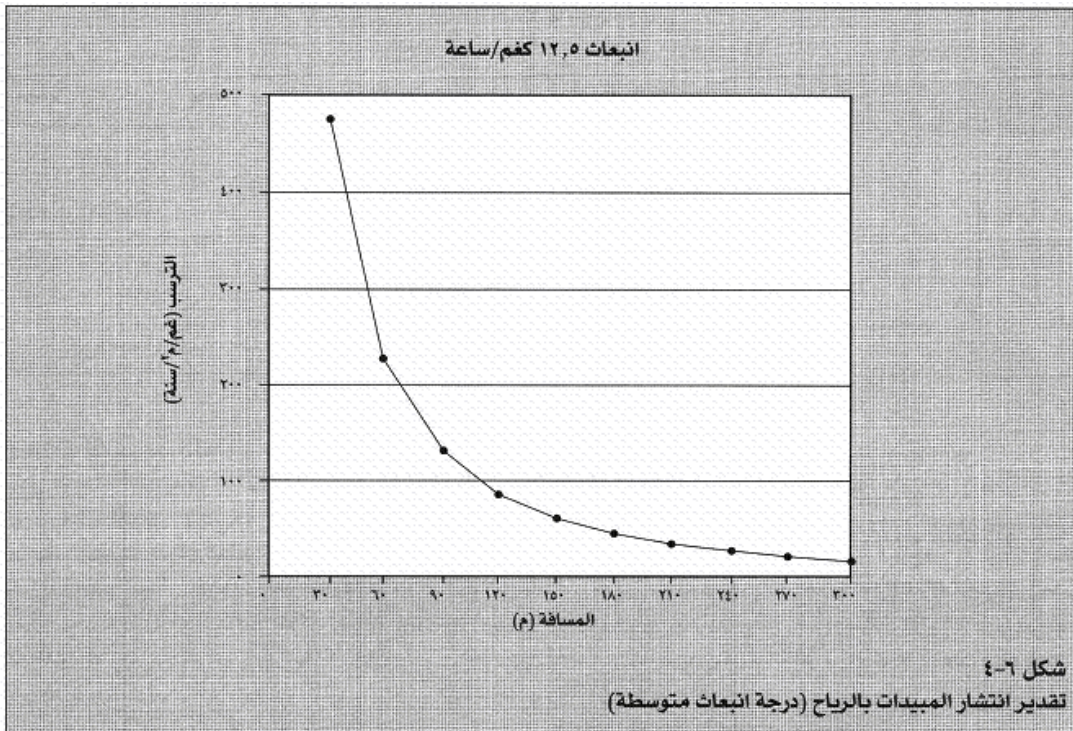
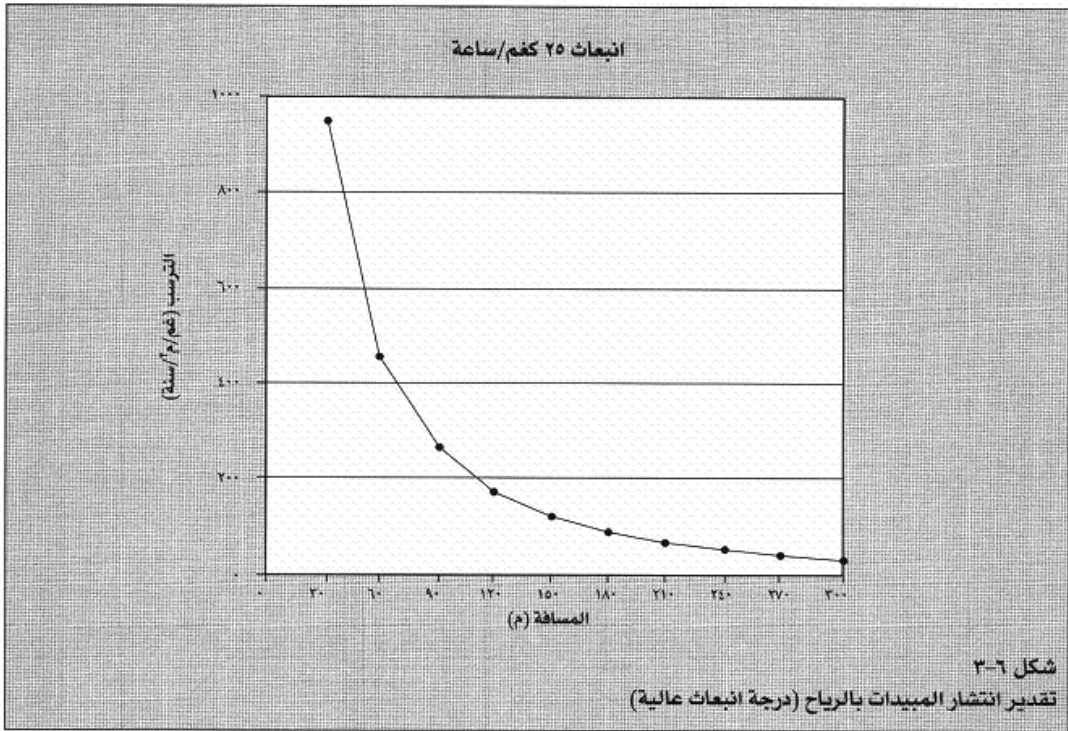
المبيد	التركيزات المسموح بها (حالة الملامسة المباشرة)

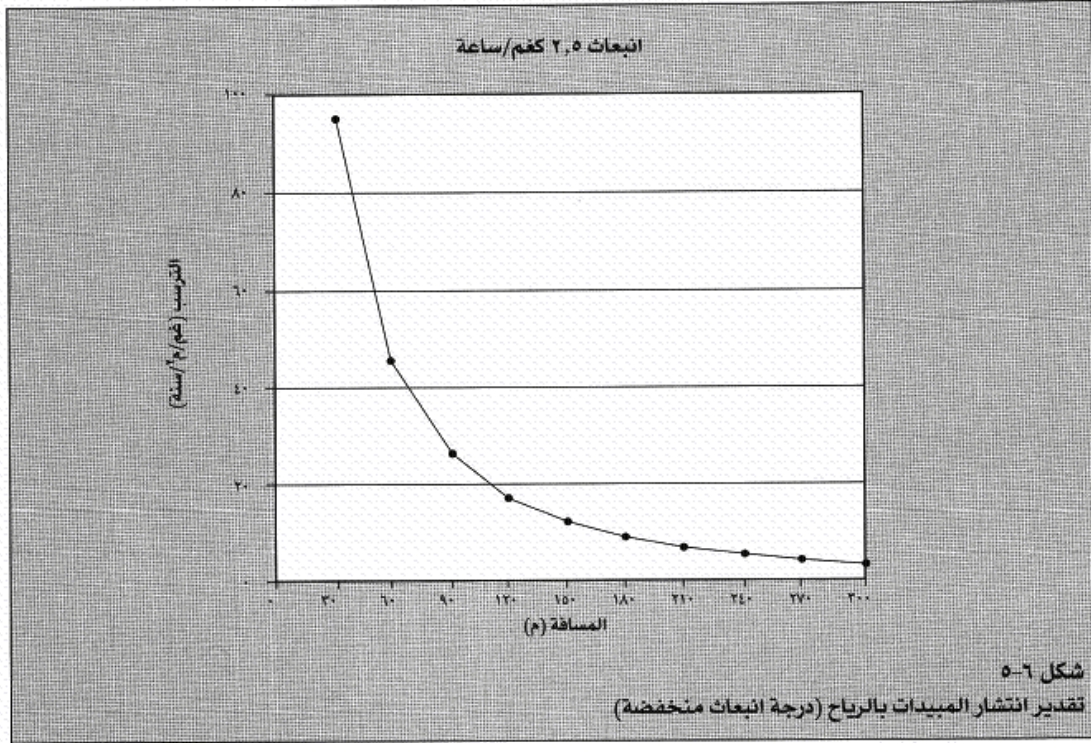
## النقاط المعرضة للتلوث بواسطة الرياح

يؤدي انتشار المبيدات بواسطة الرياح إلى انتقالها وترسبها كغبار فوق المنطقة المحيطة بموقع التخزين. ومجرد كون المنطقة أصبحت ملوثة بالمبيد لا يعني بالضرورة أنها أصبحت مصدر " يهدد صحة الإنسان. فقد يكون تركيز المبيد من الضآلة بحيث لا يحدث تأثيرا يذكر. لذلك فإن من المهم أن تعين التركيزات للتأكد من أنها لا تزال ضمن الحدود المسموح بها (أي تلك الحدود التي لا تؤثر في صحة الإنسان) أو أنها قد تجاوزتها.

ويبين التذييل ٣ التركيزات المسموح بها بالنسبة للملامسة المباشرة والمتعلقة باستهلاك الخضروات أو المنتجات (direct contact) الحيوانية أو ماء الشرب. (وهذه الحدود تطبق أيضا في حالة المبيدات المنتشرة بواسطة الرياح).

ويجدر بالإشارة هنا أن تحديد ما إذا كان التركيز يعتبر عاليا بدرجة تجعله خطرا على صحة الإنسان يتم بواسطة النماذج الحاسوبية لتقييم الخطورة . ( risk assessment models ) ونذكر هنا أن النموذج الذي استخدم في إعداد هذا الدليل (خاصة المتعلق بالتربة) هو نموذج موثوق علميا ومقبول على





المستوى الدولي. ويمكن الإطلاع على مزيد من المعلومات في التذييل ٦. ويمكن استعمال الجدول ٤-٦ لتسجيل النتائج. أما الأشكال ٦-٣ وحتى ٥-٦ فتبين تركيزات المبيد الممكن توقعها في المنطقة المحيطة المجاورة للحزن في جميع الاتجاهات. لذلك يمكن رسم دائرة حول المخزن لتوضيح حدود المنطقة المتأثرة بالرياح، وذلك بافتراض الاحتمال الأسوأ للتأثير. ذلك أن رسم دائرة حول الموقع يعني أن الرياح تهب من جميع الاتجاهات. (ويجدر بالإشارة أن الاتجاه السائد للرياح في المنطقة المعينة قد استخدم في نموذج الانتشار الذي طبق في رسم الأشكال من ٦-٣ إلى ٥-٦. وقد افترض أن الرياح تهب في الاتجاه السائد خلال ٢٥% من الوقت).

وبعد معرفة التركيزات المسموح بها للمبيدات المحدثة للتلوث، يمكن تحديد المنطقة التي حدث بها تجاوز لهذه الحدود. وقد استخدم لهذا الغرض نموذج قياسي للانتشار بالرياح، وترد النتائج في الأشكال ٦-٣ و٤-٦ و٥-٦ بحيث يبين كل شكل معدلاً معيناً للانتشار، وفق ما حدد (في الخطوة ٤).

والجدول ٤-٦ (والآن وباستخدام الشكل ٤-١) (تقييم معدل الانبعاث (الذي يحدد التركيزات المسموح بها)، وكذا الأشكال ٦-٣ حتى ٦-٥ التي تبين علاقة التركيز النسبي بالمسافة)، يمكن تقدير المبيدات (المترسبة عند النقاط المعرضة للتلوث

## الخطوة ٧

### تحديد طرائق التعرض للتلوث

لتقييم إمكانية تأثر الناس بالتلوث وهي العملية المسماة تقييم الخطر يجب أولاً تحديد الطرائق التي يمكن أن يتأثر (Risk assessment) بها الإنسان. ويتأثر الإنسان بطريقتين: التعرض المباشر وغير المباشر

عن طريق الاتصال (direct exposure) ويحدث التعرض المباشر:  
المباشر بالتربة. وذلك يكون من خلال

- ابتلاع بعض التربة،
- ملامسة الجلد للتربة؛
- استنشاق بعض حبيبات التربة؛

وفي جميع هذه الحالات فإن التربة السطحية هي المعنية هنا، أما الملامسة المباشرة للطبقات الأعمق فتصبح ذات أهمية إذا بدأ الإنسان بالحفر في التربة.

فهو ممكن (Indirect exposure) أما التعرض غير المباشر:  
بطرق مختلفة منها

- استهلاك المحاصيل أو الخضراوات أو الفواكه الناتجة من منطقة ملوثة.
- استهلاك المنتجات الحيوانية كاللحوم والألبان والأسماك.
- شرب مياه ملوثة.

ومن غير المعتاد أن يحدث التعرض لجميع الطرائق السابقة معا. فمثلا، إذا لم تكن هناك محاصيل مزروعة في المنطقة الملوثة فلا مجال بالطبع للتلوث عن طريق أكل الخضراوات أو الفواكه، وبذلك ينعدم احتمال التعرض ويستخدم الجدول ٧-١ لتسجيل طرائق التلوث المحتملة. بهذه الوسيلة ومن أجل تحديد طرائق التعرض للتلوث المحتملة، يلزم أخذ النقاط التالية في الاعتبار:

## التربة

- هل هناك سكان يعيشون داخل المنطقة الملوثة؟
- هل توجد مدارس أو مستشفيات داخل المنطقة الملوثة؟
- هل هناك محاصيل تزرع للاستهلاك الأدمي في المنطقة الملوثة؟
- هل هناك حيوانات ترعى في المنطقة الملوثة؟

## المياه

- هل الماء يستخدم للشرب؟
- هل الماء يستخدم للري؟
- هل الماء يستخدم لصيد الأسماك؟
- هل الماء يستخدم بانتظام لأغراض الاستحمام والغسيل (غسيل الملابس والأغذية والأواني وخلافه)، أو للسباحة؟

يتم الانتقال إلى الخطوة ٨ لطرائق التعرض المؤثرة فقط.

طرائق التلوث الممكنة	المواقع المعرضة
مياه الشرب	الآبار
مياه الري	الينابيع
صيد السمك	الأنهار
الماء المستخدم للاستحمام/الغسيل/السباحة	البحيرات
	الخزانات
	البرك
ملاصمة مباشرة	المنازل
استهلاك محاصيل أو خضراوات أو فواكه	المدارس
	أماكن الاجتماعات
	المستشفيات



## الخطوة ٨

### تحديد وقت تجاوز حدود التعرض المسموح بها

المخاطر (WHO) تحدد الهيئات الدولية مثل منظمة الصحة العالمية الصحية للمواد الكيميائية على الإنسان عادة عن طريق ما يسمى الجرعة وتشير ( Daily Intake/ADI Acceptable ) اليومية المقبولة الجرعة اليومية المقبولة إلى الكميات القصوى من مادة كيميائية معينة التي يمكن للإنسان تناولها يوميا" دون أن يظهر عليه أية أعراض مرضية.

### حدود التعرض المسموح بها بالنسبة للمياه الجوفية

يمكن أن يؤدي استهلاك المياه الجوفية الملوثة إلى تعرض صحة الإنسان للاخطار. وعندما تكون مستويات تلوث الماء بالمبيدات دون التركيزات وبالطبع .المسموح بها فإن استهلاكه لا يشكل أي مخاطر صحية للإنسان فإن التركيزات المسموح بها تختلف باختلاف المبيد وطريقة انتقال التلوث. ويمكن الرجوع إلى التذييل ٣ لمعرفة التركيزات المسموح بها، أو ما يسمى بمستويات التعرض. ويستخدم الجدول ٨- ١ لمقارنة هذه المستويات بالتركيزات التي يتم التنبؤ بها، وذلك لتحديد ما إذا كان قد تم تجاوز التركيزات المسموح بها.

### حدود التعرض المسموح بها بالنسبة للرياح

عندما تنتشر المبيدات بواسطة الرياح، فإنها يمكن أن تلوث التربة بالتناول أو (المحيطة بموقع التخزين. الملامسة المباشرة للتربة الملوثة بملامسة الجلد) أو غير المباشرة (استهلاك الخضر والفواكه المزروعة بموقع ملوث) قد تشكل مخاطر صحية للإنسان، وخاصة إذا كان قد تم تجاوز الحدود المسموح بها.

وبالنسبة للمبيدات المنتشرة بالرياح فإن المهم معرفة مستويات ترسب المبيدات. والتذييل ٣ يعطي الحدود المسموح بها حسب طرق التلوث

المحتملة. ولحساب مستويات الترسيب المسموح بها، تحسب عدد الساعات التي تم خلالها الرسب (الكلية) وذلك على النحو التالي:

$$Nd = M/\text{average emission level}$$

حيث:

.الساعات الذي تم خلالها الترسيب =Nd

average الكمية الكلية المترسبة (كغم أو لتر)- أنظر الجدول =M  
emission level = متوسط مستوى الانبعاث (كغم/ ساعة) (راجع  
(الخطوة ٤

الترسيب المسموح :ويمكن حساب الترسيب المسموح به على النحو التالي  
عدد ساعات / (24 X 365 X 0,5 X به = (التركيز المسموح به  
(الانبعاث (غم/ م ٢ / سنة

بعد معرفة الترسيب المسموح به، يقارن بالترسيب المتنبأ به (الخطوة ٦)،  
وذلك لكي يمكن تقرير ما إذا كانت التركيزات المتنبأ بها قد تجاوزت  
مستويات التعرض المسموح بها.

الجدول ٨-١				
نقطة التعرض	طريقة التعرض	التركيز المتنبأ به	مستوى التعرض المسموح به	هل تم تجاوز المستويات المسموح بها؟ (نعم/لا)

تحديد إجراءات المتابعة

الخطوة ٩

التحقق

تتناول الخطوات السابقة كيفية التنبؤ بنطاق التلوث والمخاطر المرتبطة به. وقبل اتخاذ أي إجراءات قد تكون مكلفة، فمن الحكمة أن يتم التحقق من صحة التنبؤات التي وضعت باستخدام هذا الدليل، والذي يستند أساساً إلى معلومات ونماذج رياضية عامة، ومن انطباقها على الموقع المعنى والظروف السائدة فيه.

## ويستوجب هذا الإجابة عن سؤاليين

- هل أنواع المبيدات التي وجدت في التربة أو المياه الجوفية هي نفسها التي تم التنبؤ بوجودها؟
- وهل تركيزات تلك المبيدات هي نفسها التي تم التنبؤ بها؟

وتبين الخطوة ٩ ما يجب عمله للإجابة عن السؤالين السابقين، وما ينبغي عمله إذا كانت النتائج مختلفة عن ما تم التنبؤ به.

## الفحص الميداني الحقل

تؤخذ عينات من التربة والمياه الجوفية ويتم إرسالها لمختبر تحاليل كيميائية لفحصها وتحليلها. ومن المهم بالطبع أن تؤخذ العينات بطريقة سليمة ومن المواقع الصحيحة، وإلا فإن النتائج لن تكون موثوقة ولن تفيد لأغراض التحقق المطلوبة.

## مواقع أخذ العينات

أنسب المواقع لأخذ العينات هي تلك التي يكون فيها الناس أكثر تعرضاً للتربة أو المياه. وتشمل هذه المواقع، الآبار المستخدمة لأغراض الشرب أو لسقي الحيوانات، والحقول المعدة للزراعة (خاصة لإنتاج الخضروات) والتربة السطحية بجوار المنازل والمدارس. وبالطبع فإن مواقع أخذ العينات يجب أن تقع ضمن حدود التلوث المتوقع بها حسب ما جاء في هذا ولدى اختيار مواقع أخذ العينات، فمن الضروري أن يؤخذ في الدليل الحسبان الاتجاه السائد للرياح بالمنطقة وكذلك اتجاه سريان المياه الجوفية. ويلزم أن تؤخذ العينات من أسفل المجرى سواء بالنسبة

**(downwind & downstream)** للمكمن المائي الجوفي أو بالنسبة لاتجاه الرياح اتجاه بالمكمن المائي الصخري الجوفي عادة يمكن معرفة من وزارة الزراعة أو من الإدارات المعنية بتخطيط استخدامات الأراضي والإدارات الهيدرولوجية. وتؤخذ العينات من أكثر المواقع قرباً من مكان تخزين المبيدات التي بطل استخدامها.

و عملية أخذ العينات لا تكون مجددة من المواقع المحتمل أن يكون قد حدث بها تلوث ناتج عن أعمال أو نشاطات أخرى. ومثال هذه المواقع غير المناسبة لأخذ العينات، يشمل الطرق والأماكن التي تخزن بها نفايات أخرى أو الأماكن المجاورة للمصانع أو الأماكن التي تلقى بها (النفايات (المقالب).

## كيفية أخذ عينات من المياه

سحب عينة من المياه الجوفية ليس أمراً "صعباً"، حيث تملأ زجاجة نظيفة بالماء ويستحسن أن يكون حجم العينة لتراً". كيفية أخذ عينة من التربة

أخذ عينات من التربة باستخدام طريقة موثوقة عالية الجودة. الهدف

أن يتم حفر التربة وأن تؤخذ العينة، والتي يلزم أن تكون ممثلة. الأساس لطبقة التربة المأخوذة منها، وأن لا تؤثر عملية الحفر على تركيز المادة الملوثة سواء بالتبخر أو التلوث من معدات الحفر أو العبوات المستخدمة لحفظ العينات. وعادة ما تؤخذ ثلاثة أنواع من عينات التربة

ويمكن أخذها ( **undisturbed** ) عينات تربة غير منقولة -1 أو أسطوانة رقيقة **Split - spoon** بواسطة ملعقة خاصة ويتم . ( **bucket auger** ) الجدران أو بمسبار تربة أسطواني سحب العينة بدفع الاسطوانة داخل التربة عن طريق الضغط أو الحركة اللولبية ثم ترسل العينات إلى المختبر

أو يتم تخزينها بالحقل. ويوصى بأخذ عينات غير منقولة، خاصة في تحاليل المركبات المتطايرة.

، ( Semi – undisturbed ) عينات شبه منقولة -2 (Piston sampler) ويمكن أخذها بواسطة المسبار ذي الكباس (sampler)

وهنا يتم كشط الأسطح الخارجية للعينة بواسطة سكين ، وتؤخذ الكتلة الداخلية للعينة وتوضع مباشرة في (Spatula) زجاجة لحفظ العينات.

ويمكن أخذها باستخدام ( disturbed ) عينات منقولة -3 ذي الساق الثابتة وتؤخذ العينة التي تكون (auger) المسبار تقريبا" منقولة من مكانها من جراء الحفر، ويمكن استخدام مثل هذه العينة لإجراء التحاليل الكيميائية. ويجدر بالإشارة هنا أن هذه العينات يمكن أخذها أيضا

الجدول ٩-١

مسح لحجم العينات وبيانات عن ترشح وحفظ عينات المياه الجوفية في الحقل

التحليل	الزجاجة	مغلقة	مرشح	الرمز	الحفظ	مدة الحفظ
	الحجم (لتر)	اللون			الكمية	
مذيبات أروماتية وكلورية وكلوروبنزينات متطايرة	٠,٢٥	أخضر	نعم	HNO <sub>3</sub> pH<2	٠,٢ مليلتر	٧ أيام
كلوروفينولات وفينولات (GC)	٠,٥	أخضر	نعم			٢٤ ساعة
كروم (سداسي)	٠,٥	أخضر	نعم			٢٤ ساعة
سيانيد	٠,٢٥	أخضر	نعم	N <sub>2</sub> HO pH=12	٠,٢٥ مليلتر	٢٤ ساعة
BOX	١	أخضر	نعم			٢٤ ساعة
فينولات (متطايرة)	٠,٢٥	أخضر	نعم	H <sub>3</sub> PO <sub>4</sub> pH<4 CuSo	٠,٢٥ غم	٢٤ ساعة
GC-MS (متطايرة)	١	أخضر	نعم			٢٤ ساعة
GC-MS (نصف متطايرة)	١	أخضر	نعم			٢٤ ساعة
زئبق	٠,٢٥	أبيض	لا	HNO <sub>3</sub> pH<1 K <sub>2</sub> Cr <sub>2</sub> O <sub>7</sub>	٠,٢ مليلتر ٠,٠٥ غم	١ شهر
معادن ثقيلة	٠,٢٥	أبيض	لا	HNO <sub>3</sub> pH<2	٠,٢ مليلتر	١ شهر
كلوروبنزينات غير متطايرة	١	أخضر	نعم	HNO <sub>3</sub> pH<2	٠,٧٥ مليلتر	٧ أيام
نيتروفينولات	١	أخضر	نعم			٢٤ ساعة
زيوت GC	٠,٥	أخضر	نعم	HNO <sub>3</sub> or HCl pH<2		٧ أيام
مبيدات فوسفورية ونيتروجينية	١	أخضر	نعم			٢٤ ساعة
PAH (هيدروكربونات أروماتية حلقة عديدة)	١	أخضر	نعم	HNO <sub>3</sub> pH<2	٠,٧٥ مليلتر	٢٤ ساعة
PCBS مبيدات كلورية	١	أخضر	نعم			٧ أيام
كلوريد الفينيل	٠,٠٢	أبيض	لا			(٢٤ ساعة)
هيدروكربونات متطايرة (C <sub>4</sub> -G <sub>4</sub> )	٠,٥	أخضر	نعم	HNO <sub>3</sub> pH<2	٠,٤ مليلتر	٧ أيام
VOX	٠,٢٥	أخضر	نعم	HNO <sub>3</sub> pH<2	٠,٢ مليلتر	٧ أيام
ماء - مذيبات وأكريلات	٠,٢٥	أخضر	نعم			٢٤ ساعة

\* المواصفات التي يستخدمها فيما التابو: يحقن ١٥ مليلتر من العينة في عموث سعتها ٢٠ مليلتر ثم توضع ثلاث عموث لكل بر

ثم يتم ( profile ) عن طريق عمل قطاع (حفرة) في التربة  
سحب العينات مباشرة من الطبقات المحددة بواسطة سكين

### المعدات اللازمة

- دقائق من البلاستيك،
- قفازات مطاطية؛
- زجاجات حفظ عينات ذات غطاء لولبي محكم؛
- ملعقة؛
- ملعقة أخذ العينات، مسبار تربة اسطواني ذو جدران رقيقة،
- مسبار تربة أسطواني،
- صناديق تبريد .

### الخطوات العامة

- تلبس القفازات أثناء سحب العينات لتجنب ملامسة اليدين  
للتربة الملوثة
- لحفظ العينات (PE) تستعمل رقائق من البولي إيثيلين  
والمعدات
- تؤخذ عينات من كل تربة تبعا" لنوعها (حسب قوام التربة  
ومحتواها من المادة العضوية) وكذلك حسب درجات التلوث  
"وعموما ((بالملاحظة المبدئية بالحواس  
لا يتعدى العمق لكل عينة ٥٠ سم من التربة التي يتم  
حفرها

:ما يجب عمله في حالة تحليل المركبات المتطورة

- من المهم أن يتم إرسال العينات مباشرة وبدون تأخير من  
جهاز أخذ العينات إلى صندوق تبريد وتحفظ مبردة لتجنب  
أي فقد بالتطاير

- تظل زجاجات حفظ العينات مقفلة بقدر الإمكان فيما بين عمليات التعبئة المختلفة.
- يراعى أن تملأ كل زجاجة بكامل سعتها بالعينة، ثم يتم تنظيف غطاء الزجاجات جيدا" وتقفل الزجاجات بإحكام لتقليل احتمال تطاير المادة الملوثة أو تبخرها.

:مايجب عمله في حالة تحليل المواد غير المتطورة

تنقل العينات المأخوذة على عمق ٥٠ سم من سطح التربة، من جهاز سحب العينات وترص بالترتيب على رقائق من البلاستيك

- العينات المأخوذة بواسطة المسار ذي الكباس توضع على غطاء في (PVC) البلاستيك أو في أنبوبة واسعة من مادة بي في سي صف واحد طويل، ولقياس طول العينة المسحوبة يوضع شريط قياس محاذيا لعينات التربة المصفوفة على رقائق البلاستيك

يلاحظ هنا أن أخذ العينة مباشرة من جهاز سحب العينات يمكن أن يؤثر على مدى تمثيل العينة مقارنة بالعينة المسحوبة من مباشرة). وفي حالة المركبات المتطايرة، لا يكون هذا (التربة التأثير مهما" إذا ما قورن بالتأثير المتعلق بالتطاير

### إرشادات بشأن تعبئة الزجاجات بالعينات

- تجمع العينات من التربة "الأقل تلوثا" باستخدام سكين التربة أو بواسطة غطاء الزجاجات، وتدخل العينة بالزجاجة باستخدام السطح (الداخلي للغطاء التجنب التلوث بالحبر المكتوب على الغطاء
- عند أخذ عينات من الرمل والطين، تفتت كتل الطين باليد (باستخدام قفازات مطاطية نظيفة)، أو تقطع الكتل بسكين خاص
- لضمان تمثيل عينة التربة للقطاع الذي أخذت منه، تراجع مواقع بحيث تكون موزعة بانتظام (Sub samples) العينات الجزئية على أجزاء القطاع
- تم لأ كل زجاجة حسب سعتها بعينة التربة، ثم يجرى تنظيف الغطاء وتقفل الزجاجات بإحكام

توسم زجاجات عينات التربة وتسجل عليها البيانات -وسم عينات التربة الآتية: اسم الموقع، والقطاع، وعمق القطاع، وتاريخ أخذ العينة.

تخزين ونقل عينات المتربط- يجب حفظ جميع زجاجات العينات واسطوانات سحب العينات المملوءة بالتربة في مكان بارد بقدر الإمكان في درجة حرارة ٢-٤ مئوية تقريبا" طوال عملية أخذ العينات في الحقل، وأن يكون المكان بعيدا" عن أشعة الشمس المباشرة. ويجب أن تنقل العينات لمختبر التحاليل في أقرب فرصة ممكنة بعد انتهاء العمل الحقلية. أما العينات والبقايا التي لن تحفظ لإجراء التحاليل ينبغي أن تخزن أو يتم التخلص منها في مكان مناسب بالتفاهم مع مشرف الموقع.

فترة الاحتفاظ بعينات التربة في المختبر هي فترة -فترة الاحتفاظ بالعينات محدودة وذلك بسبب إمكانية التطاير والتحلل البيولوجي، لذا يجب استخلاص المواد الموجودة في عينة التربة بالمختبر خلال فترة الاحتفاظ (بها والتي يبينها الجدول (٩-٢)

يسجل في دفتر "سجل العينات" الأرقام -إعداد النتائج والتقارير وبعد اكتمال العمل .والقطاعات والاعماق التي أخذت عندها عينات التربة الميداني، تدون البيانات المتعلقة بجميع عينات التربة بحسب ترتيب جمعها.

## كيفية تحليل العينات

تجرى التحاليل على عينات التربة للكشف عن المبيدات المتوقع وجودها حسب ما أوضحه هذا الدليل، وكذلك لكشف وجود أية مبيدات أخرى ضارة، غير تلك التي تم التنبؤ بوجودها. ولأن هناك المئات من المبيدات المختلفة، لذا فإن محاولة الكشف عنها كلها سيكون أمرا" مكلفا" للغاية. لذا فالحل الأنسب أن يطلب من المختبر تحليل العينات للكشف عن وجود أنواع من المبيدات التي تظهر أعلى التركيزات. ومعظم المختبرات تكون قادرة على الكشف عن هذه المبيدات باستخدام أجهزة التحاليل مثل جهاز (gas chromatography) الكروماتوغراف الغازي (atomic absorption) الامتصاص الذري.



## ما يجب عمله إذا اختلفت النتائج عن النتائج المتنبأ بها

عندما تكون التركيزات أقل من التركيزات المتنبأ بها

يستخدم هذا الدليل للتنبؤ بالتلوث والمخاطر الناجمة عنه، نتيجة سوء (worst - case) تخزين المبيدات، وعلى افتراض أسوأ الاحتمالات وبعبارة أخرى فإن "الدليل" يتوقع وجود منطقة ملوثة. (worst - case scenario). على امتداد أوسع مساحة أو مدى معقول عمليا". كما يفترض كذلك أن تركيزات المبيد في كافة أنحاء هذه المنطقة هي التركيزات القصوى المتنبأ بها.

وفي الواقع، فإن التركيزات تكون أقل من تلك على أساس الرياح السائدة أو لنمط انتشار المياه وجريانها. لذلك فإن عملية التحقق غالباً ما تسفر عن تركيزات أقل من التركيزات المتنبأ بها، وفي هذه الحالة، تهمل القيم المنخفضة ونتابع التحليل وكأن القيم المتنبأ بها هي التي أسفر عنها التحليل. ويمكن أخذ عينات مرة ثانية وذلك لأجل تأكيد نتائج التحليل الأول، فإذا ما أظهرت نتائج هذه التحليل الأخير أنها أيضاً أقل من تلك المتنبأ، فعندها يستخدم المتوسط الناتج من تحليل العينات، عوضاً عن تلك القيم المتنبأ بها باستخدام الدليل.

الجدول ٩-٢  
فترة الانتظار لبعض المواد الملوثة

المادة الملوثة	فترة الاحتفاظ بالعينة
المبيدات	٢٤ ساعة
VOX	٢٤ ساعة
الفينولات	٢٤ ساعة
المبيدات الكلورية، صمغاً	٧ أيام
خطوط، تبيد	٤٨ ساعة
غاز	٢٤ ساعة
فضا	٧ أيام
الكروم السداسي	٤٨ ساعة
الزئبق (الكلبي)	١٥ يوماً
المعادن	غير محددة

## عندما تكون التركيزات أكبر من التركيزات المتنبأ بها

إذا كانت التركيزات التي أسفر عنها تحليل العينات أعلى من القيم المتنبأ بها من خلال الدليل، فإن من المهم إعادة أخذ العينات وإجراء التحاليل،

لأن النتائج المتحصل عليها من التحليل لمرة واحدة لا تكون موثوقة إلا إذا تأكدت بتحليل إضافي. أما إذا أسفر التحليل الثاني عن قيم أعلى من تلك المتنبأ بها، فيؤخذ متوسط النتائج من التحليلين عوضاً عن القيم أما إذا كانت نتيجة التحليل الثاني أقل من المتنبأ بها باستخدام الدليل القيمة المتنبأ بها، فعندها يمكن إما اعتماد القيمة المتوقعة أو إعادة التحليل للمرة الثالثة.

## الخطوة ١٠

### الإجراءات التي تتخذ في حالة التلوث بالمبيدات

#### التخلص من المبيدات التي بطل استخدامها

عندما يتسبب كل العبوات المحتوية على المبيدات المهجورة في حدوث تلوث، فإن إجراءات محددة (قد تكون في بعض الأحيان بسيطة أو قد تكون معقدة ومكلفة) يجب أن تتخذ وذلك تلافياً لمزيد من الأضرار.

من الواجب بداية أن يجري التعامل مع المشكلة المتعلقة بالطرق غير السليمة المتبعة لتخزين المبيدات، ذلك أن المبيدات وعبواتها المتآكلة وكذلك التربة التي تعرضت لقدرة كبير من التلوث يجب أن توضع كلها في عبوات مناسبة ومحكمة.

ومنعا لتكرار مثل هذه المشكلة، يجب نقل المبيدات ومعاملتها بطريقة ناجعة والتي غالباً ما تكون حرقها في محارق مخصصة لحرق النفايات وقد يلزم حرق بعض المبيدات في أفران (waste incinerators) إسمنتية بشرط أن تشغل هذه الأفران بطريقة جيدة، خاصة أن هذه الطريقة الأخيرة لا تزال موضع جدال.

### التخلص من التربة أو المياه الجوفية الملوثة

قد يستدعي الأمر اتخاذ إجراءات لتطهير المنطقة الملوثة بالمبيدات. وهناك ثلاثة أنواع رئيسية من الإجراءات:

إزالة الأجزاء الملوثة (كحفر وإزالة التربة التي لوثت أو ضخ المياه الجوفية)؛

احتواء التلوث الحاصل (كغطية المواقع الملوثة بالبناء عليها أو رصفها بالإسفلت أو بأية مواد عازلة غير منفذة، وكذلك حجز الماء ، (downstream) الجوفي وإيقاف حركته باتجاه أسفل المجرى

منع ملامسة المبيدات للإنسان (مثل تغطية موقع التلوث بتربة نظيفة . (أو إقامة سياج حول الموقع، أو إغلاق آبار المياه الملوثة

وإزالة التلوث تعنى أيضا" أن المادة الملوثة التي تتم إزالتها يجب أن توضع في مكان مأمون. فالترربة التي تلوثت عادة ما يتم إلّاؤها في أما **controlled landfills** أماكن خاصة مقابل قمامة نظامية المياه الجوفية فتتم معالجتها لإزالة التلوث ثم يتم صرفها. ويحسن تجنب استعمال مقابل القمامة في هذه الحالة قدر الإمكان. ويلاحظ هنا أن التدابير التي

كمعالجة التلوث بنفس الموقع (دون نقله أو (in-situ) تتم في الموقع سيكون عادة متعذرا في حالة المبيدات التي بطل استخدامها وذلك (إزالته عائد لخواصها المميزة (تحلل بطيء، تطاير منخفض، وقابلية قليلة للنض). أما المبيدات الحديثة فإنها تتحلل عادة بسهولة

، قد HCH في التربة التي تلوثت بالمبيدات الكلورية العضوية مثل تكون المعالجة البيولوجية لهذه المبيدات في الموقع عملية مجدية فعلا". والمعالجة هنا تتضمن كخطوط مبدئية أن تغطي التربة بالماء ثم تضاف إليها العناصر المغذية اللازمة. وهذه الخطوة تنشط عملية التحلل البيولوجي اللاهوائية. يتبع ذلك أن تترك التربة حتى تجف ثم تحرث أو تقلب وذلك لتنشيط العمليات البيولوجية الهوائية. وهذه العملية قد تأخذ عدة سنوات، إلا أن تكلفتها منخفضة نسبيا". وعموما" فإن إزالة المادة الملوثة أكثر كلفة من احتوائها بالموقع، والاحتواء بدوره عادة ما يكون أكثر كلفة من اتخاذ الإجراءات الوقائية الملائمة. وفي المقابل، فإن إزالة نهائيا" (أي زوال التلوث)، بينما احتواء التلوث يجب "التلوث يعتبر حلا أن يستمر إلى ما لا نهاية. والإجراءات الاحتياطية والوقائية تكون فعالة

فقط حين يتم اتباعها والحفاظ عليها، وهو أمر قد يصعب ضمان استمراره لمدة طويلة.

## تحديد الإجراءات التي تتبع

يعتمد اختيار الإجراءات والاحتياطات على مدى خطورة التلوث (ما إذا كان يشكل مخاطر ومدى هذه المخاطر، وكلما كانت المخاطر المتوقعة شديدة، لزم أن تكون الإجراءات والحلول طويلة الامد وحاسمة). كما أن وحساسية (vulnerability) ذلك يعتمد على درجة سهولة التعرض المناطق المجاورة للتلوث. فالمنطقة الصناعية مثلا"، قد تكون أكثر قبولاً" من غيرها لمعايشة معدلات تلوث أعلى قليلاً" من مثيلاتها في المناطق السكنية أو الزراعية. كما أن هذا الأمر يعتمد على مدى توفر الاعتمادات المالية اللازمة للتكاليف الاستثمارية والتشغيلية. يضاف إلى ذلك، أنه من المهم تقدير ما إذا كانت الإجراءات المطلوبة ضرورية لضمان الحماية المباشرة للسكان، أو لمنع انتشار التلوث والتسبب في الضرر مستقبلاً". وتطبق المبادئ التوجيهية التالية عند اختيار الإجراءات التي يجب اتخاذها:

- إذا كانت التربة السطحية ملوثة وتشكل خطراً" على صحة الإنسان، فإن يوصى بإزالتها.
- إذا كانت التربة السطحية ملوثة ولكنها لا تشكل خطراً" على صحة الإنسان، فإن الإجراءات قد لا تكون لازمة. ولكن، وربما لأسباب نفسية (أي تهدئة مشاعر سكان المنطقة واطمئنانهم) يوصى باتخاذ إجراءات وقائية مناسبة.
- إن الإجراءات المكلفة (مثل الإزالة والاحتواء) لا تكون ضرورية إلا عندما تكون درجة الخطورة كبيرة، وتكون إجراءات الوقاية غير مضمونة ولا قاطعة.
- إذا كان التلوث قد وصل إلى الطبقة تحت السطحية من التربة، فإن إزالة سطح التربة لا يكون ضرورياً" حيث تشكل هذه الطبقة غطاء يمنع ملامسة الإنسان لموقع التلوث ويمنع حدوث المزيد من التلوث صوب المياه الجوفية، فإجراءات الاحتواء هنا تكون صائبة للطبقة السطحية للتربة **sealing off** (من خلال العزل الكامل بحيث تمنع تسرب مياه الأمطار من التغلغل في التربة ونقل التلوث). (من تحت التربة إلى المياه الجوفية).

- إذا تلوثت المياه الجوفية وأصبحت تشكل خطورة على صحة الناس، وجب إزالة هذه المياه الملوثة. فإذا كانت المبيدات التي بطل استخدامها والمسببة للتلوث قد أزيلت، فإن من الواجب أيضا" أن تستمر عملية إزالة المبيدات من المياه مادامت هناك مياه ملوثة. وهنا أيضا" يجب تطبيق احتياطات الوقاية، وخاصة في الدول الفقيرة، بحيث يتم اتباع الإجراءات بشكل جدي وفعال.
- أما إذا كانت المياه الجوفية قد تلوثت ولكنها لا تشكل خطورة، وكانت المبيدات المخزنة تحت ظروف غير سليمة قد أعيدت تعبئتها أو أزيلت من الموقع، فلا يلزم اتباع أية إجراءات. على أنه يلزم مراقبة المنطقة (بأخذ عينات بمعدل مرة في السنة من الآبار الموجودة) للتأكد من عدم عودة التلوث.

## استمارة حلقيه لتقييم تلوث التربة

### المثال ٢

#### وصف لموقع تخزين به مبيدات بطل استخدامها

يحتوى موقع التخزين بالوزارة بدور السلام على العديد من الاصناف المستعملة كالسيارات والإطارات والمكاتب والآلات الكاتبة والبراميل والبطاريات. ويوجد أيضا" خارج هذا المخزن مبيدات "بطل استخدامها"، أما الأصناف المستعملة بصورة متكررة فهي مخزونة بالداخل.

والمبنى الذي توجد به المبيدات مبني بالطوب الأحمر وله أرضية من ويمكن أن تنساب الاسمنت بدون نظام للصرف أو حواف مرتفعة السوائل من الأرضية إلى التربة مباشرة. ويبدو السقف سليما ولا توجد به مظاهر للتسرب.

وتخزن الاصناف بعلو ثلاث بالات، مما يضع حملا" مفرطا على الكثير من الصناديق الموجودة في البالات السفلى. وبهذا يزداد احتمال تحطم العبوات والصناديق. وقد يتسبب هذا في إتلاف مواد التغليف الرئيسية ويزيد من احتمال تسرب محتوياتها أو تناثرها علي المغلفات الأخرى وأرضية المبنى. ولا يطبق نظام الداخل أولا" يخرج أولا"، مما يعني أن الإمدادات الجديدة تخزن على الأقدام منها، وهذا يؤدي إلي وجود أصناف عتيقة غير مستعملة ومهجورة.

وتمتد خارج المبنى لمسافة ثلاثة أمتار سقيفة من صفائح معدنية مضلعة. ويوجد تحت السقيفة أصناف غير مستخدمة بالإضافة إلى بعض المبيدات المستخدمة (المحفوظة في صناديق مغلقة بأغشية بلاستيكية لاصقة) التي لا يمكن تخزينها بالداخل. ويوجد مع المبيدات بعض الإطارات والبطاريات وغيرها. وأرضيات هذه السقيفة غير مرصوفة، بل إن جميع الاصناف تخزن على الرمل مباشرة. وبعض هذه المبيدات مغطى بغطاء قماشي سميك. ويوجد تحت هذا الغطاء القماشي بعض المطعجة والتي انسكبت أو تبخرت منها (العبوات البلاستيكية (الجرانك وبمضي الزمن تشققت هذه العبوات. بعض السوائل، تاركة المواد الصلبة البلاستيكية وأصبحت هشّة.

ولم يمكن التأكد من تلوث التربة بالمبيدات، ولكن توجد كمية من الزيت على التربة. ويقع موقع التخزين هذا بالقرب من منطقة سكنية وسوق، كما يوجد بئر للمياه على بعد مائة متر من المبنى.

## الخطوة ١

### تحديد المبيد المحدث للتلوث

يستعمل الجدول ١ لحصر كل المبيدات التي تسربت أو انسكبت في الموقع.

الكمية المتسربة (التقديرية)	المبيد (الاسم الكيميائي)
٢٠٠ لتر	أترازين Atrazin
٤٠٠ لتر	دايميثويت Dimethoate
١٠٠ لتر	فينتروثيون Fenitrothion

البيانات المكتوبة بالخط الداكن هي استنتاجات تتعلق بهذا المخزن (2) الافتراضي

الآن يستعمل الجدول ٢ لتقدير أي من المبيدات المتسربة محدث للتلوث

هل المبيد محدث للتلوث؟ (نعم، إذا كانت الإجابات في الأعمدة ب، د كليهما نعم، وإلا فإن الجواب لا)	د $DT_{50} < 50$ يوم (نعم/لا)	ج $DT_{50}$ فترة عمر النصف (راجع التذييل ٣)	ب الكمية $< 100$ كغم أو $100$ م <sup>٣</sup> ؟ (نعم/لا)	اسم المبيدات المتسربة
نعم	نعم	٦٠-١٥٠	نعم	ترازين
نعم	نعم	٤-١٢٢	نعم	دايميثويت
لا	لا	٤-٥٤	نعم	فينتروثيون

### الخلاصة

هل الكميات المتسربة من المبيدات محدثة للتلوث؟ نعم/لا

إذا كانت الإجابة نعم، تذكر أسماء المبيدات المحدثة للتلوث في الجدول ٣. واستمر مع الخطوات من ٢ إلى ٦ لكل مبيد من المبيدات الملوثة

الكمية المتسربة	المبيد المحدث للتلوث
٢٠٠ لتر	أترازين
٤٠٠ لتر	دايميثويت

## الخطوة ٢

### تقييم التلوث الناجم عن الرش

وهي تركيز المبيد في التربة عند  $C_0$  يستخدم الجدولان ٤ وه لحساب (نقطة التسرب أو الأنسكاب).

الجدول ٤

المبيد المحدث للتلوث	قيمة $M =$ الكمية المتسربة (كغم أو لتر)	تحدد أو تقدر $T$ وهي فترة التسرب (سنة)	تحسب $L =$ الحمل السنوي للمبيد الراشح من المعادلة ( $L = mV$ ) كغم / سنة
اترازين	٢٠٠	١٠	٢٠
دايميثوات	٤٠٠	١٠	٤٠

الجدول ٥

المبيد المحدث للتلوث	قيمة $L =$ الحمل السنوي (كغم / سنة)	قيمة $R =$ كمية المطر السنوية (م / سنة)	تقدر $A =$ مساحة بقعة التسرب ( $m^2$ )	تدرج قيمة $S =$ درجة الذوبانية في الماء (كغم / $m^3$ ) من الملحق ٣	حساب قيمة $L/(R \times A)$ كغم / $m^2$
اترازين	٢٠	٢,٠	١٠	٠,٠٣	١
دايميثوات	٤٠	٢,٠	٣٠	٠,٠٢٥	٠,٧

$$\begin{cases} \text{if } \frac{L}{R \times A} \leq S \text{ then } C_0 = \frac{L}{R \times A} \\ \text{if } \frac{L}{R \times A} > S \text{ then } C_0 = S \end{cases}$$

اترازين:  $1 > 0.03 \Rightarrow C_0 = S$   
دايميثوات:  $0.7 > 0.025 \Rightarrow C_0 = S$



### الخلاصة

$$C_0 \text{ اترازين} = 0.03 \text{ كغم/م}^3$$

$$C_0 \text{ دايميثويت} = 0.025 \text{ كغم/م}^3$$

## الخطوة ٣

### تقييم التلوث في المياه الجوفية

يستخدم الجدول ٦ المدرج أدناه للتنبؤ بانتقال المبيدات نحو المياه الجوفية

الخطوة	البيانات (المدخلات)	القيمة	الاستنتاج حول حدوث التلوث
١	عمق المياه الجوفية	$> ٢$ م	سيصل التلوث للمياه الجوفية دائماً
		$> ٥$ م	انتقل إلى الخطوة ٢
		$< ٥$ م	انتقل إلى الخطوة ٢
٢	كمية المبيد المشربة	$< ١٠٠$ لتر أو $١٠٠$ كغم	انتقل إلى الخطوة ٣
		$> ١٠٠$ لتر أو $١٠٠$ كغم	لن تصل للمياه الجوفية ما لم تكن المياه قريبة من السطح (العمق أقل من ٢ م)
		نعم	لن تصل للمياه الجوفية ما لم تكن المياه قريبة من السطح (العمق أقل من ٥ م)
		لا	انتقل إلى الخطوة ٤
٤	الفترة الزمنية منذ بداية التسرب	$<$ سنة	لن تصل للمياه الجوفية ما لم يكن المبيد عالي التحرك والانتشار
		$>$ سنة	انتقل إلى الخطوة ٥
٥	كمية المطر السنوية	$< ٢٠٠٠$ ملم	متصل دوماً للمياه الجوفية
		$> = ٢٠٠٠$ ملم	انتقل إلى الخطوة ٦
٦	مدى تحرك المبيد (راجع الملحق ٢)	عالي	متصل دوماً للمياه الجوفية
		منخفض	انتقل إلى الخطوة ٧
٧	درجة التحلل (راجع الملحق ٣)	فترة عمر نصفي "عالية" (في التربة $> ١٠$ أيام)	لن يصل التلوث للمياه الجوفية
		فترة عمر نصفي "منخفضة" (في التربة $< ١٠$ أيام)	سيصل التلوث دوماً للمياه الجوفية

### الخلاصة

م، استمر مع الخطوة 5 > التلوث يصل إلى المياه الجوفية لأن منسوبها

٣

، تركيز المبيد في المياه الجوفية C1 بعد ذلك يستخدم الجدول ٧ لتعيين

## الجدول ٧

البيانات / المدخلات	الوحدات	القيمة
يعين التدرج الهيدروليكي (النفاذية (i)) -تستخدم قياسات منسوب المياه الجوفية أو خرائط مناسيب المياه الجوفية تحسب (K) درجة التوصيل الهيدروليكي - استخدام جدول ٣-٢ تحسب (q) وهي التصريف النوعي للمياه الجوفية $q = k \times i \times 365$	بدون م / يوم م / سنة	٠,٠٠١ ١٠ ٣,٦٥
تقدر (A) وهي مساحة الموقع الذي حدث به التسرب (المساحة = (A) الطول × العرض) تحسب (R) وهي كمية الأمطار السنوية تحسب $R \times \sqrt{A}/q \times b$ (باعتبار $b = 1m$ )	م م / سنة	أترازين: ١٠ دايميثويت: ٣٠ ٢
تحسب درجة التركيز $C_0$ (والمحسوبة بالخطوة ٢ في التذييل ١)	بدون	أترازين: ١,٧٣ دايميثويت: ٣,٠٠
	كغم/م <sup>٣</sup>	أترازين: ١,٧٣ دايميثويت: ٠,٠٢٥

$$\begin{cases} \text{if } \frac{R \times \sqrt{A}}{q \times b} \leq 1 \text{ then } C_1 = C_0 \times \frac{R \times \sqrt{A}}{q \times b} \\ \text{if } \frac{R \times \sqrt{A}}{q \times b} > 1 \text{ then } C_1 = C_0 \end{cases}$$

أترازين:  $(R \times \sqrt{A})/(q \times b) = 1.73 > 1$ , then  $C_1 = 0.03$   
دايميثويت:  $(R \times \sqrt{A})/(q \times b) = 3.00 > 1$ , then  $C_1 = 0.025$

### الخلاصة

$C_1$  أترازين = ٠,٠٣ كغم/م<sup>٣</sup>  
 $C_1$  دايميثويت = ٠,٠٢٥ كغم/م<sup>٣</sup>

## الخطوة ٤

### تقدير الانتشار عن طريق الرياح

أولاً"، يستخدم الجدول ٨ لتقدير ما إذا كانت المبيدات المحدثة للتلوث يمكن أن تنتشر عن طريق الرياح.

## الجدول ٨

المبيدات المحدثة للتلوث	هل هي على شكل مسحوق؟ (نعم/لا)
اقرابين	لا
دايميثويت	لا

## الخلاصة

بما أن المبيدات المحدثة للتلوث ليست على هيئة مسحوق، لذا فإنها لن تنتشر بواسطة الرياح.  
بما أن المبيدات المحدثة للتلوث توجد على هيئة مسحوق، لذا فإن انتشارها بواسطة الرياح أمر ممكن.

ثانياً، يستخدم الآن الجدول ٩ لوصف حالة المخزن

## الجدول ٩

حجم المخزن (الطول × العرض × الارتفاع)	يتم فحص المخزن
مفتوح	الجدران موصولة بسقف المخزن لا توجد جدران توجد فتحات كبيرة للتهوية أو النوافذ مكسورة
مفتوح	
نصف مفتوح	

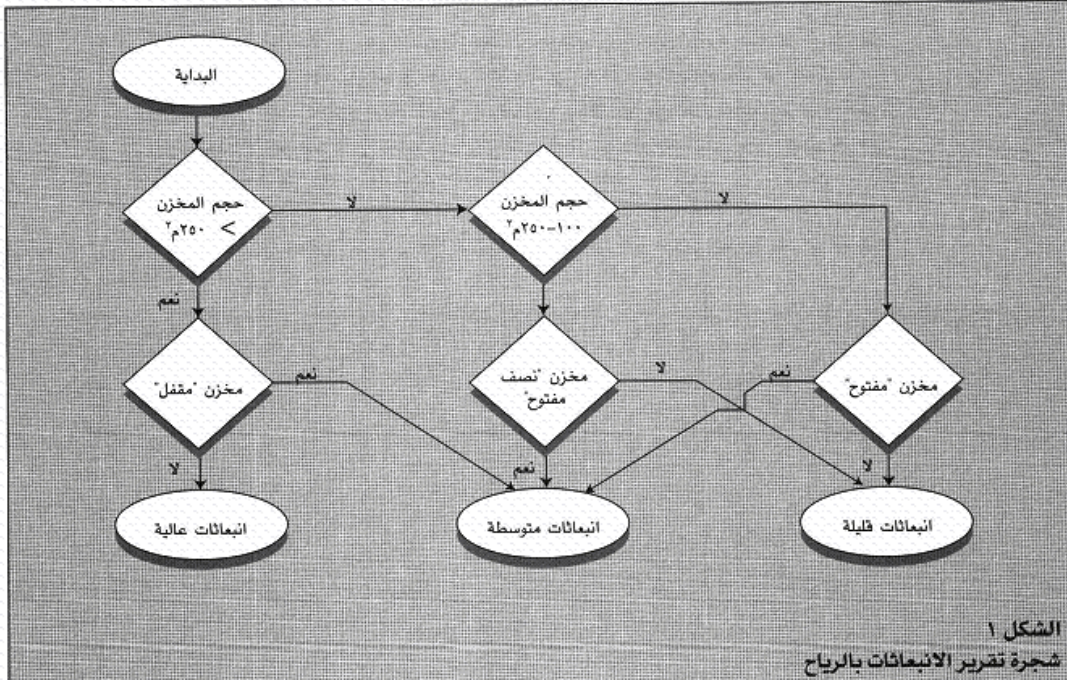
## الخلاصة

"المخزن يعتبر مقفلاً"

المخزن يعتبر نصف مفتوح

المخزن يعتبر مفتوحاً

يستخدم الآن الشكل ١ لتحديد ما إذا كانت الانبعاثات من المخزن  
يحتمل أن تكون عالية



## الخلاصة

حدثت انبعاثات عالية بالموقع

حدثت انبعاثات متوسطة بالموقع

حدثت انبعاثات منخفضة بالموقع

## الخطوة هـ

تحديد نقاط التعرض للتلوث

## المياه الجوفية

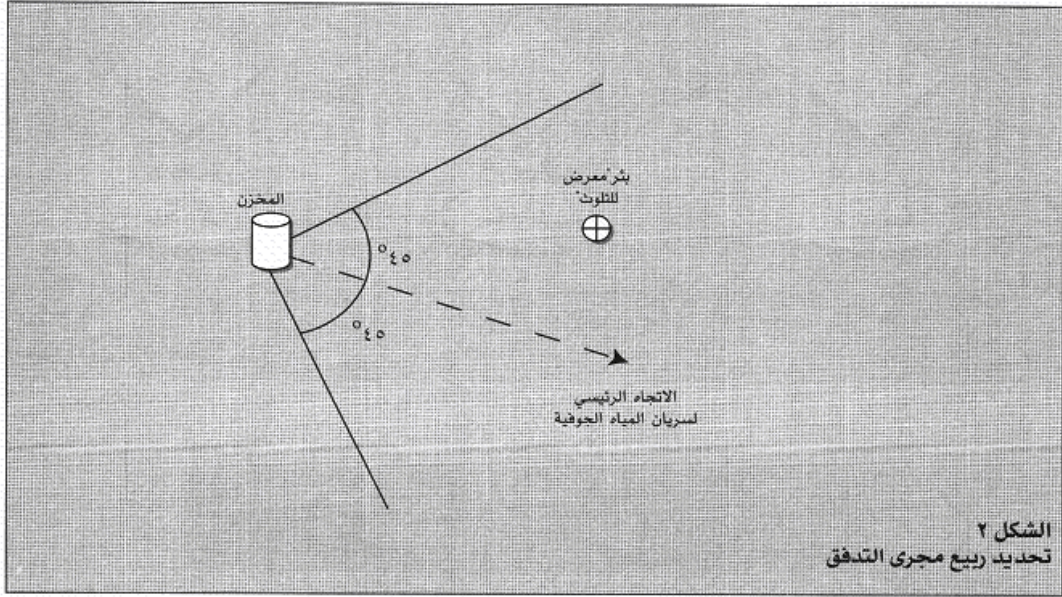
تعد قائمة بالمواقع والأشياء المعرضة للتلوث التي قد تتأثر بتلوث المياه الجوفية في المنطقة المجاورة للمخزن مباشرة (في حدود دائرة نصف

قطرها ٣٠٠ متر). والمواقع المعرضة للتلوث بالمبيدات عن طريق المياه الجوفية هي الآبار والينابيع والأنهار والبحيرات والخزانات المائية والبرك.

الجدول ١٠		
النقاط المحتمل تعرضها (المياه الجوفية)	تعم؟	المسافة من المخزن (متر)
آبار	X	١٠٠
الينابيع		
الأنهار		
البحيرات		
الخزانات		
البرك		
غيرها		

يحدد الاتجاه الرئيسي لسريان المياه الجوفية، وفي عدم وجود قياسات لمناسيب المياه الجوفية يمكن استخدام الاتجاه الأكثر انحدارا حسب طبوغرافية المنطقة. يتبع ذلك تحديد ربع أسفل برسم خطين تكون الزاوية (downstream quadrant) المجرى بين كل منهما وبين اتجاه الخط الرئيسي لسريان المياه الجوفية هي  $٤٥^\circ$  كما هو موضح بالشكل ٢.

يتم الكشف بعد ذلك عن النقاط والمواقع المعرضة للتلوث وهي تلك يشار إلى هذه النقاط 2. الواقعة ضمن ربع الدائرة المبينة في الشكل "بأنها" معرضة للخطر.



## الخلاصة

المناطق المعرضة للتلوث هي بئر على بعد ١٠٠ متر من المخزن

الجدول ١١	
نعم؟	نقاط المعرضة (بواسطة الرياح)
المسافة من المخزن (م)	المساكن
	المدارس
	أماكن الاجتماعات
	المستشفيات

الخلاصة

لا توجد هناك نقاط مهمة تعرضت للتلوث بواسطة الرياح.  
المواقع التي تبين أنها تعرضت للتلوث هي .. على بعد ١٠٠ متراً من المخزن.

الرياح

يستخدم الجدول ١١ لتسجيل جميع المواقع المعرضة للتلوث في المنطقة المجاورة للمخزن (في حدود دائرة نصف قطرها ٣٠٠ متر)، والتي يمكن أن تكون الطبقة السطحية للتربة قد لوثت بواسطة الرياح

الجدول ١٢-١  
أترازين Atrazine

البيانات/المدخلات	الوحدات	القيمة
Log Koc من أخصائي الهيدرولوجيا	Log (ml/g)	٠,١٩
يحسب الثابت (a) من المعادلة $a = \log Koc - 3$	بدون	٢,٨١-
يحسب التثبيط (R) من المعادلة $R = 0,3 + 2 \times 10a$	بدون	٠,٣-R
أحصل على (تصرف المياه الجوفية) - يراجع الجدول ٢-٢	م/سنة	٣,٦٥
يحسب الوقت T (المدة منذ بداية التصرب)	سنة	١٠
تحسب (s) المسافة الأفقية التي يقطعها مركز الكتلة لجبهة الانتشار وذلك من المعادلة: $s = q/R \times t$	م (متر)	١٢٢
تقاس المسافة بين المخزن ونقطة التعرض (x)	م (متر)	١٠٠
تحسب المسافة النسبية (d) من المعادلة: $d = x/s$	م (متر)	٠,٨
هل أحد النقاط المعرضة للتلوث بثر أو ينبوع أو نهر؟ إن كانت الإجابة نعم، يشار لقيمة التدفق Q	م <sup>٣</sup> /سنة	٢٠٠٠
هل إحدى النقاط المعرضة للتلوث بحيرة أو خزان أو بركة؟ إن كانت الإجابة نعم، يشار إلى حجمها V	م <sup>٣</sup>	

الجدول ٢-١٢  
دايميثويت Dimethoate

البيانات/المدخلات	الوحدات	القيمة
Log Koc من أخصائي الهيدرولوجيا	Log (ml/g)	١
يحسب الثابت (a) من المعادلة $a = \log Koc - 3$	بدون	٢-
يحسب التثبيط (R) من المعادلة $R = 0.3 + 2 \times 10a$	بدون	٠,٣٢
أحصل على (تصرف المياه الجوفية) - يراجع الجدول ٢-٢	م/سنة	٣,٦٥
يحسب الوقت T (المدّة منذ بداية التسرب)	سنة	١٠
تحسب (s) المسافة الأفقية التي يقطعها مركز الكتلة لجبهة الانتشار وذلك من المعادلة: $s = q/R \times t$	م (متر)	١١٤
تقاس المسافة بين المخزن ونقطة التعرض (x)	م (متر)	١٠٠
تحسب المسافة النسبية (d) من المعادلة: $d = x/s$	م (متر)	٠,٩
هل أحد النقاط المعرضة للتلوث بئر أو ينبوع أو نهر؟ إن كانت الإجابة نعم، يشار لقيمة التدفق Q	م <sup>٣</sup> /سنة	٢٠٠٠
هل إحدى النقاط المعرضة للتلوث بحيرة أو خزان أو بركة؟ إن كانت الإجابة نعم، يشار إلى حجمها V	م <sup>٣</sup>	

الخطوة ٦

التنبؤ بتركيز المبيدات عند نقاط التعرض للتلوث

النقاط المعرضة للتلوث بالمياه الجوفية

يستعمل الجدول ٢-١٢ حسب المعادلة  $m_g = \frac{R \times A}{Q}$  إذا كانت إحدى نقاط التعرض للتلوث بئراً أو ينبوعاً أو نهرًا، فتحسب نسبة الاختلاط  $m_g$  (mixing ratio). أما إن كانت

النقاط المعرضة الأخرى هي بحيرات أو خزانات أو برك، فتحسب نسبة الاختلاط  $m_g$ ، كما في المعادلات في الصفحة ٥٣.

$$\text{أترازين: } R \times A/Q = (2 \times 10)/2000 = 0.01$$

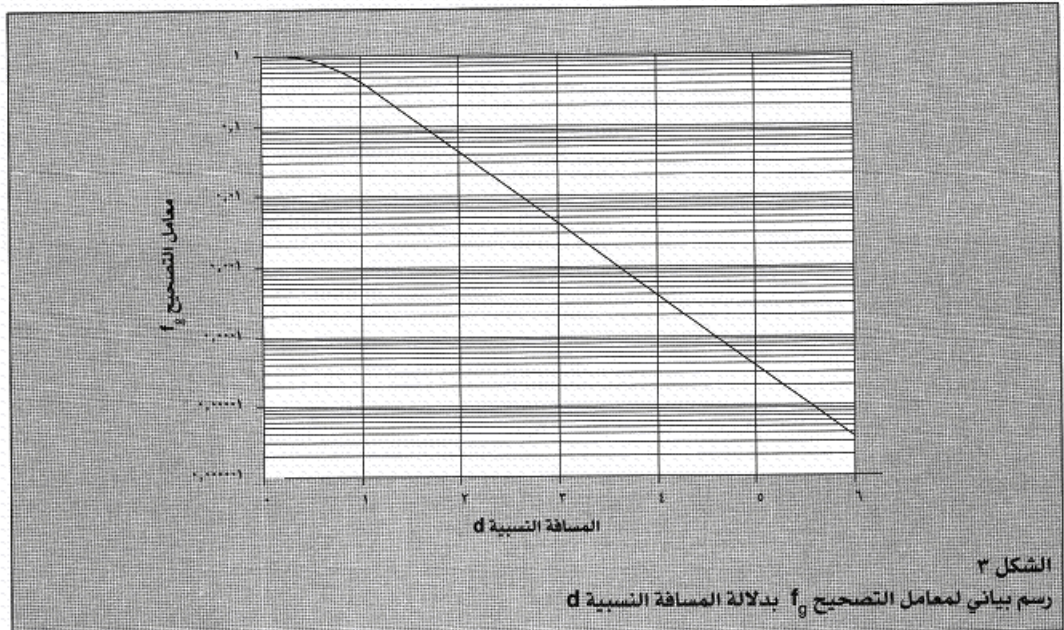
$$\text{دايميثويت: } R \times A/Q = (2 \times 30)/2000 = 0.03$$

نسبة الاختلاط  $m_g$  للاترازين = ٠,٠١

نسبة الاختلاط  $m_g$  للدايميثويت = ٠,٠٣

بعد ذلك يحسب معامل التصحيح ( $f_g$ ) والذي يأخذ بالاعتبار درجة الانتشار الهيدروليكي. ويستخدم الشكل ٣ لمعرفة قيمة ( $f_g$ ) المقابلة للمسافة النسبية d (والتي حسبت باستخدام الجدول ١٢).





للاترازين = 0,7 fg معامل التصحيح

للدائميثويت = 0,6 fg معامل التصحيح

يستعمل بعد ذلك الجدول ١٣ لحساب التركيزات عند النقاط المعرضة  
للتلوث C8

الجدول ١٣				
$0,00021 \text{ كغم/م}^3 = C_1 \times f_g \times m_g = C_g$	$0,01 = m_g$	$0,7 = f_g$	$0,003 = C_1$	اترازين
$0,00045 \text{ كغم/م}^3 = C_1 \times f_g \times m_g = C_g$	$0,03 = m_g$	$0,6 = f_g$	$0,025 = C_1$	دائميثويت
$\dots \text{ كغم/م}^3 = C_1 \times f_g \times m_g = C_g$	$= m_g$	$= f_g$	$= C_1$	المبيد
$\dots \text{ كغم/م}^3 = C_1 \times f_g \times m_g = C_g$	$= m_g$	$= f_g$	$= C_1$	المبيد

## الخلاصة

التركيز المحسوب للاترازين في البئر ( $C_p$ ) هو  
 $C_p = 0.00021 \times f_p \times C_s = m_p$  كغم/م<sup>3</sup>  $1000,000 \times 210$  ميكروغرام/لتر.  
التركيز المحسوب للدايميثوت في البئر ( $C_p$ ) هو  
 $C_p = 0.00045 \times f_p \times C_s = m_p$  كغم/م<sup>3</sup>  $1000,000 \times 450$  ميكروغرام/لتر.  
لا توجد نقاط معرضة لتلوث المياه الجوفية.

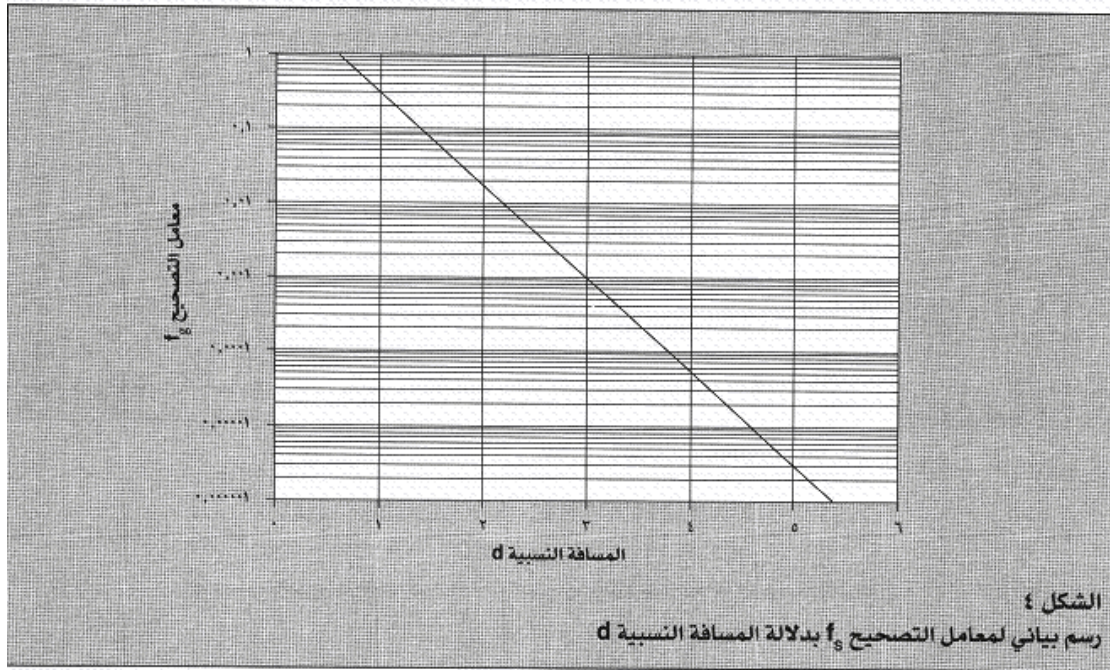
تحسب نسبة ( $V$ ) بالنسبة لأي بحيرة أو خزان أو بركة بها ماء حجمه  
من المعادلات ( $ms$ ) الاختلاط:

$$\left\{ \begin{array}{l} \text{if } \frac{R \times A \times T}{V} \leq 1 \text{ then } m_s = \frac{R \times A \times T}{V} \\ \text{if } \frac{R \times A \times T}{V} > 1 \text{ then } m_s = 1 \end{array} \right.$$

بالنسبة للمبيد =  $RXA/Q$ .....:

.....- للمبيد  $mg$  ونسبة الاختلاط

يلي ذلك حساب معامل التصحيح ( $fs$ ) والذي يأخذ بالاعتبار  
الانتشار الهيدروليكي. ويستخدم الشكل ٤ أدناه لمعرفة قيمة ( $fs$ )  
المصاحبة لقيمة المسافة النسبية ( $d$ ) والتي تم حسابها من الجدول ١٢



.....-للمبيد fg معامل التصحيح

ثم يستخدم الجدول ١٤ التالي لحساب تركيزات المبيدات عند النقاط  
المعرضة C8

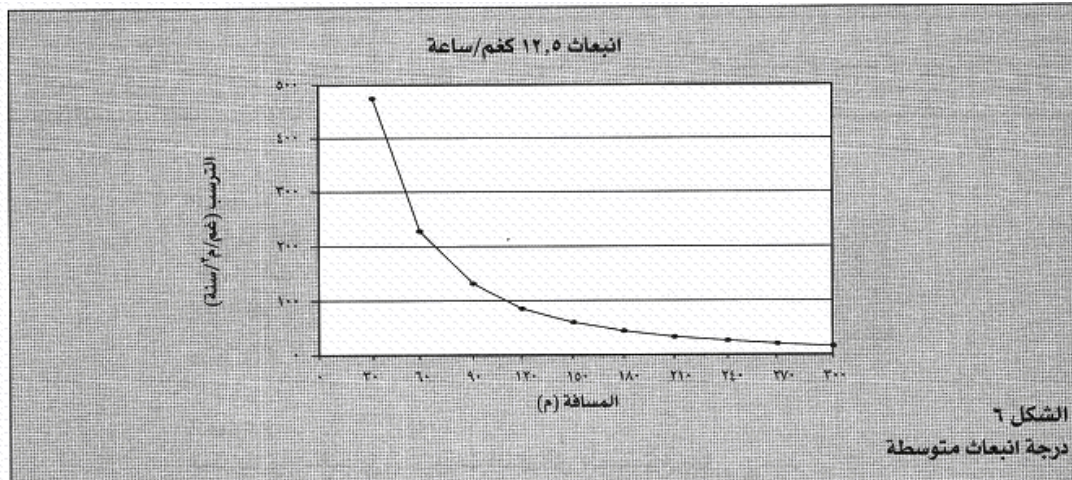
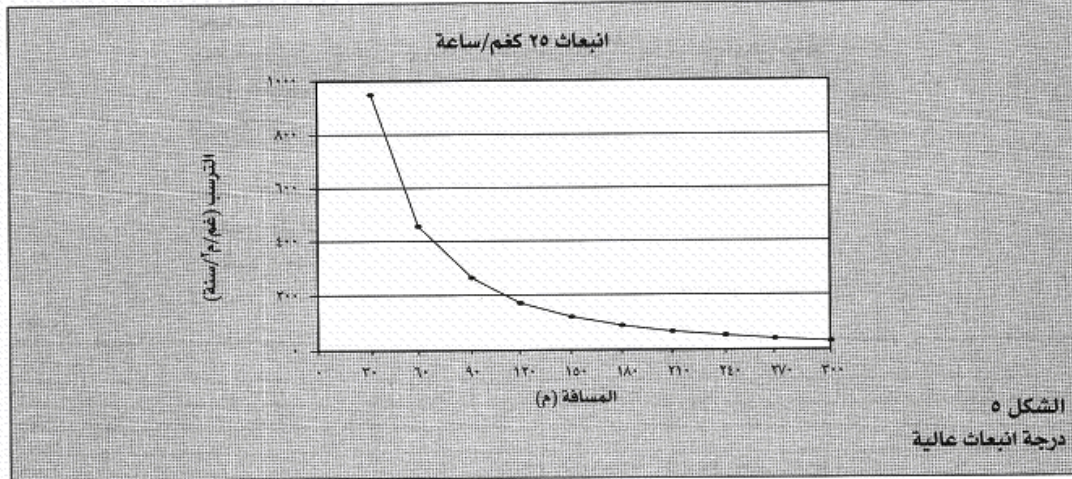
الجدول ١٤				
المبيد	$= C_1$	$= f_g$	$= m_g$	$= C_1 \times f_g \times m_g = C_g$
المبيد	$= C_1$	$= f_g$	$= m_g$	$= C_1 \times f_g \times m_g = C_g$
المبيد	$= C_1$	$= f_g$	$= m_g$	$= C_1 \times f_g \times m_g = C_g$
المبيد	$= C_1$	$= f_g$	$= m_g$	$= C_1 \times f_g \times m_g = C_g$

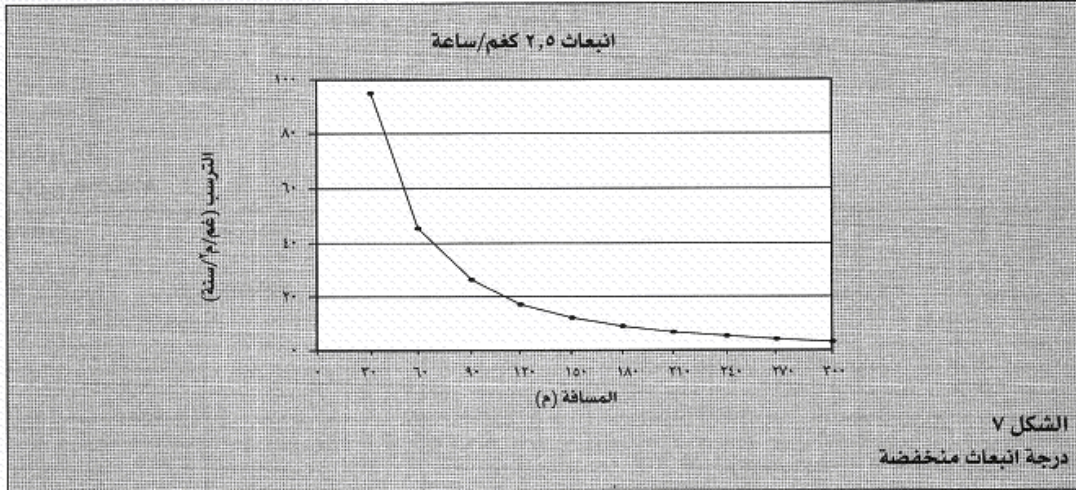
الخلاصة

المبيد لا يحدث تلوثاً، لذا لا توجد نقاط معرضة للتلوث بالمياه الجوفية

**النقاط المعرضة للتلوث بالرياح**

في الخطوة ٤ السالفة (الشكل ١) تم تحديد مستوى الانبعاث بواسطة الرياح (عالية- متوسطة- منخفضة). ويتم الآن استخدام الأشكال ٥ و ٦ و ٧ لمعرفة كمية الترسب عند نقاط التعرض للتلوث





## الخلاصة

المبيد لا يحدث تلوثاً، لذا لا توجد نقاط معرضة للتلوث

## الخطوة ٧

### تحديد طرائق التعرض للتلوث

يستخدم الجدول ١٥ لمعرفة أهم طرائق التعرض للتلوث

الجدول ١٥

طرائق التلوث الممكنة		المواقع المعرضة	
X	مياه الشرب	X	الآبار
	مياه الري		البنائيع
	صيد السمك		الأنهار
	الماء المستخدم للاستحمام/الغسيل/ السباحة		البحيرات
			الخزانات
			البرك
	ملامسة مباشرة		المنازل
	استهلاك محاصيل أو خضر أو فواكه		المدارس
			أماكن الاجتماعات
			المستشفيات



## الخلاصة

ان مستوى التعرض المسموح به بالنسبة لمياه الشرب قد تم تجاوزها بالنسبة

لكل من الأترازين والدايميثيوليت. والتلوث يشكل خطورة على صحة الإنسان

## مستويات التعرض المسموح بها بالنسبة للرياح

يستعان بالملحق ٣، لتحديد التركيزات المسموح بها بالنسبة لأهم طرائق التعرض للتلوث، وتسجل هذه البيانات في الجدول ١٧ أدناه

بيانات المحدثة للتلوث	طرق التعرض المحتملة	تستعمل حدود التركيزات (ملازمة مباشرة) (ملليجرام / كغم)

بعد ذلك، يستخدم الجدول ١٨ لتحديد مستوى الترسيب المسموح به

## الجدول ١٨

..... كغم أو لتر	تذكر الكمية الكلية من المبيد المتسربة (من الجدول ١) - كغم أو لتر يتم اختيار معدل مستوى الانبعاث (راجع الخطوة ٤)
مستوى عال ٢٥ كغم/ساعة مستوى متوسط ١٢,٥ كغم/ساعة مستوى منخفض ٢,٥ كغم/ساعة	
..... ساعة	تحسب فترة الترسيب: الكمية الكلية المتسربة ÷ معدل مستوى الانبعاث يحمب الترسيب المسموح به من المعادلة: الترسيب المسموح به = (التركيز المسموح به × ٠,٥ × ٣٦٥ × ٢٤) / الانبعاثات بالساعة
كغم/م/سنة	

بعد ذلك يستعمل الجدول ١٩ لمقارنة الكميات الفعلية للترسيب الناتجة من الخطوة ٦ بمستويات الترسيب المسموح بها.

## الجدول ١٩

نقطة التعرض	طريقة التعرض	التركيز المتوقع (ميكروغرام / لتر)	مستوى التعرض المسموح به (ميكروغرام / لتر) (راجع الخطوة ٦)	هل تم تجاوز الحدود؟ (نعم / لا)

## الخلاصة

إن الترسيب الحادث على بعد.....متر من المخزن أقل من مستوى الترسيب المسموح به

متر من المخزن أعلى من مستوى الترسيب ..... إن الترسيب على بعد المسموح به،

لذا فإن تلوث التربة السطحية يشكل تهديداً لصحة الإنسان

## الخطوة ٩



## تحديد إجراءات المتابعة

يستعمل الجدول ٢٠ لمعرفة الأوضاع السائدة

جدول ٢٠			
هل يوصى بعلاج؟ (نعم/لا)	هل يوصى بإجراءات للوقاية؟ (نعم/لا)	النتيجة المتوقعة الواجب فحصها	نتيجة المتوقعة
نعم	نعم	نعم	تربة السطحية ملوثة وهناك طويرة على صحة الإنسان
لا	ليس ضرورياً، ولكن بعضها قد يجرى لأعراض نفسية	نعم	تربة السطحية ملوثة ولكنها لا تشكل طويرة على صحة الإنسان
نعم	نعم	نعم	مياه الجوفية ملوثة وتشكل طويرة على صحة الإنسان
لا	لا	نعم	مياه الجوفية ملوثة ولكنها لا تشكل طويرة على جسد الإنسان

### الخلاصة

## إجراءات المتابعة ضرورية

### التذييل ٣

## معلومات أساسية عن المبيدات

ألدرين Aldrin

الصيغة الجزيئية

$C_{12}H_8Cl_6$

التسجيل في سجل دائرة الملخصات الكيميائية

309-2-00

الاستخدام

يستخدم مبيداً " ضد حشرات التربة والقطن،

وآفات المسطحات الخضراء واليرقات البيضاء وديدان جذور الذرة.

## ألدرين في البيئة

### الحركية .

يعتقد أن الألدرين متوسط الامتزاز إلى التربة

### التحلل .

تتطاير بقايا الألدرين في التربة والنبات من سطح التربة أو تتحول ببطء يعتقد أن التحلل البيولوجي ( dieldrin ) في التربة إلى ثنائي ألدرين للمركب بطيء كما يعتقد أنه غير قابل للنض. ويصنف الألدرين على أنه ذو بقاء أو دوام متوسط، بمعنى أن عمر النصف للمبيد في التربة يتراوح بين ٢٠ - ١٠٠ يوم. ويتأثر الألدرين بالأكسدة الضوئية إلى حد كبير. وقد لوحظ بعض التحلل الضوئي في الماء، وذلك بالرغم من أن صفاته الامتصاصية لا تدل على أنه يتحلل ضوئياً" بصورة مباشرة بأي درجة ملموسة في البيئة.

### نواتج التحلل .

( dieldrin ) الناتج الرئيسي لتحلل المبيد هو ثنائي ألدرين

### التطاير/ التبخر .

تتطاير بقايا الألدرين في الماء والترربة من السطح. ويعتقد أن الطور الغازي (المتبخر) لبقايا المبيد في الجو يتفاعل مع شق الهيدروكسيل الحر المولد بطريقة كيميائية ضوئية، وتقدر فترة عمر النصف له ب ٣٥ دقيقة.

## التراكم البيولوجي .

التراكم البيولوجي للمبيد كبير.

## السمية للنباتات .

الدرين سام للظماطم والخيار وذلك عند إضافته فقط بمعدل يفوق عدة أضعاف المعدلات الموصى بها. ويعتبر الكرب أكثر المحاصيل حساسية للالدرين.

معظم المعلومات الواردة في التذييل ٣ تم الحصول عليها من المصادر \* التالية: (١) مكتبة الولايات المتحدة القومية للدواء - مصرف بيانات المواد الخطرة ١٩٩٥ : (٢) جامعة ولاية أوريجون- قاعدة معلومات المجلس (3) 1995 (الشبكة الإرشادية لبيانات السموم (قاعدة بيانات البريطاني لوقاية المحاصيل - دليل مبيدات الآفات (إصدارات مختلفة). ويوجد مصادر أخرى في التذييل ٩.

## الخواص

يتراوح لون المبيد (الدرين) من عديم اللون إلى البني الغامق ويوجد منه السائل أو الصلب. وهو مقاوم للقواعد العضوية وغير العضوية ولفعل الكلوريدات المائية للمعادن والأحماض الضعيفة. كما أنه ثابت حتى درجة تتراوح بين ٤ و ٨ (pH) حرارة ٢٠٠ م وعند درجة حموضة

## الجدول ١ الخصائص النوعية

الخاصية	الخاصية النوعية	الوحدة	القيمة	التحليمة
درجة الانصهار		درجة سلتزيوس	١٠٤	
الضغط البخاري		ميجا باسكال	٨,٦	
الكثافة		غم/سم <sup>٣</sup>	١,٦	
التحلل	عمر النصف بالتربة	يوم	١٠-٢٠	قليل التحلل
الذوبانية في الماء	S <sub>٥٠</sub>	ملغم/لتر	٠,٠٢٧	غير ذائب في الماء
الحركية	Log K <sub>oc</sub>		٤,٤٥-٢,٦١	قليل - متوسط الحركية
التناول (الأزرد)		ملغم/كغم/يوم	٠,٠٠٠١	
التركيزات المسموحة	الإنسان:			
	التلامس المباشر	ملغم/كغم تربة جافة	٥٠	
	استهلاك الخضروات	ملغم/كغم مادة جافة	٠,١	
	استهلاك مياه الشرب	ميكروغرام/لتر	٢,٠	

## أترازين Atrazine

### المكون الفعال

### Trazine ترانزين

### الصيغة الجزيئية

### C 8 H 14 CIN 5

### التسجيل في سجل دائرة الملخصات الكيميائية

### 1912-24-9

### الاستخدام

مبيد حشائش للحد من الحشائش الحولية في حقول الأسبراجاس والغابات وأراضي المراعي والمحاصيل والذرة الخ.

## أترازين في البيئة

### الحركية .

يعتقد أن الأترازين له حركية متوسطة إلى عالية بالتربة ولا يمتص بسرعة على الرواسب. ويمتص أترازين بسرعة أكبر على سطوح التربة الطينية والعضوية منها على سطوح التربة قليلة المحتوى الطيني أو المواد العضوية.

### التحلل .

معظم مركبات الأترازين لها ثبات قوي في التربة وتختفي ببطء من خلال وبالرغم من أن فترة عمر النصف لها . التحلل بواسطة ميكروبات التربة هو ٥٠ يوما تحت ظروف المختبر، إلا أنها في الواقع تدوم في التربة لأكثر من أربعة أشهر.

معدل التحلل الكيميائي للمبيد يعتمد بشدة على درجة الحموضة في الوسط المحيط وعلى وجود مواد مساعدة. ويمكن للمبيد أن يتحلل مائيا بسرعة في كل من الأوساط القلوية والحمضية، ولكنه يبقى مقاوما" لهذا .(التحلل في الأوساط المتعادلة (رقم حموضة- = ٧

حسب عمر النصف للأترازين في البيئة المتعادلة وعند درجة حرارة ٢٥ سلزيوس (مئوية) بص ١٨٠٠ سنة. وفي بعض الأوساط غير العادية حدث انحلال كامل للمبيد في خلال ٣-٤ أيام. ويتم التحلل في الأوساط ويزداد .القلوية بمعدل يبلغ ضعف معدل التحلل في الأوساط الحامضية . ( Humic materials ) معدل التحلل بشدة بإضافة المواد الدبالية المجموعات الحمضية النشطة على المواد الدبالية (وعلى وجه الخصوص أيونات الهيدروجين) تعمل كعوامل مساعدة للانحلال. وعمر النصف للأترازين عند رقم الحموضة ٤ هو ٢٤٤ يوما" وذلك في عدم

(Humic acid) وجود الحمض الدبالي. وعند إضافة حمض الدبال  
". ينخفض عمر النصف للمبيد إلى ١,٧٣ يوما

## نواتج التحلل .

الناتج الرئيسي لتحلل الاترازين هو ٢ كلورو ٤- أمينو ٦- أيزو بروبييل  
.أمينو - ترازين

## التطاير / التبخر .

يعتقد أن الاترازين لا يتطاير

## التراكم البيولوجي .

بيولوجيا" متوسطا" في الكائنات استنادا" إلى "يعتقد أن للمبيد تراكما  
إلا أنه لم يلاحظ أي تراكم بيولوجي بعد تعريض  $\text{Log K ow}$  قيمة  
الأسماك لتركيزات مختلفة من المبيد. ولم يتراكم المبيد في أي صنف من  
(أصناف الاسماك بيولوجيا" (تركيز البقايا أقل من الكمية الممكن قياسها

## السمية للنباتات .

أوضحت التجارب أن بقايا الاترازين بتركيزات أقل من ٧,٠ ملغم/ كغم في  
النباتات لم تحدث تلفا" خطيرا" للمحاصيل

## الخواص

وهو ثابت (لا يتغير) لعدة سنوات في .الاترازين مسحوق عديم اللون  
مغلفاته الاصلية وله حساسية ضئيلة للضوء العادي. ويجب حفظه بعيدا  
عن الحرارة واللهب والشرر. وهو غير ثابت في الوسط الحمضي أو  
القلوي ويمكن إزالة التسربات من المبيد باستعمال محلول صودا كاوية  
بقوته ١٠% بالحجم أو الوزن (NaOH)

## الجدول ٢ الخصائص النوعية

الخاصية	الخاصية النوعية	الوحدة	القيمة	الخلاصة
درجة الانسهار		درجة سلزيوس	١٧٥-١٧٦	
الضغط البخاري		ميجا باسكال	٠.٠٤	
الكثافة		غم/سم <sup>٣</sup>	١.١٨٧	
التحلل	عمر النصف بالثروة	يوم	٦٠-١٥٠	متوسط التحلل
الذوبانية في الماء	S <sub>٥٠</sub>	ملغم/لتر	٣٠	ذوبان آني
الحركية	Log K <sub>٥٥</sub>			حركية عالية
التناول (الازداد) اليومي المقبول		ملغم/كغم/يوم	٠.٠٠٠٥	
التراكيزات المسموحة	الإنسان: التلامس المباشر استهلاك الخضروات استهلاك مياه الشرب	ملغم/كغم تربة جافة ملغم/كغم مادة جافة ميكروغرام/لتر	٢٥٠٠ ١ ١٠٠	

## كابتافول Captafol

### الصيغة الجزيئية



### التسجيل في الملخصات الكيميائية

2425-06-1

### الاستخدام

مبيد للفطور واسع المدى يعمل عن طريق التلامس. فعال لوقف الأمراض

الفطرية على النباتات (ما عدا العفن الدقيقي). ويستعمل على نطاق واسع لوقف الأمراض الورقية والثمارية للتفاح والموالح والبطاطس والبن.. الخ. كما يستعمل أيضا "للتقليل من الخسائر الناتجة عن عفن الخشب الفطري في كتل الأخشاب ومنتجاتها.

## كابتافول في البيئة

### . الحركية

قيمة معامل الامتزاز (على سطوح حبيبات التربة) تشير إلى أن كابتافول قليل الحركية في معظم أنواع التربة.

### . التحلل

التحلل الأحيائي والتحلل المائي هما العمليتان الرئيسيتان اللتان تسببان فقد المبيد في معظم أنواع التربة. وقد قدرت فترة عمر النصف للمبيد تجريبيا في ثلاثة أنواع من التربة وتراوحت بين ٢٣ - ٥٥ يوما". و يبلغ العمر النصفى للمبيد ثلاثة، خمسة، ثمانية أيام في الاراضي غير المعقمة العضوية والرملية والطينية الطميية على التوالي. ولا ينض المبيد من الأراضي القلوية. وقد قدرت فترة عمر النصف للكابتافول في الأنهار بـ "٠،٣ يوم بسبب التحلل الحيوي أساسا

### . نواتج التحلل

.لا تتوفر عنه بيانات

### . التطاير / التبخر

بسبب الضغط البخاري المنخفض لكابتافول، فإن تطايره من الاراضي الجافة والرطوبة ضئيل للغاية.

### . التراكم البيولوجي

.التراكم البيولوجي للمبيد في الأحياء المائية غير مهم

### . السمية للنباتات



فترة عمر النصف للمبيد الذي يتم رشه على معظم المحاصيل أقل من خمسة أيام. تكون بقايا المبيد وقت الحصاد أقل من الحدود المسموح بها. تمتص جذور وسوق النباتات المبيد ومشتقات استقلابه. وينتقل كابتافول في أنسجة النبات نتيجة لمعاملة البذور والتربة ورش الأوراق. ويؤدي المبيد إلى تلف التفاح والعنب وثمار الموالح نتيجة لسميته في ظروف معينة للطقس. كما أن الورود تتلف نتيجة المعاملة بمعدلات عالية

## الخواص

كابتافول بلورات صفراء إلى عديمة اللون ويتحلل المبيد مائياً في المستحلبات والمعلقات المائية. كما يتحلل مائياً بسرعة في الاوساط الحمضية والقلوية.

الجدول ٣  
الخصائص النوعية

الخاصية	الخاصية النوعية	الوحدة	القيمة	الخلاصة
درجة الانصهار		درجة سلتزيوس	١٦٠-١٦٢	
الضغط البخاري		مربعا پاسكال	لا تذكر	
الذوبان		غم/سم <sup>٣</sup>	-	
التحلل	عمر النصف بالثريه	يوم	٢٢-٥٥	سهل التحلل
الذوبانية في الماء	$S_w$	ملغم/لتر	١.٤	متوسط الذوبان
الحركية	$\log K_{oc}$		٢.٢٢	قليل الحركية
التناول (الازدراد) اليومي المقبول		ملغم/كغم/يوم	١.٠٠٤	
التركيزات المسموحة	الإنسان: التلامس المباشر استهلاك الخضروات استهلاك مياه الشرب	ملغم/كغم تربة جافة ملغم/كغم مادة جافة ميكروغرام/لتر	٢٠٠٠ ٢ ٨٠	

كارباريل Carbaryl

الصيغة الجزيئية

C 12 H 11 NO 2

التسجيل في دائرة الملخصات الكيميائية

63-25-2

الاستخدام

-يستخدم مبيداً" للحد من انتشار الحشرات على ثمار الموالح

الفواكه- القطن- الغابات- المسطحات الخضراء- أشجار الظل-  
والمحاصيل الأخرى.

كارباريل في البيئة

الحركية .

استناداً" إلى متوسط معامل امتزاز المبيد، فإن حركيته تعتبر معتدلة

التحلل .

كارباريل له دوام منخفض في التربة. ويرجع تحلله في الغالب إلى ضوء الشمس وفعل البكتريا. ويعتمد معدل التحلل الضوئي فوق سطح التربة على المحتوى المائي لها. وللمبيد فترة عمر نصف تتراوح بين ٧ أيام و ١٤ يوماً" في الاراضي الرملية الطميية و ٤ أو ٢٨ يوماً" في الأراضي الطينية والطينية. وتحلله المائي يكون سريعاً" نسبياً في الأراضي القلوية الرطبة، إلا أنه يكون بطيئاً في الاراضي الحمضية. يتسبب انطلاقة في التربة إلى تحلله مائياً" بسرعة عند أرقام حموضة (٧) أو

تكون فترة عمر النصف= ١٠,٥ يوم و ١,٨ يوم و ٢,٥ ساعة عند أكبر وثمانية (٨) وتسعة (٩) على التوالي. وفي (7) أرقام حموضة سبعة المياه السطحية يمكن أن يتحلل كارباريل بسبب البكتريا وعن طريق التحلل المائي. وتتباين قيمة عمر النصف للمبيد كثيرا" لاعتمادها على درجة حموضة الماء. التحلل المائي في المياه الحمضية بطيء (عمر النصف ١٥٠٠ يوم عند رقم حموضة ٥).

## نواتج التحلل .

-النواتج الرئيسية للتحلل هي: ٣- هيدروكسي كاربوفيوران ٣  
ydroxycarbofuran

كاربوفيوران فينول (Ketocarbofuran-كيتو كاربوفيوران ٣-3  
(Carbofuranphenol)

## التطاير/ التبخر .

يتبخر المركب ببطء شديد

## التراكم البيولوجي .

يعتقد أن التراكم البيولوجي غير ملموس

## السمية للنباتات .

يحدث التحلل المائي للمبيد داخل النباتات. وفترة عمر النصف لبقاياها أقل من أسبوعين.

## الخواص

بلورات كارباريل شفافة أو ذات لون حنطي فاتح ولا تتأثر بالحرارة أو الضوء أو الأحماض، ولكنها معرضة للتحلل المائي.

الجدول ٤  
الخصائص النوعية

الخاصة	الخاصة النوعية	الوحدة	القيمة	الخلاصة
درجة الانسهار		درجة سلتزيوس	1٤٢	
الضغط البخاري		ميجا باسكال	$5,3 >$	
الكثافة		غم/سم <sup>٣</sup>	1,٢٢٢	
التحلل	عمر النصف بالتربة	يوم	٢٨-١٧	تحلل أسي
الذوبانية في الماء	$S_w$	ملغم/لتر	١٠	ذوبان أسي
الحركية	$\text{Log } K_{oc}$		٢,٥	متوسط الحركية
التأول (الأزدراد) اليومي المقبول		ملغم/كغم/يوم	٠,٠١	
التركيزات المسموحة	الإنسان: التلامس المباشر استهلاك الخضروات استهلاك مياه الشرب	ملغم/كغم ثروة جافة ملغم/كغم مادة جافة ميكروغرام/لتر	٥٠٠٠ ٥ ٢٠٠	

## كاربوفوران Carbofuran

### الصيغة الجزيئية



### التسجيل في دائرة الملخصات الاكيميائية

1563-66-2

### الاستخدام

مبيد آفات واسع المدى ينتمي إلى مجموعة الكاربامات. ويستعمل لإبادة آفات التربة والأوراق والثمار والخضروات ومحاصيل الغابات.

## كاربوفوران في البيئة

### . الحركية

"حركية المبيد في التربة عالية إلى عالية جدا

### . التحلل

عمر النصف لاختفاء المبيد من التربة يتراوح بين ٢ و ٨٦ يوما" في الأراضي المغمورة، و ٢٦ - ١١٠ أيام في التربة الحقلية. عمليات التحلل المائي الكيميائي والميكروبي تعتبر من عمليات التحلل المهمة في كل من التربة والأوساط المائية. ويعتقد أن التحلل المائي الكيميائي للكربوفوران أسرع في الأوساط القلوية منه في الأوساط الحمضية أو المتعادلة.

وتكون عمليات التحلل الاحيائي للكربوفوران أسرع في التربة التي سبق معاملتها بالمبيد. التحلل الضوئي المباشر والأكسدة الضوئية (عن طريق شق الهيدروكسيل) يمكن أن تسهم في إزالة الكربوفوران من المياه الطبيعية. وقد قدرت أعمار النصف لتحلل المبيد في عينات من مياه الأنهار والبحيرات، ومياه البحر التي تم تعريضها لأشعة الشمس ب ٢ و ٦ و ١٢ ساعة على التوالي. وتزداد معدلات تحلل الكربوفوران مع خفض معدلات استعماله ومع انخفاض محتوى التربة من المواد العضوية والطين، ومع زيادة درجة حموضتها ورطوبتها.

### . نواتج التحلل

نواتج التحلل الرئيسية للكربوفوران في التربة هي ٣- هيدروكسي كاربوفوران، و ٣- كيتو كاربوفوران، و كاربوفوران فينول.

### . التطاير/ التبخر

يعتقد أن تطاير المبيد من سطح التربة غير ملموس. وعند إطلاقه في الجو المحيط، فإن الكربوفثوران يوجد في الطور الغازي في صورة مم زئبق عند  $10^6 \times$  جسيمات دقيقة تحت ضغط بخاري قدره ٨٥،٤ ١٩٠ سلزيوس (منوية). يتحلل بخار المبيد بالتفاعل مع شق الهيدروكسيل المتكون بالتأثير الكيميائي الضوئي ويكون له عمر نصفى يمكن إزالة جسيمات المبيد من الجو عن طريق . يبلغ نحو ١٣ ساعة الترسيب الرطب أو الجاف. ويمكن أن يؤدي التحلل الضوئي المباشر إلى إزالة الكربوفثوران من الجو.

## التراكم البيولوجى .

. التراكم البيولوجى للمبيد في الأحياء المائية غير مهم.

## السمية للنباتات .

عمر النصف للمبيد على المحاصيل ٤ أيام تقريبا عند استعماله للجذور . وأكثر من ٤ أيام إذا ما استعمل للاوراق.

## الخواص

الكربوفثوران مادة متبلورة. وهو ثابت في الأوساط الحمضية والمتعادلة . ولكنه غير ثابت في الأوساط القلوية.

الجدول ٥  
الخصائص النوعية

الخاصية	الخاصية النوعية	الوحدة	القيمة	الخلاصة
درجة الانصهار		درجة سلتزيوس	103-105	
الضغط البخاري		ميجا باسكال	٢,٧	
الكثافة		غم/سم <sup>3</sup>	١,٨	
التحلل	عمر النصف بالتربة	يوم	١٧٧-٣٠	متوسط التحلل
الذوبانية في الماء	S <sub>w</sub>	ملغم/لتر	٣٢٠	ذوبان آني
الحركية	Log K <sub>ow</sub>		١,٣	متحرك
التناول (الأزدراد) اليومي المقبول		ملغم/كغم/يوم	١,٠١	
التركيزات المسموحة	الإنسان: التلامس المباشر استهلاك الخضروات استهلاك مياه الشرب	ملغم/كغم تربة جافة ملغم/كغم مادة جافة ميكروغرام/لتر	٥٠٠٠ ١ ٣٠٠	

## كلوردان Chlordane

### الصيغة الجزيئية



### التسجيل في سجل الملخصات الكيميائية

57-74-9

### الاستخدام

مبيد حشري عصي التحلل يستخدم للحد من النمل الأبيض تحت الأرض كما يستخدم في المنازل والحدائق. يستعمل أيضا للتحكم في آفات الذرة وثمار الموالح، والخضروات والمحاصيل الأخرى.

## الكلوردان في البيئة

### . الحركية

يعتقد بناء على الاختبارات الحقلية، أن الكلوردان لا حركية له أو أنه ذو حركية ضئيلة.

### . التحلل

الكلوردان عصي التحلل في التربة حيث أن عمر النصف له حوالي ٤ سنوات. وفي العديد من الدراسات، عثر على الكلوردان بكميات تزيد عن ١٠% من كمية المبيد المستعملة أصلاً، بعد ١٠ سنوات أو أكثر من تاريخ الاستعمال. يمكن لضوء الشمس أن يعمل على تحلل جزء صغير من الكلوردان. لا يتحلل الكلوردان كيميائياً كما أنه ليس عرضة للتحلل البيولوجي في التربة. عادة ما تكون جزيئات الكلوردان ممتزة على سطوح حبيبات الطين والمادة العضوية للتربة في الطبقات العليا من التربة حيث تتخرببطء في الجو.

أمكن رصد وجود كميات ضئيلة جداً من الكلوردان (٠،٠٠١-٠،٠٠١ ميكروغرام في كل لتر) في كل من المياه الجوفية والسطحية وذلك في المناطق التي يستخدم فيها الكلوردان بكثرة وتتيح التربة الرملية تسرب المبيد إلى المياه الجوفية. ولا يتحلل الكلوردان بسرعة في الماء، ويمكن أن يفقد من النظم أو الأوساط المائية بامتصاصه على الرواسب أو بالتطاير.

### . نواتج التحلل

للكلوردان يمكن ( Photoisomers ) يبدو أن المتشابهات الضوئية أن تتكون تحت الظروف الطبيعية. ولكل هذه المتشابهات الضوئية أهمية خاصة، حيث أنها أكثر سمية لحيوانات معينة من الكلوردان نفسه. (Photo-cis-chlordane) ويكون المتشابه فوتو- سز- كلوردان



، ( cis- chlordane) أكثر قابلية للتحلل بيولوجيا عن سز- كلوردان ولقد أظهر المركب الأول تراكما" بيولوجيا" أكثر من الثاني ولذا، يعتقد أن له أهمية أكبر فيما يختص بتأثيره على السلسلة الغذائية

## التطاير / التبخر .

يشكل التبخر الطريق الرئيسي لإزالة المبيد من التربة. ويقدر العمر النصفى لتطاير الكلوردان من البحيرات والبرك بأقل من عشرة أيام. إلا أن امتزاز الكلوردان على حبيبات الرواسب يوهن كثيرا" من أهمية التطاير. ويتفاعل الكلوردان في الحالة الغازية مع شق الهيدروكسيل المنتج فوتو كيميائيا خلال عمر نصف قدره ٦ ساعات مما يشير إلى أن هذا التفاعل يشكل عملية الإزالة الكيميائية للمبيد

## التراكم البيولوجي .

يعتقد أن للكلوردان معدل تراكم بيولوجي عال في الكائنات المائية

## السمية للنباتات .

لا يوجد حتى الآن بيانات عن هذا الموضوع

## الخواص

مختلفا" تضم "يتكون الكلوردان التجاري من خليط من ٢٣ مركبا متشابهات الكلوردان. والمبيد سائل لزج كهرماني اللون يتحلل في القلويات الضعيفة

## الجدول ٦ الخصائص النوعية

الخاصة	الخاصة النوعية	الوحدة	القيمة	العلامة
درجة الانسهار		درجة ملزيوس	107-108	
الضغط البخاري		ميجا باسكال	١,٣	
الكثافة		غم/سم <sup>3</sup>	١,٦	
التحلل	عمر النصف بالثروة	سنوات	3	قابل التحلل
النويانية في الماء	S <sub>w</sub>	ملغم/لتر	٠,١	شحيح الذوبان
الحركية	Log K <sub>ow</sub>		٣,٩	بطيء الحركية
التناول (الأزواد) اليومي المقبول		ملغم/كغم/يوم	٠,٠٠٠٥	
التركيزات المسموحة	الإنسان: الثلاسن المباشر استهلاك الخضروات استهلاك مياه الشرب	ملغم/كغم تربة جافة ملغم/كغم مادة جافة ميكروغرام/لتر	٢٥٠ ٠,١ ١٠	

## كلوردايميفورم Chlordimefrom

### الصيغة الجزيئية

### C 10 H 13 CIN 2

### التسجيل في سجل الملخضات الكيميائية

### 6164-98-3

### الاستخدام

يستعمل مبيداً " للأكاروسات (القراد) والحشرات كما أنه فعال للحد من الحشرات القشرية وللحد من بيض ويرقات الحشرات على القطن.

## الكلوردايميفورم في البيئة والوسط المحيط

### الحركية .

الكلوردايميפורم له حركية متوسطة في التربة استناداً إلى معامل تجزؤ  
بط قدره ٠.٨٩٠

## . التحلل

كلوردايميפורم يتحلل بيولوجياً. ويكون هذا التحلل بطيئاً تحت  
الظروف اللاهوائية. وتختفي بقايا المبيد بسرعة عقب استعماله كمحلول  
منه بعد ٥٠٠ يوم %أو مستحلب مركز، إلا أنه يمكن وجود ١٠

## . نواتج التحلل

ثنائي ميثيل كلوردايميפורم -نواتج التحلل الرئيسية هي ن  
فورموتولويدايد (-، كلورو- N) – (dimethylichlordimeform)  
(، كلورو- اسيتوتولوايد (Chloro - o - formotoluidide)  
chloro – (acetotoluide .

## . التطاير/ التبخر

مم زئبق عند ٢٥ سلزيوس 4-10 X يبلغ الضغط البخاري للمبيد ٣,٦  
(مئوية)، ومن ثم فإن تطايره من التربة غير متوقع. ويتحلل المبيد في  
الحالة الغازية في الجو بالتفاعل مع شق الهيدروكسيل المنتج بالتفاعلات  
".الكيميائية الضوئية والذي تبلغ فترة عمره النصفى ٠,٢ يوم تقريبا

## . التراكم البيولوجي

تبلغ ٠,١١ يكون التراكم K ow استناداً إلى أن قيمة معامل التجزؤ  
".البيولوجي في الكائنات المائية متوسطاً

## . السمية للنباتات

.غير واردة

## الخواص

يوجد المبيد على شكل بلورات عديمة اللون، ويتحلل مائياً في الأوساط المتعادلة والحمضية.

الجدول ٧ الخصائص النوعية				
الخاصية	الخاصية النوعية	الوحدة	القيمة	العلامة
درجة الانصهار		درجة سلتزيوس	٢٥	
الضغط البخاري		ميجا باسكال	لا توجد	
الكثافة		غم/سم <sup>٣</sup>	١,١٠	
التحلل	عمر النصف بالترية	يوم	٩٢	قليل التحلل
الذوبانية في الماء	S <sub>w</sub>	ملغم/لتر	٢٧٠	بالغ الذوبان
الحركية	Log K <sub>ow</sub>		٢,٩	متوسط الحركية
التناول (الأزبداد) اليومي المقبول		ملغم/كغم/يوم	لا توجد	
التركيزات المسموحة	الإنسان: التلامس المباشر استهلاك الخضروات استهلاك مياه الشرب	ملغم/كغم تربة جافة ملغم/كغم مادة جافة ميكروغرام/لتر		

## كلوفنفنفوس (بيرلان) Chlorfenvinphos (Birlane)

الصيغة الجزيئية

C<sub>12</sub> H<sub>14</sub> Cl<sub>3</sub> O<sub>4</sub> P

التسجيل في سجل الملخصات الكيميائية

470-90-6

الاستخدام

مبيد حشري للحد من القراض والذباب والقمل والسوس المتطفلة على  
الماشية.

يستخدم أيضا" للحد من ذبابة وديدان الجذور وكمبيد حشري ورقي

للحد من خنفساء كلورادو على البطاطس والجنادب على الأرز

## كلورفننفوس في البيئة

### الحركية .

، للمبيد البالغة ٢,٤٧ Koc وفقا لأحد التصنيفات المقترحة فإن قيمة  
تشير إلى أن له حركية متوسطة في التربة.

### التحلل .

عند إطلاق المبيد في التربة أو الماء، فإنه يتحلل بيولوجيا. وقد اتضحت  
أهمية عملية التحلل الميكروبي للمبيد من خلال دراسات مقارنة لتحلله  
في التربة المعقمة في مقابل التربة غير المعقمة. وأوضحت هذه  
الدراسات أن تحلل المبيد في التربة غير المعقمة يكون أسرع كثيرا منه  
في التربة المعقمة. وأظهرت دراسة حقلية استغرقت ٩٠ يوما أن المبيد  
لا يتعرض للنض في التربة الرملية الطميية. وتتراوح فترة عمر النصف  
للمبيد بين ١٠ أيام وه ٤ يوما. ويقدر عمر النصف للمبيد تحت ظروف  
ويعتمد معدل  $pH = 06$  التحلل المائي بأربعة أيام عند رقم حموضة  
التحلل المائي على درجة حموضة الوسط المحيط. ويتراوح عمر النصف  
للتحلل المائي عند رقم حموضة من ٦ إلى ٨ وتحت درجة حرارة ٢٠  
". مئوية بين ٣٨٨ يوما و ٤٨٣ يوما

## نواتج التحلل .

نواتج تحلل المبيد هي ثنائي كلورو فيناسيل كلوريد ، وثنائي كلورو أسيتوفينون (dichlorophenacy chloride) ، كحول ألفا كروميثيل- ٢،٤- ثنائي (dichloroacetophenone) ، 2,4-ألفا-كلوروميثيل-كلورو بنزائل (alpha-chloromethyl-2,4-dichlorobenzyl alcohol) ، و ٢- هيدروكسي- ٤- حمض (2-hydroxy-4-chlorobenzoyl alcohol) ، ٢- هيدرو بنزويك (2-hydroxy-4-chlorobenzoic acid) ، و ٢،٤- 4-وحمض ٢ و dihydrobenzoic acid ثنائي هيدرو بنزويك ( ٢،٤- 4-وحمض ٢ و acid .

## التطاير / التبخر .

استناداً إلى الضغط البخاري والذوبانية في الماء، يعتبر المبيد غير متطاير من الماء أساساً. وعند إطلاق المبيد في الجو، فإنه يتحلل بسرعة في الصورة البخارية بالتفاعل مع شق الهيدروكسيل المنتج عن طريق التفاعلات الكيميائية الضوئية (عمر النصف نحو ٧ ساعات). عند بطريقتي استعمال المبيد في صورة دقائق أو معلقات هوائية (إيرسول الرش، فإنه يختفي من الهواء عن طريق الترسيب الرطب أو الجاف

## التراكم البيولوجي .

من المعتقد أن المبيد متوسط التراكم في الكائنات المائية

## السمية للنباتات .

.لاتنطبق

## الخواص

المبيد سائل عديم اللون وغير ثابت في الوسط القلوي عند ٢٠ م (عمر النصف ١,٢٨ عند رقم حموضة ١٣). ويتحلل المبيد ببطء في الماء والأوساط الحمضية.

الجدول ٨ الخصائص النوعية				
الخاصية	الخاصية النوعية	التردد	القيمة	العلامة
درجة الانصهار		درجة سيلزيوس	١٩- إلى -٢٣	
الضغط البخاري		ميجا باسكال	لا يذكر	
الكثافة		غم/سم <sup>٣</sup>	١,٢٦	
التحلل	عمر النصف بالترية	يوم	١٠-٤٥	يتحلل باعتدال
الذوبانية في الماء	S <sub>٥٥</sub>	ملغم/لتر	١٤٥	شديد الذوبان
الحركية	Log K <sub>٥٥</sub>		٢,٤٧	متوسط الحركية
التناول (الأزبداد) اليومي المقبول		ملغم/كغم/يوم	٠,٠٠٠٢	
التركيزات المسموحة	الإنسان: الثلامس المباشر استهلاك الخضروات استهلاك مياه الشرب	ملغم/كغم تربة جافة ملغم/كغم مادة جافة ميكروغرام/لتر	١٠٠٠ ٠,١ ٤٠	

## كلورو بنزيلات Chlorobenzilate

الصيغة الجزيئية

C16 H14 Cl2 O3

التسجيل في سجل الملخصات الكيميائية

510-15-6

الاستخدام

للحد من عناكب محاصيل الموالح والمناحل. استخداماته كمبيد حشري محدودة حيث يقضى فقط على القراض والسوس.

## كلورو بنزيلات في البيئة

### الحركية .

حيث أن الكلورو بنزيلات معروف بعدم ذوبانه في الماء ويمتص بشدة على حبيبات الطبقات العليا من التربة، فإنه يعتقد أن حركيتها في التربة ضئيلة. وبالتالي فإنه ليس من المحتمل أن يتعرض للنض في المياه الجوفية.

### التحلل .

الكلورو بنزيلات لها فترة بقاء قصيرة في التربة. ويتراوح عمر النصف في التربة الرملية بين ١٠ أيام وه ٣ يوما بعد إضافتها بتركيز ٥،٠-١٠،٠ جزء في المليون. وغالبا ما ترجع الإزالة من التربة إلى التحلل الميكروبي. ولم يعثر علي المبيد في مياه المصارف تحت التربة أو في



المياه السطحية عقب إضافة المبيد- بخمسة أيام- إلى عدة بساتين موالح تستخدم معاملات خدمة مختلفة. ويمتاز المبيد على حبيبات الرواسب ودقائق المواد المعلقة في الماء ويعتقد انه لا يتطاير من الماء ولكن يمكن أن يكون عرضة للتحلل البيولوجي.

## نواتج التحلل .

- ناتج تحلل الكلورو بنزيلات هو ٤,٤- ثنائي كلورو بنزو فينون ( ٤,٤ dichlorobenzophenone ) .

## التطاير/ التبخر .

نظرا لان المبيد يمتاز بشدة على سطوح حبيبات التربة ولانخفاض ضغطه البخاري، يعتقد أنه لا يتطاير من التربة أو السطوح المائية.

## التراكم البيولوجي .

لا يحدث تراكم أو تركيز بيولوجي للمبيد في الكائنات المائية.

## السمية للنباتات .

للمبيد دوام معقول على أجزاء النبات ويمكن أن يسبب تسمما لبعض النباتات. المبيد لا يمتاز سطوحيا" ولا ينتقل (يتحرك) داخل النبات. وقد وجدت بقايا المبيد في قشرة ثمار الموالح، عمر النصف في قشرة ثمار "الليمون والبرتقال بعد مدة تتراوح بين ٦٠ يوما وأكثر من ١٦٠ يوما

## الخواص

الكلورو بنزيلات مركب صلب عديم اللون وله فترة تخزين بين ثلاث سنوات وخمس سنوات عند حفظه في مكان جاف وعند درجات حرارة منخفضة.

الجدول ٩  
الخصائص النوعية

الخاصية	الخاصية النوعية	الوحدة	القيمة	الخلاصة
درجة الانصهار		درجة سلتزيوس	٢٦	
الضغط البخاري		ميجا باسكال	٠,١٢	
الكثافة		غم/سم <sup>٣</sup>	١,٢٨	
التحلل	عمر النصف بالثريا	يوم	٢٥-١٠	آني إلى سريع التحلل
الذوبانية في الماء	S <sub>٥٠</sub>	ملغم/لتر	١٠	ذوبان متوسط
الحركية	Log K <sub>٥٥</sub>		٢	قليل الحركة
التأول (الأزيراد) اليومي المقبول		ملغم/كغم/يوم	٠,٠٢	
التركيزات المسموحة	الإنسان: التلامس المباشر استهلاك الخضروات استهلاك مياه الشرب	ملغم/كغم تربة جافة ملغم/كغم مادة جافة ميكروغرام/لتر	١٠٠٠٠ ٨ ٤٠٠	

دى دى تي DDT

الصيغة الجزيئية

C14 H9 Cl5

التسجيل في سجل الملخصات الكيميائية

50-29-3

الاستخدام

.مبيد حشري غير جهازى عن طريق المعدة والملامسة

## دي دي تي فى البيئة

### . الحركية

ال دي دي تي مبيد غير متحرك. يمتاز بشدة على حبيبات التربة ولا ينضف فى المياه الجوفية.

### . التحلل

يتحلل المبيد بيولوجيا فى التربة وله فترة عمر نصفى تتراوح بين سنتين وأكثر من ١٥ سنة. والتحلل البيولوجى أسرع فى الأراضي المغمورة وتحت الظروف اللاهوائية. وقد أشارت بعض التقارير إلى اختفاء المبيد (٧٥-١٠٠%) من التربة خلال ٤ سنوات إلى ٣٠ سنة. ويكاد المبيد لا يتحلل فى الماء. ووفقا للتقارير فإن عمر النصف للتحلل المائى للمبيد هو ١٢ سنة.

وفى الماء، فإن المبيد عرضة للتبخر، ويتراوح العمر النصفى للتبخر بين عدة ساعات و ٥٠ ساعة. التحلل المباشر للمركب بواسطة الضوء فى المحاليل المائية يحدث ببطء شديد وله عمر نصفى يصل إلى أكثر من التى تبدأها) ١٥٠ سنة. عمليات التحلل الضوئى غير المباشرة للمبيد مواد طبيعية) يمكن لها أن تكون خطوة مهمة فى تحولات دي دي تي، وعندئذ تكون لها عمر نصفى تقدر بعدة أيام. التحلل البيولوجى فى الماء "ضعيف جدا" عموما.

### . نواتج التحلل

الناتج النمطي لعمليات الاختزال الكيميائية DDE يعتبر الذي دي إي للمبيد تحت الظروف الهوائية، وتحت الظروف اللاهوائية فانواتج هي: DDA ، ودي دي أيه DDD دي دي دي

## التطاير/ التبخر .

غير مهم .

## التراكم البيولوجي .

إذا أطلق المبيد في الماء فإنه يمتز بشدة على الرواسب كما يتركز بيولوجيا بكثرة في الأسماك .

## السمية للنباتات .

لا تنطبق .

## الخواص

الذي دي تي عبارة عن بلورات عديمة اللون. والمركب مقاوم للتفكك بواسطة الضوء والأكسدة. ويمكن أن تحدث عملية فقد لكلوريد فوق درجة ٥٠ م (Dehydrochlorination الأيدروجين

## الجدول ١٠ الخصائص النوعية

الخاصية	الخاصية النوعية	الوحدة	القيمة	الخلاصة
درجة الانصهار		درجة سيلزيوس	١٠٨	
الضغط البخاري		ميجا باسكال	٠,٠٢٥	
الكثافة		غم/سم <sup>٣</sup>	لا يوجد	
التحلل	عمر النصف بالتربة	سنة	٣-٤	تحلل قليل جدا
النويانية في الماء	S <sub>w</sub>	ملغم/لتر	٠,٠٠٣٣	غير ذائب
الحركية	Log K <sub>ow</sub>		٦,٢	غير متحرك
التناول (الأزداد) اليومي المقبول		ملغم/كغم/يوم	٠,٠٢	
التركيزات المسموحة	الإنسان: التلامس المباشر استهلاك الخضروات استهلاك مياه الشرب	ملغم/كغم تربة جافة ملغم/كغم مادة جافة ميكروغرام/لتر	١٠٠٠٠ ١٠٠٠ ٤٠٠	

## ديازينون Diazinon

### الصيغة الجزيئية

### C12 H21 N2 O3 PS

### التسجيل في سجل الملخصات الكيميائية

### 333-41-5

### الاستخدام

مبيد حشري، يستخدم غالبا" لأشجار الفاكهة ومحاصيل البساتين والأرز. وقصب السكر الخ.

## ديازينون في البيئة

### الحركية

لا يرتبط الديازينون بشدة بحبيبات التربة. ولذا يظهر حركية متوسطة.

## التحلل .

في الجدول ١١ عبارة عن متوسط لقيم (DT50) فترة عمر النصف عمر النصف المقدر في الحقل. والديازينون لا يدوم طويلا في التربة. ويختفي معظم المركب المضاف للتربة بواسطة التحلل البيولوجي والكيميائي في غضون شهرين تقريبا" من وقت الإضافة. وقد ذكر أن التحلل المائي بطيء عند رقم حموضة أكبر من ٦ ولكنه يمكن أن يكون مهما" في بعض الأراضي.

يعتقد أن التحلل البيولوجي يشكل عملية رئيسية في اختفاء المبيد من التربة وله عمر نصف يتراوح بين ١,٢ و ٥ أسابيع في التربة غير المعقمة، بينما يتراوح في التربة المعقمة بين ٦,٥ أسبوع و ١٢,٥ أسابيع.

معدل التحلل الكيميائي للديازينون يعتمد بشدة على رقم الحموضة في الوسط المحيط. يعتبر ديازينون أكثر استقرارا" في الأوساط القلوية منه التحلل المائي له عمر نصف يقدر بـ ٣٢" يوماً (عند رقم حموضة=٥) ، و١٨٥ يوماً (عند رقم حموضة=٤) ، و ١٣٦ يوماً" (عند رقم حموضة=٩) (في درجة ٢٠°م (سلزيوس)).

## نواتج التحلل .

لا تتوفر عنه أي بيانات.

## التطاير/ التبخر .

يعتقد أن التبخر من سطح التربة ليس مهما كعملية للحركة والتنقل. وله فترة عمر نصف قدرها ٤٦ "التبخر من الأنهار يمكن أن يكون مهما". يوما.

## التراكم البيولوجي .

يعتقد أن ديازينون يمتز بدرجة متوسطة على الرواسب ولكنه لا يتراكم بيولوجيا" في الكائنات المائية.

## السمية للنباتات .

تم اختفاء ٥٠% من الديازينون من نباتات الأرز المعاملة بالمبيد خلال ٩ أيام عن طريق التطاير من مياه حقول الأرز وكذا عمليات النتح من أوراق النبات.

## الخواص

الديازينون عبارة عن سائل عديم اللون. وهو مركب أكثر استقرارا" في الوسط القلوي منه في الأوساط الحامضية والمتعادلة. المركب له فترة تخزين من ٣-٥ سنوات على الأقل عندما يخزن في مكان جاف تحت درجة حرارة منخفضة.

## الجدول ١١ الخصائص النوعية

الخاصية	الخاصية النوعية	الوحدة	القيمة	الخلاصة
درجة الانصهار		درجة سيلزيوس	-	
الضغط البخاري		مهماً باستكمال	٠.٠٩٧	
الكثافة		غم/سم <sup>٣</sup>	١.١١	
التحلل	عمر النصف بالثريه	أسبوع	٥-١.٢	معتدل التحلل
الذوبانية في الماء	S <sub>w</sub>	ملغم/لتر	٤٠	أني الذويان
الحركية	Log K <sub>oc</sub>		١.٩٢	متوسط الحركية
التركيزات المسموحة	الإنسان، التلامس المباشر استهلاك الخضروات استهلاك مياه الشرب	ملغم/كغم/يوم	٠.٠٠٢	
		ملغم/كغم تربة جافة	١.٠٠٠	
		ملغم/كغم مادة جافة	٠.٣	
		ميكروغرام/لتر	٤٠	

## داي إدرين Dietdrin

### الصيغة الجزيئية

## C12 H8 C16 O

### التسجيل في سجل الملخصات الكيميائية

## 60-57-1

### الاستخدام

أو "المتشابه اللاضوئي لالدرين" " يستخدم "ستيريوايزومر إدرين أساساً" لوقاية الأخشاب والمباني والهياكل الخشبية من الحشرات والنمل. الأبيض كما يستخدم في الصناعة للوقاية من الآفات التي تصيب النسيج.

## داي إدرين في البيئة

### الحركية



عند إطلاق داي إدرين في التربة فإنه يرتبط بشدة بحبيباتها. ويظهر حتى في درجات (Rf=0.00) المبيد حركية منخفضة ويظل مقيد الحركة. الحرارة العالية ومع النض لمدة طويلة.

## التحلل .

عند إطلاق الداى إدرين في التربة، فإنه يدوم لفترات طويلة بها (يظل بها أكثر من سبع سنوات). إلا أنه يفقد سريعاً من التربة في المناطق الاستوائية، حيث يختفي ٩٠% منه خلال شهر واحد. وبسبب قلة ذوبانه في الماء وشدة امتزازه على سطوح التربة، فإنه لا يتعرض للنض منها.

عند إطلاقه في وسط مائي فإنه لا يتحلل مائياً أو بيولوجياً، ولكن المبيد عرضة للتحلل الضوئي وله فترة عمر نصف مدتها ٤ أشهر تقريباً، وفي بعض الأحيان يكون التحلل أسرع في المياه التي تحتوى على عامل (Photosensitizer) حيث يحدث للفاعلات الضوئية.

## نواتج التحلل .

هناك بعض الشواهد على أن الكائنات الدقيقة يمكن أن تنتج فوتوداي إدرين من الداى إدرين.

## التطاير/ التبخر .

يمكن لكميات صغيرة من الداى إدرين أن تتطاير من التربة وتنتقل في التبخر من الماء يمكن أن يشكل عملية. الجو (ممتزة) على حبيبات الغبار. (مهمة) بعمر نصف يتراوح بين ساعات وشهور.

## التراكم البيولوجي .

يعتقد أن الداى إدرين يمتاز على سطوح الرواسب كما أنه يتراكم بيولوجيا في الكائنات المائية.

## السمية للنباتات .

سمية الداى إدرين للنباتات الراقية قليلة.

## الخواص

داى إدرين يوجد في صورة قشور حنطية اللون. وهو ثابت في وجود الضوء والرطوبة والقلويات والأحماض الضعيفة، إلا أنه حساس للأحماض المعدنية المركزة والعوامل المساعدة الحامضية والمركبات المؤكسدة للأحماض والمعادن النشطة.

## الجدول ١٢ الخصائص النوعية

الخاصية	الخاصية النوعية	الوحدة	القيمة	الخلاصة
درجة الانصهار		درجة سلزيوس	١٧٧	
الضغط البخاري		ميجا باسكال	٠,٤	
الكثافة		غم/سم <sup>٣</sup>	١,٧٥	
التحلل	عمر النصف بالترية	سنة	٧<	تحلل قليل جدا
الذوبانية في الماء	S <sub>w</sub>	ملغم/لتر	٠,١	قليل الذوبان
الحركية	Log K <sub>ow</sub>		٢,٨٧	قليل الحركية
التناول (الأزبراد) اليومي المقبول		ملغم/كغم/يوم	٠,٠٠٠١	
التركيزات المسموحة	الإتسان: التلامس المباشر استهلاك الخضروات استهلاك مياه الشرب	ملغم/كغم تربة جافة ملغم/كغم مادة جافة ميكروغرام/لتر	٥٠ ٠,١ ٢	

## داى ميثويت Dimethoate

### الصيغة الجزيئية

## C5 H12 NO3 PS2

### التسجيل في سجل الملخصات الكيميائية

## 60-51-5

### الاستخدام

### يستخدم مبيد حشري

## داى ميثويت في البيئة

### الحركية .

سريع الذوبانية في الماء كما يمتاز على التربة، ويمكن للمبيد أن ينض  
بكميات كبيرة

## التحلل .

الداي ميثويت ليس له دوام بالتربة حيث أن فترة عمر النصف له تتراوح بين ٤ أيام و ١٦ يوما" ويمكن أن تطول إلى ١٢٢ يوما" حسب بعض التقارير. وقد ذكرت فترات عمر نصفي للمبيد تتراوح بين ٢,٥ و ٤ أيام تحت ظروف الجفاف والتساقط المتوسط للأمطار. يتحلل المبيد بسرعة في الأراضي الرطبة كما يتفكك بسرعة بواسطة معظم الكائنات الدقيقة بالتربة. والمبيد عرضة للتحلل المائي بدرجة كبيرة، وخاصة في المياه القلوية، وقدّر عمر النصف للتحلل المائي بين ٣,٧ يوم و ١١٨ يوما" عند أرقام حموضة ٩ و ٧ على التوالي.

## نواتج التحلل .

لا يوجد بيانات عنها.

## التطاير/ التبخر .

يعتقد أن التبخر من المياه المفتوحة غير مهم.

## التراكم البيولوجي .

يعتقد أنه يتراكم بيولوجيا في الكائنات المائية.

## السمية للنباتات .

الداي ميثويت ليس ساما" للنباتات.

## الخواص

يوجد الداى ميثويت في صورة مادة صلبة عديمة اللون. ويتحلل سريعا" في البيئة وفي محطات معالجة مياه المجاري

الجدول ١٣ الخصائص النوعية				
الخاصية	الخاصية النوعية	الوحدة	القيمة	الخلاصة
درجة الانصهار		درجة سلتزيوس	٤٩	
الضغط البخاري		ميجا باسكال	٠,٢٩	
الكثافة		غم/سم <sup>٣</sup>	١,٢٨	
التحلل	عمر النصف بالتربة	يوم	١٢٢-٤	تحلل معتدل
الذوبانية في الماء	S <sub>w</sub>	ملغم/لتر	٢٥	ذوبان سريع
الحركية	Log K <sub>ow</sub>		١	عالي الحركة
التناول (الأرداد) اليومي المقبول		ملغم/كغم/يوم	٠,٠١	
التركيزات المسموحة	الإنسان: التلامس المباشر استهلاك الخضروات استهلاك مياه الشرب	ملغم/كغم تربة جافة ملغم/كغم مادة جافة ميكروغرام/لتر	٥٠٠٠ ٠,٥ ٢٠٠	

داينوسيب Dinoseb

الصيغة الجزيئية

C10 H12 N2 O5

التسجيل في سجل الملخصات الكيميائية

88-85-7

الاستخدام

مبيد فينولي للحشائش التي تتطفل على فول الصويا والخضروات  
والفواكه واللوزيات وثمار الموالح والمحاصيل الحقلية الأخرى

.كما يستعمل كمبيد لحشرات الأعناب وكعامل تجفيف لمحاصيل البذور

## داينوسيب في البيئة

### الحركية .

الشكل الفينولي للداينوسيب قليل الذوبان في الماء كما أن له درجة امتزاز متوسطة على سطوح حبيبات معظم أنواع التربة. وقد أظهرت الدراسات أن سعة الامتزاز (على السطوح) للتربة تكون أكبر كثيرا" عند أرقام الحموضة المنخفضة، ولذلك فإنها تمثل خطورة متوسطة للمياه الجوفية. ومن ناحية أخرى، فإن أملاح الأمونيا والأمينات للداينوسيب تزيد كثيرا عن المركب نفسه في ذوبانها في الماء كما أن ارتباط هذه الأملاح وامتزازها على التربة أقل، وبذلك يمكن أن تشكل هذه الأملاح خطورة علي المياه الجوفية.

### التحلل .

الداينوسيب له دوام قليل بالتربة بغض النظر عن الصورة الموجود بها (فينولية أو ملحية). فترات عمر النصف لصورتي داينوسيب تتراوح بين ٥ أيام و ٣١ يوما. وتقدر قيمة فترة عمر النصف العامة للمركب ٢٠-٣٠ يوما تحت معظم الظروف، إلا أن دوام المركب يكون أطول في المناطق التحلل الضوئي والتفكك . ( vadose zone شبة الارتشاحية بواسطة الميكروبات يمكن أن يلعب دورا" لتحلل المبيد في وسط التربة

ويمكن للتحلل الضوئي أن يحدث في المياه السطحية، إلا أن التحلل المائي قليل للغاية ولا يذكر

## نواتج التحلل .

.لا تتوفر عنها أي بيانات

## التطاير/ التبخر .

يعتقد أن التطاير من الماء لا يشكل عملية إزالة مهمة للمركب. ويتحلل الطور البخاري لدينوسيب تحللاً كيميائياً ضوئياً، ويبلغ عمر النصف لهذا التحلل ١٤ يوماً.

## التراكم البيولوجي .

.يعتقد أن الدينوسيب لا يتراكم بيولوجياً" في الكائنات المائية

## السمية للنباتات .

يدوم الدينوسيب على تربة المحاصيل لفترات تتراوح بين أسبوعين و ٤ أسابيع في ظروف الاستعمال العادية.

## الخواص

يوجد دينوسيب على هيئة سائل بني محمر أو في صورة صلبة بنية داكنة. ويتحلل إستر دينوسيب مائياً ببطء في وجود الماء كما أنه حساس للأحماض والقلويات. المركب له فترة تخزين مدتها سنتان

## الجدول ١٤ الخصائص النوعية

الخاصية	الخاصية النوعية	الوحدة	القيمة	الخلاصة
درجة الاتصهار		درجة سيلزيوس	٤٢-٣٩	
الضغط البخاري		ميجا باسكال	١	
الكثافة		غم/سم <sup>٣</sup>	١,٣٦	
التحلل	عمر النصف بالثروة	يوم	٣١-٥	أني إلى سريع التحلل
التوزيعية في الماء	$S_w$	ملغم/لتر	١٠٠	أني الذوبان
الحركية	$\text{Log } K_{oc}$		٢	متحرك
التناول (الأزدراد) اليومي المقبول		ملغم/كغم/يوم	لا يوجد	
التركيزات المسموحة	الإنسان: التلامس المباشر استهلاك الخضروات استهلاك مياه الشرب	ملغم/كغم تربة جافة ملغم/كغم مادة جافة ميكروغرام/لتر		

## إندوسلفان Endosulfan

### الصيغة الجزيئية



### التسجيل في سجل الملخصات الكيميائية

115-29-7

### الاستخدام

مبيد حشري لمحاصيل الخضروات

## إندوسلفان في البيئة

### الحركية



الإندوسلفان غير متحرك نسبياً في التربة ويمتاز بشدة على أسطح حبيباتها.

## التحلل .

و"بيتا أيزومر" للمركب أكثر ثباتاً". وتذكر . الإندوسلفان يتحلل بيولوجياً بعض التقارير عمر النصف يبلغ ٦٠ يوماً "لألفا إندوسلفان، ٨٠٠ يوم لبيتا إندوسلفان. والإندوسلفان عرضة للتحلل المائي. ويبلغ عمر النصف للتحلل المائي ٣٥,٤ يوم (ألفا إندوسلفان)، ٥,٣٧ يوم (بيتا إندوسلفان) عند رقم حموضة ٧. وعند رقم حموضة (٥,٥) فإن فترة عمر النصف يمكن أن تبلغ ١٨٧,٣ يوماً بالنسبة لبيتا إندوسلفان. والتحلل المائي للإندوسلفان يكون أسرع في وجود أيروكسيد الحديد وتقدر فترة عمر النصف للمبيد في الجداول والأنهار والبحيرات ب ٧,٥,٢,٧,٤,٣٠ أيام على التوالي.

## نواتج التحلل .

ناتج التحلل الرئيسي هو كبريتات إندوسلفان.

## التطاير/ التبخر .

يتوقع أن يكون لمشابهات الإندوسلفان حداً أدنى من التطاير والنض في المياه الجوفية.

## التراكم البيولوجي .

يعتقد أن الإندوسلفان يتراكم بيولوجياً في الكائنات المائية.

## السمية للنباتات .

تفقد معظم الفواكه والخضروات ٥٠% من بقايا المبيد خلال ثلاثة إلى سبعة أيام.

## الخواص

الإندوسلفان مادة بلورية بنية اللون مكونة من ألفا إندوسلفان وبيتا إندوسلفان. والمركب ثابت تحت ضوء الشمس ولكنه غير ثابت في الأوساط القلوية، وهو معرض للتحلل المائي ببطء وللتأكسد في وجود (نمو خضري) نباتات نامية.

الجدول ١٥  
الخصائص النوعية

الخاصية	الخاصية النوعية	الوحدة	القيمة	الخلاصة
درجة الانصهار		درجة سيلزيوس	٧٠-١٠٠	
الضغط البخاري		ميجا باسكال	١,٢	
الكثافة		غم/سم <sup>٣</sup>	لا توجد	
التحلل	عمر النصف بالثريه	يوم	٦٠-٨٠	قليل التحلل
الذوبانية في الماء	S <sub>w</sub>	ملغم/لتر	٠,٥	قليل الذوبان
الحركية	K <sub>oc</sub> Log		٣,٤	قليل الحركية
التناول (الأزرد)		ملغم/كغم/يوم	٠,٠٠٦	
التركيزات المسموحة	الإنسان: التلامس المباشر استهلاك الخضروات استهلاك مياه الشرب	ملغم/كغم تربة جافة ملغم/كغم مادة جافة ميكروغرام/لتر	٣٠٠٠ ٣ ١٢٠	

إندرين Endrin

الصيغة الجزيئية

C12 H8 CL6 O

التسجيل في سجل الملخصات الكيميائية

72-20-8

الاستخدام

يستعمل مبيداً للحشرات التي تصيب المحاصيل الحقلية كالقطن والحبوب.

**إندرين في البيئة**

**الحركية .**

نظراً لقلّة ذوبانه في الماء ولشدة امتزازه على سطوح التربة، فإن احتمال نضه وانتقاله إلى المياه الجوفية غير وارد.

**التحلل .**

يظهر إندرين مقاومةً للتحلل البيولوجي في المحاليل المائية المتعادلة وفي معظم أنواع التربة. وعند إطلاق المبيد في التربة، فإنه يظل بها لفترات طويلة جداً". وتتراوح فترة عمر النصف للتحلل الأحيائي في التربة بين ٤ سنوات و ١٤ سنة أو أكثر حسب ما تذكر بعض التقارير. وتتم عملية التحلل البيولوجي بمعدل أسرع في الأراضي المغمورة بالمياه. أو تحت الظروف اللاهوائية.

ولا يتحلل إندرين مائيا عند إطلاقه في الأوساط المائية أو الأنظمة المائية. إلا أنه يتعرض للتحلل الضوئي ويتحول إلى كيتو إندرين

## التطاير / التبخر .

يمكن أن يتطاير إندرين من التربة بكميات قليلة أو يحمل بواسطة حبيبات التراب إلى الهواء، وتبخره من الماء ضئيل للغاية

## التراكم البيولوجي .

، يعتقد أن إندرين يتراكم بكميات كبيرة في Kow استنادا إلى قيمة الكائنات المائية .

## السمية للنباتات .

إندرين ليس ساما للنباتات

الخواص

إندرين مركب بلوري صلب عديم اللون إلى حنطي

## الجدول ١٦ الخصائص النوعية

الخاصة	الخاصة النوعية	الوحدة	القيمة	الخلاصة
درجة الانسهار		درجة سلتريوس	-	
الضغط البخاري		ميجبا باسكال	٧-E ١٠ x ٢	
الكثافة		غم/سم <sup>٣</sup>	١,٧	
التحلل	عمر النصف بالتربة	يوم	١٤-٤	قليل التحلل جداً
الذوبانية في الماء	S <sub>w</sub>	ملغم/لتر	٢٠٠ ميكروغرام/لتر	قليل الذوبان
الحركية	Log K <sub>oc</sub>		١,٥	ليس له حركية تقريباً
التناول (الأزرد) اليومي المقبول		ملغم/كغم/يوم	٠,٠٠٠٢	
التركيزات المسموحة	الإنسان: التلامس المباشر استهلاك الخضروات استهلاك مياه الشرب	ملغم/كغم ثرية جافة ملغم/كغم مادة جافة ميكروغرام/لتر	١٠٠ ٨ ٤	

## فينيتروثيون Fenitrothion

### الصيغة الجزيئية

### C9 H12 NO5 PS

### التسجيل في سجل الملخصات الكيميائية

### 122-14-5

### الاستخدامات

مبيد حشري تلامسي، وهو فعال ضد مدى واسع من الآفات مثل الحشرات الثاقبة والماضغة والماصة.

## فينيتروثيون في البيئة

### الحركية

المركب له حركية بطيئة إلى متوسطة بالتربة.

## التحلل .

يتحلل المبيد بيولوجيا في التربة من خلال التفاعلات الأيضية. ويحدث التحلل البيولوجي بسرعة أكبر تحت الظروف اللاهوائية منه تحت الظروف الهوائية. في عمليات التحلل البيولوجي فإن عمر النصف للفينيتروثيون يتراوح بين ٤,٤ يوم إلى ٥٣,٧ يوم في التربة غير المغمورة بالمياه، ومن ٣,٩ يوم إلى ١٠,٩ يوم في التربة المغمورة.

في المحاليل المائية المتعادلة يكون التحلل المائي للأحيائي للمبيد غير ملحوظ إلا أنه يتزايد في الأوساط القلوية. وقد قدرت فترة عمر النصف للمركب ب ٤,٤ سنة في عينات التربة عند رقم حموضة ٧,٢. ويتحلل المبيد ضوئيا" على سطح التربة وهي عملية يمكن أن تحدث بسرعة كبيرة. ولقد قدر عمر النصف تحت ظروف التحلل الضوئي بيوم واحد وللمقارنة فقد قدر عمر النصف تحت ظروف التطاير بأكثر من ١٢ يوما".

## نواتج التحلل .

نواتج التحلل هي "أمينونتروفينول"، "ثنائي ميثيل أمينو فينيتروثيون".

## التطاير/ التبخر .

حسب التقديرات، فإن أقصى فترة عمر النصف للمركب بالتطاير في وسط حامضي هي ١٨٠ يوما". قدرت فترة عمر النصف للمركب في البحيرات والجداول المائية ب ٢١ يوما، ٥ أيام على التوالي.

## التراكم البيولوجي .

يتوقع أن يمتاز المبيد في الماء بدرجات متوسطة إلى عالية على الحبيبات العالقة والرواسب، كما أنه يتراكم بدرجة متوسطة في الكائنات المائية.

السمية للنباتات .

لا تنطبق.

## الخواص

فينيتروثيون سائل أصفر اللون وهو غير ثابت في الوسط القلوي.

الجدول ١٧ الخصائص النوعية				
الخاصة	الخاصة النوعية	الوحدة	القيمة	الخلاصة
درجة الاتصهار		درجة سيلزيوس	لا موضع لها	
الضغط البخاري		مهبجا بسانكال	٠,١٥	
الكثافة		غم/سم <sup>٣</sup>	١,٢٢	
التحلل	عمر النصف بالثرية	يوم	٥١-٤	أنه إلى معتدل التحلل
الذوبانية في الماء	S <sub>w</sub>	ملغم/لتر	٢١	أنه الذوبان
الحركية	Log K <sub>ow</sub>		٢,١٩-٢,٤	متوسط/قليل الحركية
التناول (الأزواد) اليومي المقبول		ملغم/كغم/يوم	٠,٠٠٥	
التركيزات المسموحة	الإنتسان: التلامس المباشر استهلاك الخضروات استهلاك مياه الشرب	ملغم/كغم تربة جافة ملغم/كغم مادة جافة ميكروغرام/لتر	٢٥٠٠ ٣ ١٠٠	

فينثيون Fenthion

الصيغة الجزيئية

C10 H15 O3 PS2

التسجيل في سجل الملخصات الكيميائية

55-38-9

الاستخدام

كمبيد حشري يستعمل للحد من الآفات العاضة (أي التي تعض) وذباب الفاكهة والبعوض الخ.

## فينثيون في البيئة

### الحركية .

يمتاز المبيد على حبيبات التربة ويعتقد أن له حركية قليلة أو بطيئة. كما يعتقد أنه لا يتحرك ولا ينض خلال التربة.

### التحلل .

يتحلل الفينثيون لدى إطلاقه في التربة أو الماء، بواسطة عمليات التحلل الضوئي والتحلل البيولوجي. وله دوام متوسط بالتربة مع فترة عمر وتدوم بقايا المبيد .النصف متوسطها ٣٤ يوما" تحت معظم الظروف بالتربة لفترات تتراوح بين ٤ إلى ٦ أسابيع. وفي دراسة لدوام المركب في الماء، تبقى ٥٠% من المبيد المضاف في مياه النهر لمدة أسبوعين بينما بقيت ١٠% منه بعد ٤ أسابيع. والمبيد يتحلل بسرعة تحت الظروف القلوية. فترة دوام عمر النصف لبقاء المبيد في الماء تتراوح بين ٣- ٢١ يوما للمحيطات والأنهار والمستنقعات حسب التقارير. إلا أنه يمكن أن يدوم المبيد لفترات أطول في بعض الأوساط كرواسب حيث يكون الضوء والأكسجين (المستنقعات المالحة) (الملاحات محدودين.



## نواتج التحلل .

.لا توجد بيانات عن الموضوع

## التطاير/ التبخر .

.يعتقد أن المركب لا يتطاير

## التراكم البيولوجي .

، فإن المركب يتراكم قليلا" في الكائنات ( $Kow = 25$ ) بناء على قيمة الحية.

## السمية للنباتات .

فينثيون له سمية لنباتات الزيزفون الأمريكي والزرعور وأشجار القيقب السكري ولبعض أصناف الورد. ولا يعتبر ساما للنبات إذا ما استخدم بالمعدلات الموصى بها، بالرغم من أن الضرر قد حدث لبعض أصناف التفاح والقطن. لم يتبق سوى ١٠% من المبيد المستعمل على نبات الأرز بعد ستة ساعات. ولقد وجد ٥٠% تقريبا" من النشاط في نخالة الأرز، ٦,٥% في القشرة (قشرة حبوب الأرز)، ١٤,٧% في الأرز كما وجدت نواتج الأيض ذائبة في الماء بعد ١٤ .(الأبيض (المبيض .يوما" من معاملة الأرز بالمبيد

## الخواص

الفينثيون سائل عديم اللون. وهو ثابت للضوء إلا أنه يمكن أن يكون عرضة للتحلل المائي .

## الجدول ١٨ الخصائص النوعية

الخاصة	الخاصة النوعية	الوحدة	القيمة	الخلاصة
درجة الاتصهار		درجة سلزيوس	٧,٥	
الضغط البخاري		ميجا باسكال	٤	
الكثافة		غم/سم <sup>٣</sup>	١,٢٥	
التحلل	عمر النصف بالتربة	يوم	٣٤	معتدل التحلل
النوبانية في الماء	$S_w$	ملغم/لتر	٣	نوبان متوسط
الحركة	$\text{Log } K_{oc}$		٣,١	قليل الحركة
التناول (الأزدراد) اليومي المقبول		ملغم/كغم/يوم	٠,٠٠١	
التركيزات المسموحة	الإنتسان: التلامس المباشر استهلاك الخضروات استهلاك مياه الشرب	ملغم/كغم تربة جافة ملغم/كغم مادة جافة ميكروغرام/لتر	٥٠٠ ٠,٣ ٢,٠	

## فلورو أسيتاميد Fluoroacetamide

### الصيغة الجزيئية

## C2 H4 FNO

### التسجيل في سجل الملخصات الكيميائية

## 640-19-7

### الاستخدام

استخدم في الماضي مبيداً للحشرات والمن والعناكب التي تصيب الفواكه.

## فلورو أسيتاميد في البيئة

### الحركية

.تشير إلى حركة عالية للمبيد Koc القيمة المنخفضة لمعامل

## . التحلل

عملية التحلل الأولي للمبيد في التربة والماء قد تكون التحلل الميكروبي له. فترة الدوام في التربة (كما تم تحديدها بالسمية لحشرة المن) استمرت لثلاثة أسابيع أو أقل عند تركيز قدره ١٠ أجزاء في المليون جزء في 50 خلال الاختبار وفي ٩- ١١ أسبوعا عند تركيز قدره المليون. التحلل المائي بطيء جدا" (عمر النصف ٢,٤ سنة عند رقم (قدره ٧) حموضة متعاد).

## . نواتج التحلل

.لا توجد بيانات عن هذا الموضوع

## . التطاير/ التبخر

.لا موضع لهما

## . التراكم البيولوجي

.يعتقد أن التراكم البيولوجي ليس له أهمية في الأوساط المائية

## . السمية للنباتات

.لاتنطبق

## الخواص

الفلورو أسيتاميد عبارة عن مسحوق بلوري عديم اللون. ويتحول إلى بخار مباشرة تحت الحرارة

## الجدول ١٩ الخصائص النوعية

الخاصية	الخاصية النوعية	الوحدة	القيمة	الخلاصة
درجة الانصهار		درجة سيلزيوس	١٠٤	
الضغط البخاري		ميجا باسكال	لا موضع له	
الكثافة		غم/سم <sup>٣</sup>		
التحلل	عمر النصف بالتربة	يوم	لا موضع له	-
الذوبانية في الماء	S <sub>w</sub>	ملغم/لتر	١٠<	غير ذائب في الماء
الحركية	Log K <sub>ow</sub>		٠,٨	سريع الحركية
التناول (الأزدراء) اليومي المقبول		ملغم/كغم/يوم	لا يوجد	
التركيزات المسموحة	الإنسان: التلامس المباشر استهلاك الخضروات استهلاك مياه الشرب	ملغم/كغم/تربة جافة ملغم/كغم/مادة جافة ميكروغرام/لتر		

## خليط متشابهات هكسا كلوروسيكلوهكسان

### المكون الفعال

## γ-هكساكلوروسيكلوهكسان (لندان) hexachlorocyclohexane (lindane)

### الصيغة الجزيئية

## C6 H6 Cl6

### التسجيل في سجل الملخصات الكيميائية

ألفا- هكسا كلورو سيكلوهكسان ٦-٨٤-٣١٩

بيتا- هكسا كلورو سيكلوهكسان ٧-٨٥-٣١٩



## نواتج التحلل .

جاما بنتا كلورو : HCH أهم نواتج الأيض لخليط متشابهات هك ه سداسي)، كلوروفينولات. ولا -سيكلوهكسين، وكلوروبنزينات (ثلاثي على التربة، ولكن من "يعرف لأي حد يمكن أن تشكل هذه النواتج خطرا المعروف أنه تحت الظروف اللاهوائية فإن الكلوروبنزينات لها دوام طويل بها.

## التطاير / التبخر .

نظرا" للضغط البخاري المنخفض والامتزاز الشديد على سطوح التربة والرواسب فإن مضو يتبخر ببطء من التربة والماء.

## التراكم البيولوجي .

يعتقد أن متشابهات هكسا كلورو سيكلوهكسان تتراكم بيولوجيا في الكائنات المائية.

## السمية للنباتات .

.غير واردة.

الجدول ٢٠  
الخصائص النوعية

الخاصية	الخاصية النوعية	الوحدة	القيمة	الخلاصة
درجة الانصهار	درجة سيلزيوس °C		158	
α-HCH			309	
β-HCH			112,8	
γ-HCH			151	
δ-HCH (lindane)				
الضغط البخاري	مليبار زئبق		0,02	
α-HCH			0,005	
β-HCH			10 x 2,26	
γ-HCH			-	
δ-HCH (lindane)				
الكثافة	غم/سم <sup>3</sup>		1,87	
α-HCH			1,89	
β-HCH			1,85	
γ-HCH			-	
δ-HCH (lindane)				
عمر التصفية بالتربة				
التحلل	أسبوع	قليل التحلل	20	
α-HCH			25-20	
β-HCH				
γ-HCH				
δ-HCH (lindane)				
التوافية في الماء	S <sub>w</sub>	متوسط الذوبان	2	
α-HCH			1,5	
β-HCH			10	
γ-HCH			2	
δ-HCH (lindane)				
الحركية	Log K <sub>oc</sub>			
α-HCH				
β-HCH				
γ-HCH				
δ-HCH (lindane)				
التناول (الأزدراد)				
اليومي المقبول	ملغم/كغم/يوم		0,008	
التركيزات المسموحة				
الإنسان:				
التلامس المباشر	ملغم/كغم/تربة جافة		4000	
استهلاك الخضروات	ملغم/كغم مادة جافة		20	
استهلاك مياه الشرب	ميكروغرام/لتر		160	

هبتاكلور Heptachlor

الصيغة الجزيئية

C10 H5 Cl7

التسجيل في سجل الملخصات الكيميائية

76-44-8

## الاستخدام

يستخدم- بصفة أساسية- مبيدا " حشريا" للنمل الأبيض، والنمل، وحشرات التربة ؛ في بذور الحبوب وعلى المحاصيل

## هبتاكلور في البيئة

### الحركية .

هبتاكلور وهبتاكلور إيبوكسيد يرتبطان بدرجة متوسطة بحبيبات التربة ولذا فلا يتوقع أن يكونا شديدي أو سريعى الحركية

### التحلل .

هبتاكلور، وهبتاكلور إيبوكسيد لهما فترة دوام طويلة بالتربة وتذكر التقارير أن لهما فترة عمر نصفى فى الحقل مقدارها ٢٥٠ يوما".  
البيانات التى تم جمعها فى ولايات مسيسبى ونيوجرسى وماريلاند (بالولايات المتحدة) أظهرت أن فترة عمر النصف للهبتاكلور قدرها ٠،٤-٠،٨ سنة. وقد تراوح متوسط معدلات اختفاء (زوال الأراضى من ٥،٢٥% إلى ٧٩،٥% فى السنة، وفقا لنوع التربة وطريقة استعمال المبيد. لوحظت أعلى معدلات للتحلل فى الأراضى الرملية عقب استعمال المبيد فى صورة حبيبية. وقد أدى اندماج المبيد بالتربة إلى معدلات اختفاء سريعة له من كل أنواع الأراضى. فى بعض لهذا المركب فى التربة بعد ١٤-١٦ "الاحيان وجدت آثار ضئيلة جدا سنة من الاستعمال. وبالرغم من حركيته البطيئة، فإن طول فترة استمرارية أو دوام المركب قد تؤدي إلى انتقال وتحرك محسوسين له فى التربة. ولذلك فإن الهبتاكلور والهبتاكلور إيبوكسيد يمكن أن يكونا خطرا" بسبب تلوث المياه الجوفية بمرور الوقت. ولقد وجدت آثار (أو



مستويات منخفضة جدا" ) للهبتاكلور في مياه الآبار. وهبتاكلور إيبوكسيد ليس عرضة للتحلل الأحيائي ولا التحلل الضوئي ولا الأكسدة ولا التحلل المائي في الوسط المحيط.

الهبتاكلور لا يذوب تقريبا" في الماء ويدخل إلى المياه السطحية أساسا" بالانجراف أو خلال الجريان السطحي للمياه ويخضع الهبتاكلور للتحلل المائي سريعا في الوسط المائي ويتحول إلى مركب يتحول بدوره سريعا" (غالبا" تحت الظروف اللاهوائية) بواسطة الميكروبات إلى هبتاكلور إيبوكسيد. وتأتي بعد التحلل المائي عمليات التطاير، والامتزاز على سطوح الرواسب والتحلل الضوئي كوسائل يمكن أن تكون لها أهمية في اختفاء الهبتاكلور من الأوساط المائية.

## نواتج التحلل .

نواتج تحلل الهبتاكلور هي هيدروكسي كلوردان، ١- هيدروكسي ٢،٣- إيبوكسي كلوردان.

## التطاير/ التبخر .

التطاير من سطوح التربة وخصوصا" السطوح المبتلة هو الطريق الرئيسي لفقد الهبتاكلور.

## التراكم البيولوجي .

يظهر الهبتاكلور ميلا كبيرا" للتراكم في الكائنات المائية.

## السمية للنباتات .

الناتج الرئيسي لتحلل هبتاكلور في النبات هو الإيبوكسيد. والهبتاكلور ليس ساما للنبات إذا استعمل حسب التعليمات والإرشادات.

## الخواص

الهبتاكلور إما أن يكون في صورة مسحوق أبيض قابل للبلل أو في صورة "مركز". والمركب ثابت في وجود الضوء والرطوبة والحرارة (المتوسطة حتى ١٦٠ سلزيوس).

الجدول ٢١ الخصائص النوعية				
الخاصية	الطامة النوعية	الوحدة	القيمة	الخلاصة
درجة الانصهار		درجة سلزيوس	٩٥-٩٦ (نقي) ٤٦-٧٤ (تجاري)	
الضغط البخاري		ميجا باسكال	٥٢	
الكثافة		غم/سم <sup>٣</sup>	١,٥٧ (٢٩ سلزيوس)	
التحلل	عمر النصف بالتربة	يوم	٢٥٠	قليل التحلل جداً
الذوبانية في الماء	S <sub>w</sub>	ملغم/لتر	٠,١٨	قليل الذوبان
الحركية	Log K <sub>ow</sub>		٤,٢	غير متحرك تقريباً
التناول (الأزتراد) اليومي المقبول		ملغم/كغم/يوم	٠,٠٠٠١	
التركيزات المسموحة	الإنسان: التلامس المباشر استهلاك الخضروات استهلاك مياه الشرب	ملغم/كغم تربة جافة ملغم/كغم مادة جافة ميكروغرام/لتر	٥٠ ٠,١ ٢	

## هكساكلورو بنزين Hexachlorobenzene

الصيغة الجزيئية

C6 Cl6

التسجيل في سجل الملخصات الكيميائية

118-74-1

الاستخدام

يستخدم في الزراعة مبيداً " فطريا" انتقائيا" لمعاملة بذور القمح ضد  
". "العفن النتن

## هكساكلورو بنزين في البيئة

### الحركية .

يمتاز هكساكلورو بنزين بشدة على أسطح التربة، ويعتقد أنه لا يتحرك خلالها . إلا أن المركب يمكن أن يتحرك أو ينتقل في التربة ذات المحتوى القليل من الكربون العضوي .

### التحلل .

المركب له دوام بيئي طويل جدا نظرا لثباته الكيميائي ومقاومته للتحلل البيولوجي . .

### نواتج التحلل .

نواتج تحلل المركب هي ١،٣ - ثنائي كلوروبنزين و٣،٥،١ - ثلاثي كلوروبنزين .

### التطاير / التبخر .

فترة عمر النصف = ٨ ساعات)، ولكن يتطاير المركب بسرعة من الماء امتزازه القوي على سطوح الرواسب يمكن أن يؤدي إلى فترات دوام في الصورة "طويلة. وعند ما يطلق في الجو، فإن المركب يوجد أساسا الغازية ويكون تحلله بطيئا للغاية. وتقدر فترة عمر النصف للتحلل الضوئي له بنحو سنتين.

## التراكم البيولوجي .

يتراكم الهكسا كلورو بنزين بكثرة في الكائنات

## السمية للنباتات .

لا تنطبق.

## الخواص

يوجد المركب في شكل بللورات إبرية بيضاء وهو ثابت جدا" حتى في الأوساط الحمضية والقلوية.

الجدول ٢٢				
الخصائص النوعية				
الخاصية	الخاصية النوعية	الوحدة	القيمة	الخلاصة
درجة الانصهار		درجة سيلزيوس	٢٨٥	
الضغط البخاري		ميجا باسكال	$1.09 \times 10^{-4}$	
الكثافة		غم/سم <sup>٣</sup>	٢,٠٤٤	
التحلل	عمر النصف بالترية	سنة	٤	قليل التحلل جداً
الذوبانية في الماء	$S_w$	ملغم/لتر	٠,٠٢	لا يذوب
الحركية	$\text{Log } K_{ow}$		٥-٤	غير متحرك تقريباً
التناول (الأزدراء) اليومي المقبول		ملغم/كغم/يوم	٠,٠٠٠٥	
التركيزات المسموحة	الإنسان: التلامس المباشر استهلاك الخضروات استهلاك مياه الشرب	ملغم/كغم تربة جافة ملغم/كغم مادة جافة ميكروغرام/لتر	٢٥٠ ٢٠ ١٠	

**Lindane ليندان**

**hexachlorocyclohexane (جاما-هكسا كلورو سيكلوهكسان)**

الصيغة الجزيئية

**C6 H6 Cl6**

التسجيل في سجل دائرة الملخصات الكيميائية

**58-89-9**

الاستخدام

يستعمل مبيداً "حشريا" ومادة تبخير ضد مدى واسع من حشرات التربة والحشرات آكلة النبات.

ويستعمل على أصناف كثيرة من المحاصيل وفي الصحة العامة للحد من الحشرات

الناقلة للأمراض كما يستعمل لمعاملة البذور.

تحذير

البيانات المنشورة لا تبين ما إذا كانت التركيزات المذكورة تشير إلى المتشابه جاما (الجاما أيزومر) وحده أو إلى جميع المتشابهات ( isomers ) (الأيزومرات)

**ليندان في البيئة**

## الحركية .

يظهر الليندان ميلا " ضعيفا للارتباط بسطوح التربة ولذا فإنه يمكن أن يكون متحركا بها وخاصة في التربة التي تحتوى على قليل من المادة العضوية

## التحلل .

الليندان له استمرارية طويلة في معظم أنواع التربة، وتبلغ فترة عمره النصفى في الحقل نحو خمسة عشر شهرا". وعندما ينثر على السطح، فإن فترة عمره النصفى تكون أقصر كثيرا منها إذا ما خلط بالتربة. والليندان ثابت جدا". ويشكل المبيد خطرا بالنسبة لتلوث المياه الجوفية في أوساط المياه العذبة والمياه المالحة كما أنه مقاوم للتحلل الضوئي. ويختفي من الماء بواسطة آليات ثانوية مثل الامتزاز على سطوح الرواسب والتحلل البيولوجي بواسطة الحيوانات والكائنات الدقيقة. وامتصاصه بواسطة الأسماك عن طريق الخياشيم والجلد والطعام.

## نواتج التحلل .

النواتج الرئيسية لتحلل الليندان الرئيسية هي "جاما- بنتاكلورو الثلاثية والسداسية) " و" (سيكلوهكسين " و" الكلورو بنزينات الكلوروفينولات ". ومستوى النواتج الذي يمكن أن يشكل خطرا على التربة غير معروف. إلا أنه معروف أن الكلوروبنزينات لها دوام واستمرارية طويلة تحت الظروف الهوائية.

## التطاير/ التبخر .

. غير معروف.

## التراكم البيولوجي .

يتراكم الليندان بدرجة متوسطة في الكائنات المائية

## السمية للنباتات .

تمتص النباتات بقايا المركب ليس فقط من خلال الاستعمال المباشر ولكن أيضا من الماء ومن الطور الغازي للمركب. الدوام (استمرارية المركب) تكون فرصته أكبر عندما تكون النباتات غنية بالدهون. ويتراكم في محاصيل القنبيط والسبانخ بكميات تقل عنها في الجزر. يقدر أن نبات الجزر يقوم بعملية تمثيل الليندان في فترة عمر نصفية تزيد قليلا عن عشرة أسابيع (استنادا إلى امتزاز النبات)، إلا أن للمركب عمرا نصفيا قدره ٣-٤ أيام في نبات الخس.

## الخواص

الليندان مسحوق بللوري أبيض إلى أصفر اللون يكون ثابتا" في تغليفه الأصلي لسنوات عدة، ولكنه يتحلل في وجود الحديد والألومنيوم ومسحوق الزنك والماء. وتتآكل المعادن إذا ما لامست لندان. وهو غير ثابت في الوسط القلوي.

## الجدول ٢٣ الخصائص النوعية

الخاصية	الخاصية النوعية	الوحدة	القيمة	الخلاصة
درجة الانصهار		درجة سيلزيوس	١١٣	
الضغط البخاري		ميجا پاسكال	٥,٦	
الكثافة		غم/سم <sup>٣</sup>	١,٨٥	
التحلل	عمر النصف بالتربة	شهر	١٥	قليل التحلل جداً
التوزيع في الماء	$S_{ow}$	ملغم/لتر	٧,٣	آني التوزيع في الماء
الحركية	$Log K_{oc}$		٣,٠٤	متوسط الحركية
التلوث (الانحدار) اليومي المقبول		ملغم/كغم/يوم	٠,٠٠٨	
التركيزات المسموحة	الإنسان: التلامس المباشر استهلاك الخضروات استهلاك مياه الشرب	ملغم/كغم تربة جافة ملغم/كغم مادة جافة ميكروغرام/لتر	٤٠٠٠ ١ ١٦٠	

## مالاثيون Malathion

### الصيغة الجزيئية

## C10 H19 O6 PS2

### التسجيل في سجل دائرة الملخصات الكيميائية

## 121-75-5

### الاستخدام

مبيد حشري ضد حشرات كثيرة منها المن والعثة العنكبوتية والحشرات القشرية بالإضافة إلى عدد كبير من الحشرات التي تهاجم الفاكهة والخضروات والمنتجات المخزنة.



## مالاثيرون في البيئة

### الحركية .

يمتاز المالاثيرون على سطوح التربة بدرجة متوسطة وهو متوسط الحركية.

### التحلل .

عند انطلاق المالاثيرون في التربة، فإنه يكون عرضة لعمليات التحلل المائي والبيولوجي. والتحلل البيولوجي يمكن أن يكون مهماً في تحديد مصير المركب وخاصة في التربة عند رقم حموضة = ٧ حيث يكون التحلل المائي بطيئاً. وتذكر التقارير فترة عمر النصف للتحلل البيولوجي للمركب في التربة تتراوح بين أربعة وستة أيام. والمركب في الماء عرضة للتحلل المائي وله فترة عمر نصف قدرها ٢، ٠ أسبوع تقريباً عند رقم حموضة = ٨ إلى ٢١ أسبوعاً عند رقم حموضة = ٦، ٠.

### نواتج التحلل .

نواتج التحلل الرئيسية للمالاثيرون هي مالا أوثيون، وأحادى حامض بيتامالاثيرون، وثنائي ايثيل مالثي، ومالا أوكسون.

### التطاير/ التبخر .

تشير التوقعات أن تطاير المالاثيرون قليل الأهمية.

### التراكم البيولوجي .

يعتقد أن المالاثيون لا يتراكم بيولوجيا" بكميات ملموسة في الكائنات المائية.

## السمية للنباتات .

.غير واردة

## الخواص

مالاثيون سائل كهربائي رائق يتحلل مائيا عند رقم حموضة أعلى من ٧ وأقل من ٥ ويكون ثابتا" في المحلول ذي الحموضة الثابتة ٥,٢٦.

الخاصية	الخاصية النوعية	الوحدة	القيمة	الخلاصة
درجة الاتصهار		درجة سيلزيوس	٢,٩	
الضغط البخاري		ميجا باسكال	٥,٣	
الكثافة		غم/سم <sup>٣</sup>	١,٢٢	
التحلل	عمر النصف بالتربة	يوم	٤-٦	أني التحلل
النويانية في الماء	S <sub>w</sub>	ملغم/لتر	١٤٥	عالي النويان
الحركية	Log K <sub>oc</sub>		٣	متوسط الحركية
التناول (الأزداد) اليومي المقبول		ملغم/كغم/يوم	٢٠,٢	
التركيزات المسموحة	الإنسان: التلامس المباشر استهلاك الخضروات استهلاك مياه الشرب	ملغم/كغم تربة جافة ملغم/كغم مادة جافة ميكروغرام/لتر	١٠٠٠٠ ١٠٠ ٤٠٠	

مانكوذيب Mancozeb

الصيغة الجزيئية

{-SCS.NHCH<sub>2</sub> CH<sub>2</sub> NHCS.S.Mn-}x (Zn)y

التسجيل في سجل دائرة الملخصات الكيميائية

8018-01-7

الاستخدام

لحماية كثير من الفواكه والخضروات واللوزيات ومحاصيل الحقل ضد مدى واسع من الفطور

## مانكوزيب في البيئة

### . الحركية

استنادا إلى معامل الامتزاز (على سطوح التربة)، يعتقد أن المانكوزيب قليل الحركية في التربة.

### . التحلل

المانكوزيب قليل الدوام والاستمرارية في التربة، وله فترة عمر نصفى ويتحلل المانكوزيب بسرعة إلى "إيثيلين .تقدر بيوم واحد إلى سبعة أيام إيثيلين ثيو يوريا" يمكن أن " .ثيو يوريا" في وجود الماء والأكسجين يدوم لمدة أطول في حدود خمسة إلى عشرة أسابيع. ونظرا لأن مانكوزيب عديم الذوبان عمليا" في الماء، فإنه من غير المحتمل أن يرشح إلى الماء الأرضي. يتحلل المركب في الماء وله عمر نصف من يوم واحد إلى يومين اثنين في الأوساط قليلة الحامضية أو القلوية

### . نواتج التحلل

نواتج أيض المانكوزيب الرئيسية ذات السمية المحسوسة هي "إيثيلين ثيو يوريا"، ويعتبر ثاني سلفيد الكربون ناتج ايض ثانوي له. نواتج أيض المانكوزيب يمكن أن تكون متحركة في التربة

## التطاير / التبخر .

.لاينطبق

## التراكم البيولوجي .

لأن المانكوزيب يتحلل مائيا بسرعة، فإنه لا يتركز بيولوجيا في الكائنات المائية .

## السمية للنباتات .

عند استعماله وفق التعليمات، فإن المانكوزيب لا يكون ساما للنبات.  
الخواص المانكوزيب مسحوق أصفر رمادي اللون يتحلل دون انصهار بالتسخين عند ١٥٠ مئوية

الجدول ٢٥ الخصائص النوعية				
الخاصية	الخاصية النوعية	الوحدة	القيمة	الخلاصة
درجة الانصهار	درجة التصف بالتربة	درجة سلزيوس	=	
الضغط البخاري		ميجا باسكال	لا يذكر	
الكثافة		غم/سم <sup>٣</sup>	لا توجد	
التحلل	عمر النصف بالتربة	يوم	٦-١٥	أني التحلل
الذوبانية في الماء	S <sub>٥٠</sub>	ملغم/لتر	٦	متوسط الذوبان في الماء
الحركية	Log K <sub>oc</sub>		<٢,٢	قليل الحركية
التناول (الأزدياد) اليومي المقبول		ملغم/كغم/يوم	٠,٠٥	
التركيزات المسموحة	الإنسان: التلامس المباشر استهلاك الخضروات استهلاك مياه الشرب	ملغم/كغم تربة جافة ملغم/كغم مادة جافة ميكروغرام/لتر	٢٥٠٠٠ ٢٥ ١٠٠٠	

كلوريد الزئبقيك Mercuric chlorid

الصيغة الجزيئية

Cl<sub>2</sub> Hg

التسجيل في سجل دائرة الملخصات الكيميائية

7487-94-7

الاستخدام

للمحافظة على الخشب والعينات التشريحية وفي عمليات التصوير كما يستخدم كمبيد حشري ومبيد فطري في المستحضرات المطهرة.

## كلوريد الزئبق في البيئة

. الحركية

.لاتنطبق

. التحلل

يمكن لأملاح الزئبق اللاعضوية أن تتحول إلى مركبات الزئبق العضوية بواسطة النشاط الميكروبي في الغلاف الحيوي للأرض.

. نواتج التحلل

نواتج التحلل الرئيسية هي أحادي كلوريد الزئبق والمركبات العضوية للزئبق.

. التطاير / التبخر

بعض أنواع البكتريا لها القدرة على تحويل أيونات الزئبقيك إلى عنصر الزئبق المتطاير. الزئبق في الطور المتطاير يمكن أن ينتقل لمئات الكيلومترات.

## التراكم البيولوجي .

بعض الكائنات لها القدرة على جعل الزئبق يتراكم في الماء.

## السمية للنباتات .

لا تنطبق.

## الخواص

كلوريد الزئبقيك مسحوق بللوري عديم اللون وهو قليل التطاير تحت درجات الحرارة العادية. يمكن أن يتحلل كلوريد الزئبقيك في وجود مادة عضوية تحت ضوء الشمس إلى عنصر الزئبق.

الجدول ٢٦				
الخصائص النوعية				
الخاصة	الخاصة النوعية	الوحدة	القيمة	الخلاصة
درجة الانصهار	درجة التصف بالتربة	درجة ملزنيوس	٢٧٧	
الضغط البخاري	عمر التصف بالتربة	ميجا باسكال	١٨,٦	
الكثافة		غم/سم <sup>٣</sup>	٥,٢٢	
التحلل		يوم	لا موضع له	-
الذوبانية في الماء	S <sub>٥</sub>	ملغم/لتر	٦٩٠٠	شديد الذوبان
الحركية	Log K <sub>٥٥</sub>		لا موضع لها	-
التناول (الأزدراء)		ملغم/كغم/يوم	لا يوجد	
اليومي المشبول				
التركيزات المسموحة	الإنسان: التلامس المباشر استهلاك الخضروات استهلاك مياه الشرب	ملغم/كغم تربة جافة ملغم/كغم مادة جافة ميكروغرام/لتر		

**Methamidophos** ميثاميدوفوس

الصيغة الجزيئية

**C2 H8 NO2 PS**

التسجيل في سجل دائرة الملخصات الكيميائية

**10265-92-6**

الاستخدام

مبيد للحشرات المتطفلة على البطاطس والفواكه وثمار الموالح والذرة ومحاصيل أخرى.

**ميثاميدوفوس في البيئة**

**الحركية .**

يعتقد أن الميثاميدوفوس له حركية كبيرة في التربة

**التحلل .**

يتحلل الميثاميدوفوس بسهولة في التربة. ويحدث التحلل الايضي (العمليات الحيوية داخل النبات) في الاراضي الرملية بمستوى صغير جدا" وبمستوى أكبر في الاراضي الطميية الرملية ويصل إلى أعلى معدل له في الاراضي السلتية الطميية.

**نواتج التحلل .**

لا تتوفر عنه أي بيانات.

**التطاير / التبخر .**

استنادا إلى قيم الضغط البخاري، يتطاير المركب ببطء من سطح الأراضي الجافة ويعتقد أنه يتطاير ببطء من سطح الماء (عمر النصف في نموذج (النهر ٩١ سنة وفي نموذج للبحيرة ٩٩٨ سنة).

## التراكم البيولوجي .

التراكم البيولوجي للمركب في الكائنات المائية غير مهم.

## السمية للنباتات .

غير واردة.

## الخواص

يوجد الميثاميدوفوس على شكل بلورات عديمة اللون. وهو ثابت في درجات الحرارة العادية ولكن ٥٠% منه تتحلل خلال ١٤٠ ساعة عند درجات حرارة تبلغ ٤٠ م. المركب ثابت عند أرقام حموضة من ٣ إلى ٨ ولكنه يتحلل مائياً" في القلويات والأحماض ويزداد معدل ذلك في درجات الحرارة الأعلى.

الجدول ٢٧				
الخصائص النوعية				
الخاصية	الخاصية النوعية	الوحدة	القيمة	الخاصية
درجة الانصهار	درجة انصهار	درجة سيلزيوس	٤٤,٥	
الضغط البخاري	ميجا باسكال		٢,٣	
الكثافة	غم/سم <sup>٣</sup>		١,٥	
التحلل	عمر النصف بالثروة	يوم	لا يوجد	سهل التحلل
التوافقية في الماء	S <sub>٥٠</sub>	ملغم/لتر	< ٢٠٠٠	سريع الذوبان
الحركية	Log K <sub>oc</sub>		-٠,٥٨	عالي الحركية
التناول (الأزدراد) اليومي المقبول		ملغم/كغم/يوم	٤	
التركيزات المسموحة	الإنسان: التلامس المباشر استهلاك الخضروات استهلاك مياه الشرب	ملغم/كغم تربة جافة ملغم/كغم مادة جافة ميكروغرام/لتر	٢٠٠٠ ١٠٠٠ ٨٠	



**Mirex ميركس**

الصيغة الجزيئية

**C10 Cl12**

التسجيل في سجل دائرة الملخصات الكيميائية

**2385-85-5**

الاستخدام

مبيد حشري، كان يستعمل في الماضي للحد من النمل.

كما كان يستعمل أيضا " كمادة تضاف لإعاقة الاشتعال في البلاستيك الحراري وفي أنظمة الراتنج المرنة وكذا لطلاء الورق.

**ميركس في البيئة**

**الحركية .**

للميركس تشير إلى عدم حركيته في معظم أنواع التربة Koc قيمة

**التحلل .**

ميركس مبيد حشري ثابت جدا"، كما أنه أيضا مقاوم للتحلل البيولوجي . . . والكيميائي

**نواتج التحلل .**

نتيجة للتحول شديد البطء جدا" للميركس، أمكن التعرف على مركبات أحادي "ذات دوام واستمرارية طويلين مثل: "كيبون " ومشتقات

هيدرو" و"ثنائي هيدرو الميركس" وعمليات التحول لهذه المركبات بطيئة للغاية.

## التطاير/ التبخر .

ميركس لا ينض خلال التربة ويتوقع أن يكون تطايره بطيئا.

## التراكم البيولوجي .

يعتقد أن ميركس يتراكم بكميات محسوسة  $\text{Log Kow}$  استنادا" إلى في الكائنات الحية.

## السمية للنباتات .

لا تنطبق.

## الخواص

يتبلور ميركس من البنزين مكونا" بللورات بيضاء جليدية. وهو مبيد حشري له درجة ثبات عالية ويستعمل أيضا" كمثبط للاشتعال.

## الجدول ٢٨ الخصائص النوعية

الخاصة	الخاصة النوعية	الوحدة	القيمة	الخلاصة
درجة الانصهار		درجة سلتريوس	٤٨٥	
الضغط البخاري		ميجا باسكال	$7-10 \times 2$	
الكثافة		غم/سم <sup>٣</sup>	-	
التحلل	عمر النصف بالتربة	يوم	$180 <$	قبل التحلل جداً
الذوبانية في الماء	$S_w$	ملغم/لتر	$0.1 >$	لا يذوب
الحركية	$\text{Log } K_{oc}$	ملغم/كغم/يوم	$7,2$	منخفضة
التأول (الأزرد)		ملغم/كغم/يوم	-	
اليومي المقبول		ملغم/كغم/كغم تربة جافة		
التركيزات المسموحة	الإنسان؛ التلامس المباشر استهلاك الخضروات استهلاك مياه الشرب	ملغم/كغم مادة جافة ميكروغرام/لتر		

## منوكروتوفوس Monocrotophos

### الصيغة الجزيئية

C7 H14 NO5 P

### التسجيل في سجل دائرة الملخصات الكيميائية

6923-22-4

### الاستخدام

مبيد حشري وأكاروسي لحماية القطن والبطاطس والفاول السوداني، الخ

## مونوكروتوفوس في البيئة

### الحركية .

يعتقد أن للمونوكروتوفوس حركية عالية جداً في التربة

### التحلل .

يعتمد تحلل المبيد على حموضة التربة. ولقد تم حساب عدة فترات لأعمار النصف للمركب: ٩٦ يوما عند رقم رقم حموضة = ٥ و ٦٦ يوما عند رقم حموضة ٧ و ١٧ يوما عند رقم حموضة ٩.

## . نواتج التحلل

. لا تتوفر عنها أي بيانات

## . التطاير / التبخر

يعتقد أن المونوكروتوفوس لا يتطاير من سطح التربة الجافة أو سطح المياه.

## . التراكم البيولوجي

. في الماء، يعتقد أن المركب لا يتراكم في الكائنات المائية

## . السمية للنباتات

. لا تنطبق

## الخواص

المركب النقي يكون في شكل بلورات متميعة عديمة اللون. ويتحلل المونوكروتوفوس عند درجات حرارة أكبر من ٣٨ مئوية

الجدول ٢٩  
الخصائص النوعية

الخاصية	الخاصية النوعية	الوحدة	القيمة	الخلاصة
درجة الاتصهار		درجة سالزيوس	٥٥-٥٤	
الضغط البخاري		ميجا باسكال	٠,٢٩	
الكثافة		غم/سم <sup>٣</sup>	١,٢٢	
التحلل	عمر النصف بالترية	يوم	٩٦	قبل التحلل
الذوبانية في الماء	$S_w$	ملغم/لتر	$1 \times 10^{-1}$	شديد الذوبان
الحركة	$\text{Log } K_{oc}$		١,٣	متحرك
التأول (الازدراء) اليومي المقبول		ملغم/كغم/يوم	٠,٠٠٠٦	
التركيزات المسموحة	الإنسان: التلامس المباشر استهلاك الخضروات استهلاك مياه الشرب	ملغم/كغم تربة جافة ملغم/كغم مادة جافة ميكروغرام/لتر	٢٥ ٠,١ ١	

## باراكوات Paraquat

### الصيغة الجزيئية

### C12 H14 N2

### التسجيل في سجل دائرة الملخصات

### 4685-14-7

### الاستخدام

مبيد حشائش تلامسي للحد من الحشائش في محاصيل البذور والبساتين.  
كما يستعمل كمجفف للمحاصيل ومسقط لأوراق البطاطس والقطن.

## باراكوات في البيئة

### الحركية .

للباراكوات في التربة تتراوح بين ٤٧٣ إلى ١٥ Koc قيمة معامل  
١٠٠٠٠٠٠ (مليون). وتشير هذه القيم العالية جدا للمعامل إلى أن  
ويمكن للمركب .المركب يرتبط بشدة بسطوح التربة وغير قابل للحركة  
أن يمتز على سطوح حبيبات التربة عن طريق تكوين مركبات متعددة مع  
الموجودة بالتربة. ويتزايد امتزاز ( Fulvic) المواد الدبالية والفلوفية  
الباراكوات على سطوح حبيبات التربة عموما مع زيادة محتواها من  
الطفلة والمادة العضوية.

## . التحلل

عند إطلاقه في التربة، يتحلل المركب بيولوجيا ببطء. وهذا التحلل  
البيولوجي البطيء ناتج عن الامتزاز الشديد للباراكوات على الطين  
والمواد العضوية الموجودة بالتربة. المركب في المحلول المائي وغير  
ويزول المركب من .المتمز على التربة يمكن أن يتحلل بيولوجيا بسهولة  
معظم المياه السطحية خلال ٨-١٢ يوما". ويرجع هذا الزوال في الغالب  
إلى امتزاز المركب على المواد الصلبة العالقة والرواسب الموجودة في  
الماء. ولا تعتبر عملية التحلل المائي في التربة- عند أرقام حموضة  
متعادلة أو حمضية- عملية إزالة أو فقد مهمة.

## . نواتج التحلل

.أهم نواتج تحلل الباراكوات هي كلوريد الباراكوات

## . التطاير/ التبخر

.يتوقع أن تكون عملية التطاير قليلة الأهمية

## . التراكم البيولوجي

.يعتقد أن الباراكوات لا يتراكم بيولوجيا في الكائنات المائية

## . السمية للنباتات

لا تنطبق.

## الخواص

ثنائي كلوريد الباراكوات عبارة عن بلورات عديمة اللون تتحلل عند ٣٠٠ م. أملاح المركب ثابتة في الأوساط المتعادلة والحمضية، إلا أنها تتأكسد تحت الظروف القلوية.

الجدول ٣٠ الخصائص النوعية				
الخاصية	الخاصية النوعية	الوحدة	القيمة	الخلاصة
درجة الانصهار		درجة سيلزيوس	-	
الضغط البخاري		ميجا باسكال	لا يذكر	
الكثافة		غم/سم <sup>٣</sup>	١,٢٤	
التحلل	عمر النصف بالتربة	يوم	١٠٠٠	قليل التحلل جداً
الذوبانية في الماء	S <sub>w</sub>	ملغم/لتر	-	سريع الذوبان
الحركية	Log K <sub>oc</sub>		١,١	قليل الحركة
التناول (الأزواد) اليومي المقبول		ملغم/كغم/يوم	٠,٠٠٤	
التركيزات المسموحة	الإنسان: التلامس المباشر استهلاك الخضروات استهلاك مياه الشرب	ملغم/كغم تربة جافة ملغم/كغم مادة جافة ميكروغرام/لتر	٢٠٠٠ ١٠٠٠ ٨٠	

باراثيون Parathion

الصيغة الجزيئية

C10 H14 NO5 PS

التسجيل في سجل دائرة الملخصات الكيميائية

58-38-2

الاستخدام

مبيد للحشرات التي تصيب القمح واللوزيات

## باراثيون في البيئة

### الحركية .

الباراثيون يمتاز بشدة على سطوح التربة ويظهر حركية منخفضة فيها

### التحلل .

يتحلل الباراثيون في التربة خلال عدة أسابيع نتيجة لعمليات التحلل البيولوجي والكيميائي. ويكون التحلل أسرع في التربة المغمورة. كما أن المركب عرضة للتحلل الضوئي. الناتج النشط لعملية التحلل الضوئي (باراكسون) أكثر سمية من الباراثيون ويزداد معدل تحلل الباراثيون (بازدياد قيمة رقم الحموضة (أي في الاوساط القلوية

تشكل عملية امتزاز المركب على الدقائق العالقة ورواسب القاع الطريقة الرئيسية لإزالة المركب من المياه السطحية المفتوحة ويختفي الباراثيون عادة خلال أسبوع. عمر النصف للتحلل الضوئي للمركب في الماء . يتراوح بين يوم واحد وعشرة أيام

### نواتج التحلل .

نواتج تحلل المركب هي: "بارا- نيتروفينول"، و"حامض ثنائي إيثيل . "ثيو فو سفوريك

### التطاير / التبخر .

ليس هناك بيانات عن الموضوع

### التراكم البيولوجي .



.لاينطبق

## السمية للنباتات .

.لاتنطبق

## الخواص

الباراثيون النقي سائل أصفر باهت. وهو ثابت عند درجات الحرارة العادية.

الجدول ٣١ الخصائص النوعية				
الخاصية	الخاصية النوعية	الوحدة	القيمة	الخلاصة
درجة الانصهار		درجة سيلزيوس	٦	
الضغط البخاري		ممجا باسكال	٠,٨٩	
الكثافة		غم/سم <sup>٣</sup>	١,٣٦	
التحلل	عمر النصف بالتربة	أسبوع	١	سريع
الذوبانية في الماء	S <sub>w</sub>	ملغم/لتر	١١	سريع
الحركة	Log K <sub>ow</sub>		٣,٥	قليل الحركية
التناول (الأزداد) اليومي المقبول		ملغم/كغم/يوم	٠,٠٠٥	
التراكيزات المسموحة	الإنسان: التلامس المباشر استهلاك الخضروات استهلاك مياه الشرب	ملغم/كغم تربة جافة ملغم/كغم مادة جافة ميكروغرام/لتر	٢٥٠٠ ٣ ١٠٠	

باراثيون- ميثيل Parathion-methyl

الصيغة الجزيئية

C8 H10 NO5 PS

التسجيل في سجل دائرة الملخصات الكيميائية

298-00-0

الاستخدام

.مبيد لحشرات الأرز والفواكه والخضروات

## باراثيون ميثيل في البيئة

### . الحركية

يعتقد أن باراثيون- ميثيل متوسط الحركية في التربة. بيد أن الامتزاز على حبيبات التربة ليس له علاقة بمحتوى التربة من المادة العضوية، "إلا أن محتوى الطفلة في التربة يمكن أن يكون مهما

### . التحلل

يتحلل المركب في التربة والماء بواسطة عمليتي التحلل البيولوجي والتحلل الكيميائي. ويفقد من التربة أساساً بعملية التحلل البيولوجي ويزداد معدل التحلل بارتفاع ((فترة عمر النصف عشرة أيام إلى شهرين درجات الحرارة والتعرض لضوء الشمس. الاستثناء الرئيسي يحدث في عمليات التسرب حيث أن التحلل لا يحدث إلا بعد سنوات عديدة

العمليات الأساسية التي تزيل المركب من الماء هي التحلل البيولوجي خلال أسبوعين إلى 100% والتحلل الضوئي، حيث يتم التحلل بنسبة أربعة أسابيع. ويحدث التحلل المائي (5- 11% في أربعة أيام) في الأنهار ولكنه أبطأ في الأوساط والأنظمة البحرية. تقوم عملية التحلل 8الضوئي مباشرة على تحلل المركب في المياه الطبيعية (عمر النصف (أيام في الصيف و 38 يوماً في الشتاء).

### . نواتج التحلل

.لا توجد بيانات عنها

## التطاير/ التبخر .

.يعتقد أن عمليات التطاير والتبخر تشكل وسيلة نقل مهمة

## التراكم البيولوجي .

بناء على معامل تجزؤ المركب بين الأوكتانول والماء، يعتقد أن الباراثيون- ميثيل يتراكم بدرجة متوسطة في الأحياء المائية

## السمية للنباتات .

.لاتنطبق

## الخواص

باراثيون- ميثيل مركب صلب لونه أبيض إلى حنطي وهو ليس شديد الثبات في ظروف التخزين ويتحلل مائيا بسرعة في الأوساط القلوية .ويبطء في الأوساط الحمضية الضعيفة

## الجدول ٣٢ الخصائص النوعية

الخاصية	الخاصية النوعية	الوحدة	القيمة	الخلاصة
درجة الانصهار		درجة ملزبوس	٢٧-٢٨	
الضغط البخاري		ميجا باسكال	١,٣	
الكثافة		غم/سم <sup>٣</sup>	١,٤	
التحلل	عمر النصف بالثروة	يوم	١٠-٦	متوسط التحلل
الذوبانية في الماء	S <sub>w</sub>	ملغم/لتر	لا موضع لها	
الحركية	Log K <sub>ow</sub>		١-٢,٦	متحرك إلى متوسط
التأول (الأزدراد) اليومي المقبول		ملغم/كغم/يوم	٠,٠٢	
التركيزات المسموحة	الإنسان: التلامس المباشر استهلاك الخضروات استهلاك مياه الشرب	ملغم/كغم تربة جافة ملغم/كغم مادة جافة ميكروغرام/لتر	١٠٠٠٠ ٣ ٤٠٠	

## خماسي كلوروفينول Pentachlorophenol

الصيغة الجزيئية

C6 HCL5 O

التسجيل في سجل دائرة الملخصات الكيميائية

87-86-5

الاستخدام

كان يستخدم في الماضي مبيداً للحشائش والطحالب والفطور

ومسقطاً للأوراق وحافظاً للأخشاب

## خماسي كلوروفينول في البيئة

### . الحركية

خماسي كلوروفينول يميل إلى أن يمتز على سطوح التربة وهو قليل الحركية بها. وتزداد عملية امتزازه مع ازدياد حمضية الوسط.

### . التحلل

يتحلل المركب بيولوجيا تحت الظروف الهوائية واللاهوائية. وقد وجد أن التحلل البيولوجي الهوائي أسرع من اللاهوائي. ويبدو أن المبيد لا يتأكسد ولا يتحلل مائيا تحت الظروف البيئية، إلا أن التحلل الضوئي في الماء يمكن أن يحدث ( form dissociated ) للصورة المفككة بدرجة كبيرة.

يعتمد فقدان المبيد من سطوح المياه على درجة الحرارة والحموضة. ولقد ذكرت التقارير أن فترات عمر النصف للمبيد هي ٣٢٨ ساعة، ٣٢١٢٠ ساعة عند رقمي حموضة ٥ و ٦ على التوالي.

### . نواتج التحلل

رباعي كلوروفينول هو ناتج التحلل الرئيسي لخماسي كلوروفينول.

### . التطاير/ التبخر

يعتقد أن خماسي كلوروفينول لا يتطاير من سطوح التربة الجافة (مليمتر زئبق  $10^{-4}$  لانخفاض ضغطه البخاري ١،١).

### . التراكم البيولوجي

يعتقد أن خماسي كلوروفينول يتراكم في الكائنات المائية.

### . السمية للنباتات

لا تنطبق.

## الخواص

خماسي كلوروفينول مركب صلب شفاف إلى أبيض اللون. وهو ثابت عند درجات الحرارة العادية. عند درجات حرارة أعلى من ٢٠٠ م، ينتج " كميات ضئيلة من " أوكتاكلورودايبنزو- بارا- داي أوكسين

الجدول ٣٣				
الخصائص النوعية				
الخاصية	الخاصية النوعية	الوحدة	القيمة	الخلاصة
درجة الانصهار		درجة سلتزيوس	١٨٨-١٩١	
الضغط البخاري		ميجا يامسكال	لا يتكرر	
الكثافة		غم/سم <sup>٣</sup>	١,٩٨	
التحلل	عمر النصف بالتربة	أسبوع	عدة أسابيع / شهور	قليل التحلل
الذوبانية في الماء	S <sub>w</sub>	ملغم/لتر	١٤	سهل الذوبان
الحركية	Log K <sub>ow</sub>		٤,٤-٣,١	قليلة إلى قليلة جداً
التناول (الأزداد) اليومي المقبول		ملغم/كغم/يوم	٠,٠٣	
التركيزات المسموحة	الإنسان؛ التلامس المباشر استهلاك الخضروات استهلاك مياه الشرب	ملغم/كغم تربة جافة ملغم/كغم مادة جافة ميكروغرام/لتر	١٥ ٠٠٠ ٢٠ ٦٠٠	

فوسفاميدون Phosphamidon

الصيغة الجزيئية

C10 h19 Cl NO5 P

التسجيل في سجل دائرة الملخصات الكيميائية

13171-21-6

الاستخدام

مبيد للحشرات التي تصيب محاصيل الموالح والقطن، والفاكهة واللوزيات والأرز.

## فوسفاميدون في البيئة

### . الحركية

.يعتقد أن للفوسفاميدون حركية كبيرة في التربة

### . التحلل

يتحلل المركب بيولوجيا" في التربة وله فترة عمر نصف تمتد من عدة وفوسفاميدون مركب ثابت في .أيام إلى عدة أسابيع حسب نوع التربة المحاليل المتعادلة والحمضية الضعيفة، ولكنه يتحلل مائيا بسرعة في المحاليل القلوية.

### . نواتج التحلل

نواتج تحلل المبيد هي "ثنائي ميثيل فوسفات"، و"ألفا- كلورو "أسيتواسيتيك ثنائي إيثيل أميد".

### . التطاير/ التبخر

.يعتقد أن المبيد لا يتطاير

### . التراكم البيولوجي

استنادا إلى معامل تجزؤ المركب بين الأوكتانول والماء، فإنه لا يتراكم في الكائنات المائية. لا يحتمل أن يتركز بيولوجيا نظرا" لأنه يستقلب بسرعة.

### . السمية للنباتات

لا تنطبق.

## الخواص

المركب النقي سائل أصفر. خليط متشابهات (أيزومرات) الفوسفاميدون ثابت في الأوساط المتعادلة والحمضية ولكنه عرضة للتحلل المائي في الأوساط القلوية. ويتحلل المركب عند درجة حرارة أعلى من ١٦٠ م.

الجدول ٣٤  
الخصائص النوعية

الخاصية	الخاصية النوعية	الوحدة	القيمة	الخلاصة
درجة الانصهار		درجة سيلزيوس	٤٥-	
الضغط البخاري		ميجا باسكال	٢,٢	
الكثافة		غم/سم <sup>٣</sup>	١,٢١	
التحلل	عمر النصف بالتربة	يوم	٢٢-٢١	متوسط التحلل
الذوبانية في الماء	S <sub>w</sub>	ملغم/لتر	٠,٩	يعتزج مع الماء
الحركة	Log K <sub>oc</sub>		١,٤٥-٢,٦١	عالي الحركة
التناول (الأزرد)		ملغم/كغم/يوم	٠,٠٠٠٥	
التركيزات المسموحة	الإنسان: التلامس المباشر استهلاك الخضروات استهلاك مياه الشرب	ملغم/كغم تربة جافة ملغم/كغم مادة جافة ميكروغرام/لتر	٢٥٠ ٠,١ ١٠	

بروبوكسور Propoxur

الصيغة الجزيئية

C11 H15 NO3

التسجيل في سجل دائرة الملخصات الكيميائية

114-26-1



الاستخدام

.مبيد حشري ذو أثر فعال سريع

## برويوكسور في البيئة

### . الحركية

.البروبوكسور لا يمتز بشدة على أسطح التربة

### . التحلل

البروبوكسور يتحلل بيولوجيا، وتذكر التقارير أن فترة عمر النصف يوما. وتزداد معدلات 59 لعملية التحلل البيولوجي تتراوح بين ٤٤ و التحلل البيولوجي في الأراضي التي سبق تعريضها لكاربونات الميثيل. وتنخفض فترة عمر النصف للتحلل إلى ١٩ يوما" تحت الظروف الهوائية عقب إضافة الجلوكوز والبيتون. والمركب عرضة للتحلل المائي خاصة في الأوساط القلوية. تحت ظروف التحلل المائي عند رقم حموضة ٨، تم تقدير فترة عمر النصف ب ١٦ يوما. في الاراضي يوم بينما لم يفقد منه شيء 100الرملية، تحلل ٧٥% من المركب خلال خلال نفس الفترة في الأراضي العضوية والطينية. وللمركب دوام يستمر والبروبوكسور يتحلل تدريجيا في ستة أشهر في هذه الأنواع من التربة فترة عمر النصف ١٣-٨٨) الماء. ولاسيما في وجود المواد الدبالية (ساعة).

### . نواتج التحلل

.النواتج الرئيسي لتحلل المبيد هو ٢- أيزوبروبوكسي فينول

### . التطاير/ التبخر

.التوقعات أن التطاير قليل الأهمية

## التراكم البيولوجي .

في الماء، يعتقد أن البروبوكسور لا يتراكم في الكائنات المائية

## السمية للنباتات .

لا تنطبق.

## الخواص

لمركب بلورات عديمة اللون وهي غير ثابتة في الأوساط العالية القلوية

الجدول ٣٥ الخصائص النوعية				
الخاصية	الخاصية النوعية	الوحدة	القيمة	الخلاصة
درجة الانصهار		درجة سيلزيوس	٩١	
الضغط البخاري		ميجا باسكال	١,٣	
الكثافة		غم/سم <sup>٣</sup>	لا توجد	
التحلل	عمر النصف بالترية	يوم	٤٤-٥٩	متوسط التحلل
الذوبانية في الماء	S <sub>٥٥</sub>	ملغم/لتر	١,٩	متوسط الذوبان
الحركية	Log K <sub>ow</sub>		لا توجد	
التناول (الأردان) اليومي المقبول		ملغم/كغم/يوم	٠,٠٢	
التركيزات المسموحة	الإنسان: التلامس المباشر استهلاك الخضروات استهلاك مياه الشرب	ملغم/كغم ترية جافة ملغم/كغم مادة جافة ميكروغرام/لتر	١٠٠٠٠ ١ ٤٠٠	

توكسافين Toxaphene

الصيغة الجزيئية

C10 H10 Cl8

التسجيل في سجل دائرة الملخصات الكيميائية

8001-35-2

الاستخدام

مبيد للحشرات التي تصيب المحاصيل والفاكهة واللوزيات والمنشآت الزراعية.

## التوكسافين في البيئة

### . الحركة

يشير إلى أن التوكسافين يمتاز بقوة  $10+5$  x قيمته  $2,1$  Koc معامل كبيرة على حبيبات التربة والرواسب ولا يتوقع أن يكون له حركة

### . التحلل

التوكسافين له دوام طويل وإذا ما أطلق في التربة، فإنه يدوم لفترة طويلة (١-٤ سنوات) وتشجع الظروف غير الهوائية عمليات التحلل البيولوجي. إذا وضع التوكسافين في الماء، فإنه لا يتحلل مائياً أو ضوئياً. بقدر يذكر، كما أن التحلل البيولوجي غير مهم

### . نواتج التحلل

. لا تتوفر أي بيانات عن هذا الموضوع

### . التطاير/ التبخر

تبخر التوكسافين من سطوح التربة عملية مهمة بالنسبة للمركب وقد قدرت فترة عمر نصف تبخر التوكسافين من الأنهار بست ساعات تقريباً". ويمكن أن يخضع التوكسافين لتحلل ضوئي مباشر في الجو

ولكنه بطيء جدا". ويمكن له أن ينتقل في الجو لمسافات طويلة  
. كم) غالبا" عندما يمتز على الحبيبات الدقيقة (1200)

## التراكم البيولوجي .

. يتراكم التوكسافين بكثافة شديدة في الكائنات المائية

## السمية للنباتات .

. لا تنطبق

## الخواص

الكامفينات الكلورة" والذي يتخذ هيئة "التوكسافين عبارة عن خليط من  
مادة صلبة شمعية كهلمانية اللون وعندما ترفع درجة حرارتها إلى حد  
التحلل، فإنها تطلق أبخرة سامة من حامض الهيدروكلوريك والمركبات  
الكلورة الأخرى. والتوكسافين موجود كمسحوق قابل للبلل. أو "مركز"  
. مستحلب أو تراب أو حبيبات أو زيت أو مستحلب

الجدول ٣٦  
الخصائص النوعية

الخاصية	الخاصية النوعية	الوحدة	القيمة	الخلاصة
درجة الانصهار		درجة سلزيوس	٦٥-٩٠	
الضغط البخاري		ميجا باسكال	٠,٤	
الكثافة		غم/سم <sup>٣</sup>	١,٦٥	
التحلل	عمر النصف بالتربة	سنة	< ١٤	قليل التحلل جداً
الذوبانية في الماء	S <sub>٥٠</sub>	ملغم/لتر	٣	متوسط الذوبان
الحركية	Log K <sub>٥٥</sub>		٥,٣	لا يتحرك
التناول (الأزدراء) اليومي المقبول		ملغم/كغم/يوم	لا يوجد	
التركيزات المسموحة	الإنسان: التلامس المباشر استهلاك الخضروات استهلاك مياه الشرب	ملغم/كغم تربة جافة ملغم/كغم مادة جافة ميكروغرام/لتر		

تى -2،4،5-T 5،4،2

الصيغة الجزيئية

C8 H5 Cl3 O5

التسجيل في سجل دائرة الملخصات الكيميائية

93-76-5

الاستخدام

منظم نمو لزيادة حغم ثمار الموالح وللتقليل من التساقط الزائد للفواكه .  
متساقطة الأوراق .

## تى فى الببئة -2،4،5

### . الحركية

قيمة معامل الامتزاز (على سطوح حبيبات التربة) تشير إلى أن حركية المركب فى التربة تتغير من حركية عالية فى التربة الرملية إلى حركية متوسطة فى الترب الطينية والسلتية الطميية إلى حركية قليلة فى المادة العضوية .

### . التحلل

تشير بعض التقارير إلى أن المركب يدوم فى التربة لفترة تتراوح بين ٤١ يوما و ٣٠٠ يوم، ولكنه عادة لا يتجاوز فصل نمو كامل بغض النظر عنى معدل الإضافة. التحلل تحت الظروف غير الهوائية فى التربة المغمورة أبطأ كثيرا" عنه فى التربة الرطبة. يعتقد أن التحلل المائى الكيمياءى غير مهم. آليات وطرق الفقد أو الازالة الرئيسية للمركب من

الماء هي التحلل الضوئي والتحلل البيولوجي. القيمة المحسوبة للعمر النصف للمركب هي ١٥ يوما" تحت ظروف التحلل الضوئي من المياه السطحية . . .

## نواتج التحلل .

" نواتج التحلل هي "ثلاثي كلوروفينول " و"ثلاثي كلورانيزول

## التطاير/ التبخر .

استنادا" إلى انخفاض الضغط البخاري للمركب، يعتقد أن التطاير غير مهم.

## التراكم البيولوجي .

، ٥- تي يتراكم بدرجة متوسطة في الكائنات المائية 4،2،

## السمية للنباتات .

لاتنطبق.

## الخواص

تي مركب صلب عديم اللون عادة. والمركب ثابت حتى نقطة - 0، 2، 4، ٠م (سلزيوس) يمكن أن 158 انصهاره. وارتفاع درجات الحرارة فوق يؤدي إلى انفجار العبوات المغلقة.

الجدول ٣٧  
الخصائص النوعية

الخاصية	الخاصية النوعية	الوحدة	القيمة	الخلاصة
درجة الانصهار	درجة سيلزيوس	١٥٣		
الضغط البخاري	ميجا باسكال	لا يذكر		
الكثافة	غم/سم <sup>٣</sup>	١,٨		
التحلل	عمر النصف بالتربة	يوم	١٤-٣٠٠	يتحلل
الذوبانية في الماء	S <sub>w</sub>	ملغم/لتر	٣٦٨	شديد التوبان
الحركية	Log K <sub>oc</sub>		٢,٤-١,٩	يتحرك إلى قليل
التناول (الأزرد)		ملغم/كغم/يوم	٠,٣	
اليومي المقبول				
التركيزات المسموحة	الإنسان:			
	التلامس المباشر	ملغم/كغم تربة جافة	١٥ ٠٠٠	
	استهلاك الخضروات	ملغم/كغم مادة جافة	١	
	استهلاك مياه الشرب	ميكروغرام/لتر	٦٠٠	

## وارفارين Warfarin

### الصيغة الجزيئية

### C8 H8 Cl3 O3

### التسجيل في سجل دائرة الملخصات الكيميائية

### 93-76-5

### الاستخدام

للحد من الفئران في المنازل وحولها وكذلك حول الحيوانات وفي المنشآت الزراعية.

وارفارين في البيئة  
الحركية .

لا توجد بيانات تجريبية عن امتزاز الوارفارين على سطوح حبيبات التربة. لو غار يتم معامل التجزؤ يشير إلى امتزاز متوسط على التربة.

## . التحلل

.لا توجد بيانات

## . نواتج التحلل

.لا توجد بيانات

## . التطاير/ التبخر

.يعتقد أن التطاير ليس مهما كوسيلة انتقال

## . التراكم البيولوجي

استنادا إلى معامل التجزؤ بين الأوكتانول والماء، يعتقد أن وارفارين له تراكم متوسط في الأحياء المائية.

## . السمية للنباتات

.لا ينطبق

## الخواص

وارفارين عبارة عن مسحوق أبيض وهو ثابت جدا" حتى في وجود أحماض قوية



## الجدول ٢٨ الخصائص النوعية

الخاصية	الخاصية النوعية	الوحدة	القيمة	الملاحظة
درجة الانصهار		درجة سلزيوس	١٦١	
الضغط البخاري		ميجا باسكال	غير متاح	
الكثافة		غم/سم <sup>٣</sup>		
التحلل	عمر النصف بالتربة	يوم	١٠٠٠	قليل التحلل جداً
الذوبانية في الماء	$S_w$	ملغم/لتر	١,٧	متوسط الذوبان
الحركية	$\log K_{oc}$		٢,٧	متوسط الحركية
التناول (الأزبداد) اليومي المقبول		ملغم/كغم/يوم	لا يوجد	
التركيزات المسموحة	الإنسان: التلامس المباشر استهلاك الخضروات استهلاك مياه الشرب	ملغم/كغم تربة جافة ملغم/كغم مادة جافة ميكروغرام/لتر		



## \*المواد الكيميائية الملوثة للتربة والماء

هناك العديد من المواد الكيميائية التي تلوث التربة والماء ، ومن هذه المركبات ما يستقر في المكان الذي لوته لمدة طويلة دون أن يطرأ عليه أي تغيرات كيميائية ، وهناك مركبات أخرى تستقر لفترة قصيرة حيث تتغير كيميائياً بفعل الحرارة والرطوبة والتفاعلات الضوئية والمكروبات والعوامل البيئية الأخرى . وتشمل المواد الكيميائية الملوثة للتربة والماء ما يلي:



## الأضرار الناجمة عن انجراف التربة

### أ. تدني خصوبة التربة

ينتج انجراف الطبقة السطحية من التربة، سواء من طريق المياه الجارية، او التذرية بالرياح، فقدان كميات كبيرة من العناصر الغذائية للنبات، لأن الطبقة السطحية التي يتم انجرافها هي أغنى طبقات التربة بالمواد الغذائية.

ويُعد

النيتروجين والفسفور والبوتاسيوم من أهم العناصر الغذائية للنبات التي يتم

فقدانها من طريق انجراف الطبقة السطحية للتربة.

### ب. فقدان كمية أكبر من الأمطار

يؤدي فقدان الطبقة السطحية من التربة بواسطة الانجراف إلى ظهور طبقة على السطح أقل مسامية ونفاذية لمياه الأمطار، ما يجعل جزء كبير من مياه الأمطار يفقد على شكل جريان سطحي، بدلاً من الرشح داخل التربة. وحيث إن النباتات لا تستطيع الاستفادة إلا من الماء الذي رشح داخل التربة، واختزن على شكل رطوبة في مساحات التربة، فإنه كلما ازدادت نسبة الجريان السطحي من الأمطار، فقدت كمية أكبر من الأمطار، كان من الممكن الاستفادة منها في الزراعة.

### ج. زيادة وعورة الأراضي الزراعية

مع انجراف التربة بالمياه الجارية، تتكون أخاديد عميقة، في الأماكن، التي

يتركز فيها الجريان المائي؛ ما يجعل سطح التربة وعرّاً أمام الآلات الزراعية

المستخدمة في الحرث ورش المبيدات والحصاد، وأحياناً الري.

### د. ردم قنوات الري والصرف وخزانات المياه

تترسب التربة المنجرفة بواسطة المياه الجارية والرياح في قنوات الصرف والخزانات المائية، ما يزيد من كلفة صيانتها، وضعف كفاءتها. وقد قدرت تكلفة صيانة قنوات الري والخزانات المائية من رواسب التربة المنجرفة في الولايات المتحدة الأمريكية بنحو ١٥ بليون دولار.

### هـ. ردم الأراضي الزراعية والمنشآت

تتعرض المناطق المزروعة والمنشآت للدفن بالمواد المنقولة، خاصة الرمال

الزاحفة في المناطق الصحراوية وشبه الصحراوية. إذ قد تفقد واحات وقرى بأكملها تحت الرمال الزاحفة، كما هو الحال والصحراء الكبرى

والمنطقة الشرقية من المملكة العربية السعودية. كما أن صيانة الطرق البرية من طمر الرمال الزاحفة يشكل عبئاً مالياً كبيراً، في الكثير من المناطق الصحراوية. لذلك تلجأ العديد من الدول بوضع الحواجز الشجرية أو الإسفلتية على جوانب الطرق لتقليل كميات الرمال الزاحفة التي تصل إلى الطريق المعبد.

### و. تلوث المياه السطحية

عندما تكون التربة الزراعية محتوية على نسب عالية من الأسمدة الكيماوية

والمبيدات الحشرية، فإن انجراف التربة مع المياه الجارية يؤدي إلى تلوث مياه الأنهار والبحيرات بهذه المواد.

### ز. تلوث الهواء

يؤدي انجراف التربة بواسطة الرياح إلى علق الأتربة الدقيقة في الهواء على

شكل غبار؛ ما يؤدي إلى تدني الرؤية، ومشاكل صحية من أهمها الربو.

### ح. اختلال الاتزان الحيوي في الأنهار والبحيرات

عندما تنجرف التربة مع المياه السطحية فإن مياه الأنهار والبحيرات تصبح عكرة؛ ما ينتج عنه تدني نفاذ أشعة الشمس داخل المياه السطحية وبالتالي صعوبة الحصول على الضوء من قبل النباتات المائية

## أثر التصنيع والتكنولوجيا الحديثة على البيئة

إن للتصنيع والتكنولوجيا الحديثة آثاراً سيئة في البيئة، فانطلاق الأبخرة والغازات وإلقاء النفايات أدى إلى اضطراب السلاسل الغذائية، وانعكس ذلك على الإنسان الذي أفسدت الصناعة بيئته وجعلتها في بعض الأحيان غير ملائمة لحياته كما يتضح مما يلي:-

**-تلوث المحيط المائي:** إن للنظم البيئية المائية علاقات مباشرة وغير مباشرة بحياة الإنسان، فمياهها التي تتبخر تسقط في شكل أمطار

ضرورية للحياة على اليابسة، ومدخراتها من المادة الحية النباتية والحيوانية تعتبر مدخرات غذائية للإنسانية جمعاء في المستقبل، كما أن ثروتها المعدنية ذات أهمية بالغة.

**-تلوث الجو :** تتعدد مصادر تلوث الجو، ويمكن القول أنها تشمل المصانع ووسائل النقل والانفجارات الذرية والفضلات المشعة، كما تتعدد هذه المصادر وتزداد أعدادها يوماً بعد يوم، ومن أمثلتها الكلور، أول ثاني أكسيد الكربون، ثاني أكسيد الكبريت، أكسيد النيتروجين، أملاح الحديد والزنك والرصاص وبعض المركبات العضوية والعناصر المشعة. وإذا زادت نسبة هذه الملوثات عن حد معين في الجو أصبح لها تأثيرات واضحة على الإنسان وعلى كائنات البيئة.

**-تلوث التربة :** تتلوث التربة نتيجة استعمال المبيدات المتنوعة والأسمدة وإلقاء الفضلات الصناعية، وينعكس ذلك على الكائنات الحية في التربة، وبالتالي على خصوبتها وعلى النبات والحيوان، مما ينعكس أثره على الإنسان في نهاية المطاف. ومن أخطر ملوثات التربة الان في



اكتشفوا مؤخرا ان استخدام الماكينات الحديثة للتربة هي التي تعمل على فقدان التربة خصوبتها بسبب السرعة التي تعمل بها وذلك فان العمل اليدوي للفلاح هو الذي يحافظ على خصوبة التربة لمدة اطول

## الكشف عن بكتيريا تكافح التلوث

الملوثات الكيماوية من أكثر العناصر اضرار بالبيئة والاجواء تشير آخر مكتشفات العلماء إلى احتمال العثور على حل ناجع للحد من تلوث التربة والمياه الجوفية، وهو حل يكمن في دراسة فعالية أحد أنواع البكتيريا

ويقول العلماء انهم عثروا على نوع من البكتيريا يزدهر معاشا على

أنواع من الكيماويات الملوثة الشائعة، ربما كان الحل المفيد في تنظيف التربة وتطهير المياه الجوفية من تلك الملوثات

ويشير فريق البحث من جامعة ولاية ميشيجان، الذي نشرنا مقتطفات من بحثهم في مجلة "ساينس" العلمية، إلى أن البكتيريا التي اكتشفت أخيراً تستمد حيويتها عبر تحليل عنصر كيماوي مستخدم على نطاق واسع كمذيب صناعي له تأثيرات سامة يعرف علمياً باسم "ثلاثي الكلوروايثين".

## طبقة الاوزون آخذة في الاتساع

ويقول باولين صن، الباحث في الفريق العلمي، إن نوعاً من البكتيريا تعرف اختصاراً باسم "تي سي ايه/١" يقوم بتحليل هذا المذيب إلى عناصر أقل سُميّة.

ويضيف أن التجارب بينت أن هذه البكتيريا تستهدف فقط هذا النوع من المواد الكيماوية.

يشار إلى أن العلماء سبق لهم أن وقعوا على أنواع أخرى من البكتيريا القادرة على تحليل وتفكيك عناصر أخرى مسببة للتلوث، لكن هذه هي المرة الأولى التي يتم فيها العثور على بكتيريا تستهدف هذه المادة الكيماوية بحد ذاتها.

ويعرف عن مادة "ثلاثي الكلوروايثين" الكيماوية أنها إحدى ملوثات المياه الجوفية، كما أنها تسهم في ظاهرة التآكل الحاصل في طبقة الاوزون عند تبخرها وانتشارها في طبقات الجو العليا.

كما لاحظ الباحثون أن هذه البكتيريا، التي عثر عليها في بعض الأنهار الأمريكية كنهر هادسون في نيويورك، تستخدم الهيدروجين لإنتاج الطاقة في غياب الأوكسجين.

ويأمل الباحثون في أن يؤدي الكشف عن هذه البكتيريا إلى المساعدة على وضع حلول فعالة لتخليص البيئة من مادة تي سي ايه في التربة والمياه الجوفية.

من أبرز مشكلات البيئة وأكثرها تعقيدا وأصعبها حلا مشكلة تلوث التربة ومياه البحار والأنهار والبحيرات والمياه الجوفية ، وينتج هذا التلوث من نفايات ومخلفات المصانع ، وعن استعمال المواد الكيميائية ، مثل مبيدات الآفات والأسمدة الصناعية في الزراعة ، كما ينتج عن نفايات مخلفات المنازل والمباني والمنشآت الأخرى. وتزداد مشكلة هذا التلوث بزيادة إنتاج المواد الكيميائية واستخدامها في الصناعة ، حيث يؤدي التخلص من هذه المواد إلى تلوث التربة والماء ، ويزداد حجم مشكلة التلوث من الصناعة حينما يكون هناك إهمال أو عدم اهتمام بالتخلص من مخلفات المصانع الكيميائية بالوسائل التي تحافظ على التربة والماء من التلوث ، ففي عمليات صهر النحاس الخام مثلا ، يتسرب عنصر الزرنيخ السام والمختلط بالمعدن الخام إلى التربة والماء ، إذا لم يكن هناك إجراءات دقيقة لمنع تسرب الزرنيخ إلى التربة والماء . وتزداد نسبة الرصاص في التربة ومصادر الماء القريبة من طرق النقل السريع ، وذلك بسبب وجود مركبات الرصاص في جازولين السيارات ، حيث تخرج هذه المركبات مع عوادم السيارات لتلوث التربة والمياه القريبة من الطرق .

## **المواد الكيميائية الملوثة للتربة والماء**

هناك العديد من المواد الكيميائية التي تلوث التربة والماء ، ومن هذه المركبات ما يستقر في المكان الذي لوته لمدة طويلة دون أن يطرأ عليه أي تغيرات كيميائية ، وهناك مركبات أخرى تستقر لفترة قصيرة حيث



تتغير كيميائيا بفعل الحرارة والرطوبة والتفاعلات الضوئية والمكروبات وتشمل المواد الكيميائية الملوثة للتربة والماء . والعوامل البيئية الأخرى : ما يلي

### **مبيدات الآفات:**

تستعمل مبيدات الآفات على نطاق واسع في الأغراض الزراعية لمقاومة الآفات تفتك بالمحاصيل الزراعية ، وتستعمل هذه المبيدات عادة بوسيلة الرش حيث تختلط بالهواء ثم تتساقط على التربة والماء ، تنقسم هذه المبيدات إلى

### **: مبيدات تستقر في مكان التلوث لفترة طويلة 1**

تشمل هذه المبيدات مركبات الكلور الهيدروكربونية مثل د.د.ت وألدرين . وهبتاكلور وكلوردين ولندين وتوكسافين . وتتميز هذه المبيدات بأنها تتحلل كيميائيا ببطيء في التربة والماء بواسطة المكروبات بدرجة كبيرة بواسطة التفاعلات الكيميائية والتفاعلات الضوئية بدرجة أقل ، ونظرا لأن هذه المركبات تستقر في التربة والماء لفترة طويلة ، فإنها تعتبر من أخطر المبيدات على النباتات . والطيور والحيوانات والكائنات المائية

### **:مبيدات تستقر لفترة متوسطة 2.**

وتشمل هذه المركبات مبيدات الأعشاب الضارة ، مثل مركبات ترايازين ومركبات فينيل يوريا ، وتتحلل هذه المركبات كيميائيا في التربة والماء في فترة زمنية أقل من المجموعة السابقة ، وذلك بتأثير التفاعلات الكيميائية والتفاعلات الضوئية ، ولذلك فإن هذه المركبات تعتبر أقل خطرا من المجموعة السابقة على الحيوانات والطيور والكائنات المائية . والنباتات

### **:مركبات لا تستقر في التربة والماء 3.**

تستقر هذه المركبات في التربة والماء قبل أن تتحلل كيميائيا ، وذلك لفترات قصيرة تتراوح بين عدة ساعات إلى عدة أسابيع أو شهور وتشمل هذه المركبات مبيدات الأعشاب من مجموعة فينيل كاربامات ومبيدات الفطور من مشتقات دايتايوكاربامات بالإضافة إلى مركبات

. الفوسفور العضوية ومركبات كربامات التي تستخدم كمبيدات حشرية

وهذه المركبات ، وإن كانت تتحلل كيميائيا في فترة قصيرة ، إلا أن بعضها قد يمثل خطورة على الإنسان والحيوان ، حيث أن بعضها ، مثل مركبات دايثايوكاربامات ، قد يتحول في التربة إلى مواد مسببة للسرطان

## مركبات أخرى غير مبيدات الآفات

هناك العديد من المركبات الكيميائية الأخرى غير مبيدات الآفات قد تلوث التربة والماء ، من أهم مصادر هذه المركبات النفايات والمخلفات الصناعية والصرف الصحي ، كما إن تنقية مياه الشرب باستعمال الكلور يؤدي إلى تكوين مركبات الكلور الهيدروكربونية التي تعتبر من أهم ملوثات الماء . ومن أهم المركبات في هذه المجموعة ما يلي

## مركبات الهيدروجين الهيدروكربونية 1.

تتكون هذه المركبات في الماء أساسا باستعمال الكلور في تنقية الماء ، ومن أمثلة هذه المركبات الكلوروفورم والبروموفورم وتكمن خطورة هذه المركبات في أنها قد تسبب الإصابة بسرطان القولون . والمستقيم والمثانة

## مركبات الهيدروجين الهيدروكربونية العطرية 2.

ومن أمثلة هذه المركبات بوليكلورينيتد بايفينيلز وهي مركبات تستخدم في بعض الصناعات مثل صناعة الورق ، أو تعتبر هذه المركبات من أخطر ملوثات التربة والماء ، حيث تمثل ضررا على الإنسان والحيوانات والكائنات المائية

وهناك أيضا مركبات الكلورو فينول التي تستعمل في حفظ الأخشاب ، كما يستخدم بعضها في صناعة الصابون ومزيلات الروائح الكريهة ، تعتبر هذه المركبات من أخطر ملوثات الماء حيث تسبب الأضرار الصحية في الإنسان والحيوان

## المعادن الثقيلة

تعتبر المعادن الثقيلة ، مثل الزئبق والرصاص والزرنيخ والكادميوم

والسيلنيوم من اخطر المواد التي تلوث التربة والماء ، ومن أهم مصادر هذا التلوث مخلفات ونفايات المصانع وصهر المعادن واحتراق الفحم .وعوادم السيارات. ومبيدات الآفات التي تحتوي على عنصر الزرنيخ

## : الزئبق (1)

يعتبر الزئبق من المعادن التي قد تختلط مركباته بالتربة والماء بسبب التخلص من نفايات ومخلفات المصانع ويسبب تلوث بمركبات الزئبق إلى اصابة الإنسان باضطرابات في الجهاز العصبي المركزي يترتب عليها :حدوث اعراض مثل

الأرق الأكتئاب النفسي والسيان والتهاب اللثة والكلية. إن بعضها مثل ميثيل الزئبق قد يسبب من مصادر التلوث بهذا المركب مركب ميثيل في مدينه مينا ماتا اليابانية وذلك بسبب إلقاء مصنع البلاستيك نفاياته التي تحتوي على عنصر الزئبق في خليج مينا ماتا حيث تحول الزئبق بواسطة الميكروبات إلى مركب ميثيل الزئبق الذي انتقل إلى الأسماك الكائنة بهذا الخليج وذلك في العراق وباكستان وغانا وجواتيمالا . وكان هذه الحالات التي في العراق في عام ١٩٧٢ حيث صدرت من القمح والشعير من المكسيك إلى العراق وكانت بمركب ميثيل الزئبق ولقد حدثت . حالات لنحو ٦٥٣٠ مواطنا في العراق منهم ٥٠٠ فرد

## الكادميوم (2)

يدخل عنصر الكادميوم في عدة صناعات ، مثل صناعات البلاستيك والبطاريات ، كما يختلط بالمعادن الخام ، مثل الزنك والنحاس والرصاص ، ولذلك فان الكاموديوم التربة والماء القريبة من المصانع التي يصهر فيها المعادن التربة الزراعية بالكاموديوم الأسمدة الصناعية . ويعتبر الكاموديوم من المعادن التي تلوث التربة والماء محاصيل الزراعية التي تستهلك على واسع مثل الأرز والقمح . ولقد حدثت في اليابان بعد العالمية الثانية بفترة من الكاموديوم مصنع لاستخلاص عليها اسم اتاي الذي يميز روما ترميه ولقد دلت الدراسات على إن تلوث التربة والماء بالكادميوم يؤدي إلى اصابه الإنسان بامراض الكليه والرئه والقلب .والعظام

### الرصاص ( 3 )

من أهم مصادر تاوث التربة والماء بالرصاص المصانع التي تنتج البطاريات، كما يحدث هذا التلوث على اثر خروج عوادم السيارات في الطرق السريعة حيث تلوث التربة ومصادر المياه المجاوره لهذه الطرق. ويؤدي تلوث المحاصيل الزراعية ومياه الشرب بالرصاص ، الى اصابة الإنسان بامراض في الجهاز العصبي والهضمي والكلية والدم. ومرض الأيميا.

### الزرنبيخ (4)

تتلوث التربة ومصادر الماء بالزرنبيخ في الأماكن القريبة من مصانع صهر المعادن مثل النحاس والرصاص والزنك ، ويعتبر احتراق الفحم واستعمال مبيدات الآفات التي تحتوي على عنصر الزرنبيخ من أهم مصادر تلوث التربة والماء بالزرنبيخ . وتسبب إلى الم ووهن العضلات واصابات جلديه وامراض الجهاز الهضمي والكبد والكلية والاعصاب.

### المركبات غير عضوية

تعتبر المركبات غير العضوية مثل النترات والفوسفات والفلورايد، من أهم المواد التي تلوث التربة والماء

### مركبات النترات والنيترت(1)

تلوث هذه المركبات التربة والماء على اثر استعمال الاسمدة الصناعية ، وبسبب اختلاط التربة والماء بفضلات الحيوانات والدواجن. وبسبب تناول الانسان للماء او الاطعمة الملوثة بالنترات ارتفاع الهيموجلوبين المؤكسد في الدمالذي يؤدي إلى عدم قدرة الهيموجلوبين

على توصيل الاكسجين لانسجة الجسم ، ولقد اصاب عدد من الاطفال في الولايات المتحدة الامريكية عام ١٩٤٤م بهذا المرض على اثر شرب مياه ابار ملوثة بمركبات النترات .

ومن اخطارها مركبات النيترت انها تتفاعل مع المواد الامينية الموجودة في الطعام لتتحول إلى مادة سامة يطلق عليها اسم نيتروزايمين

وتسبب هذه المادة اصابات في الكبد والرئة والجهاز العصبي، كما تعتبر من المواد المسببة لحدوث السرطان وتشوهات الاجنة

## مركبات الفوسفات (2)

تتلوث التربة والماء بمركبات الفوسفات على اثر استعمال الاسمدة الصناعية التي تحتوي على هذه المركبات في الاغراض الزراعية، ومن مصادر هذه التلوث ايضا المنظفات التي تحتوي على مركبات الفوسفات وتختلط بالتربة والماء عن طريق معالجة مياه المجاري، ومن العوامل التي تؤدي إلى ارتفاع نسبة الفوسفات في الماء تحلل المواد النباتية وفضلات الحيوانات

وينجم عن ارتفاع نسبة الفوسفات في البحيرات والبرك زيادة فئمو الطحالب على سطح الماء مما يؤثر في صفو الماء ونقائه ويؤدي إلى تلوث الشواطئ. وبسبب ثحل هذه الطحالب استنفاد الاكسجين في اعماق المياه، وفي الماء القريب من الشواطئ، وهذا يؤثر تائيرا سلبيا . في الكائنات المائية وفي استعمال البحيرات في الاغراض الترفيهية

## مركبات الفلورايد (3)

حينما ترتفع نسبة مركبات الفلورايد في مياه الشرب فانها تؤدي إلى اصابة الانسان بتبقع الاسنان واصابات العظام. ولذلك ينبغي الا نتجاوز نسبة الفلورايد في ماء الشرب الحد المسموح به لمنع تسوس الاسنان، حيث يترتب على شرب الماء الذي يحتوي على نسبة تتراوح بين ٠,٨ - ١,٦ حجم لكل لتر لمدته طويلة حدوث اصابات الاسنان والهيكل العظمي

## الاسبستوس

يدخل الاسبستوس في صناعات بلاط الارضيات والورق والدهانات كما يستخدم في صناعات البلاستيك والنسيج، ويسبب استعمال الاسبستوس في هذه الصناعات ارتفاع نسبه في الهواء والماء في المناطق الصناعية. وتجدر الاشارة إلى ان ماء الشرب بالولايات المتحدة الامريكية قد تلوث بالياف الاسبستوس بسبب استعمال هذه المادة في انابيب المياه، وبسبب التلوث البيئي بمخلفات المصانع واذا كان استنشاق الهواء الملوث بالاسبستوس يسبب الاصابة بامراض الجهاز التنفسي ، فان

تلوث الماء والغذاء به يساعد على ارتفاع نسبة الإصابة بسرطان المريء  
والمعدة والبنكرياس والجهاز العضوي

## تأثير المياه المعالجة على التربة

### مقدمة

عند ري التربة بمياه المجاري المعالجة جزئياً فإن هذه المياه تتسرب إلى داخل التربة و عند استمرار الري الغير مدروس فإن مسامات التربة سوف تنسد بواسطة المواد الملوثة الموجودة في المياه و بالتالي فإن عمليات التحلل الهوائي ستتوقف و تبدأ عملية التحلل اللاهوائي و بالتالي انتشار الروائح الكريهة الناتجة عن غازات كبريت الهيدروجين و ثاني أكسيد الكربون و الميثان و هذه الظاهرة يمكن تجنبها باتباع الإجراءات التالية

عادة " تستخدم الترب الرملية و اللومية و : اختيار نوع التربة -1  
. يتم تجنب الترب الغضارية قدر الإمكان

مما يعطي إمكانية أفضل : استخدام شبكة دريناج ضمن التربة -2  
. للتصريف

إعطاء فترة راحة للتربة : يجب التوقف عن الري ضمن -3  
فترات زمنية دورية يتم أثناءها حراثة التربة مما يؤدي لتهويتها

التنوع في المحاصيل الزراعية : و هذا سوف يساعد على استهلاك -4  
جميع العناصر المخصبة الناتجة عن مياه المجاري و أيضا" تساعد على

## تهوية التربة

### **الري ضمن طبقات قليلة العمق -5**

و بشكل عام يجب ألا يزيد تركيز المغذيات المساندة ( النروجين – الفوسفور – البوتاسيوم ) عن حدود معينة بحيث لا تتراكم هذه المواد في التربة إلى حدود عالية غير مقبولة ، و يختلف تركيز هذه المواد حسب نوع المحاصيل المزروعة كما هو مبين بالجدول التالي :

الجدول التالي يوضح معدل استهلاك المغذيات المساندة من قبل بعض المحاصيل

معدل استهلاك المغذيات المساندة Kg Ds/ha/yr			المحصول
بوتاسيوم	فوسفور	ننروجين	
٣٠٠-١٠٠	١٠٠-٢٥	٥٠٠-١٠٠	أعلاف
١٠٠	٣٠-٢٠	١٨٠-١٢٠	ذرة
٤٠	١٤	١١٠-٧٥	قطن
٢٠	٢٠	١٠٠-٦٠	قمح
٣٥٠-٣٠٠	٢٣	٢٣٠	بطاطا
-	-	٣٣٠	غابات

## **الملوحة**

إن الملوحة الموجودة بمياه المجاري المعالجة تضاف إلى محتوى التربة الأصلي من الأملاح أثناء الري . إن مياه الري النموذجية تحوي أملاح إن النباتات تمتص المياه بشكل ( mg / l ) منحلة كلية بما يعادل ( ٥٠٠ أكبر من امتصاصها للأملاح و التبخر بطبيعة الحال يزيد ترسيب الأملاح (إذا لم يحصل ترشيح لهذه المياه ) مما يؤدي إلى تراكمها في التربة

حتى يصل إلى مستويات مرتفعة ضارة في منطقة الجذور و هذا بدوره يؤدي إلى تخفيض إنتاجية الأراضي الزراعية . إن الأملاح سوف تترشح . "إلى منطقة الجذور إذا كان الري أو المحصول ناجحا و إن ضمان ترشيح الأملاح عبر طبقة الجذور إما بواسطة مياه الأمطار أو بواسطة ري المحاصيل بمياه زائدة عن الحاجة مع وجود أنابيب تصريف و هذا يعني انتقال المياه و الأملاح الزائدة من طبقة الجذور إلى هذه الأنابيب . إن الحاجة إلى الترشيح تزداد كلما ازداد احتواء المياه و مع زيادة حساسية المحاصيل للأملاح . و عادة (TDS) على الأملاح : تحسب حاجة الترشيح كما يلي

$$LR = \frac{EC_w}{EC_{Dw}}$$

LR : حاجة الترشيح .

ديسمتر / m dS / m الناقلية الكهربائية للمياه المستخدمة بالري : ECw  
متر .

dS / m الناقلية الكهربائية للمياه ضمن شبكة التصريف : ECDw  
ديسمتر / متر .

:ويتم الحساب كما يلي

- على ٦٤٠ mg / l TDS, تحسب بتقسيم تراكيز : ECw -
  - لها قيم من أجل مختلف المحاصيل من دون تخفيض في : ESDw -
- : الإنتاجية و هي موضحة بالجدول التالي



الجدول التالي يبين حساب ECDW تبعا لنوع المحصول

المحصول	EC <sub>DW</sub> ds / m
قصب السكر	١٠
القطن	١٠
القمح - الذرة	٥
أعشاب البساتين	٣
الشعير	١٢

## العناصر المؤثرة

بعض العناصر ممكن أن تكون سامة للنباتات أو للحيوانات المستهلكة للمحاصيل الغنية بها بتركيز عالية . وهناك حد للتركيز المسموح بها :  
لهذه العناصر في المياه المعالجة و هي موضحة بالجدول التالي

العنصر	التركيز الوسطي في المياه المعالجة ثانويا " mg/l	الحمولة المسموحة kg/ha
النحاس	٠,٠٤	١٥٠٠,٨٨
الكاديوم	>٠,٠٠٥	٣٩,٠٠
الكروم	٠,٠٢	٣٠٠٠,٦٤
الرصااص	٠,٠٠٨	٣٠٠,٤٠
النيكل	٠,٠٠٤	٤٢٠,٣٣
الزنك	٠,٠٤	٢٨٠١,١٢
الزئبق	٠,٠٠٠٥	١٧,٠٣
الزرنيخ	>٠,٠٠٥	٤١,٠٢٥

## اختيار مواقع الري

إن عملية اختيار المواقع التي ستروى بالمياه المعالجة تشمل المراحل التالية :

- 1- إعداد معلومات و بيانات الإتفاقية لأجل المزارعين .
- 2- إرسال الموظفين لمقابلة المزارعين .
- 3- وصف المشروع للمزارعين .
- 4- المتابعة مع المزارعين لتحديد المنفعة و مستوى الفائدة المرجوة من المشروع .
- 5- الحصول على رسائل خطية من المزارعين تبين اهتمامهم و رغبتهم بتنفيذ المشروع .
- 6- تحديد المواقع المقبولة لتنفيذ المشروع .
- 7- إعداد البدائل لأجل المواقع المتجاورة و الذي سيشملها مشروع مشترك .
- 8- تقدير الكلفة الأساسية للمواقع المشتركة.

## **- و تتضمن معلومات الاتفاقية الأمور التالية :-**

- 1- مقدمة تمهيدية من قبل مجلس المدينة .
- 2- تحليل اقتصادي معد من قبل المشرفين الزراعيين .
- 3- وصف تكنولوجيا الري .
- 4- تحديد نوعية المياه المعالجة المستخدمة بالري .
- 5- توضيح متطلبات الهيئة التنظيمية الإقليمية .
- 6- عقد استثماري مبسط
- 7- موجز توضيحي للهدف و الغرض من المشروع .

## تقييم تلوث التربة

### Introduction

كثيراً ما تؤدي ظروف التخزين غير المناسبة للمبيدات الزراعية) التي بطل استخدامها (إلى تسربها إلى البيئة المجاورة لموقع التخزين حيث ترشح داخل التربة أو تنشرها الرياح. وفي بعض الحالات يستمر تسرب المبيدات لسنوات طويلة. وقد يؤدي هذا التسرب إلى حدوث تلوث خطير في التربة أو المياه الجوفية. وتلوث التربة أو المياه الجوفية يمكن أن يؤثر في المحاصيل والماشية ومياه الشرب، ومن ثم قد يتعرض الإنسان الذي يتناولها لمخاطر صحية .

ويستهدف هذا الدليل المرجعي مساعدة مستخدميه في الكشف عن تسرب أي مبيدات إلى التربة والمياه الجوفية، وعن أي مخاطر صحية ينطوي عليها أي تسرب يثبت وجوده .

ولا ينطوي كل تسرب للمبيدات بالضرورة على مخاطر صحية. وفيما يلي بعض العوامل الرئيسية المحددة للمخاطر الناجمة عن أي تسرب :

خواص المبيدات المخزنة، فبعض المبيدات أكثر سمية من غيرها وبعضها يتحلل بسرعة إلى مركبات لا ضرر منها وبعضها الآخر يكون عصي التحلل،

كمية المبيد المتسربة والفترة التي انقضت منذ بداية التسرب، ذلك أن الوصول إلى مستويات التلوث العالية التي قد تسبب مخاطر صحية يتطلب بعض الوقت .

ومع مراعاة هذين العاملين والجوانب المهمة الأخرى، يوفر هذا الدليل لمستخدمه طريقة بسيطة للوصول إلى ثلاثة استنتاجات :

هل حدث تلوث للتربة أو المياه الجوفية في البيئة المحيطة بموقع التخزين، وإذا كان قد حدث تلوث، فما هي المخاطر الصحية المحتملة لهذا التلوث بالنسبة للإنسان؛ وما هي الإجراءات التي يمكن اتخاذها للحد من هذه المخاطر . ويجدر بالملاحظة أن هذا الدليل لا يتناول المخاطر الصحية المتعلقة بطريقة استخدام المبيدات أو مناولتها أو حتى ما يحدث في موقع التخزين نفسه، وإنما يركز على التلوث والمخاطر الصحية التي تقع خارج موقع التخزين والتي تنجم عن انتشار المبيدات في الوسط المجاور .

## كيفية استخدام هذا الدليل

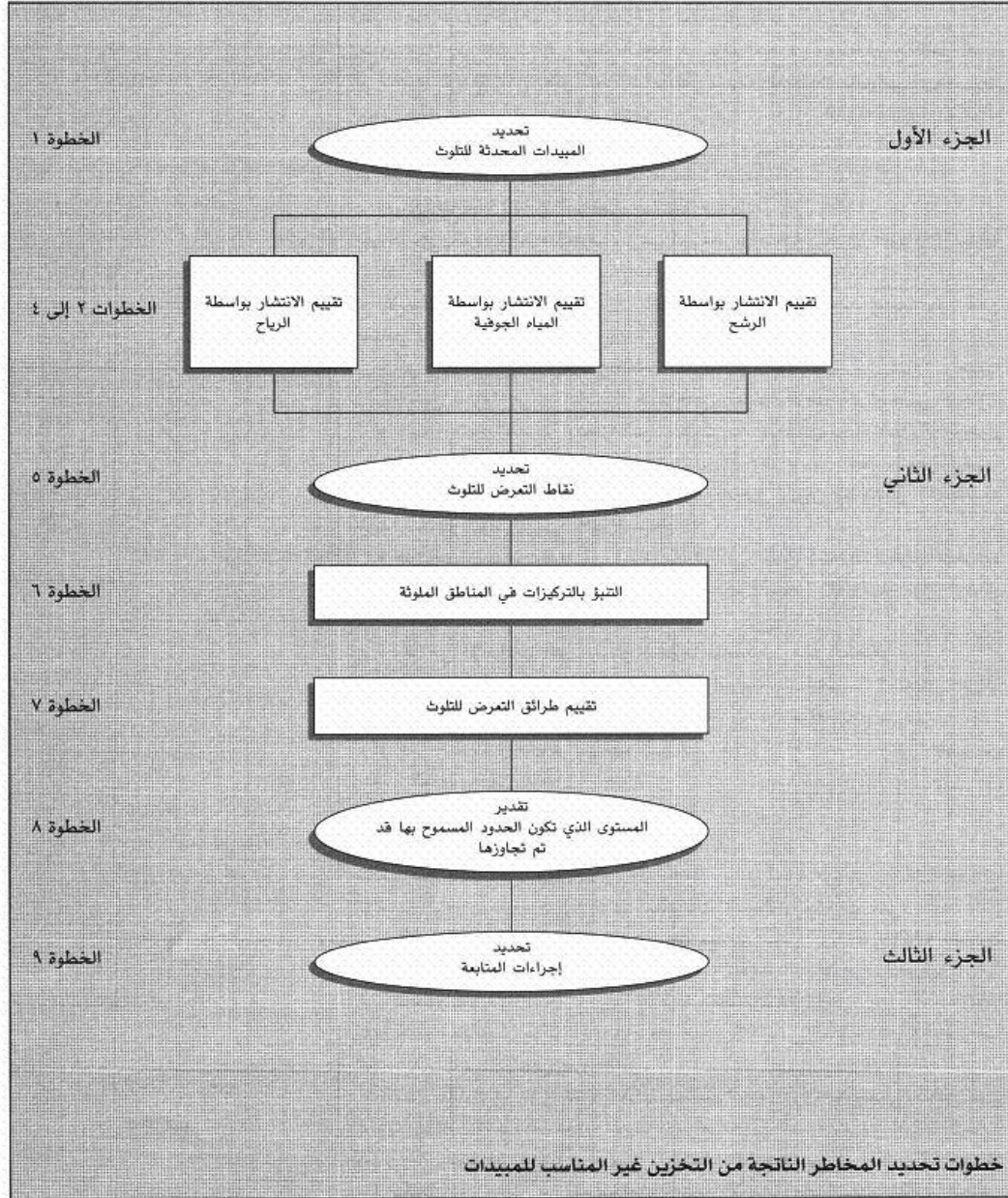
### HOW TO USE THIS MANUAL

يتألف هذا الدليل من جزء رئيسي وتذييلات. يورد الجزء الرئيسي وصفاً للخطوات الواجب اتباعها لمعرفة ما إذا كانت مستويات التلوث بالمبيدات التي تسربت إلى التربة أو المياه الجوفية قد أدت إلى حدوث مخاطر صحية. ويتضمن الدليل جداول ومخططات تساعد في التوصل إلى قرارات، كما يتضمن بيانات موجزة موجهة أساساً إلى المسؤولين عن المخازن وإلى الأفراد القائمين على إدارة المبيدات. وتوفر التذييلات معلومات أساسية تتضمن مزيداً من التفاصيل العلمية عن الموضوعات الواردة في الجزء الرئيسي من الدليل .

ينقسم هذا الدليل إلى ثلاثة أجزاء. يساعد الجزء الأول مستخدم الدليل على تحديد ما إذا كانت المنطقة المحيطة بموقع تخزين المبيدات قد أصابها التلوث ومدى ما يكون قد حدث من تلوث. ويهدف الجزء الثاني إلى تقدير أية مخاطر لما يكون قد حدث من تلوث على صحة الإنسان. أما الجزء الثالث فيصف الإجراءات الواجب اتخاذها عندما يمثل التلوث

خطورة صحية. ويورد كل جزء من الأجزاء الثلاثة المعلومات اللازمة للوصول إلى النتائج. ويحتاج مستخدم الدليل إلى الحصول على بعض هذه المعلومات أما باقي المعلومات المطلوبة فيمكن الحصول عليها باستخدام الأشكال والمعادلات الواردة في الدليل .

الإجراءات الواجب اتخاذها عندما يمثل التلوث خطورة صحية. ويورد كل جزء من الأجزاء الثلاثة المعلومات اللازمة للوصول إلى النتائج. ويحتاج مستخدم الدليل إلى الحصول على بعض هذه المعلومات أما باقي المعلومات المطلوبة فيمكن الحصول عليها باستخدام الأشكال والمعادلات الواردة في الدليل





هناك العديد من المواد الكيميائية التي تلوث التربة والماء ، ومن هذه المركبات ما يستقر في المكان الذي لوّثه لمدة طويلة دون أن يطرأ عليه أي تغييرات كيميائية ، وهناك مركبات أخرى تستقر لفترة قصيرة حيث تتغير كيميائياً بفعل الحرارة والرطوبة والتفاعلات الضوئية والمكروبات والعوامل البيئية الأخرى . وتشمل المواد الكيميائية الملوثة للتربة والماء ما يلي:

### مبيدات الآفات:-

تستعمل مبيدات الآفات على نطاق واسع في الأغراض الزراعية لمقاومة الآفات تفتك بالمحاصيل الزراعية ، وتستعمل هذه المبيدات عادة بوسيلة الرش حيث تختلط بالهواء ثم تتساقط على التربة والماء ، تنقسم هذه المبيدات إلى:-

**1.مبيدات تستقر في مكان التلوث لفترة طويلة:**

تشمل هذه المبيدات مركبات الكلور الهيدروكربونية مثل د.د.ت وألدرين وهبتاكلور وكلوردين ولندين وتوكسافين.

وتتميز هذه المبيدات بأنها تتحلل كيميائيا ببطيء في التربة والماء بواسطة المكروبات بدرجة كبيرة بواسطة التفاعلات الكيميائية والتفاعلات الضوئية بدرجة أقل ، ونظرا لأن هذه المركبات تستقر في التربة والماء لفترة طويلة ، فإنها تعتبر من أخطر المبيدات على النباتات والطيور والحيوانات والكائنات المائية.

## **2. مبيدات تستقر لفترة متوسطة:**

وتشمل هذه المركبات مبيدات الأعشاب الضارة ، مثل مركبات ترايازين ومركبات فينيل يوريا ، وتتحلل هذه المركبات كيميائيا في التربة والماء في فترة زمنية أقل من المجموعة السابقة ، وذلك بتأثير التفاعلات الكيميائية والتفاعلات الضوئية ، ولذلك فإن هذه المركبات تعتبر أقل خطرا من المجموعة السابقة على الحيوانات والطيور والكائنات المائية والنباتات.

## **3. مركبات لا تستقر في التربة والماء:**

تستقر هذه المركبات في التربة والماء قبل أن تتحلل كيميائيا ، وذلك لفترات قصيرة تتراوح بين عدة ساعات إلى عدة أسابيع أو شهور وتشمل هذه المركبات مبيدات الأعشاب من مجموعة فينيل كربامات ومبيدات الفطور من مشتقات دايتايوكاربامات

بالإضافة إلى مركبات الفوسفور العضوية ومركبات كربامات التي تستخدم كمبيدات حشرية.



وهذه المركبات ، وإن كانت تتحلل كيميائيا في فترة قصيرة ، إلا أن بعضها قد يمثل خطورة على الإنسان والحيوان ، حيث أن بعضها ، مثل مركبات دايثايوكاربامات ، قد يتحول في التربة إلى مواد مسببة للسرطان

## مركبات أخرى غير مبيدات الآفات:

هناك العديد من المركبات الكيميائية الأخرى غير مبيدات الآفات قد تلوث التربة والماء ، من أهم مصادر هذه المركبات النفايات والمخلفات الصناعية والصرف الصحي ، كما إن تنقية مياه الشرب باستعمال الكلور يؤدي إلى تكوين مركبات الكلور الهيدروكربونية التي تعتبر من أهم ملوثات الماء .ومن أهم المركبات في هذه المجموعة ما يلي:

## 1.مركبات الهيدروجين الهيدروكربونية:

تتكون هذه المركبات في الماء أساسا باستعمال الكلور في تنقية الماء ، ومن أمثلة هذه المركبات الكلوروفورم والبروموفورم.

وتكمن خطورة هذه المركبات في أنها قد تسبب الإصابة بسرطان القولون والمستقيم والمثانة.

## 2.مركبات الهيدروجين الهيدروكربونية العطرية:

ومن أمثلة هذه المركبات بوليكلورينيتد بايفينيلز وهي مركبات تستخدم في بعض الصناعات مثل صناعة الورق ، أو تعتبر هذه المركبات من

أخطر ملوثات التربة والماء ، حيث تمثل ضررا على الإنسان والحيوانات والكائنات المائية.

وهناك أيضا مركبات الكلورو فينول التي تستعمل في حفظ الأخشاب ، كما يستخدم بعضها في صناعة الصابون ومزيلات الروائح الكريهة ، تعتبر هذه المركبات من أخطر ملوثات الماء حيث تسبب الأضرار الصحية في الإنسان والحيوان

## أ.العناصر الثقيلة والنادرة

..مصادرها في التربة تنقسم الى :

**مصادر طبيعية..** حيث التربة خليط من معادن نتجت من ملوثات التجوية الفيزيائية والكيميائية والحيوية لصخور القشرة الارضية مكونة مادة الاصل ومن ثم فإنها تتواجد طبيعيا في التربة لانها جزء من مكوناتها..ويبين الجدول التالي محتوى بعض المعادن الخام من العناصر الثقيلة والنادرة .

العنصر

المعدن الخام

العناصر الثقيلة به

الفضة (Ag)

Ag<sub>2</sub> S, PbS

Cu,Sb,Zn,Pb,Se

الزرنيخ (As)

Fe As S,As S

**Ag,Hg,Bi,Mo,Sn**

**(Ba) باريوم**

**Ba SO<sub>4</sub>**

**Pb,Zn**

**(Cd) كادميوم**

**Zn S**

**Zn,Pb,Cu**

**(Cr) كروم**

**Fe Cr<sub>2</sub> O<sub>4</sub>**

**Ni,Co**

**(Cu) نحاس**

**Cu Fe S<sub>2</sub>,Cu<sub>2</sub> S,Cu<sub>3</sub> As S<sub>4</sub>**

**Zn,Cd,Pb,As,Ni,Mo**

**(Ni) نيكل**

**(Ni,Fe)<sub>9</sub>,S<sub>8</sub>,Ni As**

**Co,Cr,As,Se**

**(Pb) رصاص**

**Pb S**

**Ag,Zn,Cu,Cd,Sa**

**(Zn) زنك**

**Zn S**

**Cd,Cu,Pb,As,Sa**

Rose et al. (1979).

## مصادر ناتجة عن النشاط الانسانى : Anthropogenic Sources

وتشمل

1. استخراج المعادن من المناجم .. وماينتج عنها من مخلفات  
تصبح مصدر للتلوث فى الاراضى المحيطة .

2. مخلفات الصرف الصحى والصناعى ... ان جميع انواع  
الحماء تحتوى على تركيزات عالية من العناصر السامة الا ان الحمأه  
الناتجة من الصرف الصناعى تحتوى على ملوثات غير عضوية  
بتركيزات اعلى بكثير من الحمأه الناتجة من الصرف الصحى. وتعتبر  
عناصر Cd,Cu,Ni,Zn من اهم العناصر التى تسبب مشاكل فى الانتاج  
الزراعى عند اضافة الحمأه الى التربة .

3. التخلص من المخلفات الصلبة والسامة .. مخلفات المنازل  
والمصانع والمستشفيات يمكن ان تؤدى الى تلوث التربة بالعناصر  
الصغرى والثقيلة فالتخلص منها سواء بالقائها او دفنها فى التربة يؤدى  
الى تلوث التربة وانتقالها الى المياه الجوفية .

4. احتراق الوقود (فحم - بترول ..) ينتج عنه عدد كبير من

العناصر الثقيلة والصغرى تشمل  
Mn, Cu, Ba, Se, Sb, As, Zn, Cr, Cd, Pb, V, U والتي تترسب  
على الاراضى المحيطة كما ان احتراق البترول الذى يحتوى على  
اضافات من الرصاص يعتبر من اهم مصادر تلوث التربة .

## 5.الصناعات التعدينية..وذلك بعدة طرق منها :-

.انبعاث الايروسولات والغبار المحتوى على هذه العناصر  
ويترسب على التربة والنبات .

.المخلفات السائلة .

.وتستخدم العديد من العناصر فى صناعة السبائك والصلب والتي  
ينتج منها مخلفات تؤدى الى تلوث التربة .

6-المواد والكيماويات المستخدمة فى الزراعة بالممارسات  
الزراعية الغير رشيدة .

**والمصادر الرئيسية لهذه الممارسات تشمل :**

.الشوائب والعناصر الثقيلة السامة الموجودة فى الاسمدة  
الكيماوية .

.اسمدة طبيعية من مخلفات المجازر والخنازير والدواجن والتي  
تحتوى على تركيزات عالية من الزنك والنحاس وتسبب سمية  
النبات .

-المبيدات الكيماوية -

-الاسمدة الطبيعية المصنعة من المخلفات -

-ويوضح الجدول التالي ان الاسمدة المعدنية والاسمدة المصنعة من  
المخلفات تعتبر من اهم مصادر التلوث التربة بالعناصر السامة -

العنصر

الاسمدة الفوسفاتية

الاسمدة النيتروجينية

الاسمدة العضوية

الاسمدة المصنعة من المخلفات

ملجم/كجم سماد

الزرنيخ

2-1200

2.3-120

3-25

2-52

البورون

2-115

-

0.3-0.6

-

**الكاديوم**

**0.1-170**

**0.05-8.5**

**0.1-0.8**

**0.01-100**

**الكوبلت**

**1-12**

**5.4-12**

**0.3-24**

**-**

**الكروميوم**

**66-245**

**3.1-19**

**0.01-0.36**

**0.09-21**

**النحاس**

**1-300**

**-**

**2-172**

**13-3580**

**الزئبق**

**0.01-1.2**

**0.3-2.9**

**0.01-0.36**

**0.09-21**

**المنجنيز**

**40.2000**

-

**30-969**

-

**المولبيديوم**

**0.1-60**

**1-7**

**0.05-3**

-

**النيكل**

**7-38**

**7-34**

**2.1-30**

**0.9-279**

**الرصاص**

**7-225**

**2-27**

**1.1-27**

**1.3-2240**

**القصدير**

**>100**

-

-



-

السيلنيوم

0.5

-

2.4

-

يورانيوم

30-300

-

-

-

الفانديوم

2-1600

-

-

-

الزنك

50-1450

1.42

15-566

82-5894

**Kabata-Pendias, and Adriano (1992).**

7. الحروب والتدريبات العسكرية... تتلوث الاراضى التى حدثت بها المواقع الحربية بعنصر الرصاص الناتج من الذخيرة وعنصرى النحاس والزنك الناتجين من فوارغ الذخيرة وايضا بالعديد من الملوثات العضوية الناتجة من زيوت المدرعات والشحوم .

## ب. النروجين Nitrogen

-المصدر الرئيسى للنيتروجين فى التربة هو الأسمدة النيتروجينية وتشمل الأسمدة النتراتية واليوريا والاسمدة الامونيومية والاسمدة المخلوطة .

-النروجين الموجود فى التربة معظمه فى صورة عضوية وبالتالي يكون غير صالح للنبات ولذلك تحدث عمليات بيولوجية فى التربة يتم فيها تحويل النروجين من صورة عضوية الى صورة غير عضوية ( $NH_4-N$  ,  $NO_3-N$ )صالحة للامتصاص بواسطة النبات أو يفقد بالتطاير أو الغسيل أو يتحول الى مكونات عضوية فى أجسام ميكروبات التربة .

-ونتيجة الاستخدام المتزايد للأسمدة النيتروجينية يودى فقد جزء كبير منها عن طريق الغسيل والنترات المفقودة من التربة عن طريق الغسيل سوف تودى إلى تلوث المياه الجوفية ومياه الصرف الزراعى .

-وتتوقف كمية النترات المغسولة من قطاع التربة على عدة عوامل أهمها :-

(i) كمية المياه المتخللة التربة .

(ii) كمية النترا في التربة .

(iii) نوع التربة .

(iv) نظام الزراعة .

-ويكون الفقد أكبر مايمكن في الأراضي الرملية وقليل في الأراضي المزروعة بالأعلاف(حشائش) وكبيراً عند زراعة محاصيل ذات نمو قصير . وعموماً توجد علاقة قوية بين كميته النترا القابلة للغسيل في التربة ونظم إضافتها لسماد .

## ج. النظائر المشعة Radionuclides

-تشمل مصادر النظائر المشعة المصنعة اختبارات الأسلحة النووية السائلة للمفاعلات النووية ومحطات الطاقة - حوادث نقل الوقود الذري والمخلفات السائلة للمفاعلات النووية .

-تلوث التربة بالنظائر المشعة عند اجراء أول اختبار نووى عام ١٩٥٠ حيث تسربت كميات هائلة من عنصرى (Cesium (137 Cs) و (Strantium (90Sr الى البيئة وما يتبع ذلك من دخول (١٣٧ Cs) فى السلسلة الغذائية .

-العنصر المشع Sr ٩٠ له فترة نصف عمر ٢٨ سنة ويتسرب الى البيئة ويلوثها نتيجة لاختبارات الاسلحة النووية وحوادث محطات الطاقة النووية ولذلك يلقى تلوث التربة بالسترنشيوم كثير من الاهتمام لان

سلوكه يشابه سلوك الكالسيوم فى السلسلة الغذائية وبالتالي يمكن أن يترسب فى العظام نتيجة لوجوده فى منتجات الالبان والاعذية الاخرى .

**-التخلص من النفايات النووية** الناتجة من مصانع الاسلحة النووية ومحطات الطاقة النووية بالقائها فى التربة أدى الى تلوث التربة بالنظائر المشعة الناتجة من تحلل اليورانيوم والبلوتونيوم مثل  $^{239}\text{Pu}$  ،  $^{241}\text{Am}$  حيث يمكن أن تدمص هذه النظائر المشعة على سطوح حبيبات التربة وترتبط بالمادة العضوية فى التربة .

**-تسرب الاشعاعات النووية من المفاعل النووى** فى تشيرنوبيل عام ( ١٩٨٦ ) أدت إلى تلوث المناطق الزراعية فى روسيا وأوكرانيا. وتعدى التركيز الاشعاعى فى هذه الاراضى الحد المسموح به عالميا وادى الى خروج هذه الاراضى من الانتاج الزراعى كله .

## مصادر تلوث التربة الزراعية

### أولاً: الهواء الجوى

-يعتبر تلوث الهواء من أخطر أنواع التلوث البيئى وأكثرها شيوعاً فى المدن الصناعية حيث يترسب التراب نتيجة للجاذبية كنواتج حرق الوقود من دخان ثانى أكسيد الكربون ويجعل المناطق التى يتراكم عليها سوداء وقدره كما يضر بالنباتات. كما أن حرق الوقود يؤدي إلى تكوين مركبات سامة مثل المركبات النتروجينية والمركبات الأوكسجينية والهالوجينات المشعة .

### ثانياً : التلوث بالكيماويات الزراعية من أسمدة ومبيدات

#### 1- التلوث بالأسمدة الكيماوية :

-مع إتباع أسلوب الزراعة المكثفة أصبح هناك استنزاف مستمر للعناصر الغذائية الموجودة بالتربة وخاصة النتروجين ومع محدودية استخدام الأسمدة العضوية والاتجاه نحو استخدام الأسمدة الكيماوية وخاصة النتروجينية قد أدى إلى التلوث بالنترات. بالإضافة إلى أن مركبات الفوسفور تؤدي إلى ترسيب بعض العناصر النادرة الموجودة في التربة الزراعية والتي يحتاجها النبات في نموه وتحويلها إلى مركبات عديمة الذوبان في الماء (راجع التلوث المائي).

-فالبكتريا والكائنات الدقيقة الأخرى بالتربة تقوم بتحويل المواد النتروجينية في هذه الأسمدة إلى نترات وهذا يزيد من خطر تلوث التربة بالنترات. وفي نفس الوقت يمتص النبات جزء منها ويتبقى الجزء الأكبر في التربة وماءها. ويكون هناك عدم إتزان بين العناصر الغذائية داخل النبات مما يؤدي إلى تراكم كميات كبيرة من النترات في الأوراق والجذور وينتج عنه تغير في طعم الخضروات والفواكه وتغير ألوانها ورائحتها.

-ومن أمثلة النباتات التي تخزن في أجسامها وأنسجتها نسبة عالية من النترات وقدر صغير من أيون النتريت الذي ينتج من اختزال النترات في بعض أنواع البقول والفجل والجزر كما يوضحه الجدول التالي :

م  
نوع النبات  
النترات (ملجم / كجم )  
النتريت (ملجم / كجم )

البنجر  
2134  
3.3

2  
الجزر  
183  
1.5

3  
الكرنب  
330  
2.3

4  
الفجل  
2600  
7.3

5  
الكرفس  
1321  
0.7

6  
الخس  
1361  
8.7

7  
السبانخ  
442  
3.2

8  
الخيار  
156  
8.0

9  
الفاصوليا الخضراء  
153  
5.3

\*د. أحمد مدحت اسلام ( ١٩٩٠ ).

-ويتوقف الحد الحرج الذى يموت عنده النبات على :  
-عمره .

-أجزاؤه (الساق أو الجذر )

-تأثير العناصر الأخرى السامه .

رجوع

**من أهم عوامل وأسباب التلوث بالاسمدة الكيماوية**

هى :

(أ) **(التكثيف المحصولي):** يؤدي إلى إستنزاف مستمر للعناصر الغذائية الموجودة في التربة وخاصة النيتروجين مما استدعى استخدام الأسمدة الكيماوية بغزارة .

(ب) **معدل سقوط الامطار والرى:** تؤدي إلى فقدان هذه الاسمدة النتروجينية إلى المياه الجوفية في باطن الأرض الامر الذي يؤدي إلى تلوثها أو تشارك مع مياه الصرف الزراعى فى نقلها إلى المجارى المائية ومن ثم تضر الكائنات الحية والنباتات عند اعادة أستخدامها فى الرى. أما الاسمدة الفوسفاتية فهي لاتذوب فى الماء والاسراف فيها يؤدي إلى ترسيب بعض العناصر النادرة فى التربة والتي يحتاجها النبات فى نموه وتحويلها إلى مواد عديمة الذوبان فى الماء حيث تكون هذه العناصر بعيدة عن جذور النباتات ولا تستطيع أمتصاصها .

(ج) **البكتريا والكائنات الدقيقة الحية:** تقوم بتحويل المواد النتروجينية فى هذه الاسمدة إلى نترات وهذا يزيد من خطر تلوث التربة بالنترات .

## -2- التلوث بالمبيدات :

المبيدات أصطلاح يطلق على كل مادة كيميائية تستعمل لمقاومة الآفات الحشرية أو الفطرية أو العشبية وآيه آفه أخرى تلتهم المزروعات اللازمة للإنسان فى غذائه وكسائه.

و ترش المحاصيل بالمبيدات للقضاء على الآفات والحشرات بل قد يصل الأمر فى بعض الحالات إلى رش التربة نفسها .



وتؤثر المبيدات على الأحياء الدقيقة التي تعيش في التربة فتهلك بعضها مثل النمل والديدان وبعض الحشرات والأحياء والتي تعد أعداء طبيعية للعديد من الآفات التي تصيب المزروعات .

## ومن الناحية الكيميائية نجد أن المبيدات تنتمي إلى مجاميع مختلفة تذكر أهمها وأخطرها :-

**1-المبيدات الفوسفورية العضوية** ومنها الباراثيون والمالاثيون ودايكلوروفوس وديازيفون وهي مبيدات شديدة متوسطة الثبات في الطبيعة وهي تؤدي إلى تسمم الإنسان .

**2-المبيدات الهيدروكربونية الكلورة** وتشتمل على مبيدات الحشرات مثل الدرين وأندرين ومركب DDT وديلدرين وكيبون وهبتاكلور وكلوردين وجامسكان وجميعها مبيدات سامه شديدة الثبات تذوب في الدهون وحافزه لأمراض السرطان .

**3-المبيدات الكرباماتيه** ومنها السيفين والتميك والبايجون وتشبه هذه المبيدات في مفعولها عمل المبيدات الفسفورية العضوية .

**4-مبيدات القوارض** وتشتمل فوسفيد الزنك وموانعات التجلط وتحدث التهاب في الجهاز التنفسي للإنسان وحدوث بول دموى واورام دموية .

**5-مبيدات أخرى متنوعة** وتشتمل زرنيخات الرصاص وزرنيخات الكالسيوم وأكاسيد النحاس ومبيدات زئبقية وجميعها مركبات شديدة السمية .

كذلك يأتي الضرر البيئي لهذه المبيدات من أن أغلبها مركبات حلقيه

بطيئة التحلل ولاحتماء بعضها على العناصر الثقيلة ذات درجة سمية عالية للنبات كما أن زيادة نواتج تكسرها يزيد من تركيز وتراكم كميات من عناصر الكلور والفوسفور والنترات عن الحد المسموح به في البيئة الزراعية ويتأثر بها الحيوانات أو الإنسان (راجع التلوث المائي).

وتزداد فرص التلوث بالمبيدات في الزراعات المحمية: وذلك أن النباتات المنزرعة داخل الصوب تكون محاطة ببيئة حرارة مرتفعة ورطوبة جوية عالية. فالبيئة بالصوب تشجع على النمو السريع للنباتات و في نفس الوقت تشجع على نمو وتكاثر الآفات مما يضطر معه المزارع إلى رش النباتات بمبيد الآفات على فترات قصيرة. وأن فرص تلوث التربة والنباتات بالمبيدات في جو الصوب المغلق يزداد عنه في الجو المفتوح. ونظراً لأن المحاصيل التي داخل الصوب مثل الخيار والطماطم والكوسة والفراولة والكانتلوب تجمع على فترات متقاربة وترش في نفس الوقت على فترات متقاربة فإنها تجمع بعد مرور فترات قصيرة على رشها وتكون حينئذ ملوثة بشدة بالمبيد المرشوش وغالباً فإن غسيل الثمار لا يتخلص من المبيد بل يكون جزء من المبيد أمتص بالأنسجة الخارجية للمحصول.

**ومن أهم عوامل وأسباب التلوث بالمبيدات هي :**

**(1) نوع المبيد :** يختلف تأثير المبيد الملوث للتربة باختلاف نوع المبيد ذاته كما تختلف فتره بقاء المبيد في التربة حسب نوع المبيد وتركيبه. والجدول التالي يوضح بعض أنواع المبيدات الشائعة الاستخدام وفترات بقائها في التربة .

المبيد  
نوعه

الوقت اللازم لاختفاء نصف كمية المبيد

الدرين  
هيدروكربون مكلور  
شهران

كارباريل (سيفيني )  
كربانات  
شهر

فورات (ثيمبت )  
فسفوري عضوى  
شهر

بارانيون  
فسفوري عضوى  
20 يوم

مثيل باراسيون  
فسفوري عضوى  
20 يوم

مالاثيون  
فسفوري عضوى  
20 يوم

## (2) درجة ذوبان المبيد :

-تميل المبيدات قليلة الذوبان فى الماء إلى البقاء فى التربة فترة أطول من المبيدات كثيرة الذوبان .

-فعلى سبيل المثال يمكن لمبيد D.D.T يبقى فى الأرض ٣٠ سنة بسبب قلة درجة ذوبانه على العكس يمكث مبيد الكاربو فوران فى الأرض لمدة أسبوع لان درجة ذوبانه فى الماء عالية .

## (3) كمية المبيد وأسلوب استخدامه :

-كلما زادت كمية المبيد المضافة إلى التربة الزراعية كلما زادت درجة تلوثة للتربة والنبات .

-كما أن طريقة إضافة المبيد فى حالة سائلة أم صلبة تلعب دور كبير فى تحديد مدة بقاءه فى الأرض .

-كذلك فان طريقة أضافته سواء أكانت مباشرة للأرض أو عن طريق رش النبات تؤثر على درجة تلويث المبيد للتربة والنبات .

تأثير أسلوب الاستخدام ونوع تركيبة المبيد على بقاءها لتربة

%الكمية المتبقية من المبيد بعد مرور عام

تركيب المبيد

عند إستخدام المبيد على سطح التربة

عند إدخال المبيد فى التربة

مركز قابل للاستحلاب

6.5%

44%

حببي

13%

62%

**(4) حرث التربة** : يؤدي حرث التربة إلى زيادة سرعة اختفاء المبيدات منها .

المبيد

الأرض محروثة

غير محروثة

D . D . T 55.9%

74.2%

الدرين

29.3%

46.9%

**(5) رطوبة التربة :** لمقدار الرطوبة في التربة تأثير على مكث المبيدات فيها فقد أتضح أن الماء يزيح الالدرين من حبيبات التربة مما يؤدي إلى تبخير مقدار كبير منه وبالتالي سرعة هروبه وهكذا يعتبر التبخر أحد منافذ الهروب الرئيسية لكل من الالدرين والهبتاكلور .

**(6) درجة حرارة التربة :** تؤثر درجة حرارة التربة تأثير إيجابيا على سرعة تبخر المبيد وعدم بقاءه بين حبيبات التربة فكلما زادت درجة حرارة التربة زادت سرعة تبخر المبيد وهروبه من التربة .

**(7) العوامل الجوية :** يتأثر تراكم المبيد وبقائه في التربة بحالة الجو مثل الضوء ودرجة الحرارة ودرجة الرطوبة والرياح حيث يعتمد تحلل المبيد على كمية الضوء والحرارة اللذان يؤثران على تفاعلات الأكسدة والاختزال والتحلل المائي. كما أن درجة رطوبة الجو والرياح تعملان على تعجيل أو إبطاء سرعة تحلل المبيد حسب نوع المبيد ونوع التربة .

-ويحتوى الجدول التالى على بيانات مقارنة صادرة من المنظمة العالمية للأغذية والزراعة حول استخدام الأسمدة والمبيدات فى مصر وبعض الأقطار الأخرى. ويوضح الجدول الارتفاع النسبى لاستخدام الأسمدة والمبيدات فى مصر .

القطر

المساحة المنزرعة

استخدام الأسمدة كجم/ هكتار

استخدام المبيدات كجم/ هكتار

ألف هكتار

75/ 1977

85/ 1987

75/ 1977

82/ 1984

مصر

2560

188

347

10.5

7.6

الجزائر

7540

19

37

2.2

2.8

المغرب

8462

23

36

0.3

0.4

السودان

12487

6

4

-

-

العراق

5450

8

36

-

-

فرنسا

19459

266

301

4.3

5.1

ألمانيا

7476

436

425

3.2

4.0

هولندا



924

751

748

7.1

1.5

المملكة المتحدة

6988

275

364

3.6

4.9

الولايات المتحدة

189915

102

93

2.4

2.0

\*خطة العمل البيئي فى مصر - جهاز شئون البيئة (١٩٩٢). )

**ثالثا: الري الغير المرشد بمياه تقليدية أو غير تقليدية**

-تمثل مياه الري مصدر غير مباشر لتلوث التربة الزراعية ويأتى هذا من إعادة استخدام مياه الصرف الزراعى أو صرف مياه الصرف الصحى

والصناعى على المسطحات والمجارى المائية المستخدمة فى رى  
الأراضى الزراعية والتي بدورها تحوى على عناصر ثقيلة سامة  
ومبيدات وأسمدة كىماوية لها الأثر فى تلوث التربة الزراعية )

**-وأهم أسباب وعوامل التلوث الناتج عن الرى الغير مرشد  
بمياه تقليدية أو غير تقليدية هى :-:**

■ **الصرف الصحى ■ الصرف الزراعى**

■ **الصرف الصناعى ■ المياه الجوفية**

**\*الصرف الصحى**

-نظراً لقلّة الموارد المائية تتجه أساليب الزراعة الحديثة إلى استخدام  
مياه الصرف الصحى المعالج لرى الأراضى الزراعية بأنواع مختلفة من  
المحاصيل .

-تعتبر من المصادر الحديثة لاستغلال المياه فى الرى وقد بدء  
استخدامها فى مصر عام ١٩١١ حيث تمت زراعة ٢٥٠٠ فدان بمنطقة  
الجبل الأصفر وبزيادة عدد محطات المعالجة بمصر يتم استخدام هذه  
النوعية فى كثير من المناطق بالوادى والدلتا وأسيوط والتبين وحلوان  
وزنين وبحر البقر .

-وتوجد بالقاهرة الكبرى ٦ محطات للصرف الصحى (الجبل الأصفر –  
البركة – بلقس – زنين – أبو رواش – حلوان) ... تستقبل محطات  
بلقس وحلوان صرف صناعى لكونها مناطق صناعية وتستخدم محطات  
الجبل الأصفر وأبو رواش وحلوان فى الزراعة بعد تنقيتها مرحلة أولى  
وثانية .

-وقد درست أكاديمية البحث العلمى الآثار السلبية والإيجابية للرى بمياه

الصرف الصحى الغير معالجة لمدة ٤ سنوات بمنطقة أبو رواش : الآثار  
الإيجابية : تتمثل فى

-زيادة إنتاجية الأراضى من المحاصيل حيث ارتفعت إنتاجية الذرة من  
٧٠٠ كجم / فدان فى السنة الأولى الى ٢ طن بعد أربع سنوات .

-زادت نسبة المادة العضوية فى الطبقة السطحية للتربة من ٠,١ -  
٠,٥% مما أدى الى إثراء التربة بالمادة العضوية وتحسين خواصها  
وزيادة قدرتها على الاحتفاظ بالماء والعناصر الغذائية وزادت السعة  
المائية للأرض من ١٨,٩ - ١٣٠,٤ .

-انخفض pH من ٨,٥ الى 6.5 مما أدى الى تيسير بعض العناصر  
الغذائية فى التربة مثل الفوسفور والحديد والمنجنيز والزنك مما أدى الى  
زيادة المحصول .

### وتمثلت الآثار السلبية فى :

-تراكم العناصر الثقيلة أو العناصر الصغرى بتركيزات عالية فى أنسجة  
النبات وهذه العناصر تسبب أضراراً للإنسان. ويجب اختيار طريقة الري  
عند استخدامها. فمثلاً استخدام الري بالرش يؤدي الى انتشار الرزاز  
بنسبة تصل الى ٣% من المياه المستخدمة (حسب درجة الحرارة  
والرطوبة بمصر) وهذا الرزاز يحمل كثير من الأمراض الفيروسية أما  
الري السطحي فيؤدي الى اهدار المياه عن الاحتياج الفعلى للمحاصيل لذا  
يرى أن الري بالتنقيط أنسب هذه الأنواع .

-من أهم الدراسات التى تمت بمصر تلك التى أجريت بمزرعة الجبل  
الأصفر التى تروى بمياه الصرف الصحى لمدينة القاهرة منذ عام ١٩١١  
وذلك بعد اجراء عمليات التنقية الأولية بأحواض الترسيب. ويوضح  
الجدول التالى أثر الري بمياه الصرف الصحى المعالج أولياً على العناصر

الميسرة فى التربة (الطبقة السطحية ٠.٠-٣٠ سم) على فترات مختلفة  
بمزرعة الجبل الأصفر .

العنصر

سنوات الاستزراع

ملجم / كجم تربة

أرض بكر

8 سنوات 30 سنة

60 سنة

نتروجين

16

38

88

135

فوسفور

6

52

80

114

بوتاسيوم

39

54

78

**334**

**حديد**

**36**

**118**

**220**

**334**

**منجنيز**

**10**

**29**

**67**

**148**

**نحاس**

**0.40**

**11**

**27**

**41**

**زنك**

**0.1**

**34**

**120**

**323**

**كاديوم**

**0.05**

**0.15**

**0.27**

**0.68**

**رصاص**

**0.7**

**8.3**

**9.7**

**42.2**

**نيكل**

**0.12**

**0.9**

**2.5**

**4.1**

**كوبلت**

**0.17**

**0.36**

**0.26**

**0.75**



صورة



خندق نفطي