

مذكرة

PLC

الصف الثاني

الترم الثاني

المعهد الفني الصناعي بالزقازيق

شعبة (أجهزه & شبكات & آلات)

إعداد/محمد عبدالبديع إسماعيل

أسألكم الدعاء لي بالتوفيق والنجاح دائما

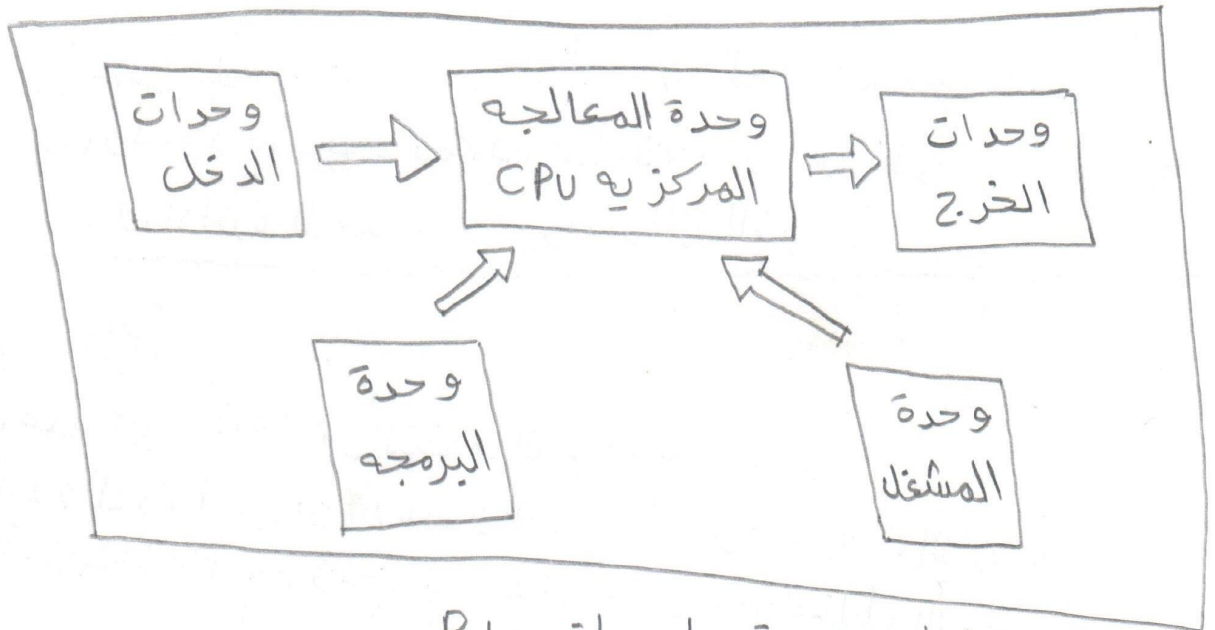
☆ المتحكم المنطقي المبرمج PLC

☆ الباب الأول

☆ وظيفة جهاز PLC

* مراقبة حالة المداخل والمخارج ثم إتخاذ قرار طبقا للتعليمات المعطاة له مسبقا.

☆ مكونات جهاز PLC



مخطط صندوقى لجهاز PLC

☆ مكونات الوحدة الأساسية في جهاز PLC

- ١ وحدة التغذية .
 - ٢ وحدة المعالجة المركزيه CPU
 - ٣ وحدات الدخل
 - ٤ وحدات الخرج
 - ٥ وحدة البرمجه
 - ٦ وحدة المشغل
- ← المعالج

← ذاكره RAM

← ذاكره ROM

← ذاكره EPROM

Very good

* أنواع جهاز PLC

١ جهاز متكامل ذو الوحدة الواحدة Block type :-

- * في هذا النوع توجد كل عناصر الجهاز في غلاف واحد .
 - * ويستخدم هذا الجهاز في العمليات الصناعية الصغيرة .
 - * ويمكن توصيل به واحدة أو عدة وحدات داخل والمخارج .
- ٢ جهاز الإطاري Module type :-

- * في هذا النوع يخضع غلاف لكل عنصر من العناصر المكونة للجهاز .
- * ويسمى مودول ويوجد مودول لمصدر الطاقة ومودول لوحدة المعالجة المركزية ومودول لدائرة الدخل ومودول لدائرة الخرج .

* مميزات جهاز PLC

- ١ يحتوي على عدد كبير من عناصر التحكم المبرمجة مثل :-
(المؤقتات و العدادات و المقارنات و التلامسات و مسجلات الإزاحة)
- ٢ مداخل ومخارج جهاز PLC معزولة عن المعالج مما يؤدي لتقليل الأعطال .
- ٣ سهولة تعديل عمل الآلة بتغيير البرنامج فقط .
- ٤ إمكانية اختبار البرنامج قبل تطبيقه .
- ٥ توفير المساحة المخصصة لعناصر التحكم .
- ٦ توفير الوقت اللازم للتركيب والصيانة والتعديل .

* المواصفات التي يجب أن توافرها في أجهزة PLC

- ١ معرفة أنواع العمليات المتاحة عليه .
- ٢ معرفة عدد المداخل والمخارج سواء كانت تناظرية أو رقمية .
- ٣ معرفة زمن تنفيذ البرنامج لكل واحد كيلو بايت من حجم البرنامج .
- ٤ معرفة نوع الذاكرة الداخلية لجهاز PLC .
- ٥ معرفة سعة الذاكرة RAM لجهاز PLC .
- ٦ معرفة نوع الجهاز هل هو بلوك أو مودول .
- ٧ معرفة إذا كان الجهاز قادر على التحكم في سرعة صواتير أم لا .
- ٨ معرفة الظروف المتاحة التي يعمل فيها الجهاز .
- ٩ معرفة هل سيتم توصيل الجهاز داخل شبكته محليه .

٧٤٢٤ و ٥٥٥

* المشغل

* المشغل :- هو عبارة عن جهاز لديه القدرة على تحويل الإشارات الكهربائية إلى كميات فيزيائية .

* أمثلة على المشغل :-

١ المحركات .

٢ لمبات البيان .

* الحساس

* الحساس :- هو عبارة عن جهاز لديه القدرة على تحويل الكميات الفيزيائية إلى إشارات كهربائية .

* أمثلة على الحساسات :-


١ مفاتيح الضغط .

٢ حساس درجة الحرارة .

لي ماهي أنواع المداخل الرقمية والمخارج الرقمية مع الرمز ؟

المخارج الرقمية

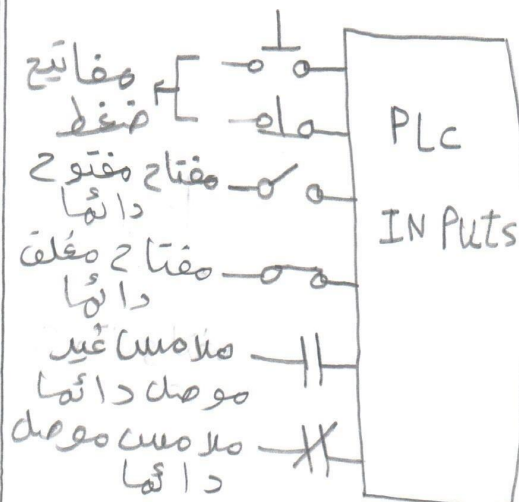
* هي مخارج يتم التعبير عنها بحالتين
(ON & OFF) .
* وهي مثل لمبات البيان .



Very good

المدخل الرقمية

* هي مداخل يتم التعبير عنها بحالتين
(ON & OFF) .
* وهي مثل المفاتيح .

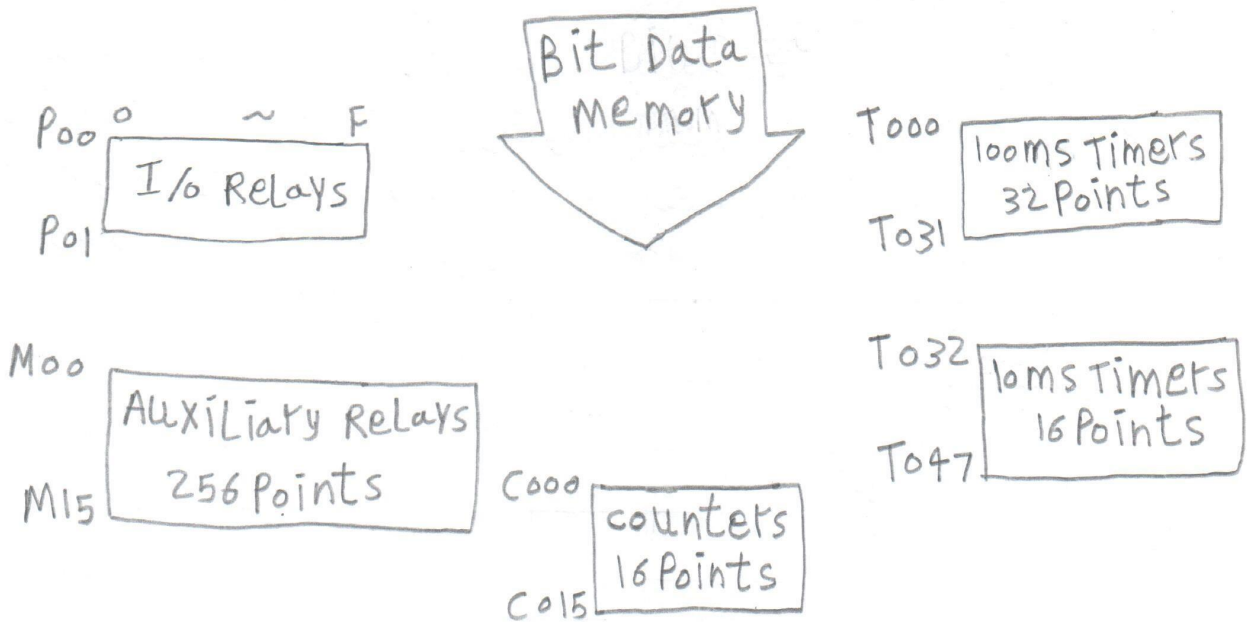


Very good

☆ أوامر البرهجه طبقاً للتقسيمات المتعلقة بوحدة الذاكره ومكوناتها

- ☆ تختلف أجهزة PLC من شركة إلى أخرى ولكنها كلها تحتوي على المكونات الأساسية لوحدة CPU ومنها الذاكره ومنها المعلوم أن جميع هذه الأجهزة لها ذاكره وتنقسم ذاكره جهاز PLC إلى ثلاث أنواع هـا:
 - ١ ROM - هي ذاكره توقع عليها بيانات ثابتة لا تتغير وتحتوي على بيانات عن نظام التشغيل وهي خامه بالشركه المصنعه.
 - ٢ RAM - هي ذاكره القراءه و الكتابه بالنسبه للبرنامج الذي يقوم بكتابه البرنامج المستخدم وتفقد محتوياتها بهجرد انقطاع التيار عنها لذلك توصله مع بطاريه.
 - ٣ EEPROM - هي ذاكره قابله للبرهجه ويمكن مسحها كهربياً و يخزن عليها البرنامج السالم.

☆ مخطط الذاكره Memory Map



☆ مخطط الذاكره! - هي جزء من الذاكره يحتوى على عدة مساحات مخصصه لعناصر إلكترونيه مثل!

- ١ P - هي المساحه المخصصه لتلاصقات المد اخل و ملفات المخرج.
- ٢ M - هي المساحه المخصصه للمفاتيح الكهرو مغناطيسيه المبرمه (غير طبيعيه).
- ٣ C - هي المساحه المخصصه للعدادات الإلكترونيه.
- ٤ T - هي المساحه المخصصه للمؤقتات الزمنيه.

★ برمجة المتحكمات المبرمجة

★ البرنامج :- هو مجموعة من أوامر PLC التي تؤدي مهام معينة.
★ برمجة أجهزة PLC :- هي عبارة عن إنشاء مجموعة من الأوامر.

★ لغات البرمجة

- ١) لغات ذات مستوى عالي.
- ٢) لغات ذات مستوى منخفض.
- ٣) لغة الماكينة.

لغة Verilog

★ طرق كتابة البرامج (لغات البرمجة) في أجهزة PLC

- ١) المخطط السلمي LAD.
- ٢) قائمة التعليمات والأوامر STL.
- ٣) دوائر التحكم المنطقية (المخطط الصدوق) FBD = CSF.

★ قائمة التعليمات أو الأوامر STL

* هي لغة لا تستخدم مخططات أو رسومات بل يتم التعبير عنها برموز هجائية ومن أشهر هذه التعليمات لغة STEP5 الخاصة بشركة SEIMINS.
* الجدول يوضح رموز قائمة التعليمات.

الوظيفة	الرمز
تعبير عن دائرة AND	A
تعبير عن دائرة OR	O
تعبير عن دائرة NOT	N
تعبير عن دائرة NAND	AN
تعبير عن دائرة XOR	XO
تعبير عن يساوي	=
بدء البرمجة على التوازي (فتح قوس)	(
نهاية البرمجة على التوازي (قفل قوس))
نهاية البرنامج	BE

★ المخطط السلمي LAD

* هذا النوع من البرمجة يتم بتركب دائرة تشبه الدائرة الكهربائية مع اختلاف أن الدائرة تكون في وضع أفقي وتتكون من خطين رأسيين ويكون الخط الرأسى بالجهة اليسرى له قطبيه موجب بينهما يكون الخط الأيمن متصل بالأرض مما ويكون مسار التيار من اليسار إلى اليمين.

الرمز	المخطط السلمي
— —	مفتاح مفتوح
— /—	مفتاح مغلق
—()—	جهاز الخرج
—[END]—	نهاية المخطط

*** برمجة البوابات المنطقية باستخدام (LAD-STL-CSF)**

٣) بوابة NOT

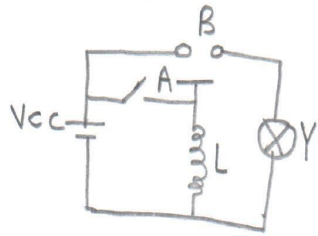
* الرمز المنطقي :-



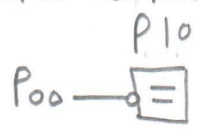
* المعادلة المنطقية :-

$$Y = \bar{A}$$

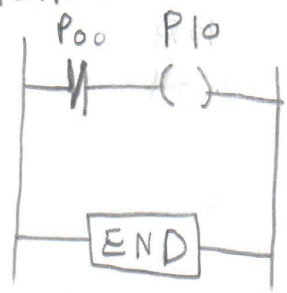
* الدائرة الكهربائية المكافئة :-



* المخطط الصندوقي CSF :-



* المخطط السلعي LAD :-



* قائمة التعليمات STL :-

AN P00
= P10
BE

Very good

٤) بوابة OR

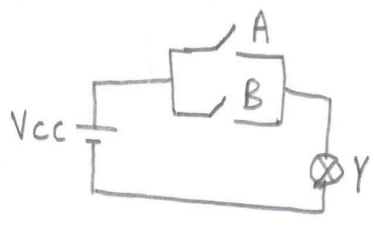
* الرمز المنطقي :-




* المعادلة المنطقية :-

$$Y = A + B$$

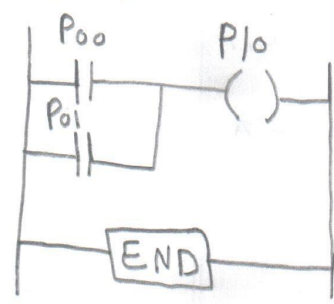
* الدائرة الكهربائية المكافئة :-



* المخطط الصندوقي CSF :-



* المخطط السلعي LAD :-



* قائمة التعليمات STL :-

O P00
O P01
= P10
BE

Very good

٥) بوابة AND

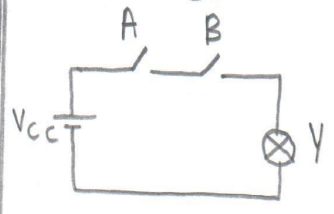
* الرمز المنطقي :-




* المعادلة المنطقية :-

$$Y = A \cdot B$$

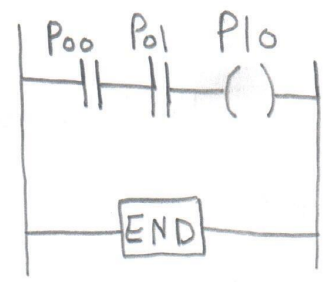
* الدائرة الكهربائية المكافئة :-



* المخطط الصندوقي CSF :-



* المخطط السلعي LAD :-



* قائمة التعليمات STL :-

A P00
A P01
= P10
BE

Very good

✓

6 بوابة NOR


* الرمز المنطقي :-



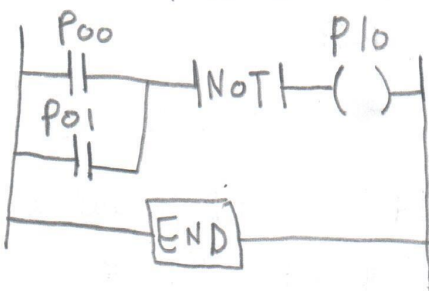
* المعادلة المنطقية :-

$$Y = \overline{A \cdot B}$$

* المخطط المنطقي CSF :-



* المخطط السلبي LAD :-



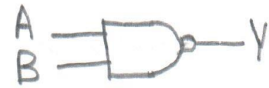
* قائمة التعليمات STL :-

A (
o P00
o P01
)
NoT
= P10
BE

very good

7 بوابة NAND


* الرمز المنطقي :-



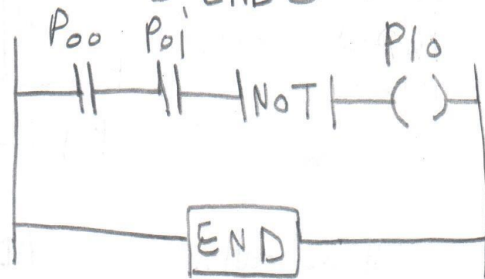
* المعادلة المنطقية :-

$$Y = \overline{A \cdot B}$$

* المخطط المنطقي CSF :-



* المخطط السلبي LAD :-



* قائمة التعليمات STL :-

A P00
A P01
NoT
= P10
BE

very good

٧

XNOR بوابة (٧)

* الرمز المنطقي :-

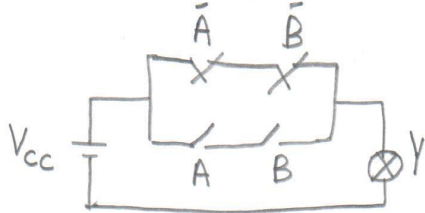


* المعادله المنطقية :-

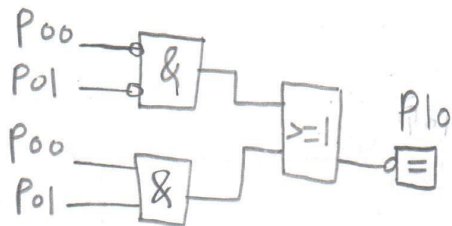
$$Y = A \odot B$$

$$Y = \bar{A}\bar{B} + AB$$

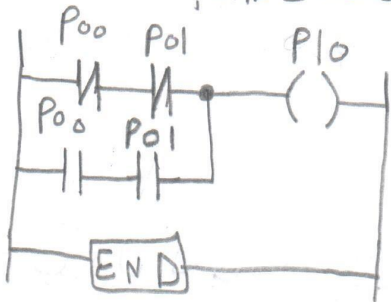
* الدائره الكهريبيه :-



* المخطط المنطوقى CSF :-



* المخطط السلمى LAD :-



* قائمة التعليمات STL :-

AN P00
 AN P01
 or
 A P00
 A P01
)
 = P10
 BE

very good

XOR بوابة (٦)

* الرمز المنطقي :-

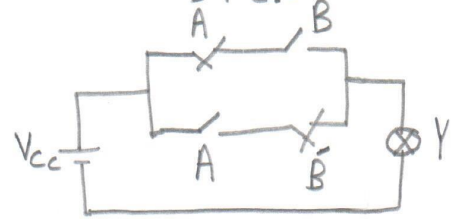


* المعادله المنطقية :-

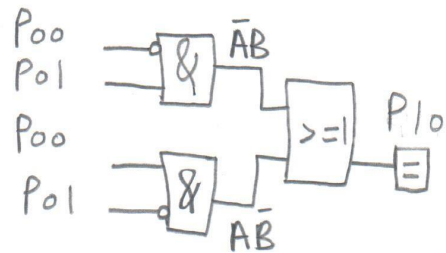
$$Y = A \oplus B$$

$$Y = \bar{A}B + A\bar{B}$$

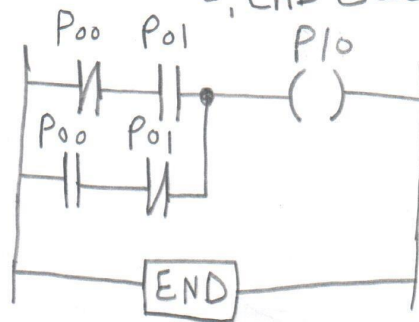
* الدائره الكهريبيه :-



* المخطط المنطوقى CSF :-



* المخطط السلمى LAD :-




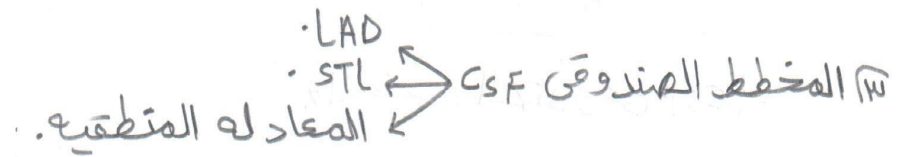

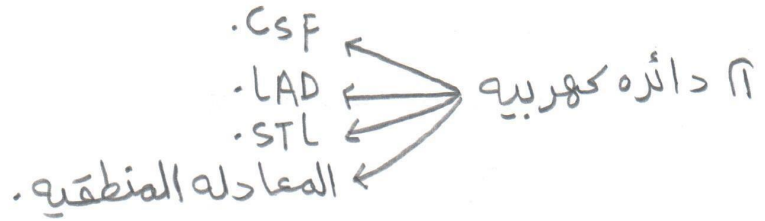


* قائمة التعليمات STL :-

AN P00
 A P01
 or
 A P00
 AN P01
)
 = P10
 BE

very good

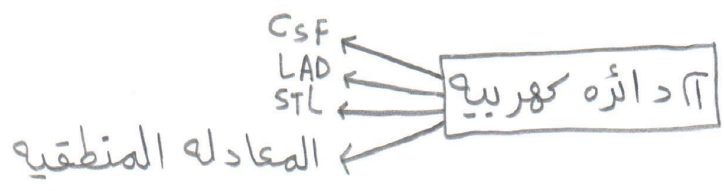
شكل مسائل الباب الثاني



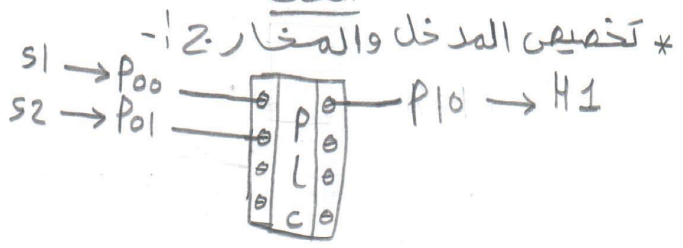
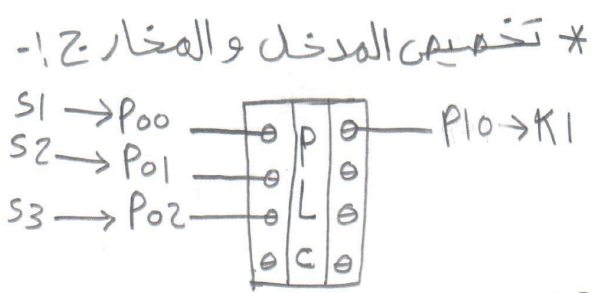
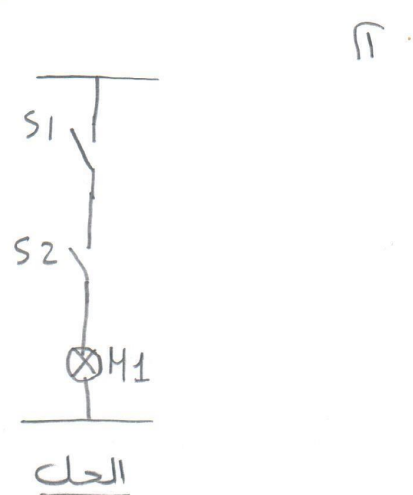
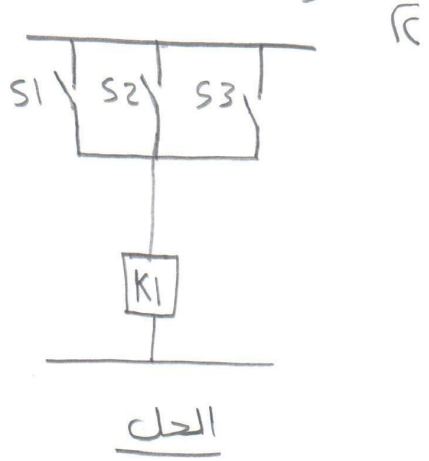
٧ أمثله متنوعه.

محمد عبدالبريد
 العباسه - أبو حماد
 01003701284

Very good


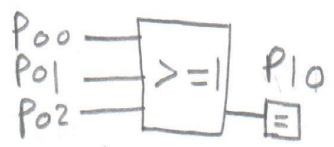


مثال حول الدائرة الكهربيه الى (المعادله المنطقيه - STL - LAD - CSF)



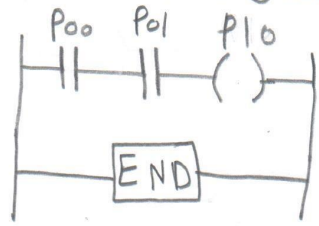
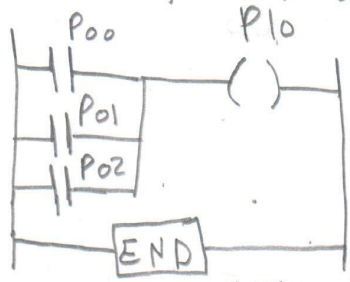
لغة التحكم المنطقى CSF :-

لغة التحكم المنطقى CSF :-



المخطط السلمى LAD :-

المخطط السلمى LAD :-



* قائمة التعليمات STL :-

* قائمة التعليمات STL :-

- o P00
- o P01
- o P02
- = P10
- BE

- A P00
- A P01
- = P10
- BE

Very good

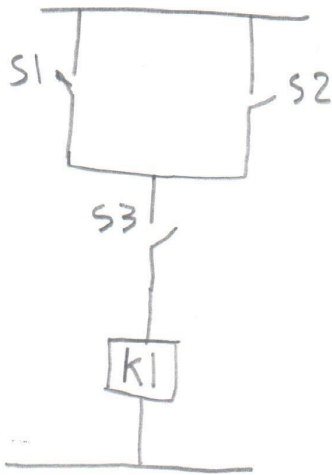
المعادله المنطقيه :-

$$P10 = P00 + P01 + P02$$

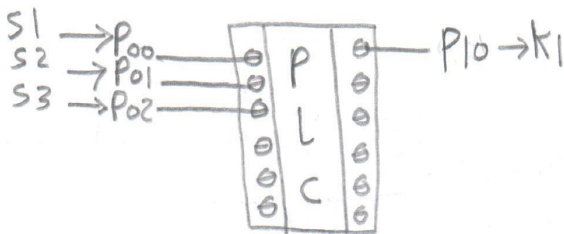
$$P10 = P00 \cdot P01$$

11


13



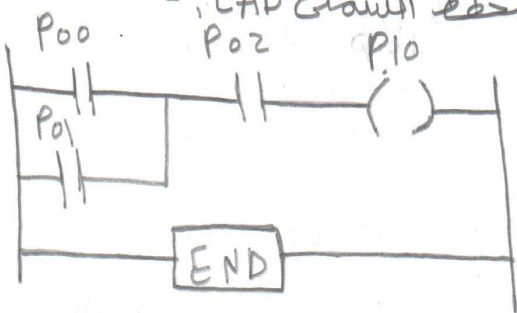
* تخصيص المدخل والمخرج :-



١ لغة التحكم المنطقى CSF :-



٢ الخطة السلكى LAD :-



٣ قائمة التعليمات STL :-

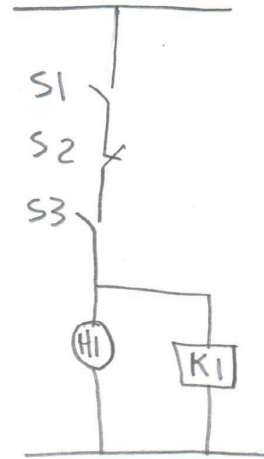
- o P00
- o P01
-)
- A P02
- = P10

very good

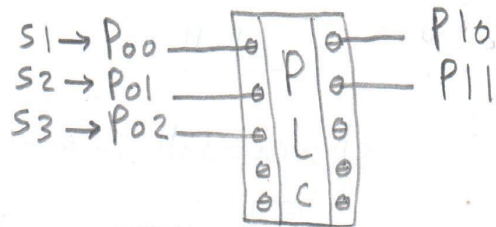
٤ المعادله المنطقية :-

$$P10 = (P00 + P01) \cdot P02$$

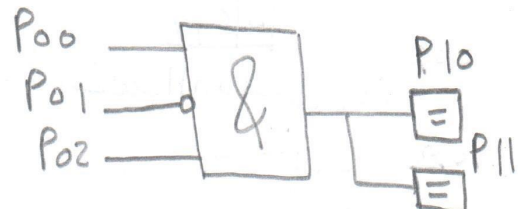
14



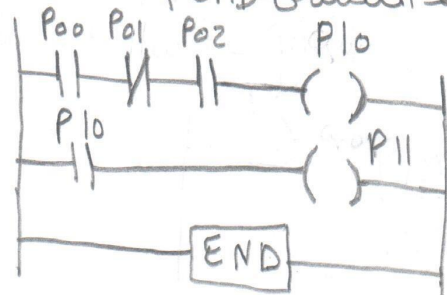
* تخصيص المدخل والمخرج :-



١ لغة التحكم المنطقى CSF :-



٢ الخطة السلكى LAD :-



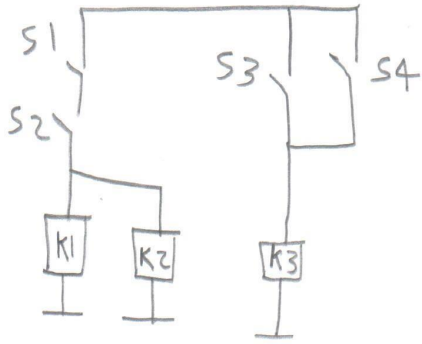
٣ قائمة التعليمات STL :-

- A P00
- AN P01
- A P02
- = P10
- A P10
- = P11

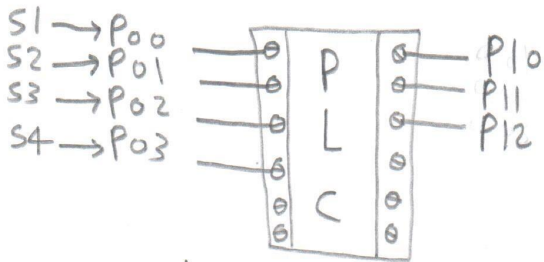
very good

٤ المعادله المنطقية :-

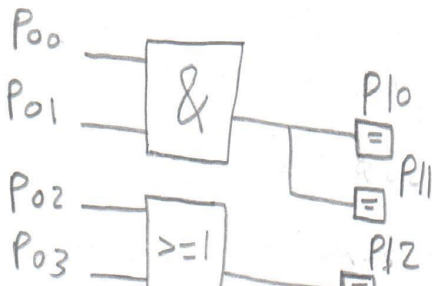
$$P10 = P11 = P00 \cdot P01 \cdot P02$$



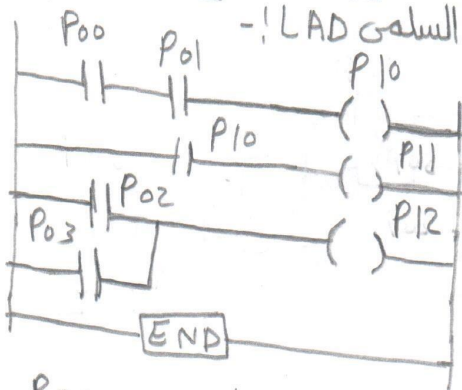
* تخصيص المدخل والمخرج :-!



الغلة التحكم المنطقى CSF :-!



الخطة السلمى LAD :-!



- A P00
- A P01
- = P10
- A P10
- = P11
- O P02
- O P03
- = P12
- BE

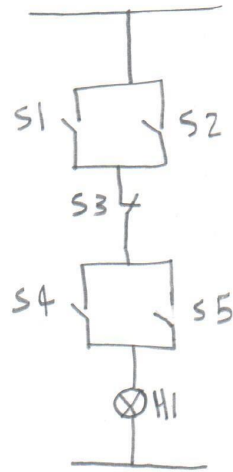
قائمة التعليمات STL :-!

Very good


المعادله المنطقية :-!

$$P10 = P11 = P00 \cdot P01$$

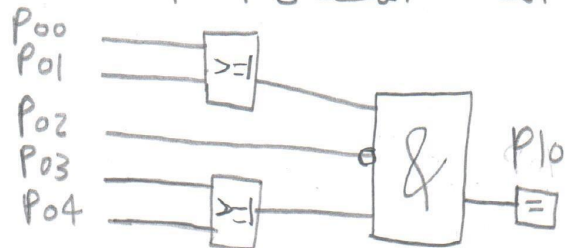
$$P12 = P02 + P03$$



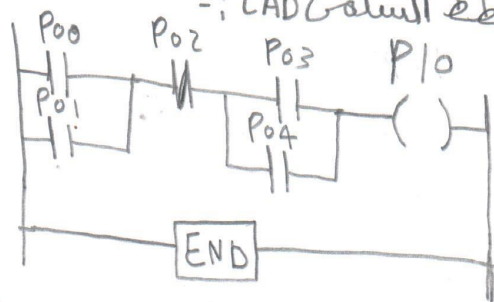
* تخصيص المدخل والمخرج :-!



الغلة التحكم المنطقى CSF :-!



الخطة السلمى LAD :-!



قائمة التعليمات STL :-!

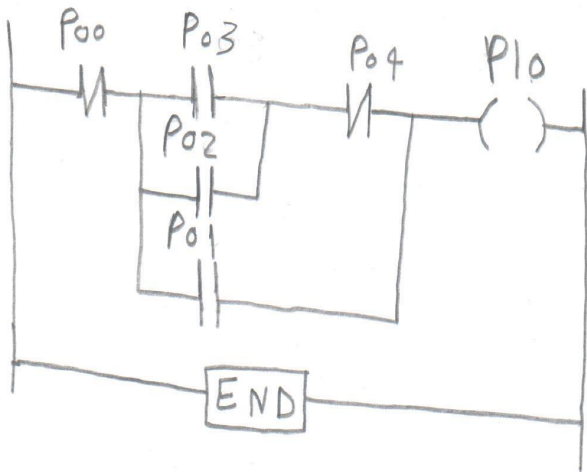
- (
- O P00
- O P01
-)
- AN P02
- AC
- O P03
- O P04
-)
- = P10

Very good

المعادله المنطقية :-!

$$P10 = (P00 + P01) \cdot \overline{P02} \cdot (P03 + P04)$$

١٣ رسم الخط السلسل STL :-



١٣ قائمة التعليمات STL :-

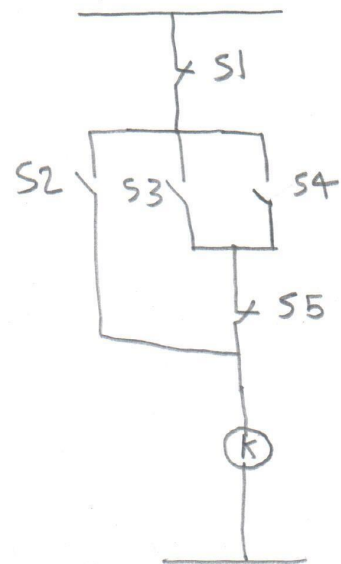
```

(
o P03
o P02
)
AN P04
o P01
)
AN P00
= P10
BE
    
```

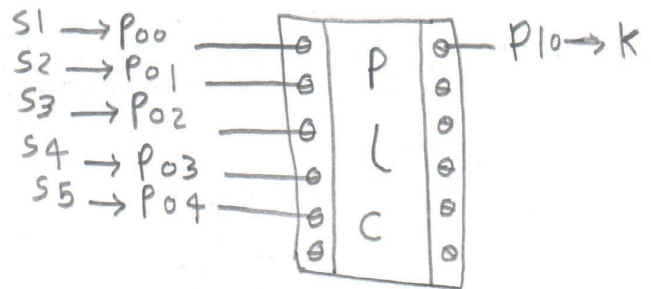
١٤ المعادله المنطقية :-

$$P10 = \{ [(P03 + P02) \cdot P04] + P01 \} \cdot P00$$

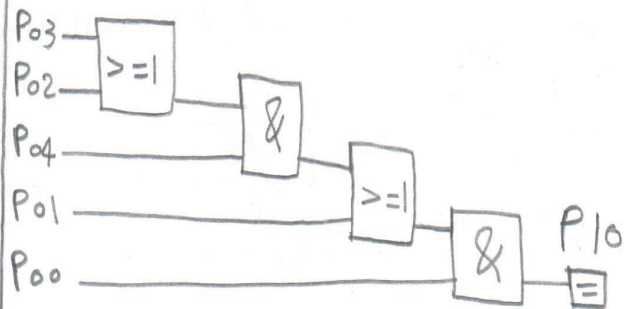
Very good



* تعيين المدخل والمخرج :-



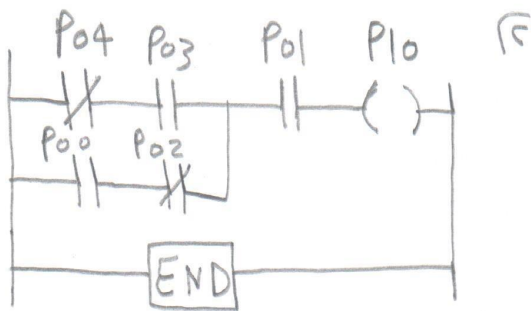
١٤ لغة التحكم المنطقية CSF :-



Very good

م/محمد عبد الباقع اسماعيل
العباسه - أيو حاد - شرقية
٥٧٠٧٦٥٥٣٧٤٠

١٤٥ مثال؟ حول المخطط السلطي LAD إلى (المعادله المنطقيه - CSF - STL) -

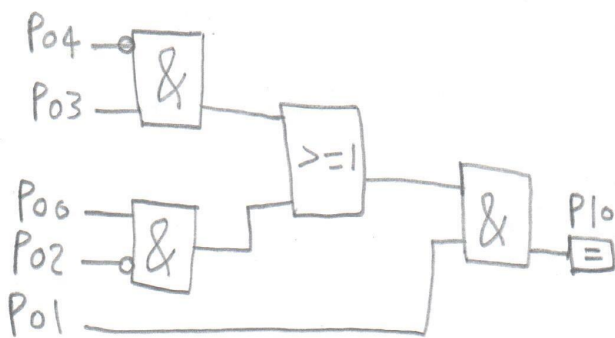


قائمة التعليمات STL -

```

AN P04
A P03
(
A P00
AN P02
)
A P01
= P10
BE
    
```

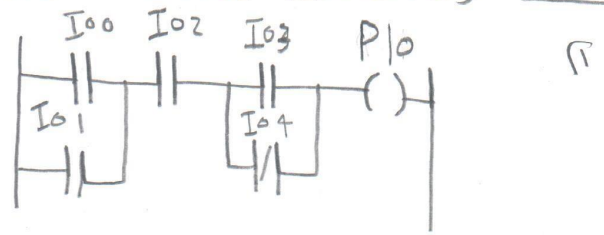
قائمة التحكم المنطقي CSF -



المعادله المنطقيه -

$$P10 = [(P04 \cdot P03) + (P00 \cdot \bar{P02})] \cdot P01$$

Very good

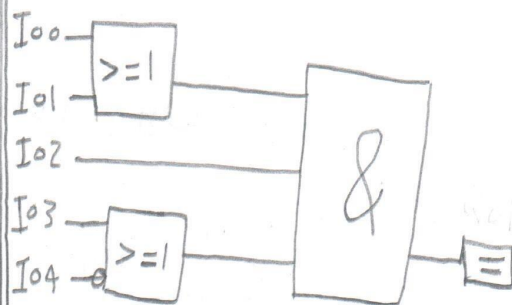


قائمة التعليمات STL -

```

(
O I00
O I01
)
A I02
(
O I03
ON I04
)
= P10
BE
    
```

قائمة التحكم المنطقي CSF -

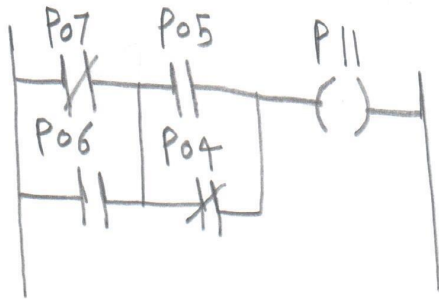


المعادله المنطقيه -

$$P10 = (I00 + I01) \cdot (I03 + \bar{I04}) \cdot I02$$

Very good

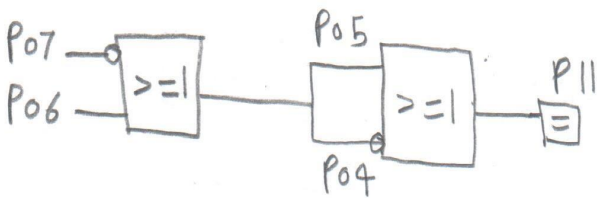
10p



١١ قائمة التعليمات STL :-

```
(
ON P07
O P06
)
A (
O P05
ON P04
)
= P11
```

١١ قائمة التحكم المنطقي CSF :-

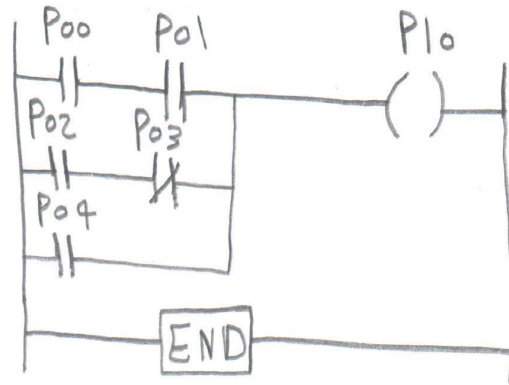


١١ المعادلة المنطقية :-

$$P11 = \overline{P07} + P06$$

Very good

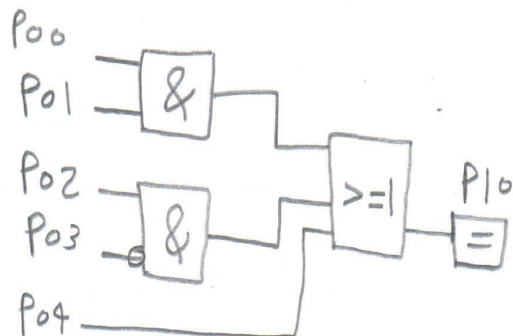
٤



١٠ قائمة التعليمات STL :-

```
A P00
A P01
O (
A P02
AN P03
)
O P04
= P10
BE
```

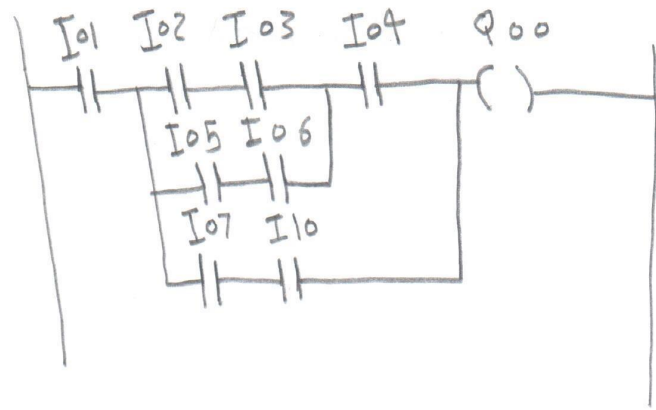
١٠ قائمة التحكم المنطقي CSF :-



١٠ المعادلة المنطقية :-

$$P10 = (P00 \cdot P01) + (P02 \cdot \overline{P03}) + P04$$

Very good



٧/١٠٠٧٨٠٠٣٧٧١-
 ٧/١٠٠٧٨٠٠٣٧٧١-

A I02

A I03

o (

A I05

A I06)

A I04

o (

A I07

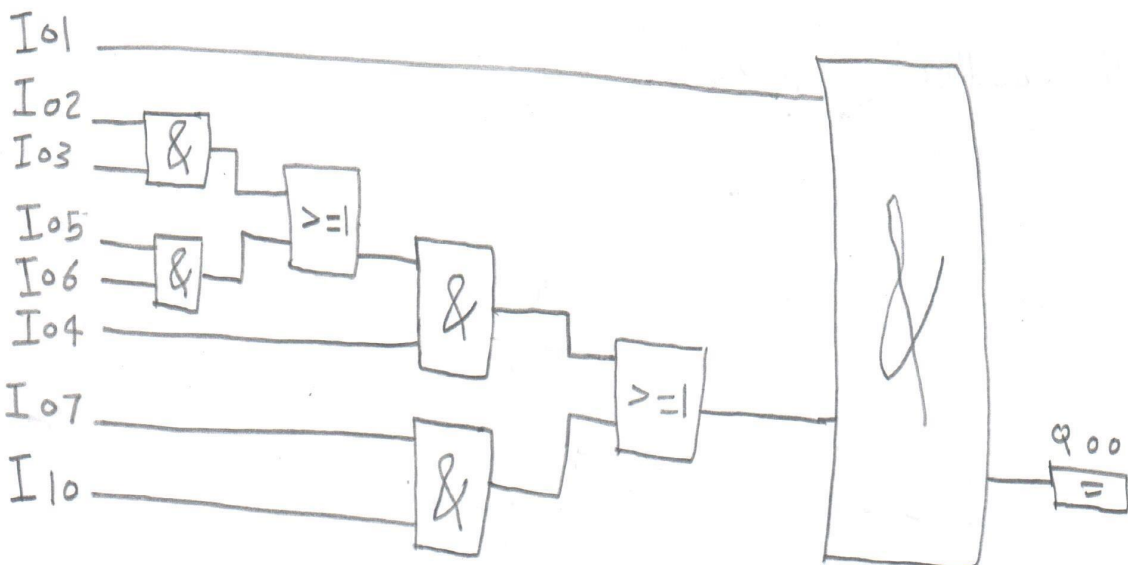
A I10)

A I01

Q.=0.0

١١ قائمة التعليمات STL :-

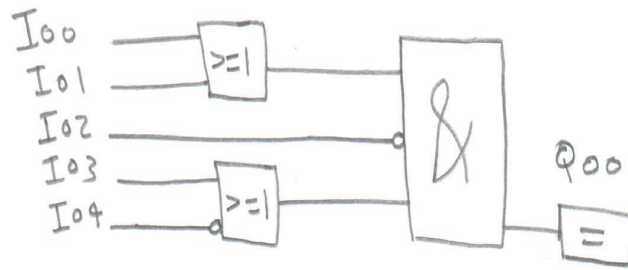
١٢ لغة التحكم المنطقي CSF :-



١٣ المعادله المنطقية :-

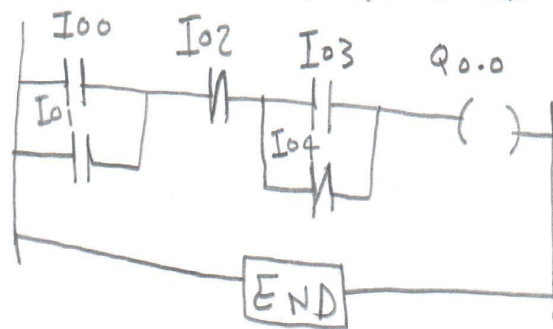
$$Q_{00} = \left\{ \left[(I_{02} \cdot I_{03}) + (I_{05} \cdot I_{06}) \right] \cdot I_{04} \right\} + (I_{07} \cdot I_{10}) \cdot I_{01}$$

مثال ٣١- حول المخطط الصندوقي إلى (المعادلة المنطقية - STL-LAD) . ١٧



الحل

$$Q_{00} = (I_{00} + I_{01}) \cdot (I_{03} + \overline{I_{04}}) \cdot \overline{I_{02}}$$



LAD

قائمة التعليمات STL :-

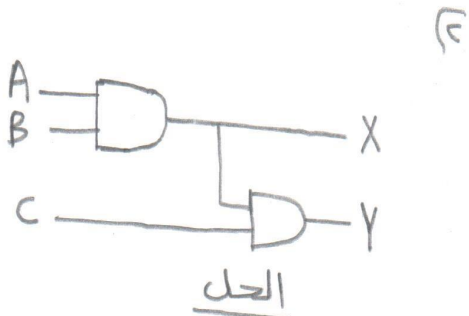
```
(
o I00
o I01
)
AN I02
(
o I03
ON I04
)
= Q00
```

Very good

٢٠١٥/٥/٢٠ محمد عبد البديع السماعيل

أسألکم الدعاء لی بالتوفیق والنجاح دائماً

مثال ٤ حول الدائرة المنطقية إلى (المعادله المنطقية - STL - LAD)

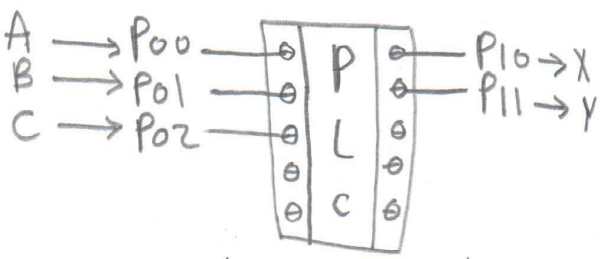


المعادله المنطقية :-

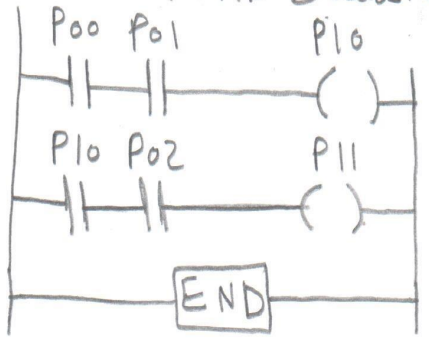
$$X = A \cdot B$$

$$Y = (A \cdot B) \cdot C$$

* تخصيص المداخل والمخارج :-



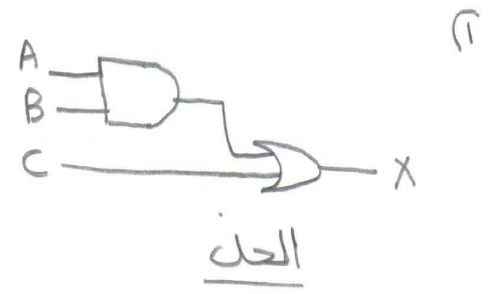
المخطط السلوي LAD :-



قائمة التعليمات STL :-

A P00
 A P01
 = P10
 A P10
 A P02
 = P11
 BE

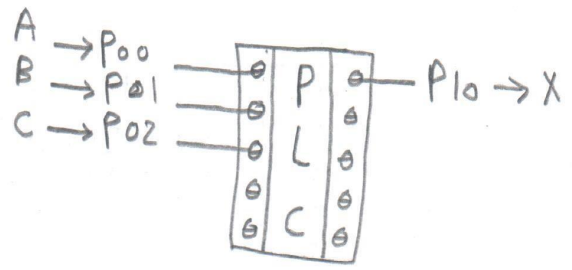
Very good



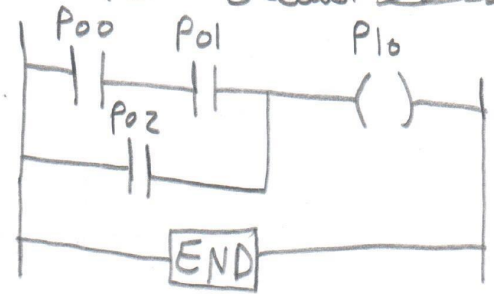
المعادله المنطقية :-

$$X = (A \cdot B) + C$$

* تخصيص المداخل والمخارج :-



المخطط السلوي LAD :-



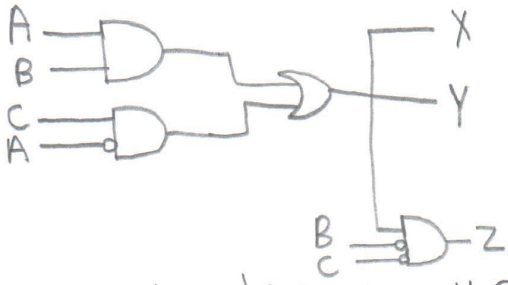
قائمة التعليمات STL :-

A P00
 A P01
 O P02
 = P10
 BE

Very good

19

(E)

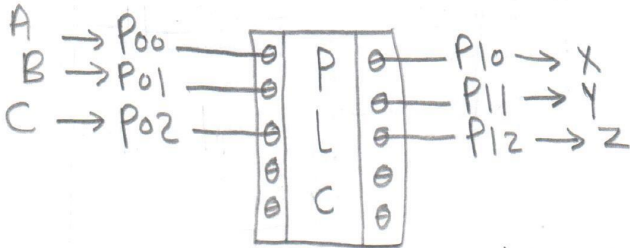


(A) المعادلة المنطقية :-

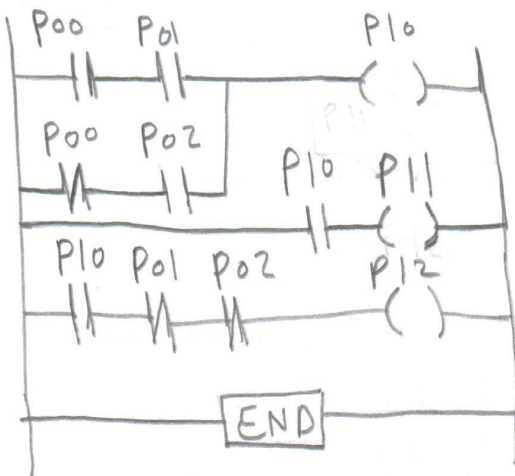
$$X = Y = (A \cdot B) + (\bar{A} \cdot C)$$

$$Z = X \cdot \bar{B} \cdot \bar{C}$$

* تخصيص المدخل والمخرج :-



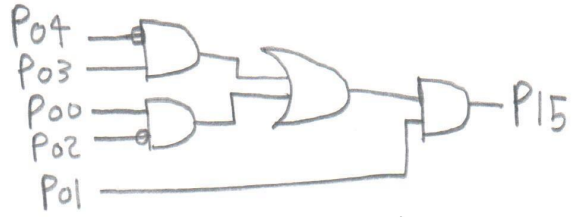
(B) المخطط السلتي LAD :-



(C) قائمة التعليمات STL :-

A	P00	A	P10
A	P01	=	P11
O	(A	P10
AN	P00	AN	P01
A	P02	AN	P02
)		=	P12
=	P10	BE	

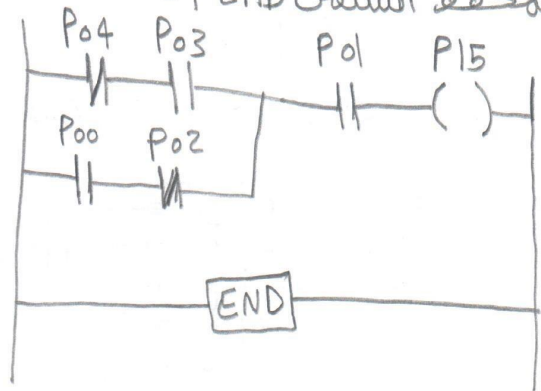
(W)



(A) المعادلة المنطقية :-

$$P15 = [(P04 \cdot P03) + (P00 \cdot P02)] \cdot P01$$

(B) المخطط السلتي LAD :-



(C) قائمة التعليمات STL :-

AN	P04
A	P03
O	(
A	P00
AN	P02
)	
A	P01
=	P15
BE	

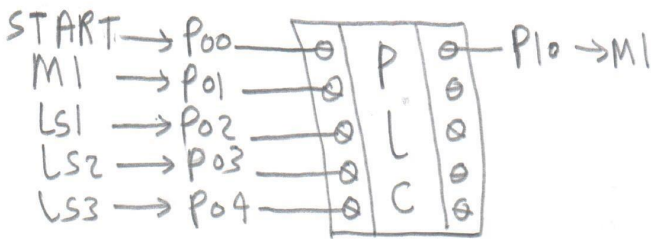
Very good

مثال حول المعادلات المنطقية الآتية إلى مخطط سلمى LAD مع رسم الدائرة المنطقية.

$$M2 = (START + M1) \cdot \overline{(LS1 + LS2 + LS3)}$$

الحل

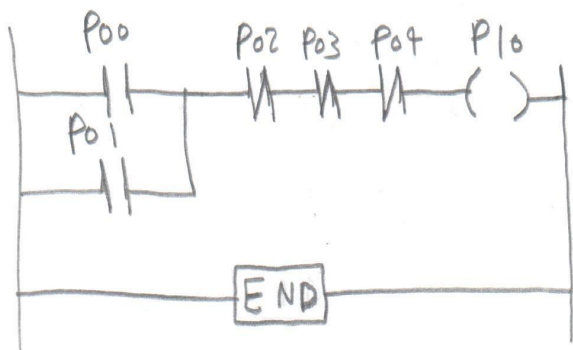
* تخصيص المدخل والمخرج ! -



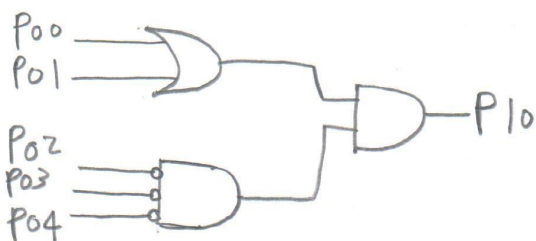
$$P10 = (P00 + P01) \cdot \overline{(P02 + P03 + P04)}$$

$$P10 = (P00 + P01) \cdot (\overline{P02} \cdot \overline{P03} \cdot \overline{P04})$$

المخطط السلمى LAD ! -



الدائرة المنطقية ! -

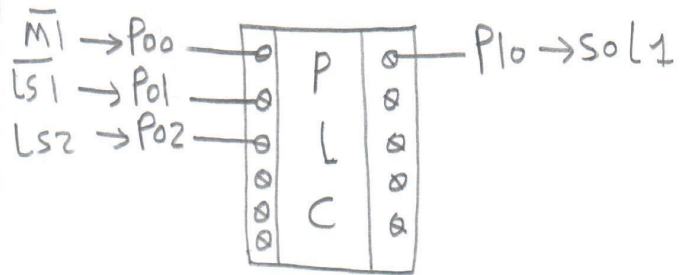


Very good

$$sol1 = \overline{M1} \cdot \overline{LS1} \cdot LS2$$

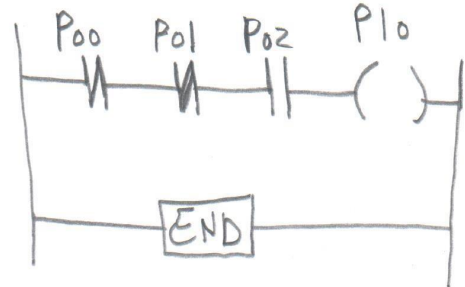
الحل

* تخصيص المدخل والمخرج ! -

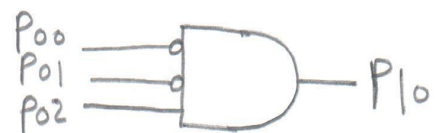


$$P10 = \overline{P00} \cdot \overline{P01} \cdot P02$$

المخطط السلمى LAD ! -



الدائرة المنطقية ! -



Very good

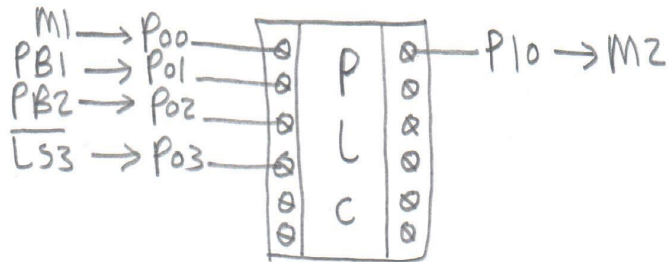
51

$$M2 = \{ M1 + (PB1 \cdot PB2) \} \overline{LS3}$$

(3)

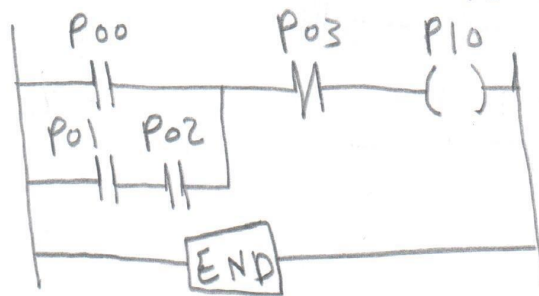
الحل

* تحديد المدخل والمخرج :-

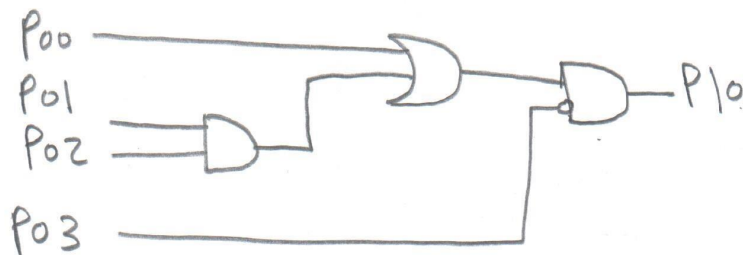


$$P10 = \{ P00 + (P01 \cdot P02) \} \overline{P03}$$

خط السلك LAD :-



الدائرة المنطقية :-



Very good

م/محمد عبد البديع إسماعيل
العباسه - أبو حماد - شرقية

مثال 7 حول جدول الحقيقة التالي إلى مخطط سلم LAD مع الدائرة المنطقية.

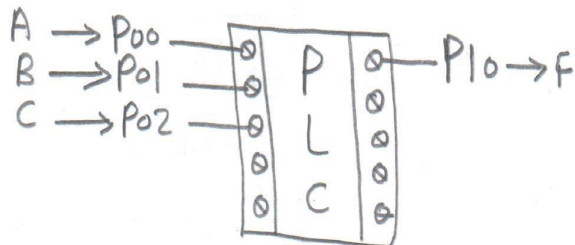
٢٢٩

A	B	C	F
0	0	0	0
0	0	1	1*
0	1	0	0
0	1	1	1*
1	0	0	0
1	0	1	0
1	1	0	1*
1	1	1	0

الحل

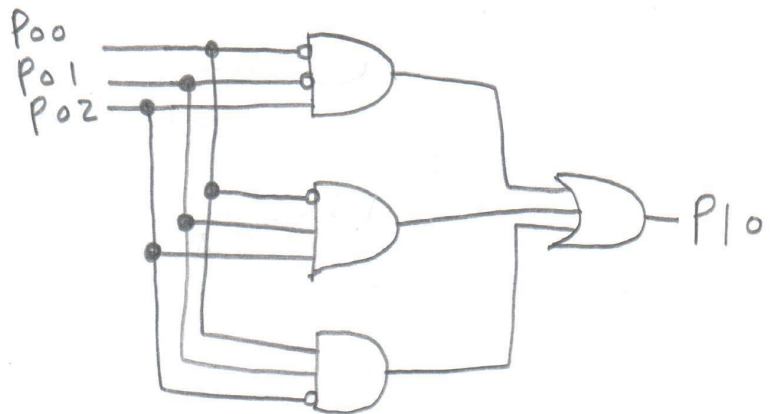
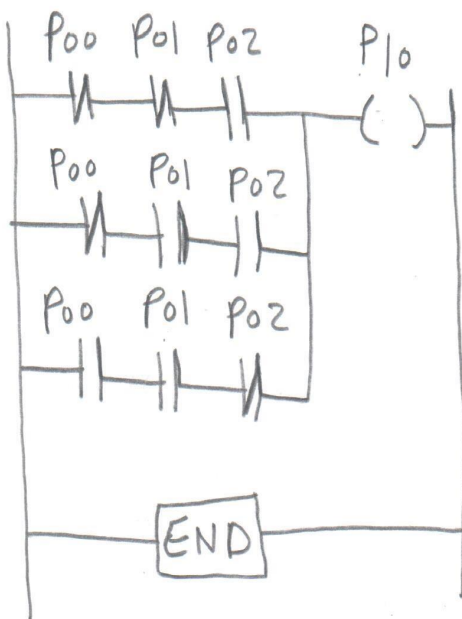
$$F = \bar{A}\bar{B}C + \bar{A}BC + A\bar{B}\bar{C}$$

* تخصيص المداخل والمخارج :-



$$P10 = \bar{P00} \cdot \bar{P01} \cdot P02 + \bar{P00} \cdot P01 \cdot P02 + P00 \cdot P01 \cdot \bar{P02}$$

LAD



Very good

مثال ٧ برنامج يوايه NoR بطريقتين مختلفتين باستخدام البرنامج السلعي LAD

53P

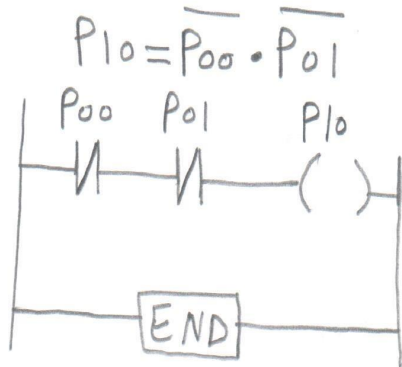
الحل



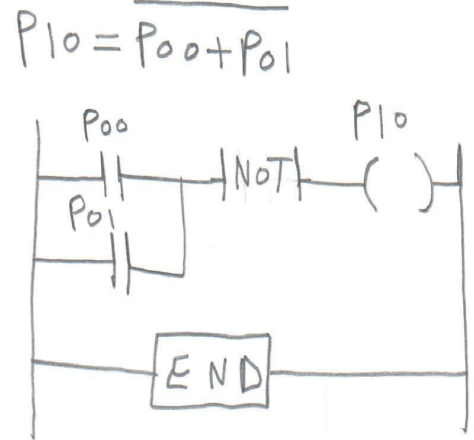
$$P10 = P00 + P01$$

$$P10 = \overline{P00} \cdot \overline{P01}$$

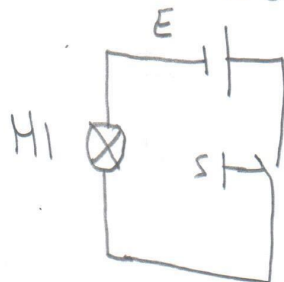
* الطريقة الثانية



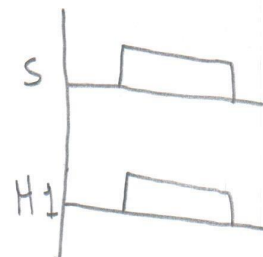
* الطريقة الأولى



سؤال ٩ الموضع أمامك المخطط الزمني للدائرة الكهربائية المجاورة، برمج هذه الدائرة باستخدام البرنامج السلعي LAD.



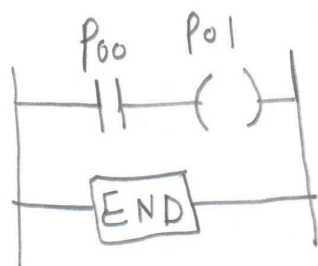
الدائرة الكهربائية



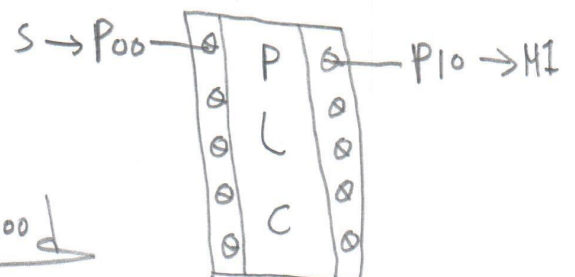
المخطط الزمني

الحل

* المخطط السلعي LAD

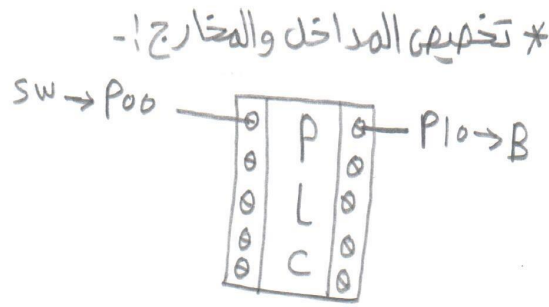
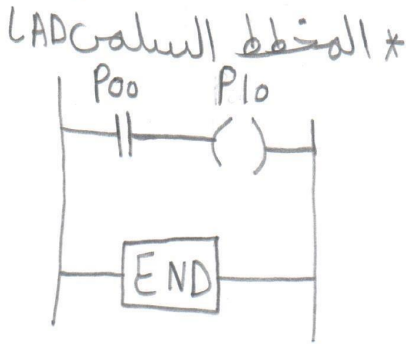


* تعيين المداخل والمخارج؛ -

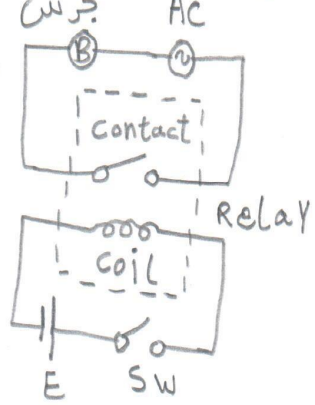


very good

مثال ٣ الموضح أمامك دائرة كهربيه لتشغيل جرس B برمج B برمج هذه الدائرة باستخدام



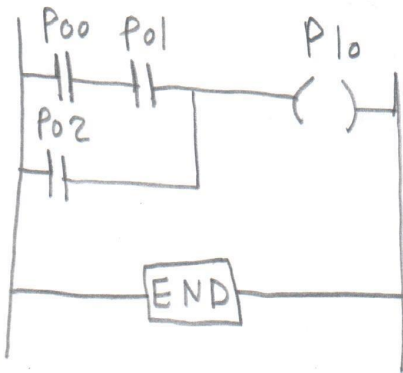
البرنامج السلعي LAD -



مثال ٤ أكتب برنامج التحكم LAD لتنفيذ الآتي :-

الخروج D يكون ON عند (غلق مفتاح الدخل A ومفتاح الدخل B) أو عند غلق مفتاح الدخل C.

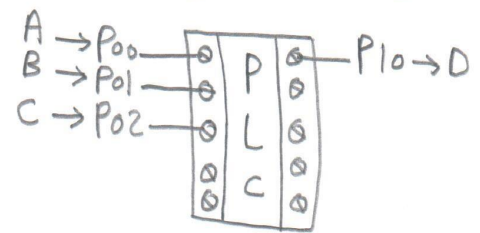
* المخطط السلعي LAD :-



الحل

$$D = (A \cdot B) + C$$

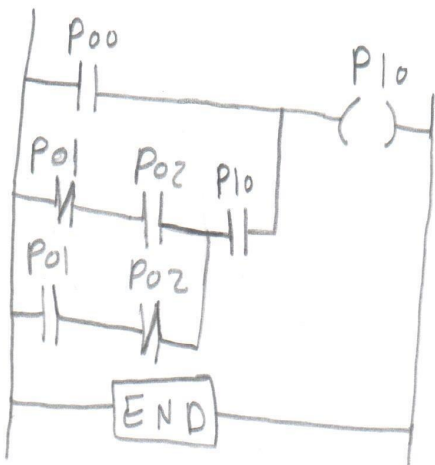
* تخصيص المدخل والمخرج :-



مثال ٥ أكتب برنامج التحكم LAD لتنفيذ الآتي :-

الخروج D يكون ON عند غلق مفتاح الدخل A أو (إما غلق مفتاح الدخل B أو غلق مفتاح الدخل C).

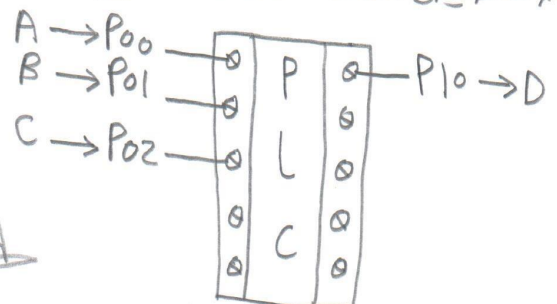
* المخطط السلعي LAD :-



الحل

$$D = A + (B \oplus C)$$

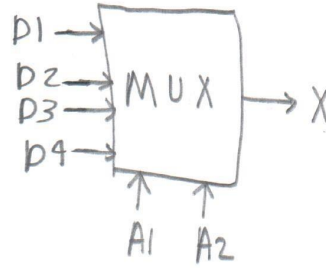
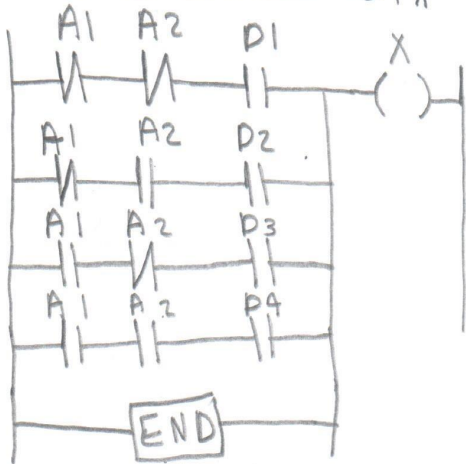
* تخصيص المدخل والمخرج :-



very good

مثال 6 أكتب LAD لتحقيق دائرة المتخيز MUX ذات المدخل الأربعة. ص ٢٩

* المخطط السلبي LAD

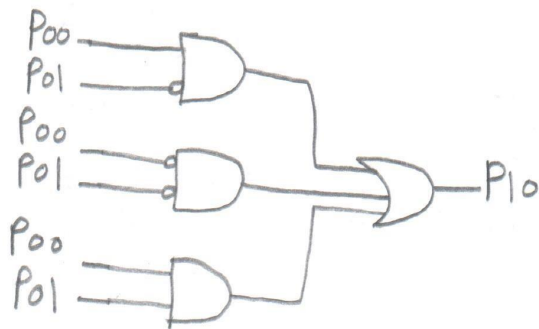


A1	A2	X
0	0	D1
0	1	D2
1	0	D3
1	1	D4

مثال 7 إذا كان لديك مفاتيح وللمبة أكتب LAD لتحقيق هذه الدائرة مع رقم الدائرة المنطقيه و كتابة المعادله المنطقيه التي تحقق الشروط التاليه :-
 1 إضاءة اللمبة من P1 و إطفائها من P2
 2 تبقى اللمبة على حالتها إذا كان المفاتيح في حالة OFF
 3 تتحول اللمبة إلى OFF إذا كان المفاتيح في حالة ON

الحل

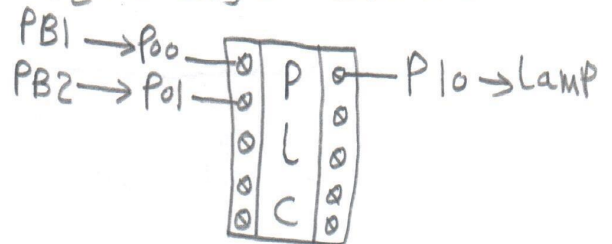
* الدائرة المنطقيه :-



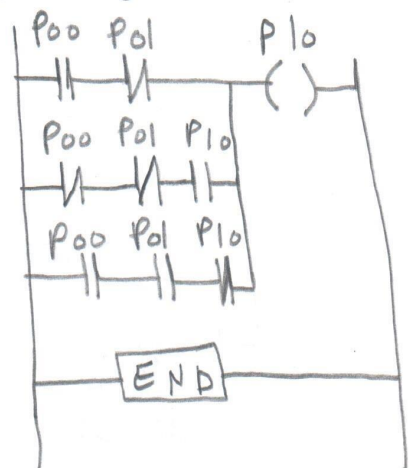
$$P_{10} = P_{00} \cdot \overline{P_{01}} + \overline{P_{00}} \cdot P_{01} + P_{00} \cdot P_{01}$$

Very good

* تخطيطي المدخل والمخرج :-



* المخطط السلبي LAD :-



مثال ٨ لديك لمبة وثلاثة مفاتيح المطلوب :-

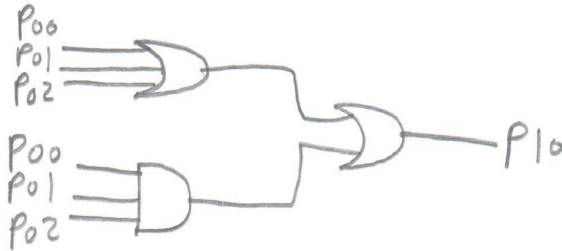
أ) زيادة اللمبة من أى مفتاح .

ب) زيادة اللمبة من جميع المفاتيح .

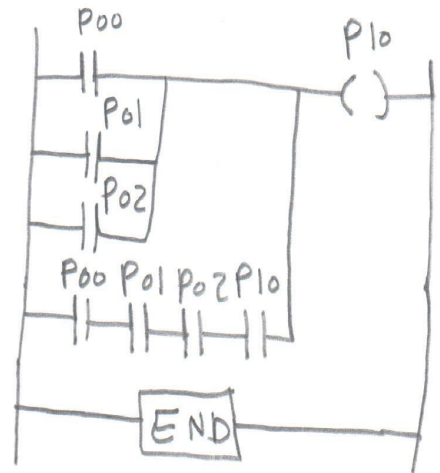
* اكتب LAD لتحقيق هذه الدائرة مع رسم الدائرة المنطقية .

الحل

* المخطط السلعي LAD :-



$$P10 = (P00 + P01 + P02) + (P00 \cdot P01 \cdot P02)$$



مثال ٩ لديك ثلاث لمبات ومفتاحان المطلوب :-

أ) تشغيل Lamp 1 عندما يكون المفتاحان في حالة فصل OFF .

ب) تشغيل Lamp 2 عندما يكون المفتاحان في حالة توصيل ON .

ج) تشغيل Lamp 3 عندما يكون أحد المفتاحان في حالة ON .

* اكتب LAD لتحقيق هذه الدائرة مع رسم الدائرة المنطقية .

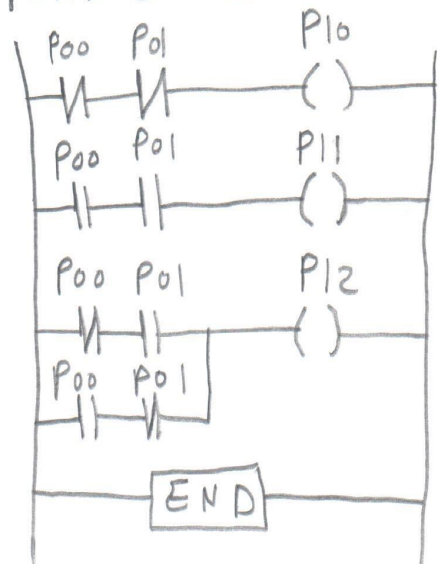
الحل

* الدائرة المنطقية



VERY GOOD

* المخطط السلعي LAD :-

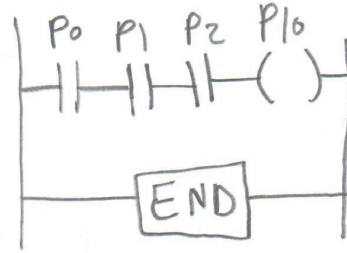


مثال 10 أكتب برنامج التحكم LAD لتحقيق نظام أمان للسائق يعمل بالشروط الآتية: - 1- تعمل السيارة P10 إذا كان باب السائق P0 مغلق تماماً وحزام الأمان P1 مثبت جيداً ومفتاح الإشعال P2 في حالة ON - 2- تتوقف السيارة عن العمل إذا لم يطبق أى شرط من الشروط الثلاثة السابقة.

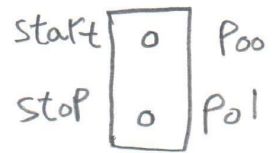
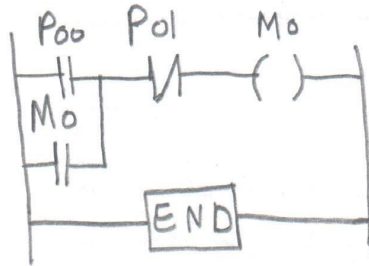
الحل

$$P10 = P0 \cdot P1 \cdot P2$$

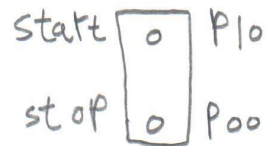
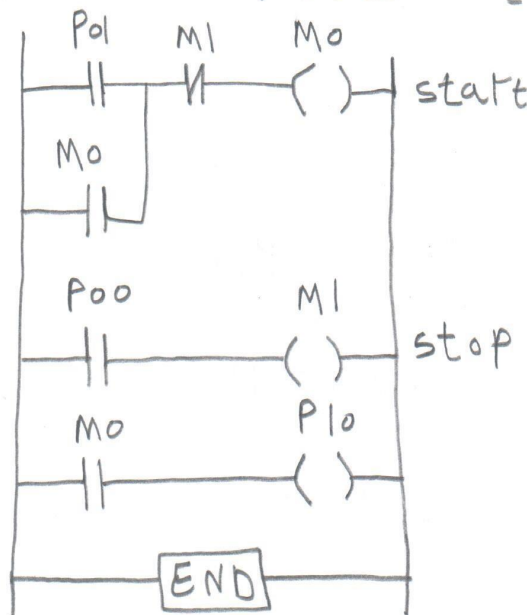
* المخطط السلطي LAD



مثال 11 كيف يمكنك تصميم مفتاح start/stop = ON/OFF باستخدام تلامسات No و NC.



مثال 12 كيف يمكنك تصميم مفتاح start/stop = ON/OFF باستخدام تلامسات No فقط



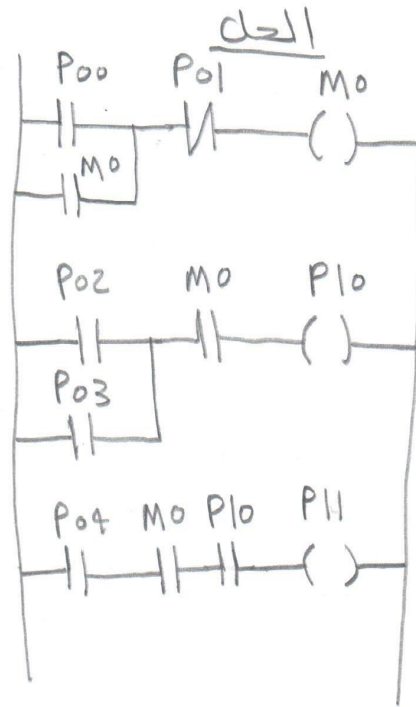
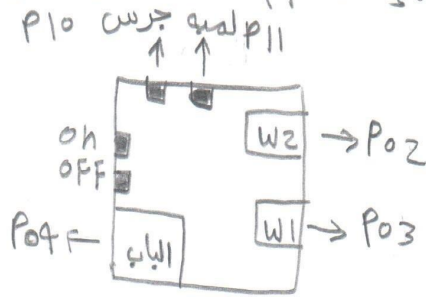
Very good

مثال ١٣ الشكل التالي يوضح نظام إنذار صوتي وفوتئي ضد السرقة للمكان به ١١

٢١

الشبكة ١ W2 الشبكة 2 D6 الباب.
* مهم نظام PLC لتحقيق الشروط الآتية:-

٢ عند حدوث سرقة (إقحام) من أى شبكة يتم إصدار صوت عن طريق جرس.
٣ عند حدوث سرقة (إقحام) من الباب يتم إصدار صوت وإضاءة عن طريق جرس
ولمبة بيان.



م / محمد عبد البديع إسماعيل
العباسه - أبو حماد - شريقيه
١٠٧٥٥٧٦٥٣٧٥١٠

Very good

م/محمد عبد البديع إسماعيل

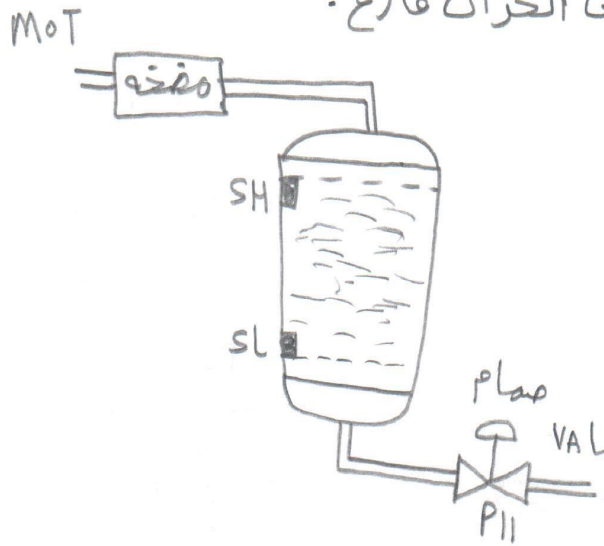

سؤال ٤١ الشكل يبين خزان يملئ بماتور ضخ P10 ويفرغ بواسطة صمام P11 وصفت حساسات SL و SH داخل الخزان لبيان منسوب السائل أكتب برنامج التحكم LAD (ملاحظات)

SA

١ الحساسات من النوع NC

٢ الحساس يتحول إلى ON عندما يفرغ تمام في السائل

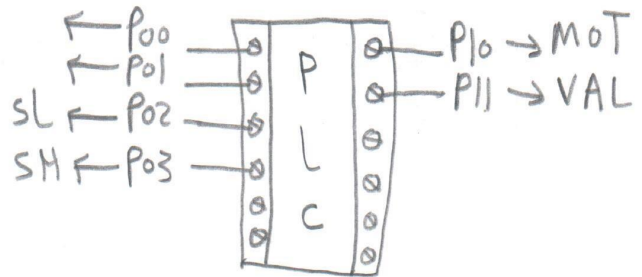
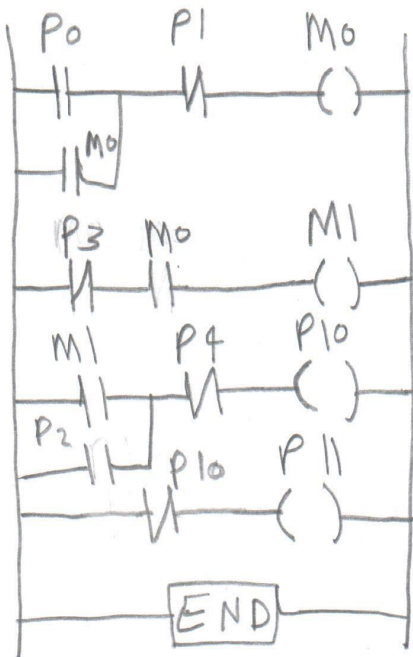
٣ الوضع الابتدائي الخزان فارغ



الحل

* المخطط السلبي LAD :-

* تخصيص المدخل والمخرج :-



* الإستنتاج

١ مفتاح start/stop

٢ شرط تشغيل أن يكون -

* المفتاح start في حالة ON توصيل

* P3 في حالة OFF أي الخزان قاضي

٣ تشغيل الموتور بشرط أن يكون -

* M1 الخرج السابق في حالة ON توصيل

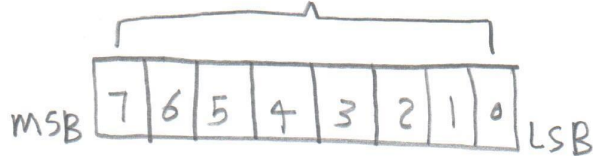
* P2 مستوى المياه منخفض

٤ بعد فصل الموتور P10 يستغل الصمام P11

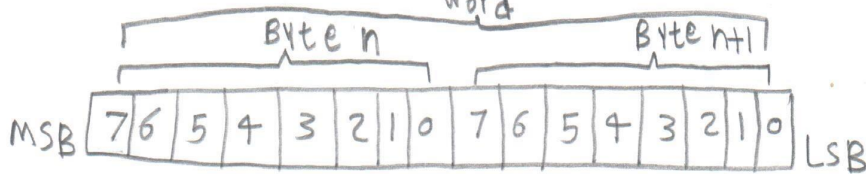
Very good

الأنظمة العددية

- ١ البت bit! - هو خانة ثنائيته واحدة أما أن تكون 0 أو 1.
- ٢ البايت Byte! - هو عبارة عن ٨ خانات ثنائيته أي يساوي 8 bit.



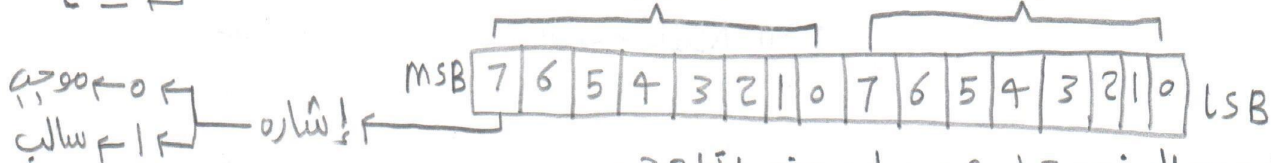
- ٣ الكلمة Word! - هي عبارة عن 16 bit أي تساوي 2 Byte.



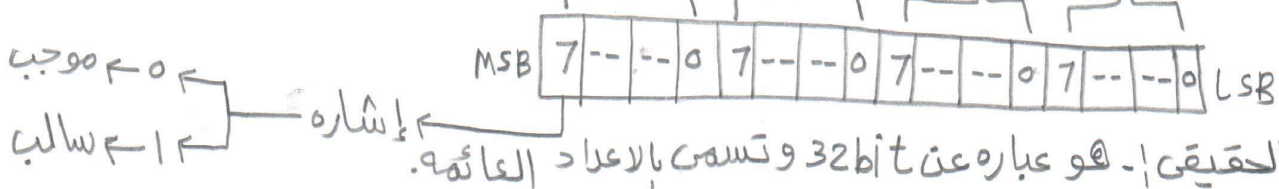
- ٤ الكلمة المزدوج Double Word! - هي عبارة عن 32 bit أي تساوي 4 Byte.



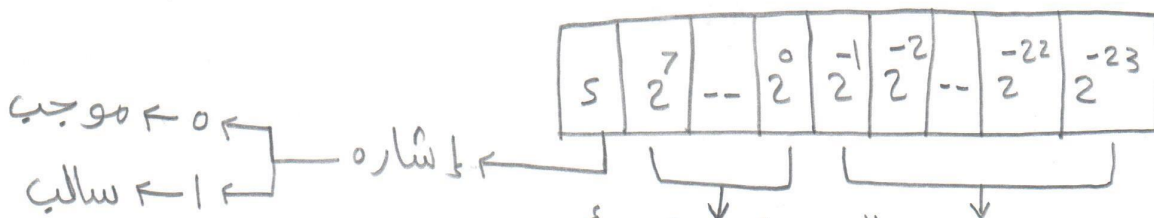
- ٥ العدد الصحيح! - هو عبارة عن 16 bit وهو عبارة عن اعداد لها إشارة في المدى (-32768 : 32768). $2^{15} = 32768$



- ٦ العدد الصحيح المزدوج! - هو عبارة عن 32 bit.



- ٧ العدد الحقيقي! - هو عبارة عن 32 bit وتسمى بالاعداد العائمة.



العدد الحقيقي = $1.F \cdot 2^{e-127}$

* أوامر الإزاحة

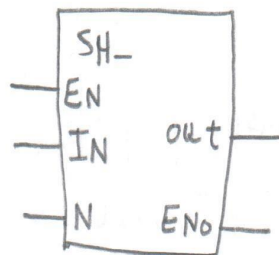
* وظائف الإزاحة

- * تستخدم الإزاحة في إزاحة البيانات الثنائية إلى اليمين أو إلى اليسار.
- * ويمكن من خلال أجهزة PLD الحصول على وظائف الإزاحة التالية:
 - ١) إزاحة كلمة أو كلمة مزدوجة لليسار.
 - ٢) إزاحة كلمة أو كلمة مزدوجة لليمين.
 - ٣) إزاحة عدد صحيح أو عدد صحيح مزدوج لليمين.

* أنواع الإزاحة

- ١) إزاحة كلمة لليسار SH LW
- ٢) إزاحة كلمة مزدوجة لليسار SH LDW
- ٣) إزاحة كلمة لليمين SH RW
- ٤) إزاحة كلمة مزدوجة لليمين SH RDW
- ٥) إزاحة عدد صحيح لليمين SH RI
- ٦) إزاحة عدد صحيح مزدوج لليمين SH RDI

* معاملات الإزاحة



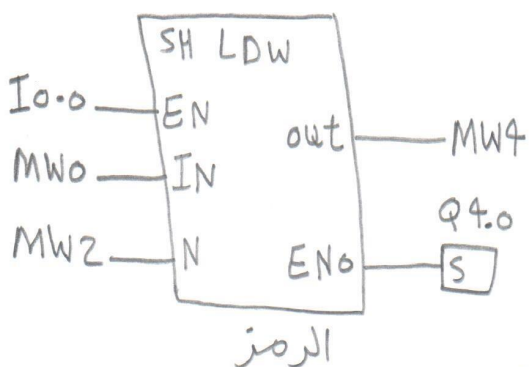
الرمز العام إلى الإزاحة

- * EN ← تمكين الدخل.
- * IN ← القيمة المراد إزاحتها.
- * N ← عدد مرات الإزاحة.
- * out ← ناتج عملية الإزاحة.
- * ENo ← تمكين الخرج.

Very good

٢٤ إزاحة كلمة مزدوجة لليسار SH LDW

MC P



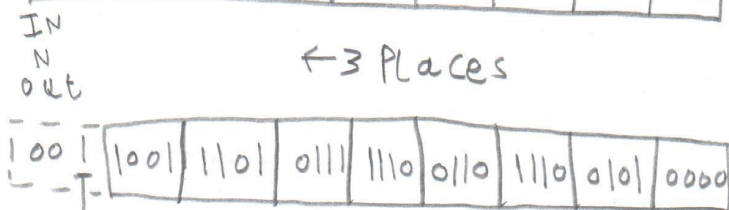
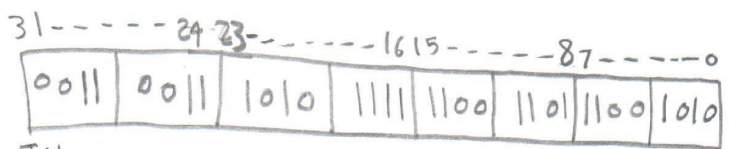
* الشرح

١ يتم تمكين أمر الإزاحة عند تغير حالة I0.0 من 0 إلى 1.

٢ حيث يتم إزاحة كلمة الذاكرة المزدوجة MW0 لليسار حسب العدد N المعطى بكلمة الذاكرة MW2.

٣ يتم الحصول على النتيجة النهائية في كلمة الذاكرة المزدوجة MW4 ويتم ضبط المخرج Q4.0 حسب آخر بت تمت إزاحته.

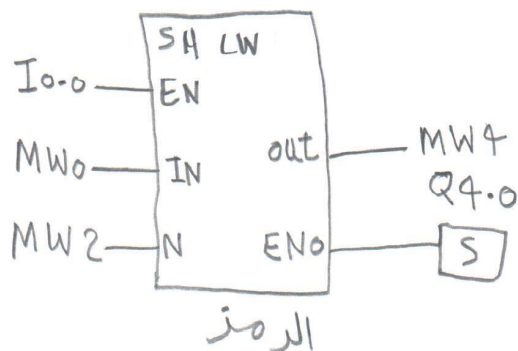
* كيف تتم الإزاحة



ENO
آخر بت تمت
إزاحته

Very good

٢٥ إزاحة كلمة لليسار SH LW



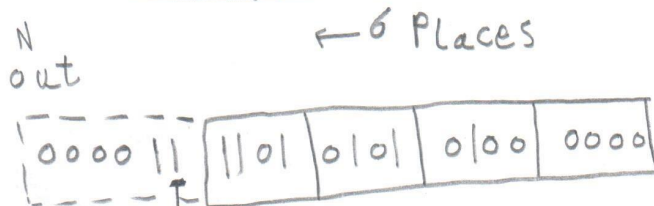
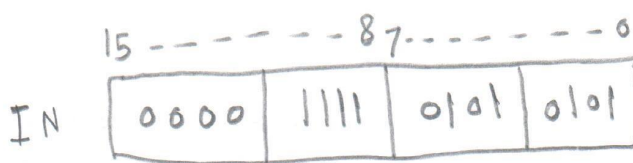
* الشرح

١ يتم تمكين أمر الإزاحة عند تغير حالة I0.0 من 0 إلى 1.

٢ حيث يتم إزاحة كلمة الذاكرة MW0 لليسار حسب العدد N المعطى بكلمة الذاكرة MW2.

٣ يتم الحصول على النتيجة النهائية في كلمة الذاكرة MW4 ويتم ضبط المخرج Q4.0 حسب آخر بت تمت إزاحته.

* كيف تتم الإزاحة

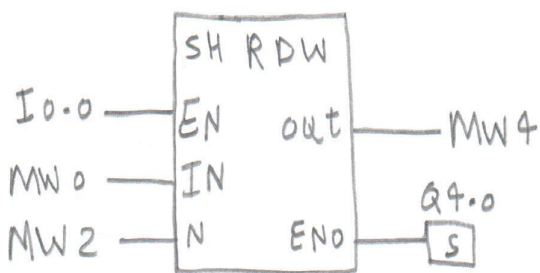


ENO
آخر بت تمت
إزاحته

Very good

٤) إزاحة كلمة مزدوجة لليمين SH RDW

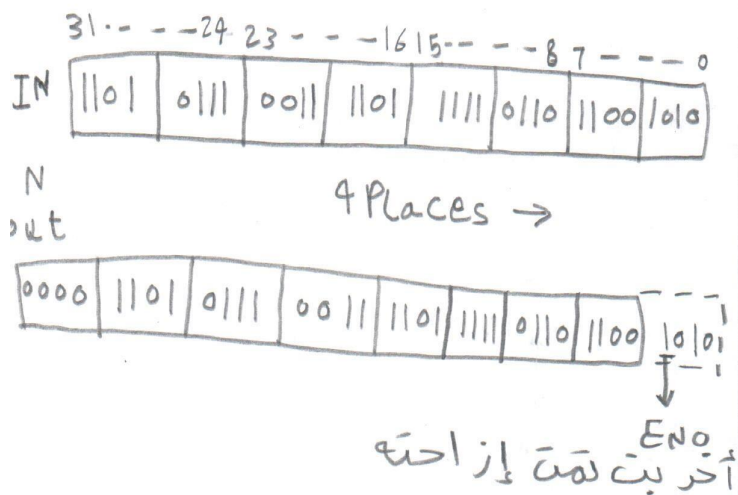
٣٣



★ الشرح

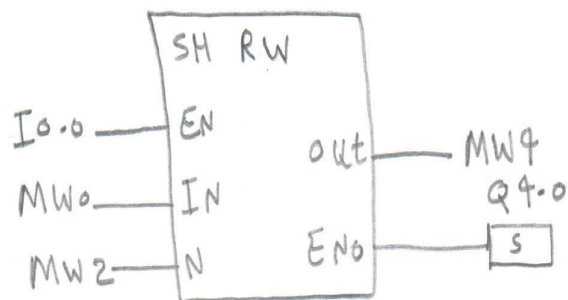
١) يتم تمكين أمر الإزاحة عند تغير حالة I0.0 من 0 إلى 1.
 ٢) حيث يتم إزاحة كلمة الذاكرة المزدوجة MW0 لليمين حسب العدد N المعطى بكلمة الذاكرة MW2.
 ٣) يتم الحصول على النتيجة النهائية في كلمة الذاكرة المزدوجة MW4 ويتم ضبط المخرج Q4.0 حسب آخر بت تمت إزاحته.

★ كيف تتم الإزاحة



Very good

٣) إزاحة كلمة لليمين SH RW

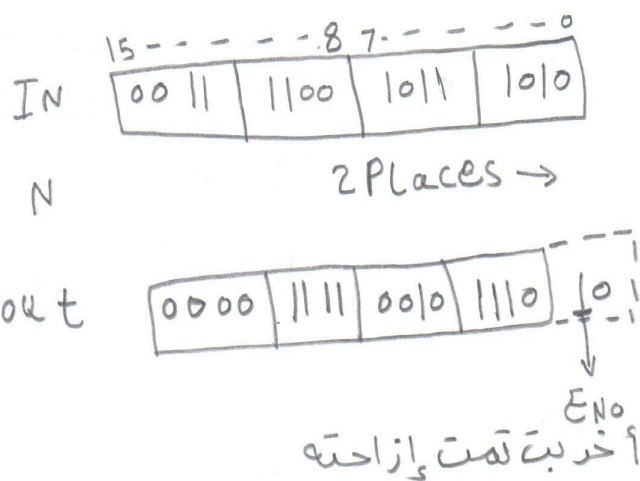


الرمز

★ الشرح

١) يتم تمكين أمر الإزاحة عند تغير حالة I0.0 من 0 إلى 1.
 ٢) حيث يتم إزاحة كلمة الذاكرة MW0 لليمين حسب العدد N المعطى بكلمة الذاكرة MW2.
 ٣) يتم الحصول على النتيجة النهائية في كلمة الذاكرة MW4 ويتم ضبط المخرج Q4.0 حسب آخر بت تمت إزاحته.

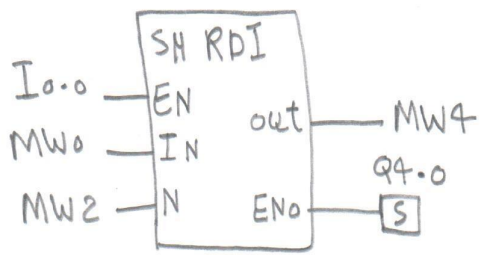
★ كيف تتم الإزاحة



Very good

٦ إزاحة عدد صحيح مزدوج لليمين SH RDI

٣٤٠



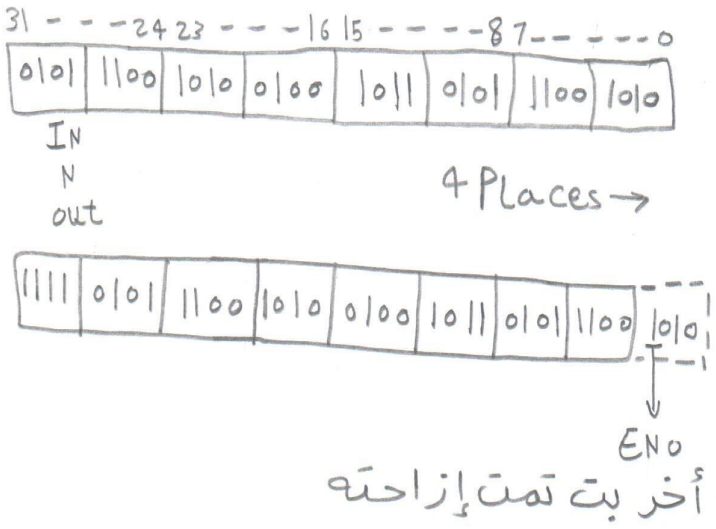
★ الشرح

١ يتم تمكين أمر الإزاحة عند تغير حالة I0.0 من 0 إلى 1.

٢ حيث يتم إزاحة العدد الصحيح المزدوج MW0 لليمين حسب العدد N المعطى بكلمة الذاكرة MW2.

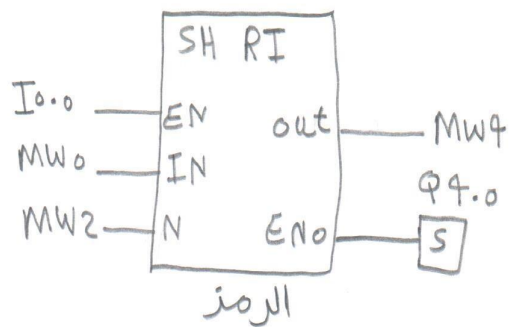
٣ يتم الحصول على النتيجة النهائية للعدد الصحيح المزدوج MW4 ويتم ضبط المخرج Q4.0 حسب آخر بت تمت إزاحته.

★ كيف تتم الإزاحة



Very good

٦ إزاحة عدد صحيح لليمين SH RI



الرمز

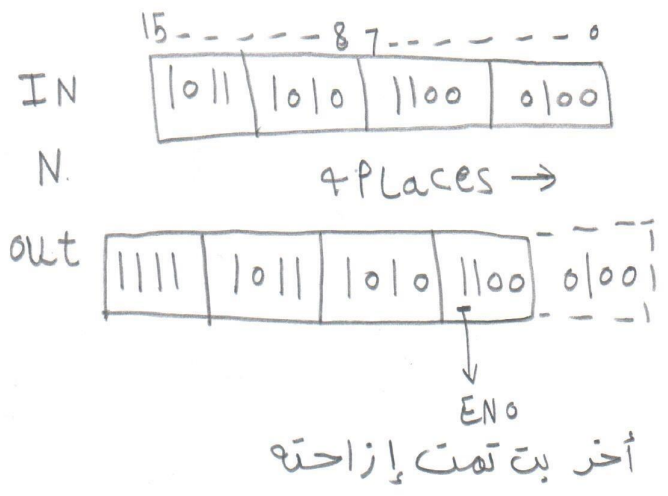
★ الشرح

١ يتم تمكين أمر الإزاحة عند تغير حالة I0.0 من 0 إلى 1.

٢ حيث يتم إزاحة العدد الصحيح MW0 لليمين حسب العدد N المعطى بكلمة الذاكرة MW2.

٣ يتم الحصول على النتيجة النهائية للعدد الصحيح في MW4 ويتم ضبط المخرج Q4.0 حسب آخر بت تمت إزاحته.

★ كيف تتم الإزاحة



Very good

*** أوامر المقارنة**

* توفر أجهزة PLC التي من خلالها نستطيع مقارنة أعداد صحيحة وحقيقية.

*** عمليات المقارنة**

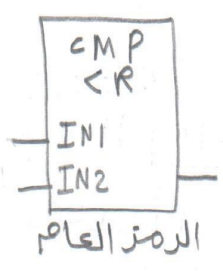
*** أنواع المقارنة**

- ١) مقارنة عددين صحيحين I
- ٢) مقارنة عددين صحيحين مزدوجين D
- ٣) مقارنة عددين حقيقيين R

التوع	العملية
يساوي بعض	= =
لا يساوي بعض	< >
أكبر من	$IN_1 > IN_2$
أقل من	<
أكبر من أو يساوي	\geq
أقل من أو يساوي	\leq


Very good

٣) مقارنة عددين حقيقيين R



الرمز العام

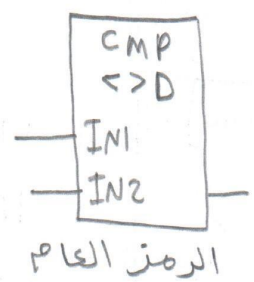
مثال



* يكون المخرج Q4.0 على الوضع 1 في حالة!
 ١) محتويات MW0 تكون أقل من محتويات MW2
 ٢) I0.0 على الوضع 1

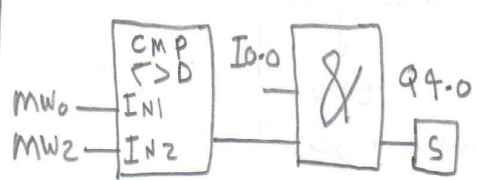
Very good

٢) مقارنة عددين صحيحين مزدوجين D



الرمز العام

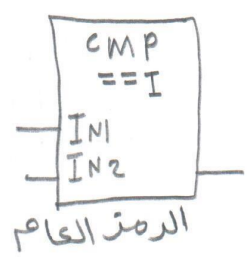
مثال



* يكون المخرج Q4.0 على الوضع 1 في حالة!
 ١) محتويات MW0 لا تساوي محتويات MW2
 ٢) I0.0 على الوضع 1


Very good

١) مقارنة عددين صحيحين I



الرمز العام

مثال



* يكون المخرج Q4.0 على الوضع 1 في حالة!
 ١) محتويات MW0 مساوية لمحتويات MW2
 ٢) I0.0 على الوضع 1

Very good

*** أوامر القفز**

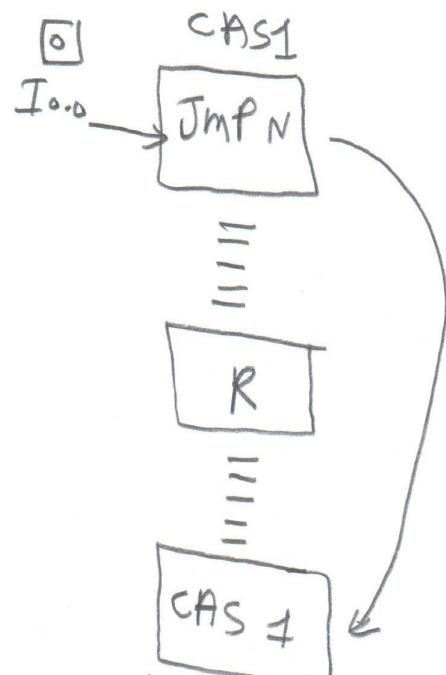
* تستخدم أوامر القفز في التحكم في سير البرنامج.

* عنوان أو علامة القفز وله الرمز LABEL ويجب أن لا يزيد عن أربع خانات بشرط أن تكون أول خانة حرف مثل CAS1.

*** أنواع القفز**

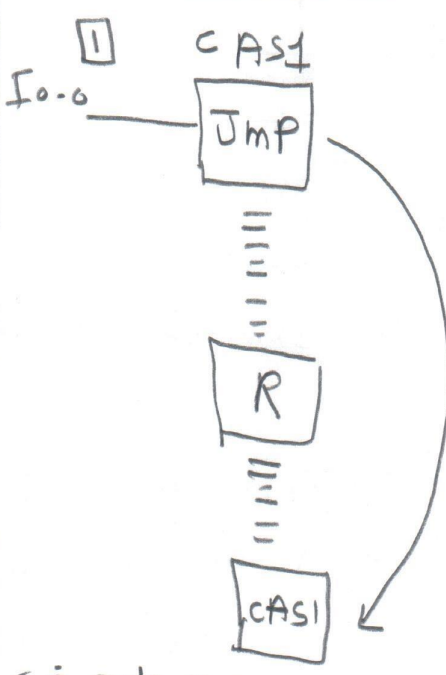
- ١ القفز الغير مشروط.
- ٢ القفز المشروط.
- ٣ القفز ذو الشرط المنفي.

٣ القفز ذو الشرط المنفي



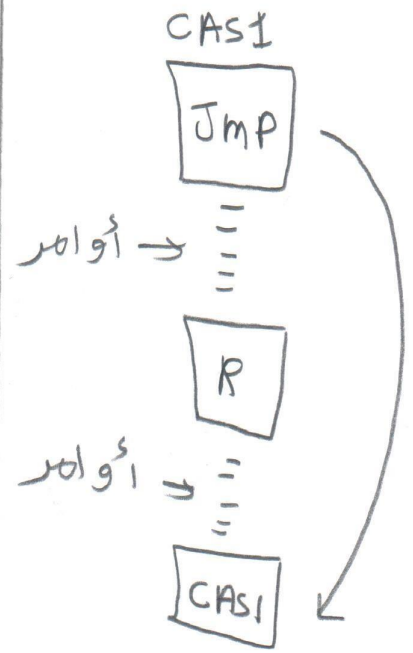
١ أثناء تنفيذ البرنامج في جهاز P إذا كان I0.0 ٥ يتم تنفيذ أمر القفز Jmp ولا يتم تنفيذ الأوامر التي في النصف
 ٢ إذا كان I0.0 ٥ فلا يقوم البرنامج بتنفيذ أمر القفز.

٢ القفز المشروط



١ أثناء تنفيذ البرنامج في جهاز P إذا كان I0.0 ٥ يتم تنفيذ أمر القفز Jmp ولا يتم تنفيذ الأوامر التي في النصف.
 ٢ إذا كان I0.0 ٥ فلا يقوم البرنامج بتنفيذ أمر القفز.

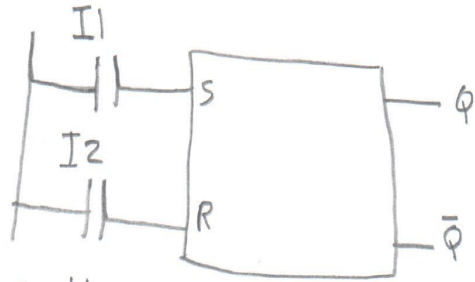
١ القفز الغير مشروط



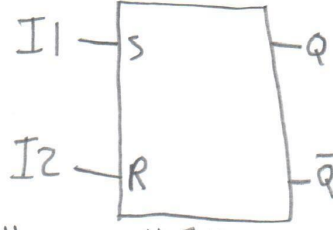
١ أثناء تنفيذ البرنامج في جهاز P إذا كان I0.0 ٥ يتم تنفيذ أمر القفز Jmp ولا يتم تنفيذ الأوامر التي في النصف.
 ٢ إذا كان I0.0 ٥ فلا يقوم البرنامج بتنفيذ أمر القفز.

3/1

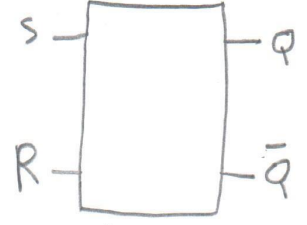
*** برمجة دوال التوحيد والتفجير set/Reset**



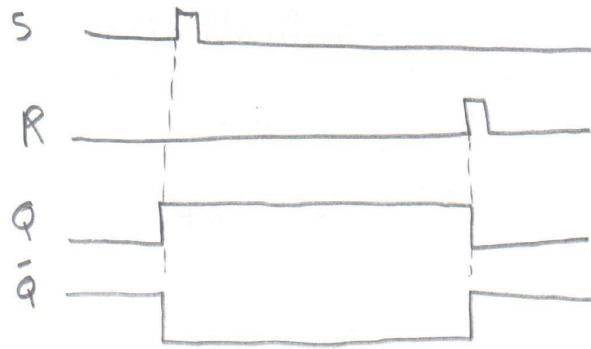
رمز دالة التوحيد والتفجير SR
بـطريقة LAD



رمز دالة التوحيد والتفجير SR
بـطريقة CSF



رمز دالة التوحيد
والتفجير SR



الشكل يوضح نبضات الدخل والخرج لدالة التوحيد والتفجير SR

*** الشرح**

- * عندما تكون $S=1$ و $R=0$ يكون الخرج $Q=1$ ويظل ثابت على القيمة 1 حتى تتغير R من 0 إلى 1 وفي هذه الحالة تتغير Q من 1 إلى 0.
- * ويكون الخرج \bar{Q} عكس الخرج Q.

*** الاستنتاج**


- * يمكن باستخدام إشارة دخل صغيرة جداً في زمنها يمكننا جعل الخرج أو مكان معين في الذاكرة في حالة 0N لفترة طويلة حتى تأتيه إشارة $R=1$.

Very good

★ برمجة المؤقتات

★ تعريف المؤقت الزمني Timer


- * هو عبارة عن جهاز (عنصر) يطبق عليه دخل ويؤخذ منه خرج ويحدث بين الدخل والخرج تأخير زمني و يرمز له برمز T.
- * وفي أجهزة PLC تعد المؤقتات الزمن حتى تصل إلى زمن التأخير المطلوب وعندها يثبت الخرج.



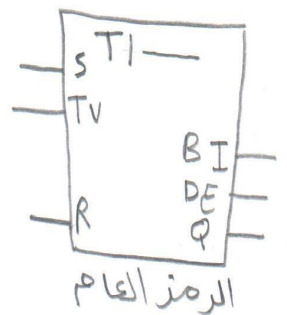
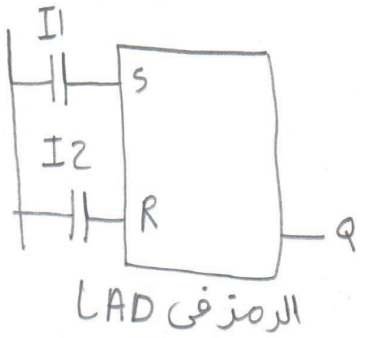
★ الاستخدامات المؤقتات

- ١) تستخدم في برامج إشارات المرور.
- ٢) تستخدم في العمليات الصناعية مثل (عمليات اللحام وعمليات الدهان ومعالجات الحرارة).
- ٣) تستخدم في التحكم في أكثر من عملية في نفس الوقت.
- ٤) تستخدم في تحديد الزمن بين كل عملية وأخرى مثل ضبط الزمن لإيقاف أو بدء عمل المحرك.

★ المؤقت الأساسي في أبسط صورته



نبضات الدخل والخرج المؤقت بصفه عامه



★ الشرح

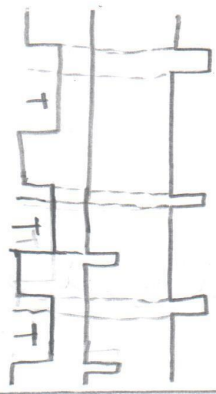
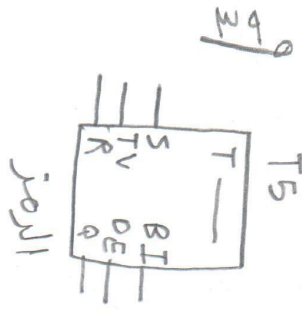
* عندما يكون S=1 يكون الخرج Q=1 ونظرا ثابت حتى تتغير S من 1 إلى 0 أو تتغير R من 0 إلى 1.

Very good

★ المعاملات

- S ← الدخل.
- R ← التصفيد.
- TV ← القدره الزمنية المحدده سابقا.
- TI ← رقمه المؤقت.
- Q ← الخرج.
- DE ← زمن الوقت بالعشري.
- BI ← زمن المؤقت بالثنائي.

ج) مؤقت الإلغاء المتأخر

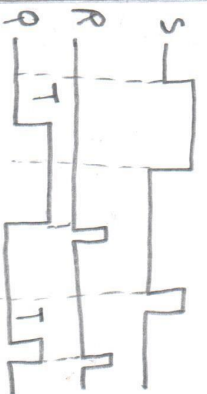
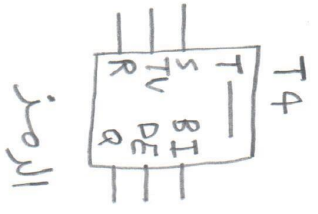


★ الشرح

* يتم الحصول على الخرج في نفس اللحظة التي تكون فيها $S=1$ و $R=0$.
 * ونظك الخرج يساوي 1 بعد إيقاف إشارة S بفترة زمنية محددة مسبقا.
 * عند أي لحظة تتغير إشارة R من 0 إلى 1 يكون الخرج يساوي صفر

Very good

د) مؤقت التشغيل المخزن المتأخر


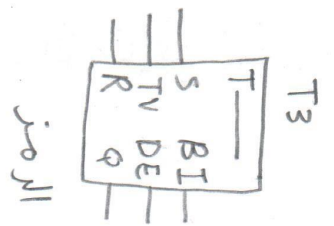


★ الشرح

* يتم الحصول على الخرج بعد إشارة الدخل بفترة زمنية محددة مسبقا.
 * يظل الخرج يساوي 1 حتى لو حدث تغيير في S.
 * عند أي لحظة تتغير إشارة R من 0 إلى 1 يكون الخرج يساوي صفر.

Very good

هـ) مؤقت التشغيل المتأخر

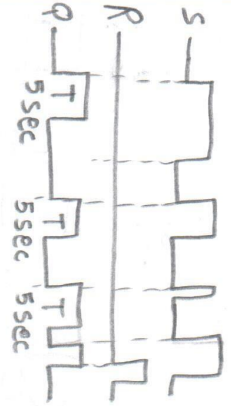
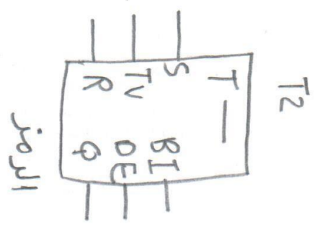


★ الشرح

* يتم الحصول على الخرج بعد إشارة الدخل بفترة زمنية محددة مسبقا.
 * يظل الخرج يساوي 1 طالما أن $R=0$ و $S=1$.
 * عند أي لحظة تتغير إشارة R من 0 إلى 1 يكون الخرج يساوي صفر.

Very good

و) المؤقت النبضي المهمد

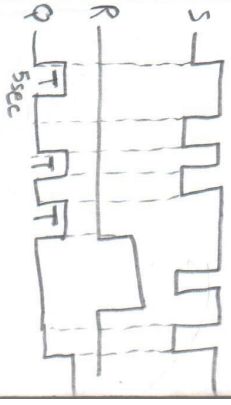
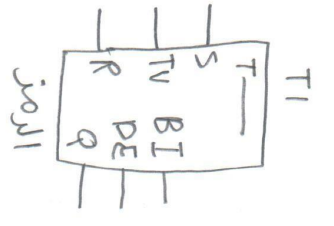


★ الشرح

* يبدأ المؤقت في العمل عند ما تكون $S=1$ و $R=0$ ويظل الخرج ثابت حتى تنتهي الفترة الزمنية المحددة مسبقا حتى لو انقطعت إشارة S.

Very good

ز) المؤقت النبطي



★ الشرح

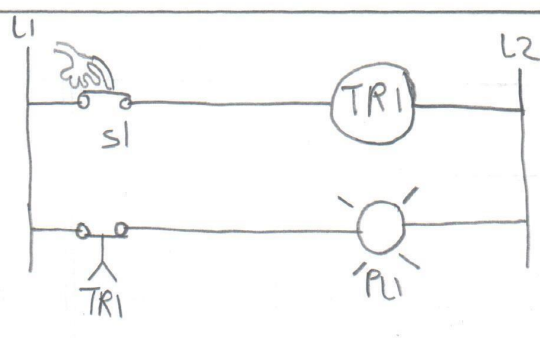
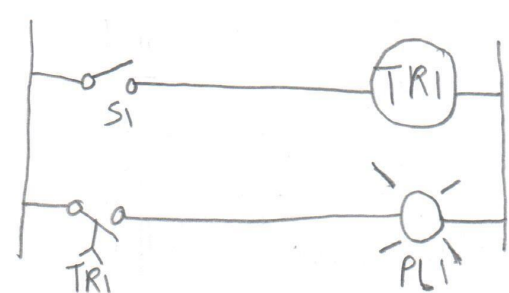
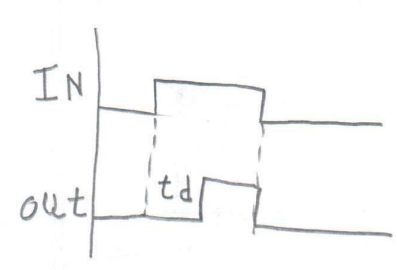
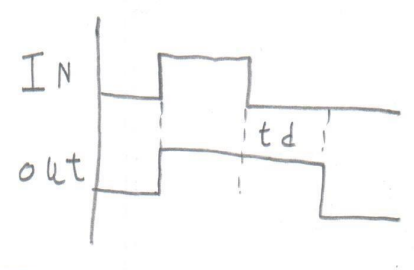
* يبدأ المؤقت في العمل عند ما تكون $S=1$ و $R=0$ ويظل الخرج ثابت حتى تنتهي الفترة الزمنية المحددة مسبقا بشرط أن تكون $S=1$ و $R=0$.

Very good

منع

* أنواع المؤقتات الزمنية

أولاً حسب زمن التأخير وينقسم إلى نوعين -

من حيث	مؤقت يؤخر في بداية التوصيل $on\ delay$	مؤقت يؤخر في نهاية التوصيل $off\ delay$
التعريف	* وهو مؤقت يسمح بظهور الخرج بعد تطبيق الدخل بزمن تأخير مقداره t_d .	* وهو مؤقت يسمح بظهور الخرج بعد إنتهاء الدخل بزمن تأخير مقداره t_d .
طريقة التشغيل		
شكل النبضات		

ثانياً حسب الأساس الزمني وينقسم إلى نوعين

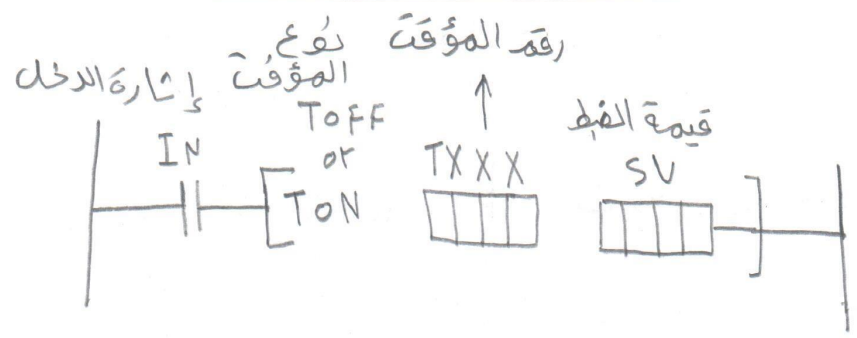
- 1) مؤقت الأساس الزمني $100ms$ وعدد هم في الذاكره $32\ time$ يبدأ من T_{000} إلى T_{031} .
- 2) مؤقت الأساس الزمني $10ms$ وعدد هم في الذاكره $16\ time$ يبدأ من T_{032} إلى T_{047} .

Very good

م/ محمد عبد البديع إسماعيل

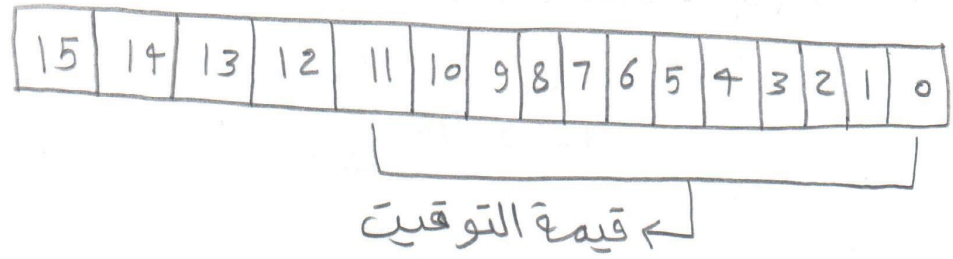
01284007603

***الموجه العامه لتعليمات المؤقت الزمني**



off delay	on delay

*** قيمة التوقيت**



* يتم استخدام من البت ٥ إلى البت ١١ أي 12bit من كلمة الذاكرة لحفظ قيمة التوقيت في شكل ثمنه ثنائي.

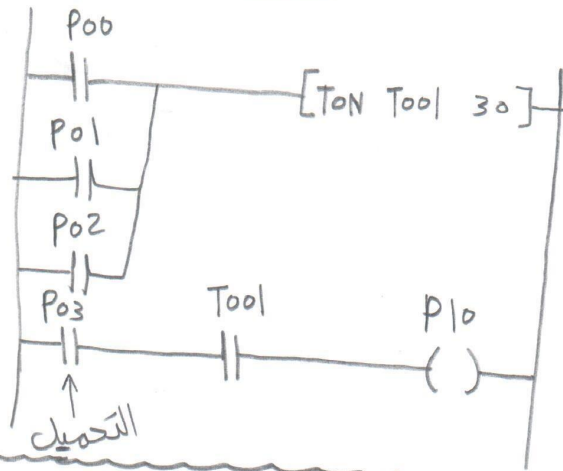
Very good

مسائل على المؤقتات

مثال ١ باستخدام جهاز PLC دائرة إنذار لمخزن له ثلاث أبواب بحيث يعطى إنذار بعد خمس دقائق من ترك أي باب مفتوح مالم يكون هناك تحميل.

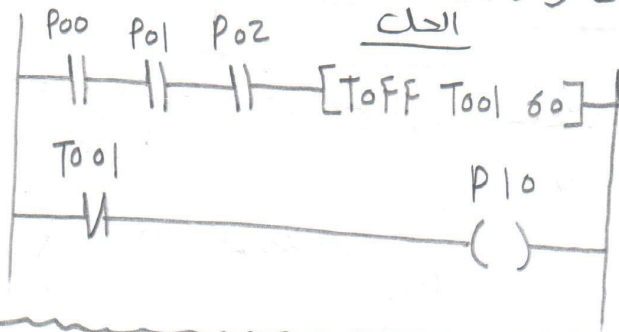
الحل

$SV = 6 * 5 = 30$
 ثابت



مثال ٢ باستخدام جهاز PLC دائرة تحكم في إطفاء الانارة لمخزن له ثلاثة أبواب بحيث تطفى الانوار بعد (١٥) دقائق من غلق جميع الأبواب؟

$SV = 6 * 10 = 60$
 ثابت

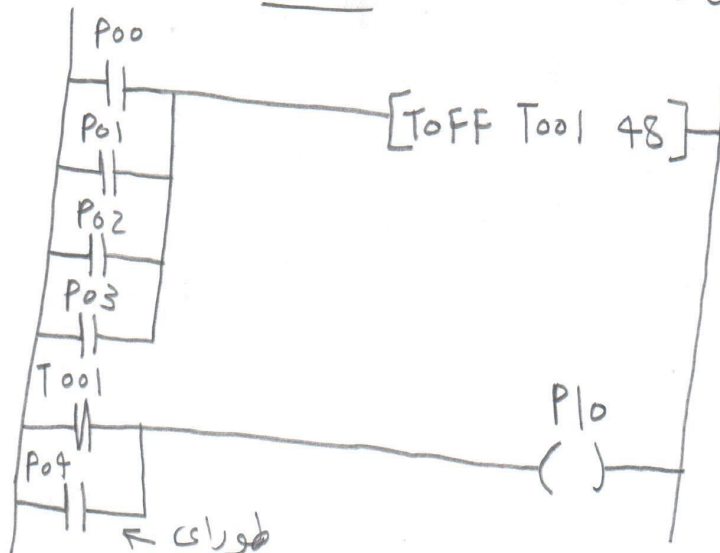


مثال ٣ باستخدام جهاز PLC دائرة تحكم في إضاءة سلم لمبنى من ٤ أدوار بحيث تطفى الأنوار بعد (٨) دقائق من التشغيل في أي دور مع استمرار تشغيل الإضاءة في حالة الطوارئ؟

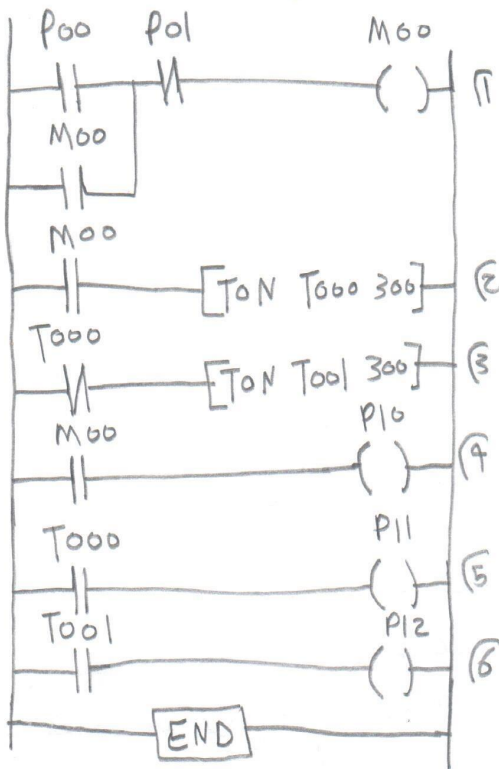
الحل

$SV = 6 * 8 = 48$
 ثابت

Very good



مثال ٤ باستخدام جهاز PLC مطوب التحكم في تشغيل متتابع لثلاث محركات على أن يكون الفاصل الزمني بين تشغيل المحرك والذي يليه 30sec مع استخدام مفتاح ON/OFF للتشغيل والايقاف ؟ اكتب برنامج LAD



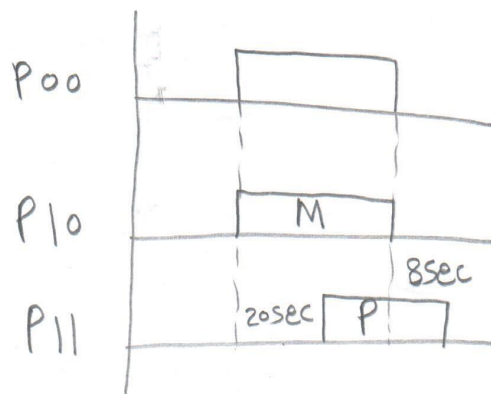
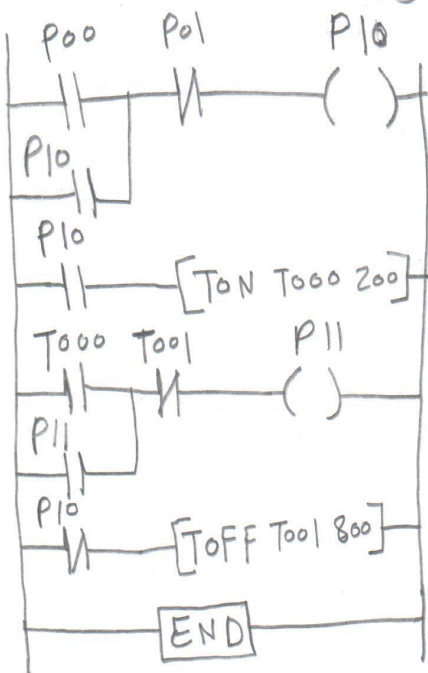
★ الاستنتاج

- ١ مفتاح start/stop
- ٢ المؤقت يشتغل بعد 30sec من تشغيل M00
- ٣ عندما يقبل المؤقت T000 يشتغل المؤقت T001 بعد 30sec

مثال ٥ ورشه صغيره بها محرك كهربى M ومفخه P الطوب نظام تحكم

باستخدام جهاز PLC لعمل الاتى:-
 ١ عند الضغط على مفتاح start يبدأ M فى العمل فوراً

- ٢ بعد 20sec يتم تشغيل P
 - ٣ يتم ايقاف M من مفتاح الايقاف stop
 - ٤ بعد 8sec يتم ايقاف P
- * اكتب LAD مع رسم الخط الزمني



Very good

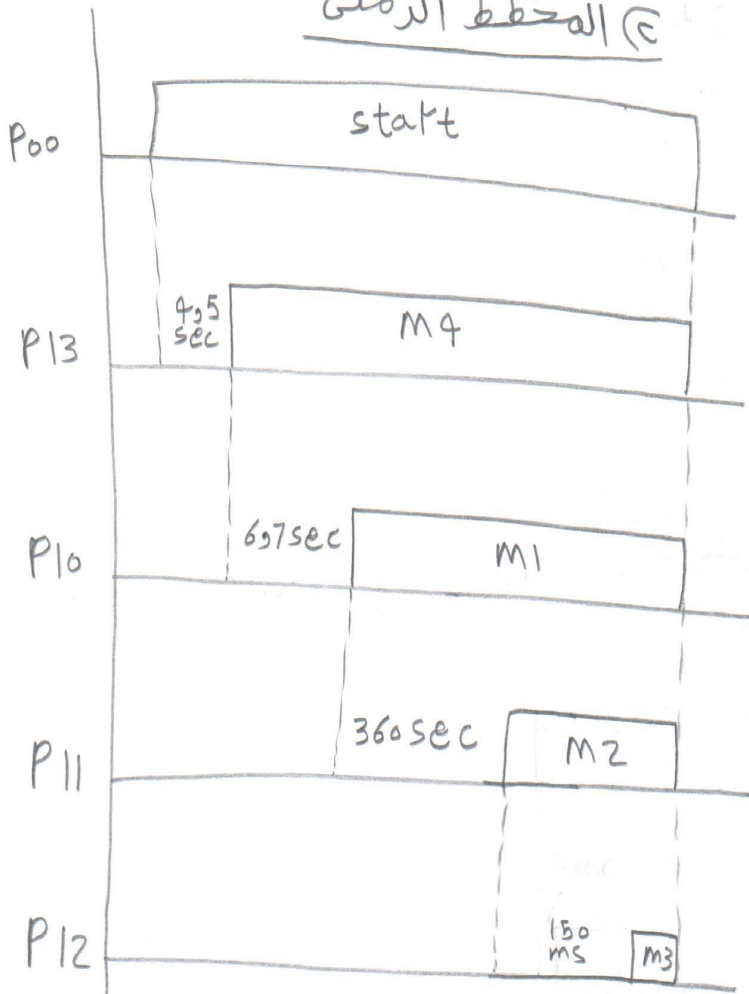
مثال 7 وحده متاعيه بها أربعة محركات تعمل بتتابع زمني على النحو التالي:-

٤٤

- * المحرك M1 يعمل بعد 7sec و6 من لحظة تشغيل المحرك M4.
- * المحرك M4 يعمل بعد 5sec و4 من لحظة تشغيل الضاغط start.
- * المحرك M3 يعمل بعد 150msec من بداية تشغيل M2.
- * المحرك M2 يعمل بعد 6 دقائق من لحظة تشغيل M1.
- * عند الضغط على ضاغط الإيقاف stop تتوقف جميع المحركات عن العمل.
- * أكتب برنامج التحكم LAD مع رسم المخطط الزمني.

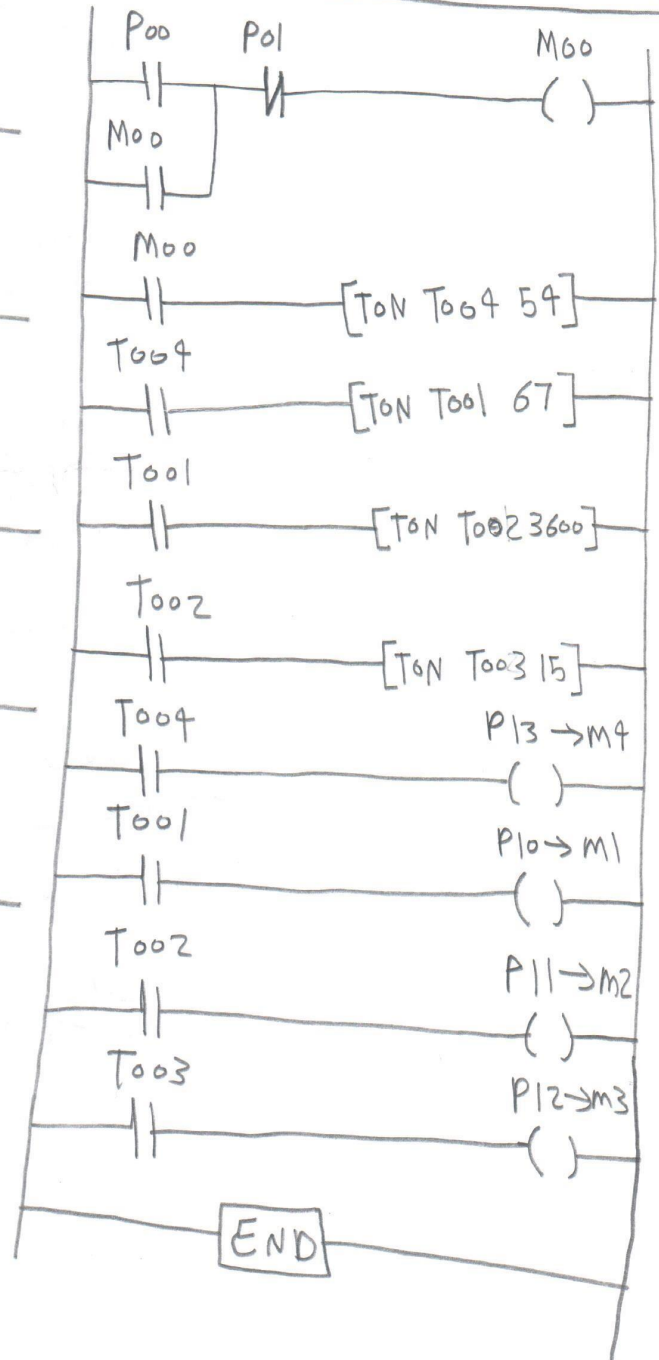
الحل

ج) المخطط الزمني



المخطط الزمني

د) المخطط السلم LAD

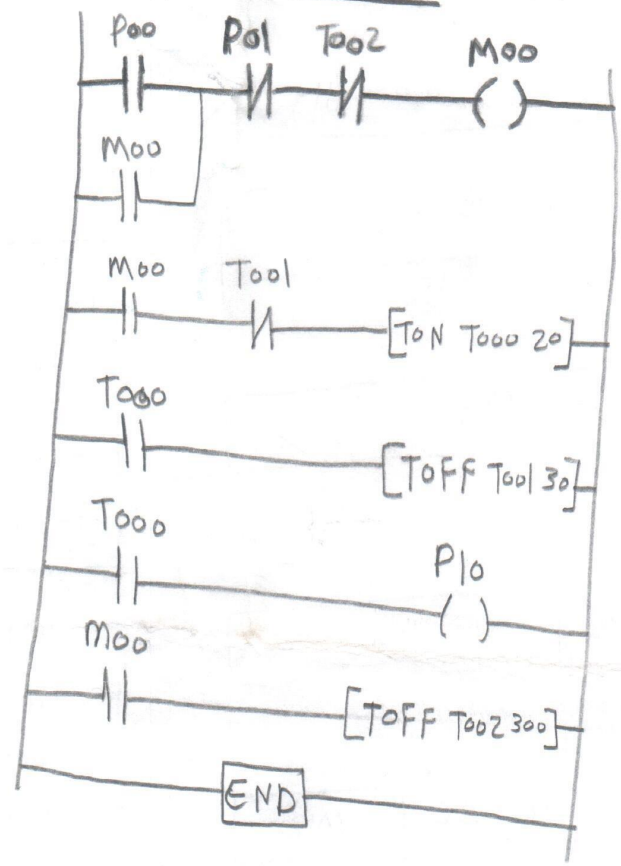


Very good

مثال ٧ صياح بيان يجب إضاءته طبقاً للشروط الآتية:-

- * عند الضغط على مفتاح التشغيل تومض المصباح H1 لمدة 5 sec.
- * و نظام الوميض 3 sec إضاءة و 2 sec إطفاء.
- * بعد 3 sec يتوقف العمل.
- * اكتب برنامج التحكم LAD.

الحل

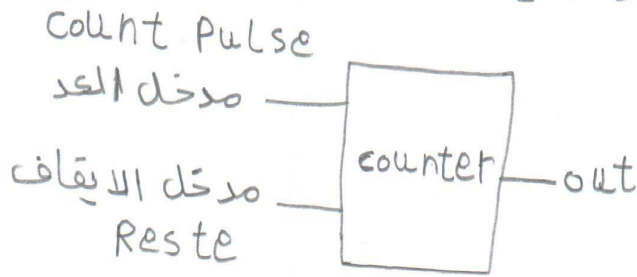


- * T000 ← يستغل بعد 2sec من فصل T001
- * T001 ← يفصل بعد 3sec من تشغيل T000
- * T002 ← يفصل بعد 300sec من الضغط على مفتاح التشغيل.

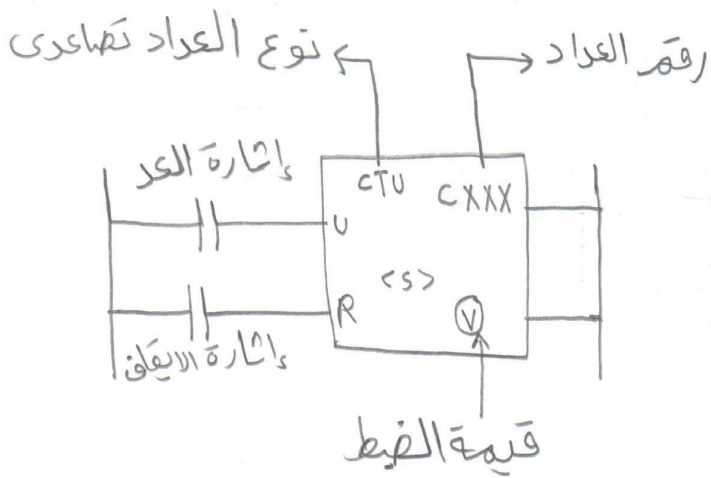
Very good

★ العدادات

* العدادات المستخدمة في أجهزة التحكم PLC تؤدي نفس الوظيفة التي تؤديها العدادات الطبيعية.
 * والوظيفة الأساسية للعداد هي مقارنة قيمه مخزنه (قيمة الضبط) بقيمه الدخل الحالية لتنفيذ موهه معنيه.
 * وللعداد دخلات أحدهما يسمى مدخل العد والاخر يسمى مدخل الأيقاف وله خرج.

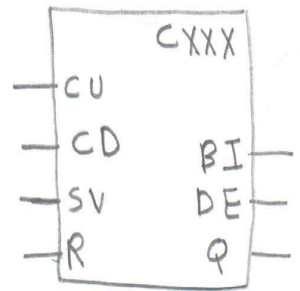


★ الصورة العامة للعداد



Very good

★ معاملات العداد



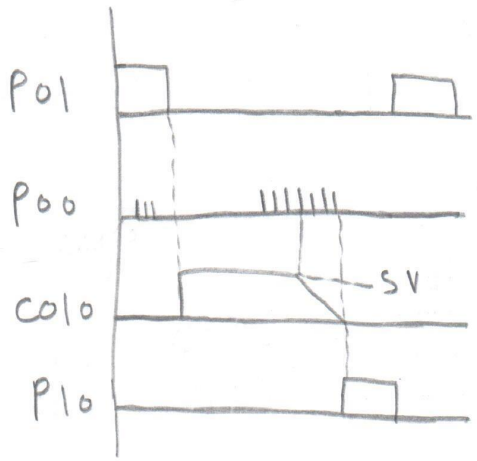
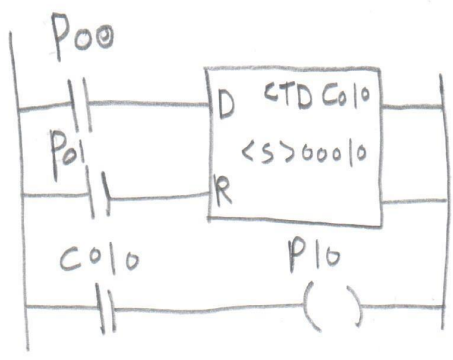
- * CU ← طرف العداد التصاعدي.
- * CD ← طرف العداد التنازلي.
- * CV ← القيمة المحدده.
- * R ← إيقاف العداد.
- * Q ← الخرج.
- * DE ← قيمة العد بالعشري.
- * BI ← قيمة العد بالثنائي.

★ أنواع العدادات

- ١ العداد التصاعدي CTU.
- ٢ العداد التنازلي CTD.
- ٣ العداد التصاعدي/ التنازلي CTUD.

العداد التنازلي CTD

* يستخدم العداد التنازلي في مداخل
انتظار المركبات وفي الجراجات الكبيرة.



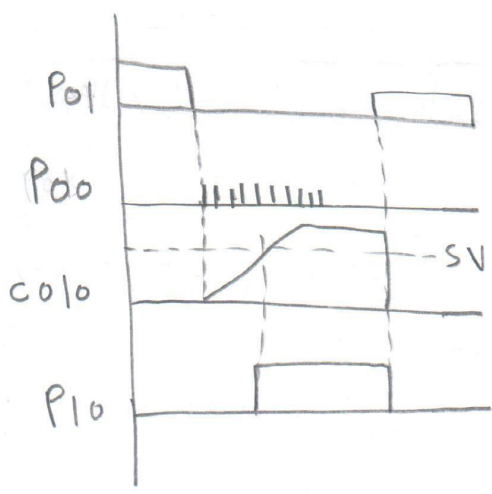
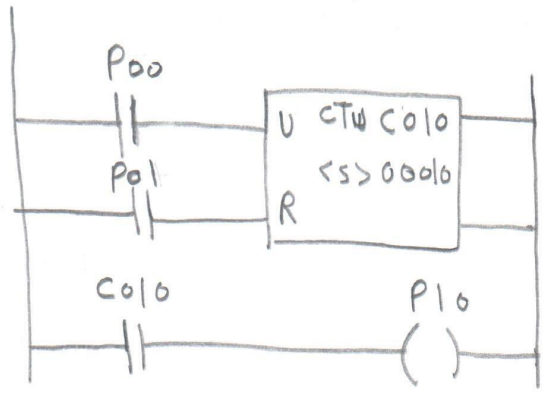
الشرح

* القيمة الجارية للعداد = قيمة الضبط.
* عندما يتغير الطرف P00 من 0FF إلى 0N يبدأ العداد بالعد تنازلي والنقصان بمقدار واحد.
* عندما تصل قيمة العد إلى صفر في هذه الحالة يتغير الخرج من 1 إلى 0.
* عندما يتغير الطرف P01 من 0FF إلى 0N يتحول الخرج إلى صفر.

Very good

العداد التصاعدي CTU

* يستخدم العداد التصاعدي في المصانع في عد المنتجات.

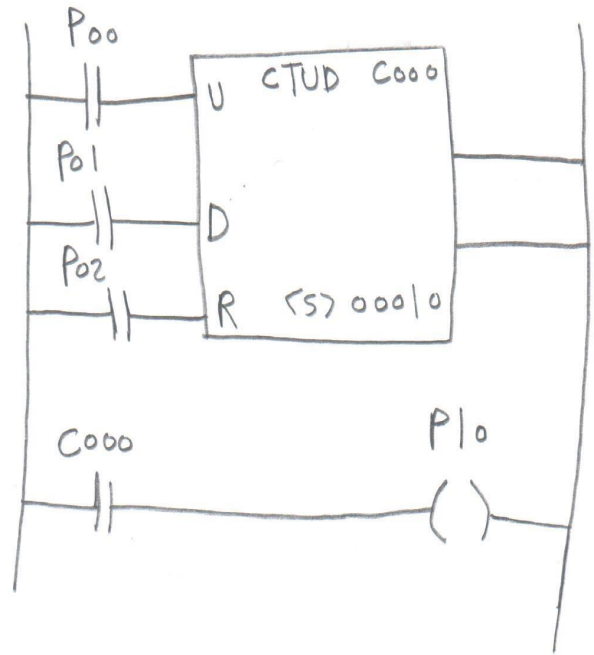
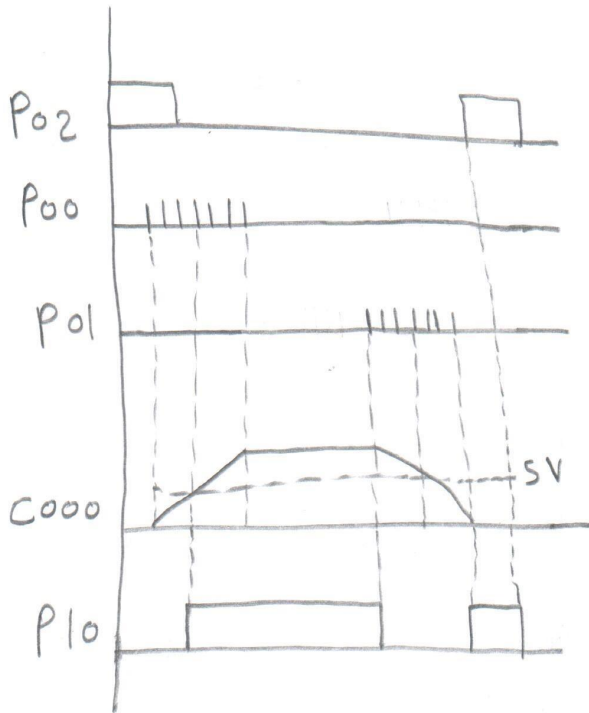


الشرح

* القيمة الجارية للعداد = 0.
* عندما يتغير الطرف P00 من 0FF إلى 0N يبدأ العداد بالعد تصاعدي والزيادة بمقدار واحد.
* عندما تصل قيمة العد إلى قيمة الضبط في هذه الحالة يتغير الخرج من 0 إلى 1.
* عندما يتغير الطرف P01 من 0FF إلى 0N يتحول الخرج إلى صفر.

Very good

٣) العداد التصاعدي / التنازلي CTUD



* الشرح

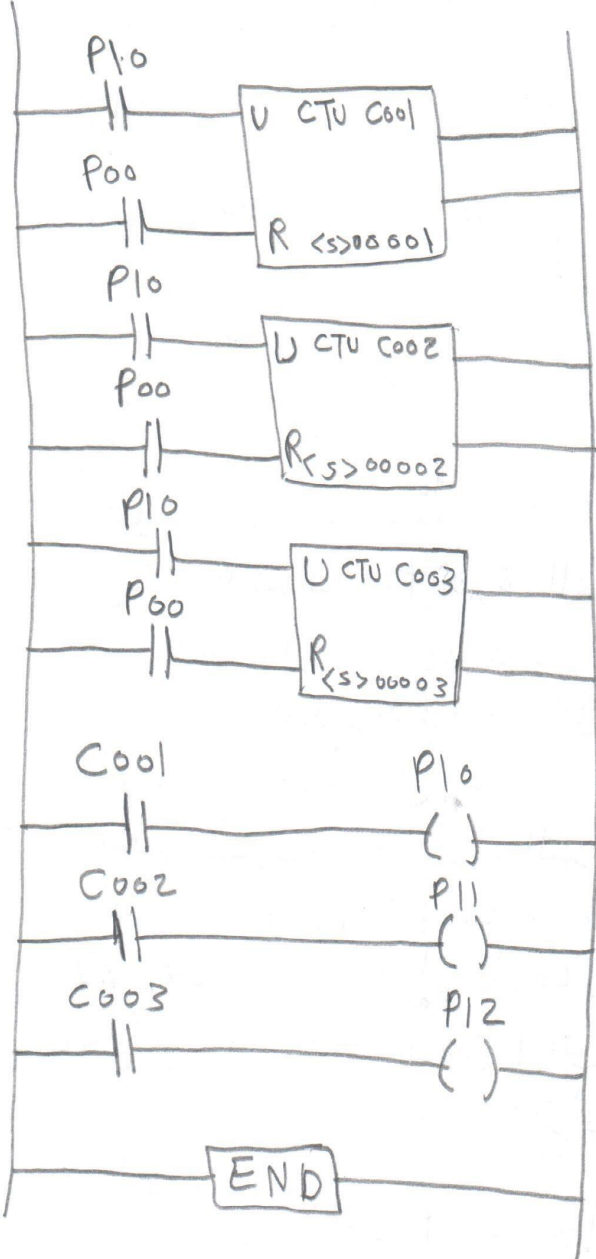
- * القيمة الجارية للعداد صفر.
- * عندما يتغير الطرف P00 (طرف العداد التصاعدي) من 0FF إلى 0N يبدأ العداد بالعد تصاعدي والزيادة بمقدار واحد.
- * عندما تصل قيمة العد (التصاعدي) إلى قيمة الضبط في هذه الحالة يتغير الخرج P10 من 0 إلى 1.
- * عندما يتغير الطرف P01 (طرف العداد التنازلي) من 0FF إلى 0N يبدأ العداد بالعد تنازلي والتقصان بمقدار واحد.
- * عندما تصل قيمة العداد التنازلي إلى قيمة أقل من قيمة الضبط في هذه الحالة يتغير الخرج P10 من 1 إلى 0.
- * عندما تصل قيمة العداد التنازلي إلى صفر في هذه الحالة يتغير الخرج P10 من 0 إلى 1.
- * عندما يتغير الطرف P02 (طرف التصغير) من 0FF إلى 0N يتحول الخرج P10 إلى صفر.

Very good

*** مسائل على العادات**

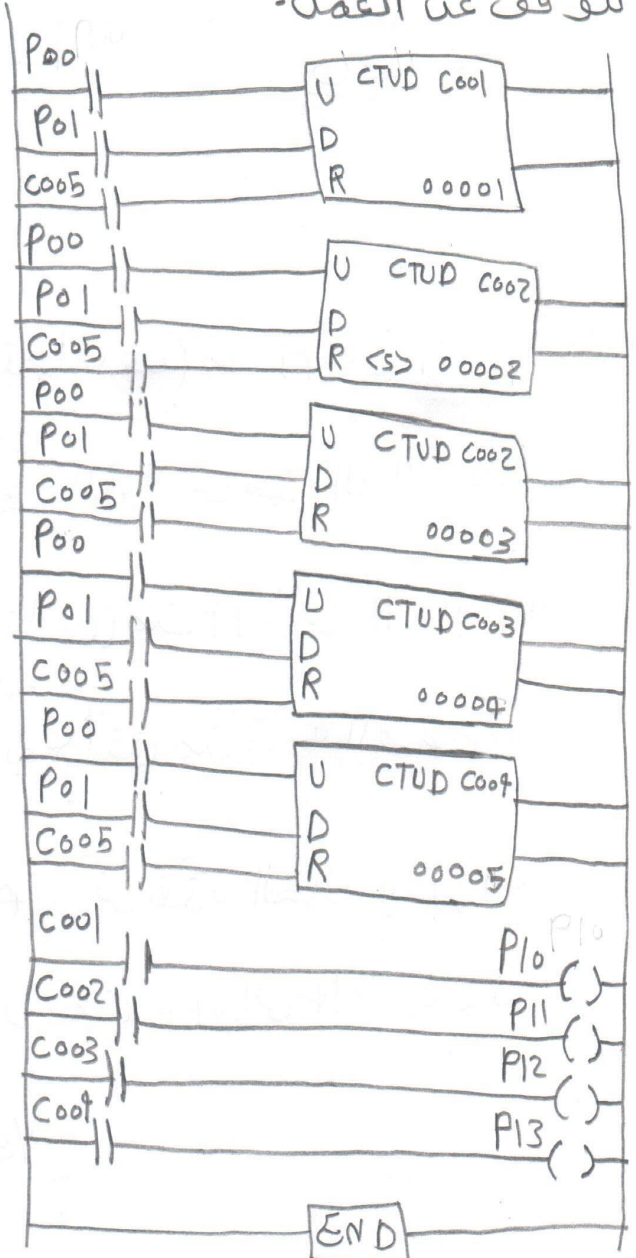
مثال ٢ يتم تشغيل ثلاثة سيور بتكرار الضغط على مفتاح توصيل الدخل P1 لتدور على التتابع سير 1 ثم سير 2 ثم سير 3 وبالضغط على مفتاح الفصل P0 يتم إيقاف السيور أو كتب برنامج LAD.

الحل



Very good

مثال ١ أكتب برنامج LAD إلى أربعة محركات يتم التحكم في تشغيلهم بواسطة PLC بالشروط الآتية:-
 * عند الضغط على P1 يزداد عدد المحركات العاملة بمقدار 1.
 * عند الضغط على P2 يقل عدد المحركات العاملة بمقدار 1.
 * إذا كانت كل المحركات في حالة ON وتم الضغط على P1 فان جميع المحركات تتوقف عن العمل.



* تطبيقات عمليه

* الباب الرابع

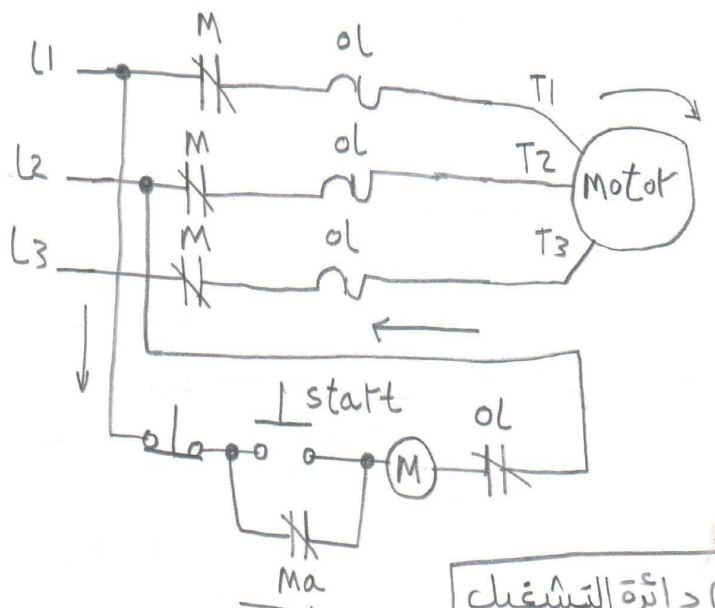
* المكونات الاساسيه لابلسط دائرة تشغيل

- * ابلسط دائرة تشغيل يجب ان تحتوى على :-
- ١) مفتاح ضاغط لحظى للتشغيل START ونوعه NO.
- ٢) مفتاح ضاغط لحظى للايقاف STOP ونوعه NC
- ٣) متهم حرارى over Load ونوعه NC.
- ٤) متهم ريلاي مساعد Ma ونوعه NO.

١٢) دائرة الايقاف

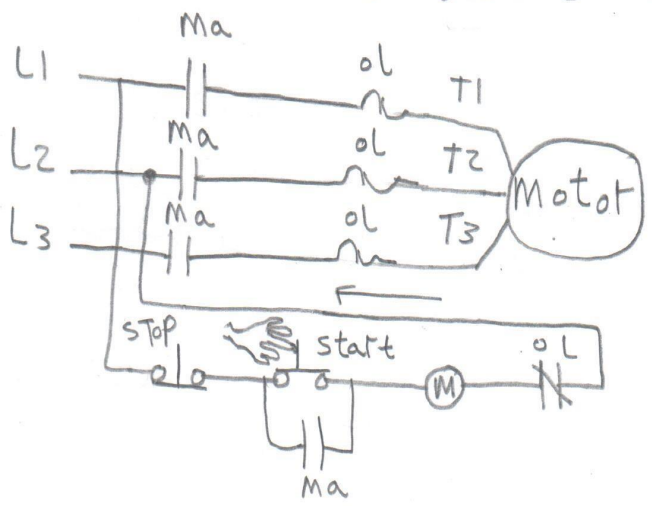
* يتم إيقاف المحرك بالضغط على مفتاح الأيقاف STOP أو حدوث حمل زائد OL.

محمد عبد العزيز



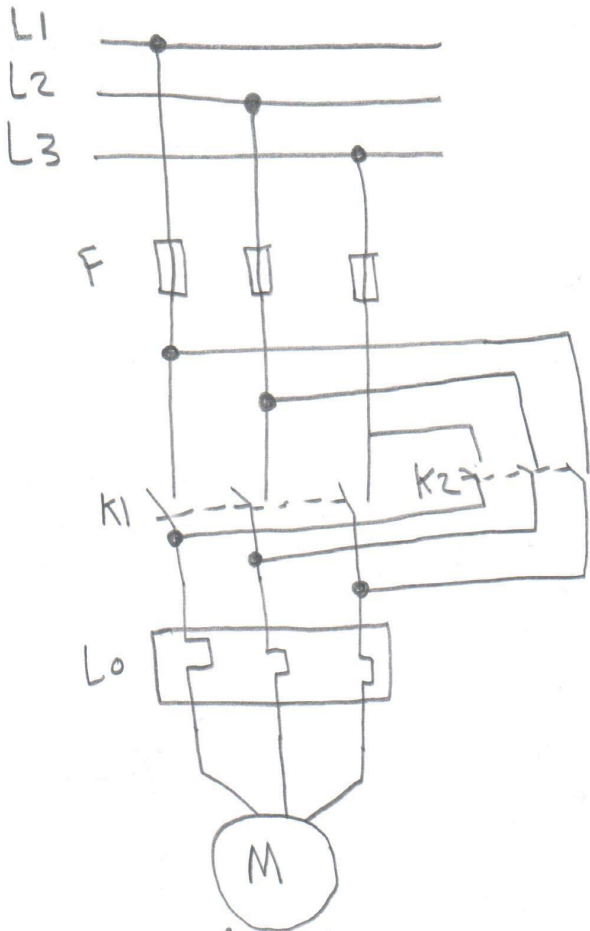
١٣) دائرة التشغيل

* يتم تشغيل المحرك بالضغط على مفتاح التشغيل START.

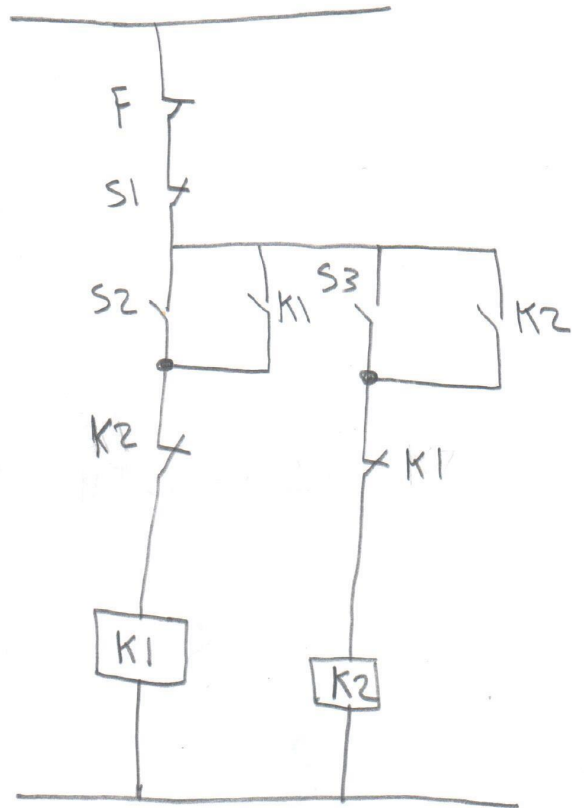


Very good

عكس حركة محرك سريع بدون توقف



الدائرة الرئيسية

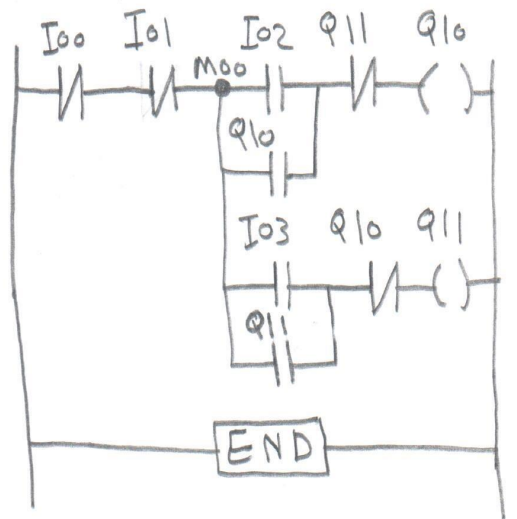


دائرة التحكم

قائمة التعليمات STL

- | | |
|-------------------|-------------------|
| 000 AN I00 | 09 A M00 |
| 001 AN I01 | 010 A (|
| 002 = M00 | 011 0 I03 |
| 003 A M00 | 012 0 Q11 |
| 004 A (|) |
| 005 0 I02 | 013 AN Q10 |
| 006 0 Q10 | 014 = Q11 |
|) | تشغيل المحرك يسار |
| 007 AN Q11 | |
| 008 = Q10 | |
| تشغيل المحرك يمين | |

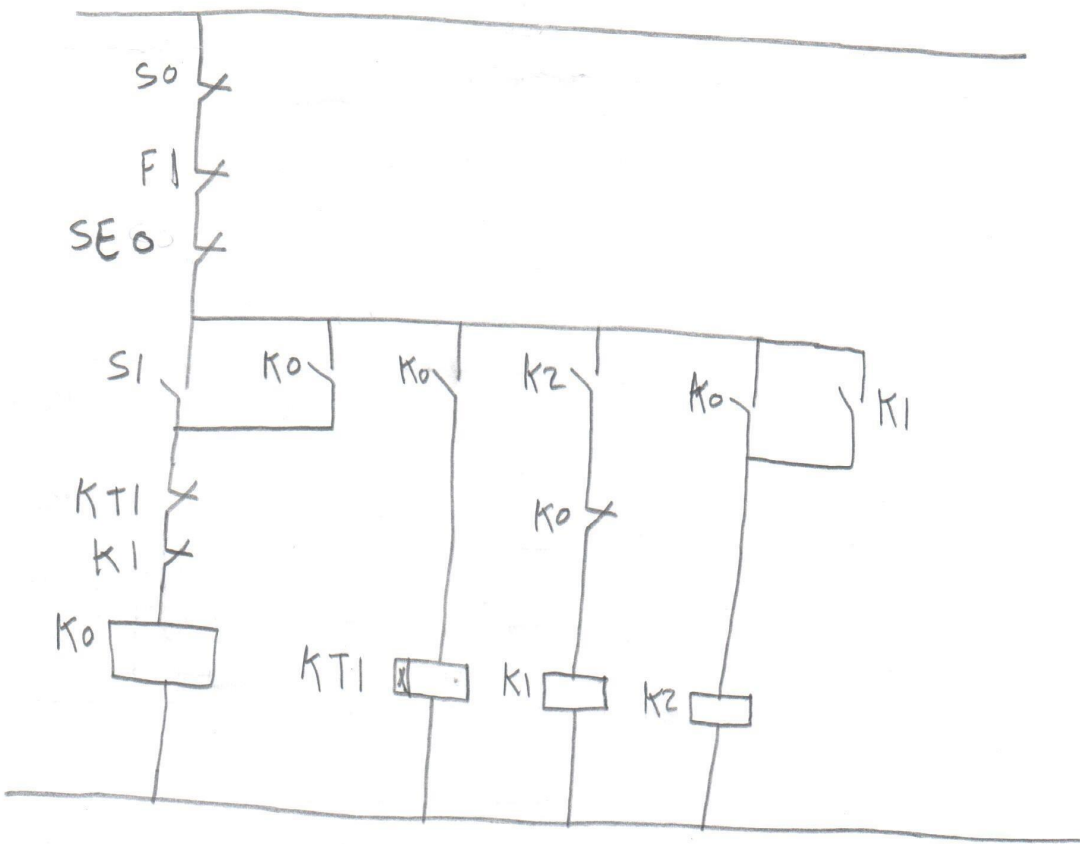
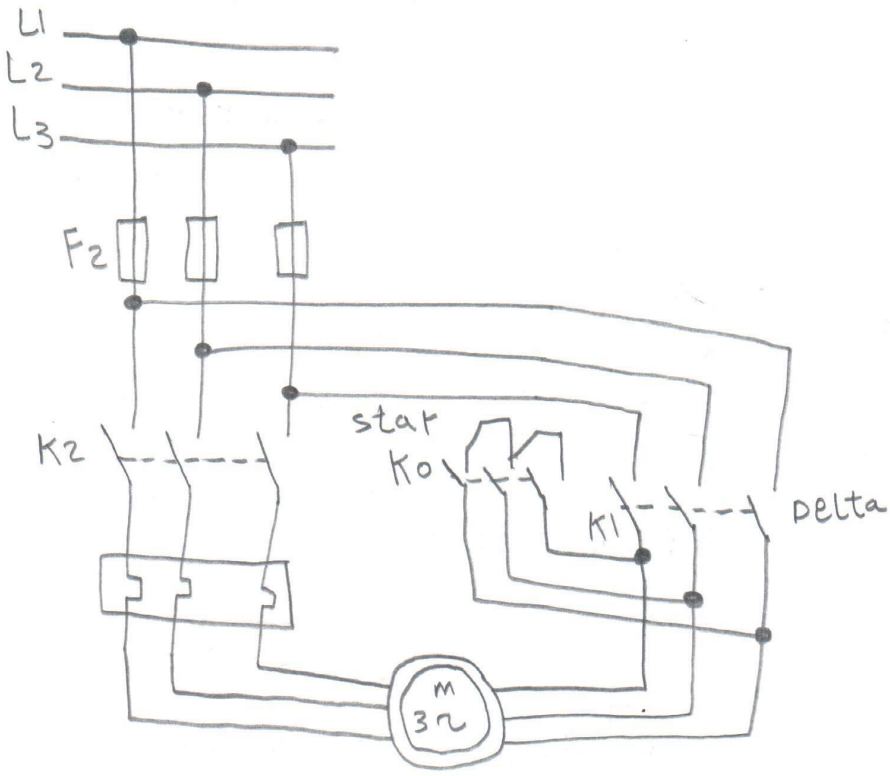
الخطة السلمية LAD



Very good

OSD

تشغيل محرك بتوصيلة نجمة دلتا



Very good

قائمة التعليمات - STL

الخطاب لل LAD -

AN P00
 AN P01
 AN P02
 = M0

O P03
 O P10
 AN P04
 AN P11
 A M0
 = P10

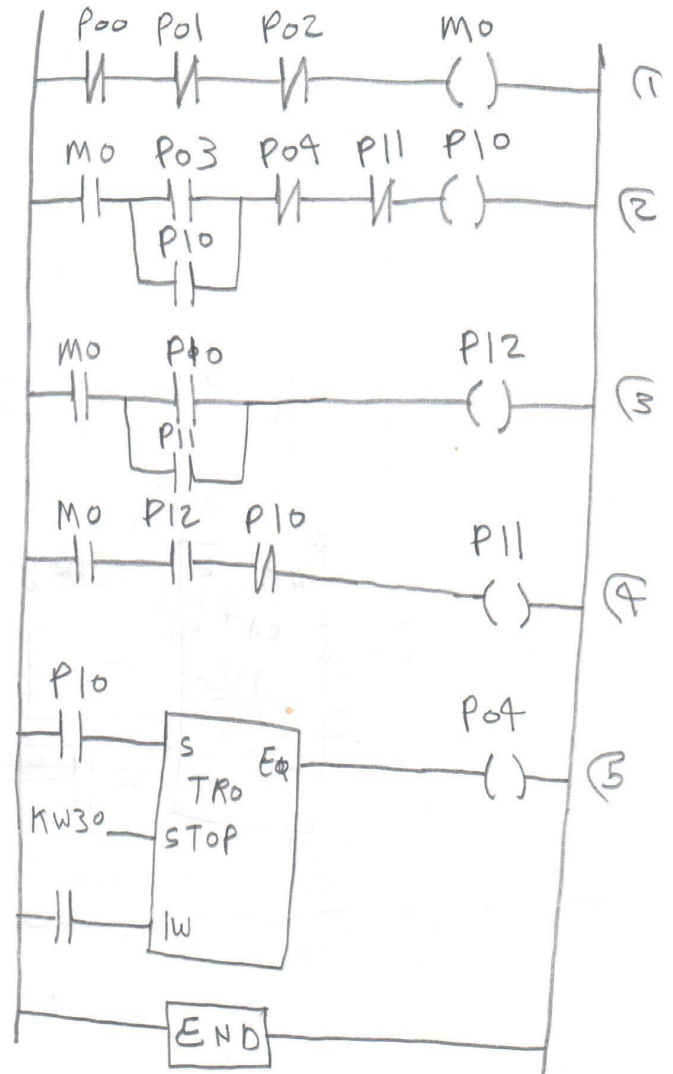
O P10
 O P11
 A M0
 = P12

A P12
 AN P10
 A M0
 = P11

TR0
 S P10
 stop Y
 Tw Kw30
 Eq P04

التحويل من نتيجة
 إلى دلنا

Very good



الرمز الكهربى	رمز PLC
S0	P00
F1	P01
S0E	P02
S1	P03
KT1	P04
K0	P10
K1	P11
K2	P12

*** فحص البرنامج**

* وظيفة فحص البرنامج :- هو التأكد من أن البرنامج يعمل بشكل صحيح.

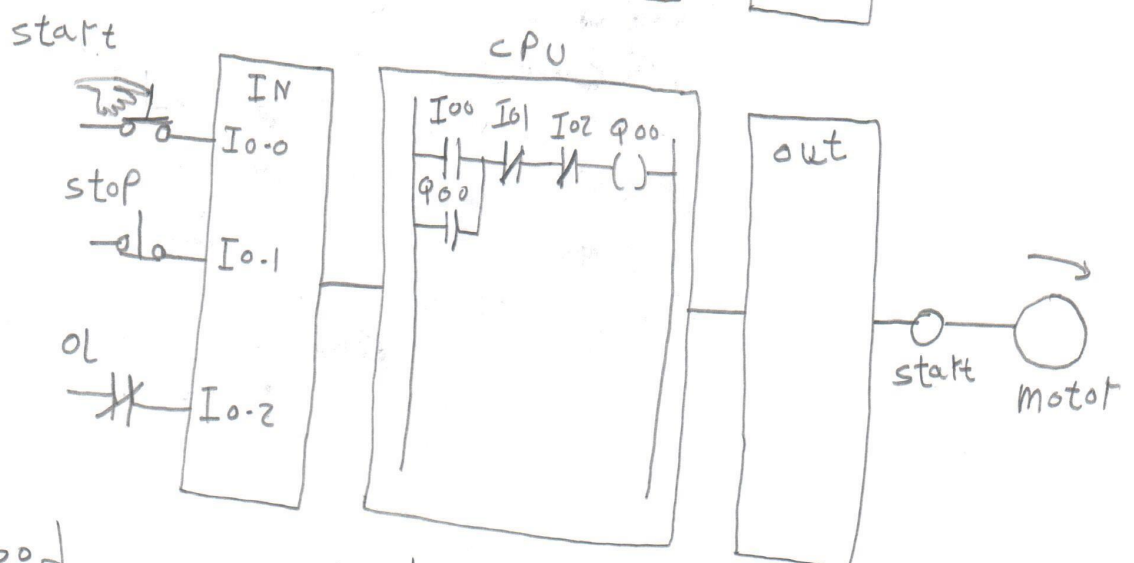
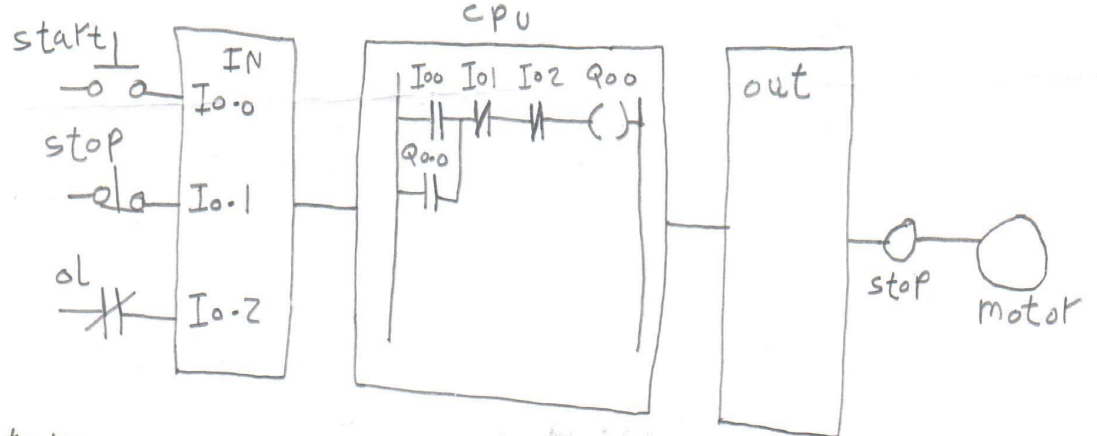
*** طرق فحص البرنامج**

١ عن طريق المحاكه

- * يتم عمل محاكاة للمداخل والمخارج وهما عياره عن مجموعه من المفاتيح واللمبات.
- * وتستخدم المفاتيح لأعطاء إشارات إلى جهاز PLC ومن ثم روية إستجابة الجهاز على اللمبات وذلك للتأكد من طريقة عمل البرنامج.
- * أبسط مثال على المحاكه توصيل التجارب كما به عمل.

٢ عن طريق برنامج

- * يتم إستخدام وظيفة تسمى `Debug` وهذه الوظيفة تسمح بعرض حالة المداخل والمخارج ومحتويات مواقع الذاكرة المستخدمة وحتى محتويات المسجلات داخل وحدة المعالجة المركزيه `cpu` ومن خلالها يمكن اكتشاف أى عطل أو خطأ في تصميم البرنامج.
- * حيث يتم عرض البرنامج بطريقة العرض المطوية ثم يقوم المستخدم عن طريق المحاكه بتغيير حالة المداخل وملاحظة تأثير ذلك على البرنامج كما هو موضح بالشكل.



very good

الشكل يوضح وظيفة `debug`

وزارة التعليم العالي

امتحان دبلوم المعاهد الفنية الصناعية والأثار

الفصل الدراسي الثاني للعام الدراسي 2014/2015

المادة: المتحكمات المبرمجة PLC

الزمن : ساعتان

الدرجة : 90 درجة

دور : ٢٠١٥

تخصص: أجهزة الكترونية - شبكات قوى كهربية - الات كهربية

نظام : حديث

أجب على ثلاثة أسئلة فقط من الآتي - الدرجات موزعة بالتساويالامتحان في ورقتينالسؤال الأول:

- 1- أذكر وظيفة المتحكمات المبرمجة وماهى مكوناتها مع الرسم ؟ ومع ذكر مميزاتها؟
- 2- أشرح وظيفة الأزاحة - وما هى أنواعها - ثم أشرح أحدها مع الرسم ؟
- 3- ما المقصود بمصطلح Memory Map ؟ مع ذكر أهم عناصره والمواقع الذاكرية لكل عنصر واستخدامة؟

السؤال الثانى :

- 1- أرسم فقط ثلاثة رموز من التالى بكل من CSF و المخطط السلمى و قائمة التعليمات:
NOR Gate- AND Gate - OR Gate - NOT Gate - NAND Gate .
- 2- عرف وظيفه فحص البرنامج وما هى طرق فحص البرنامج مع شرح إحدى طرق الفحص.

- 3- يتم تشغيل ثلاثة سيور بثلاثة محركات بتكرار الضغط على مفتاح توصيل الدخلى P1 على التتابع سير 1 ثم سير 2 ثم سير 3 وبالضغط على مفتاح الفصل P0 يتم إيقاف السيور . أكتب برنامج التحكم LAD

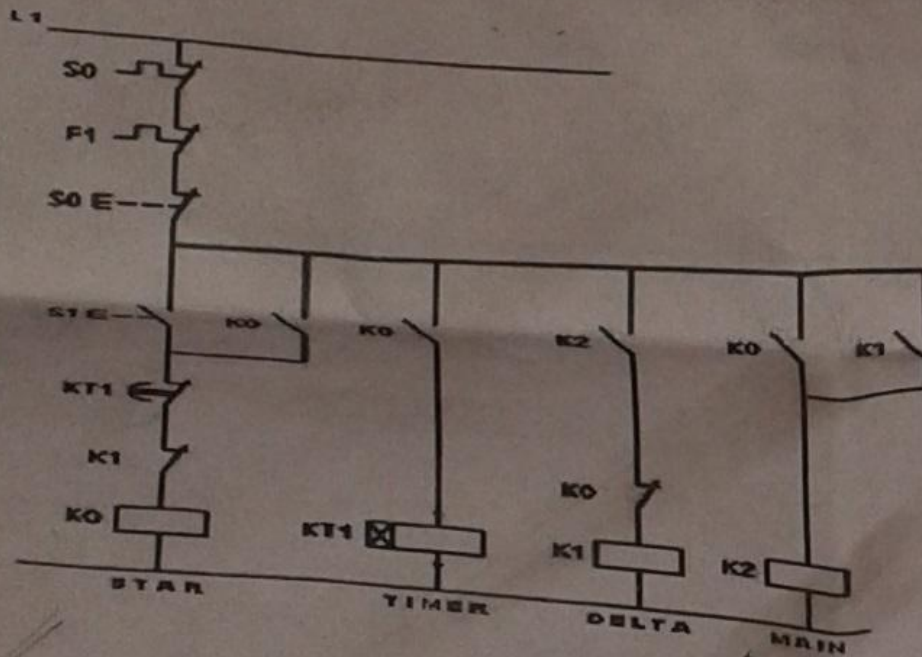
السؤال الثالث:

- 1- ورشة صغيرة بها محرك كهربى M ومضخة P والمطلوب تصميم نظام تحكم PLC لعمل الآتى : عند الضغط على مفتاح Start يبدأ M فى العمل فوراً ثم بعد 20 ثانية يتم تشغيل P بعد إيقاف المحرك من مفتاح Stop يتم إيقاف المضخة بعد 8 ثوانى . أكتب برنامج LAD مع رسم المخطط الزمنى.

- 2- أشرح وظيفة المؤقتات - وما هي أنواعها - وما هي أعدادها وقيمتها الزمنية ثم أشرح أحداها مع الرسم. وما هي الصورة العامة لتعليمات المؤقت الزمني؟
- 3- وضح وظيفة اوامر المقارنة ثم ارسم الجدول الذي يوضح عمليات المقارنة. ثم اذكر مثال لعمليات المقارنة مع الرسم.

السؤال الرابع:

- 1- أذكر أنواع الذاكرة في أجهزة PLC مع الشرح.
- 2- ماهي وظيفة القفز وماهي اوامر القفز مع شرح إحدى هذه الاوامر مع الرسم.



- 3- الشكل التالي يوضح تشغيل محرك بتوصليه نجمة دلنا والمطلوب :

- أ- رسم المخطط السلمى لبرنامج التشغيل.
- ب- كتابه البرنامج بقائمه التعليمات.

الصفحة الثانية

انتهت الأسئلة